

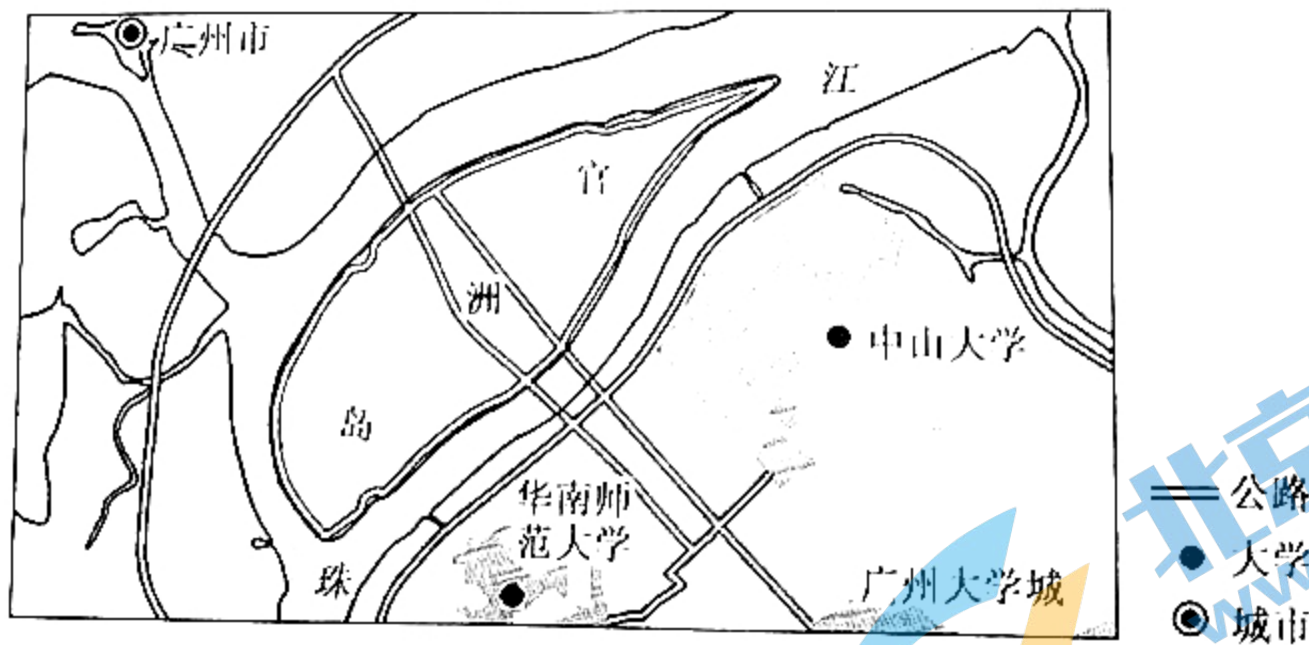
高三文科综合

考生注意：

1. 本试卷分选择题和非选择题两部分。满分 300 分，考试时间 150 分钟。
2. 答题前，考生务必用直径 0.5 毫米黑色墨水签字笔将密封线内项目填写清楚。
3. 考生作答时，请将答案答在答题卡上。选择题每小题选出答案后，用 2B 铅笔把答题卡上对应题目的答案标号涂黑；非选择题请用直径 0.5 毫米黑色墨水签字笔在答题卡上各题的答题区域内作答，超出答题区域书写的答案无效，在试题卷、草稿纸上作答无效。
4. 本卷命题范围：高考范围。

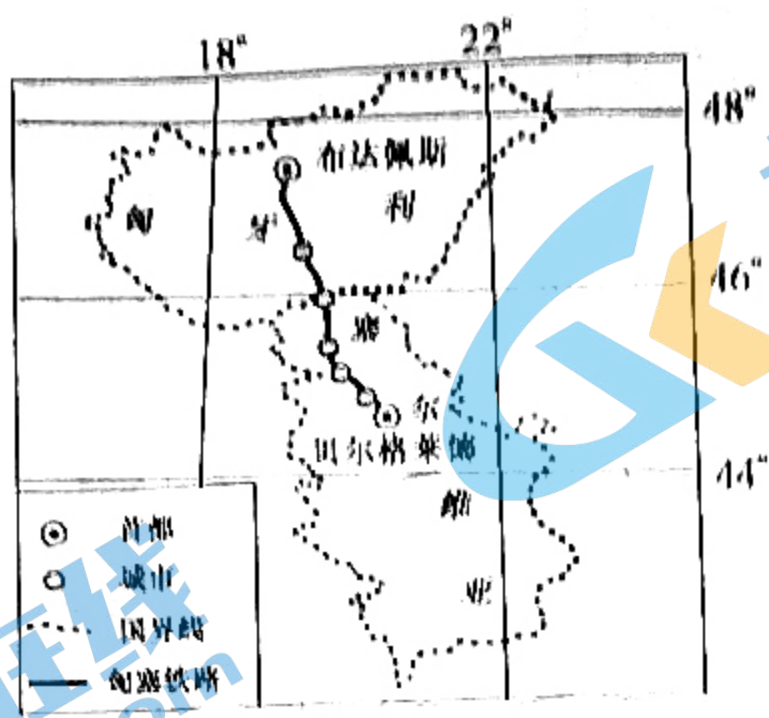
一、选择题：本题共 35 小题，每小题 4 分，共 140 分。在每小题给出的四个选项中，只有一项是符合题目要求的。

官洲岛是位于广东省广州市东南端的一个江心岛村，占地面积约 1.83 km^2 ，如下图所示。2000 年，官洲岛获准立项建设国际性的生物技术研究及生产基地，并获正式命名“广州国际生物岛”，2011 年“开岛”并迎来首批进驻签约企业。运营至今，“广州国际生物岛”已吸引了 500 多家生物医药企业进驻，成为广州生物医药产业的核心引擎。据此完成 1~3 题。



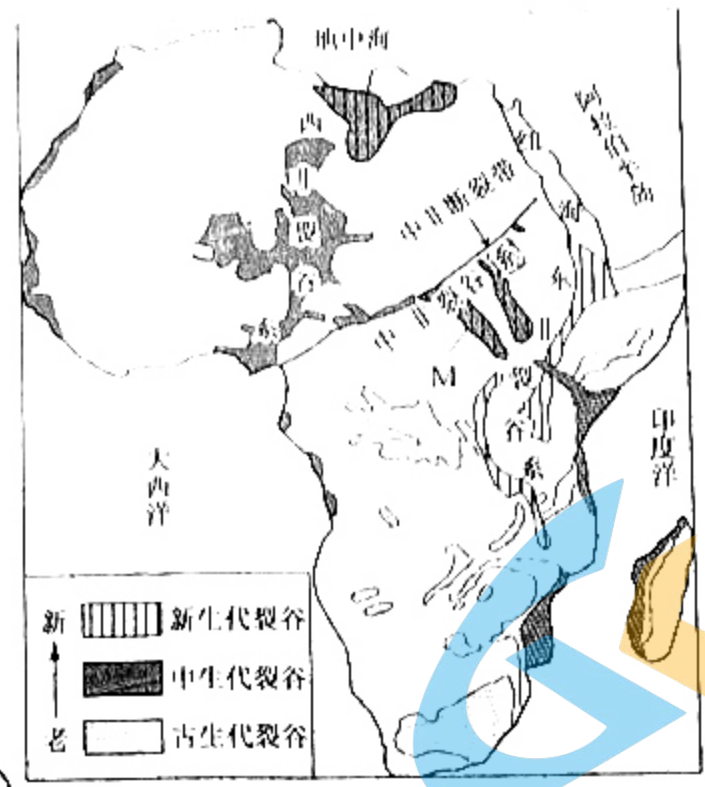
1. 500 多家生物医药企业进驻“广州国际生物岛”，主要看中的人文地理条件是
A. 商业氛围
B. 人居环境
C. 配套产业
D. 基础设施
2. 从江心岛村到成为广州生物医药产业的核心引擎，主要的影响因素是
A. 交通状况
B. 国家政策
C. 地理位置
D. 资源禀赋
3. 未来，“广州国际生物岛”的发展定位是
A. 美化环境，营造顶级商圈
B. 大力发展文化旅游产业
C. 填江造陆，打造宜居城市
D. 打造顶尖医药研发中心

匈塞铁路是中国—中东欧国家合作的旗舰项目，2021年11月22日，匈塞铁路塞尔维亚境内边境段正式开工。该铁路项目建成后，贝尔格莱德至布达佩斯的行车时间将缩短至2小时左右。下图示意匈塞铁路线路。据此完成4~5题。



4. 匈塞铁路项目的实施主要有利于我国
- A. 加速产业转移
 - B. 推广铁路技术
 - C. 缓解就业压力
 - D. 进口矿产资源
5. 匈塞铁路建成通车后，对匈塞两国的主要影响是
- A. 加剧沿线地区人口外流
 - B. 提高沿线城市等级
 - C. 助力打造交通物流枢纽
 - D. 实现产业结构跃升

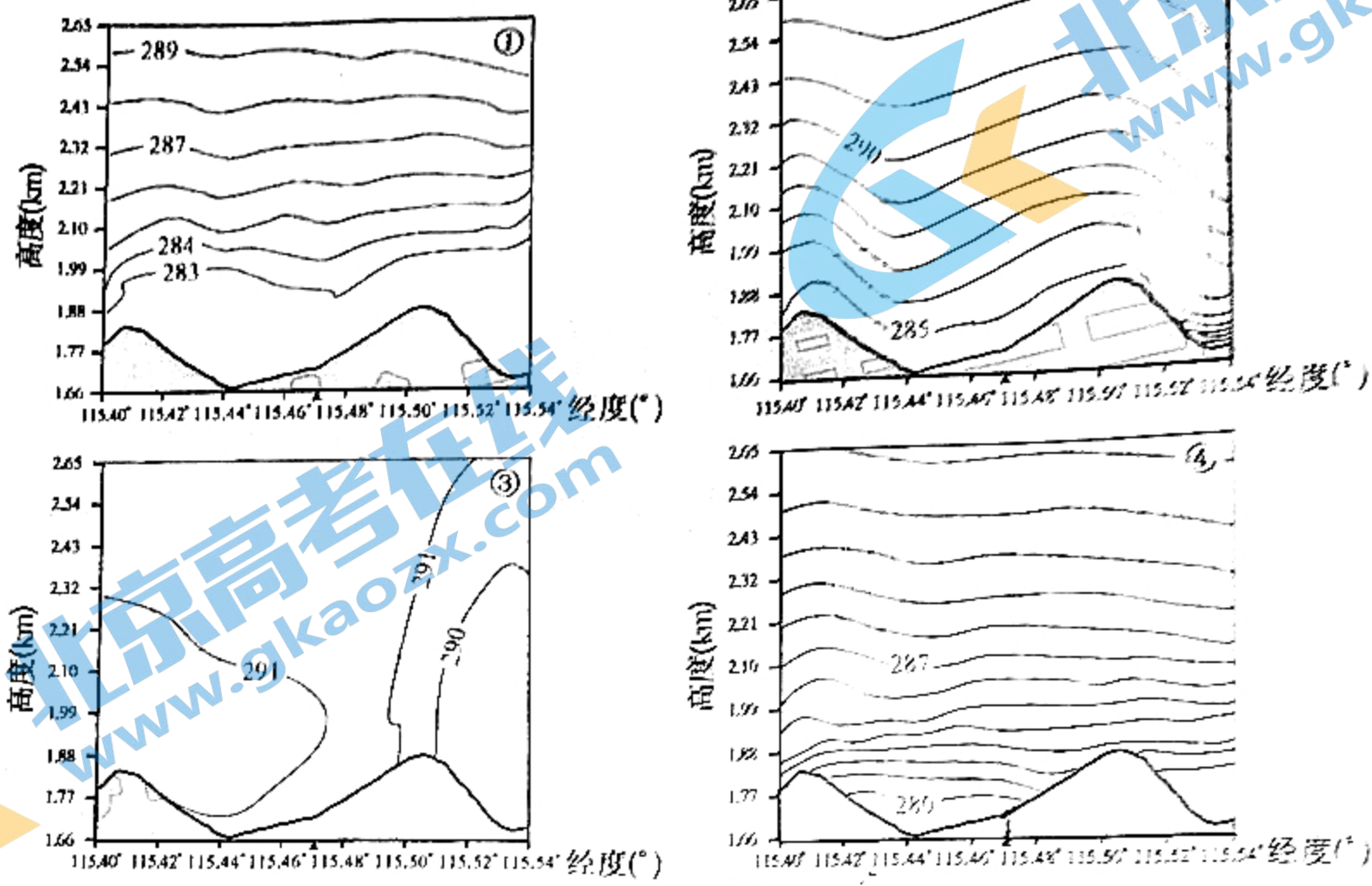
裂谷是伸展构造作用的产物，它使岩石圈减薄和破裂，地壳完全断裂，有时新生的洋壳会在其间产生，因此它代表了大陆裂解、洋盆产生的初期过程。下图示意非洲不同地质年代裂谷分布。据此完成6~8题。



6. 非洲不同地质年代裂谷的分布情况是
- A. 新生代裂谷集中于西部
 - B. 地质年代越老，裂谷分布越广泛
 - C. 古生代裂谷北部发育较多
 - D. 中部和西部中生代裂谷尤为发育
7. 非洲不同地质年代裂谷的形成原因是
- A. 位于板块消亡边界
 - B. 地势起伏较大
 - C. 位于板块生长边界
 - D. 地壳比较浅薄
8. 推测图中M处最可能会形成
- A. 盆地
 - B. 褶皱山
 - C. 冲积平原
 - D. 断块山

在晴朗、静风的夜晚，靠近地面的空气层会变冷，如果地面倾斜，冷空气受重力影响开始向地势较低方向移动，聚集在山谷或盆地底部，这种冷空气聚集被称为冷湖。某月23日18:00至24日15:00，我国40°N某地区发生了一次完整的冷湖现象（一次完整的冷湖现象会经历四种局地环流系统：夜间转换型→

夜间环流型→晨间转换型→白天环流型), 下图示意该地区 23 日 18:00 至 24 日 15:00 每隔 7 小时东西方向上所观测的气温场分布(图中深色区域为地表地势; 等值线为等温线, 单位: K, K 为热力学温度单位, 273.15 K 相当于摄氏温度 0°C; 三角为观测站点所在位置)。据此完成 9~11 题。



9. 在晴朗、静风的夜晚, 靠近地面的空气层会(变冷), 主要是因为
- A. 无大气保温作用
 B. 辐射冷却明显
 C. 大气削弱作用强
 D. 热力差异显著
10. 表示此次冷湖现象中“夜间环流型”环流系统的是
- A. ①
 B. ②
 C. ③
 D. ④
11. 此次冷湖现象观测的月份最可能为
- A. 2 月
 B. 5 月
 C. 8 月
 D. 10 月
12. 2021 年国内消费逐步恢复。全年社会消费品零售总额 44.1 万亿元, 增长 12.5%。升级类商品消费增长明显, 商品零售增长 11.8%, 其中限额以上单位金银珠宝、体育娱乐用品、文化办公用品分别增长 29.8%、22% 和 18.8%。据此可以推测出, 我国居民
- ①生活水平不断提高 ②消费结构优化升级 ③超前消费了奢侈品 ④食品消费支出缩减
- A. ①②
 B. ①④
 C. ②③
 D. ③④
13. 截至 2021 年底, 我国登记在册的市场主体达到 1.54 亿户, 同比增长 11.1%。其中, 企业 4 842.3 万户, 个体工商户 1.03 亿户。从增量看, 2021 年, 我国新设市场主体 2 887.2 万户, 同比增长 15.4%。外商投资企业延续了 2020 年下半年以来企稳回升的发展态势, 全年新设 6.1 万户, 同比增长 23.3%。这一经济现状
- ①反映出国际经济发展呈现长期向好态势 ②为我国稳增长、稳就业提供了坚实支撑 ③印证我国用实际行动持续优化营商环境 ④是我国制定经济双循环发展策略的原因
- A. ①③
 B. ①④
 C. ②③
 D. ②④
14. 据报道, 自 2021 年 12 月 1 日起, 中国输往欧盟成员国、英国、加拿大等 32 个国家的出口商品, 不再享受这些国家的普惠制关税优惠待遇, 中国海关也不再对这些商品签发普惠制原产地证书。这一关税调整, 引发了国内舆论的普遍关注。不考虑其他因素, 这一关税调整给 32 国消费带来影响的传导路径是
- ①32 国出口商品的价值量增加 ②32 国市场上的中国商品价格涨 ③32 国国家财政收入大为减少 ④32 国居民的生活成本将上升 ⑤32 国国内消费者的利益受损 ⑥32 国国内企业经营风险降低
- A. ①→⑥→③
 B. ②→④→⑤
 C. ⑥→③→⑤
 D. ②→①→④

2022年1月,生态环境部、农业农村部等5部门联合印发《农业农村污染治理攻坚战行动方案(2021—2025年)》。《行动方案》从农村生活污水垃圾治理、农村黑臭水体整治、化肥农药减量增效、农膜回收行动、养殖业污染防治等5个方面,明确持续打好农业农村污染治理攻坚战重点任务安排。由此可知,我国

- ①贯彻新发展理念,着力解决发展动力的问题
 - ②统筹城乡协调发展,致力于城乡发展一体化
 - ③以增强人民群众的获得感、幸福感为出发点
 - ④推动农业农村绿色发展,促进生态文明建设
- A. ①② B. ①③ C. ②③ D. ③④

2021年11月18日,国家反垄断局正式挂牌。反垄断局拟订反垄断制度措施和指南,组织实施反垄断执法各项工作;承担指导企业在国外的反垄断应诉工作;组织指导公平竞争审查工作;承担反垄断及法国际合作与交流工作;承办国务院反垄断委员会日常工作。材料表明,我国

- ①不断健全和完善反垄断执法的体制与机制
 - ②打破行业壁垒和技术垄断,开放市场空间
 - ③在防止资本无序扩张领域填补了法律空白
 - ④政府审慎用权,主动接受行政外部的监督
- A. ①② B. ①④ C. ②③ D. ③④

2022年1月,反腐题材纪录片《零容忍》引发热烈反响。该片聚焦十八大以来反腐败斗争中的16个典型案例,反映了当下反腐倡廉工作的坚定态度与鲜明成效。其对反腐过程中政策话语的接地气阐述和腐败分子形象的真实呈现,彰显出纪录片作为社会镜像的纪实力量。从该片中可以看出,中国共产党应该

- ①加强廉政建设,提高拒腐防变的能力
 - ②开展伟大斗争,从严从重审理腐败罪
 - ③坚持依法执政,依法、依规从严治党
 - ④推进党的建设,把思想建设放在首位
- A. ①③ B. ①④ C. ②③ D. ②④

2021年1月3日,联合国安理会常任理事国,即中国、俄罗斯、美国、英国、法国五个核武器国家领导人共同发表《关于防止核战争与避免军备竞赛的联合声明》。声明指出:避免核武器国家间爆发战争和减少战略风险是五国的首要责任。核战争打不赢也打不得,要在相互尊重和承认彼此安全利益与关切的基础上开展建设性对话。材料表明

- ①各国在维护自身利益时应兼顾他国合理关切
 - ②五常任理事国都是维护世界和平的坚定力量
 - ③国际社会应选择使用和平方式解决国际冲突
 - ④多边主义成为各国处理利益冲突的公认原则
- A. ①② B. ①③ C. ②④ D. ③④

2022年1月,习近平在赴山西看望慰问基层干部群众时发表讲话强调,历史文化遗产承载着中华民族的基因和血脉,不仅属于我们这一代人,也属于子孙万代。要敬畏历史、敬畏文化、敬畏生态,全面保护好历史文化遗产,统筹好旅游发展、特色经营、古城保护,筑牢文物安全底线,守护好前人留给我们的宝贵财富。这一强调是基

- ①文化遗产是一个国家的民族文化的集中展示
 - ②文化遗产是展现世界文化多样性的重要载体
 - ③文化保护能够与经济发展和城市建设相融合
 - ④悠久的历史文化遗产具有相对稳定性的特征
- A. ①② B. ①④ C. ②③ D. ③④

2022年“新生活、新风尚、新年画”美术创作征集活动在全国得到热烈的反响。征集的作品充分展示了新生活中文明实践的新成果、城乡融合发展的新面貌,还有小康社会新图景,彰显了昂扬奋进的新时代主旋律。据此可知

- ①群众社会生活的丰富性来自于多彩的文化生活
 - ②年画创作应反映时代成果,倾听人民群众呼声
 - ③优秀文艺作品都是对当下社会生活的真实反映
 - ④文艺创作要深入社会实践,讴歌新时代新风貌
- A. ①③ B. ①④ C. ②③ D. ②④

冰壶是以队为单位在冰上进行的一种投掷性竞赛项目,被喻为冰上的“国际象棋”。与国际安静的象棋不同,冰壶赛场上多了一份歇斯底里的喊叫。比赛期间,每当运动员投出壶后,都会大声呼喊“哈哈”让擦冰运动员快速擦冰,使冰壶滑行更远;或者呼喊“我我我”表示停止擦冰。这些喊声一定程度上能够起到“操控”壶的作用。可见

- ①要全面地看待主观唯心主义的影响
 - ②意识对改造客观世界具有指导作用
 - ③意识的力量决定了体育赛事的胜负
 - ④任何事物都与周围其他事物有联系
- A. ①② B. ①③ C. ②④ D. ③④

22. 平台经济是以网络信息基础设施为重要支撑的新型经济形态。近年来,我国平台经济快速发展,在经济社会发展全局中的地位和作用日益突显,但也暴露出监管规范的短板与弱项,造成市场失灵现象。材料表明,对于平台经济要

①坚持两点论,做到监管规范和促进发展两手一起抓 ②坚持重点论,着力解决平台经济发展中的突出问题 ③坚持从实际出发,使平台经济的理论符合当地实际 ④坚持发展的观点,保护和扶持平台经济这一新事物

A. ①② B. ①④ C. ②③ D. ③④

23. 下面漫画《人才争夺战》给我们的启迪主要是



①在竞争中才能实现人生价值 ②制定地方策略应结合自身特殊性 ③价值判断和选择具有主体差异性 ④创新驱动发展,尊重创新型人才

A. ①③ B. ②④ C. ①② D. ③④

24. 2022年1月11日,在“三星堆遗址出土的青铜大面具”(下图所示)亮相中国虎年春晚舞台,可谓“三星堆千年,一眼万年”。这件青铜面具宽额广颌,面庞夸张,眉、眼、鼻、唇、耳等线条流畅,棱角分明,距今已有3000多年历史;同址出土的还有铜尊、铜罍、玉璋、玉琮等众多文物,这显示出蜀地与中原、长江中下游地区文化联系紧密。这些文物可以用来证明



A. 古蜀国宗教礼仪较发达 B. 巴蜀地区的手工艺国内领先
C. 巴蜀文明的包容内敛性 D. 中华文明多元一体的发展特征

25. 史载,汉初陆贾时时称“诗书”,为汉廷出使诸侯,定南越,除诸侯贡献力量,博士叔孙通自荐为汉制朝仪,朝仪成,刘邦感叹“吾乃今日知为皇帝贵。”这些现象反映出汉初

A. 新儒学的地位得到提升 B. 儒学文治功用得到发挥
C. 选官制度发生重大变化 D. 儒士顺应潮流变异儒学

26. 宋代重视重大疑难案件的审理,皇帝会派出专门的审判机构进行审判;中央除了刑部和大理寺之外还建立了审刑院,由皇帝亲自审理一些重大案件;皇帝还经常向各个地方派出巡阅使,对地方案件的审理进行监督。这表明宋代

A. 皇权专制得到强化 B. 法制体系建设完备
C. 监察制度健全高效 D. 地方治理成就突出

27. 明清时期,社会上普遍流行财产为家族共有的习惯。土地所有权的内容常常相当复杂而难以界定,劳力也受到许多的限制而难以自由支配和移动。族权、亲邻权、原主产权、地方霸权等非经济因素在财产的转移上起着很大的干扰作用。这表明明清时期

A. 市场经济发展面临困境 B. 重农抑商政策逐步松弛
C. 新兴资产阶级诉求受阻 D. 生产关系发生重大变革

28. 甲午战争前,地方疆吏对朝廷的筹款旨令敷衍塞责,战端开启后大部分省份对清廷的军事动员令不予理睬,李鸿章所能直接动员的,也只是淮军和北洋海军。日本首相伊藤博文因此表示:“中国名为一国,实为十八国也。其为一国,则诚余倍于日本,其为十八国,则无一能及日本之大者,吾何畏焉。”这表明甲午战争中国战败的主要原因是

- A. 清政府的极端腐朽
- C. 列强的支持和纵容

29. 新文化运动时期,胡适提出“研究问题,输入学理,整理国故,再造文明”的十六字新史学纲领,并指出新思潮对于旧文化的态度,在消极一方面,是反对盲从,是反对调和;在积极一方面,是用科学的方法来做整理的工夫。”胡适提出这一说法的目的是

- A. 宣扬政治改良
- C. 摒弃儒学正统

明治维新增强了日本实力
晚清中央政府权威的弱化
“研究问题,输入学理,整理国故,再造文明”的十六字新史学纲领,并指出在消极一方面,是反对盲从,是反对调和;在积极一方面,是用科学的方法来做整理的工夫。”胡适提出这一说法的目的是

- B. 制造舆论传播西学
- D. 激发民族文化自信

30. 下图是漫画家沈同衡在抗战时期创作的漫画《“武运”岂能长久》。据此可知,作者意在



- A. 树立全国人民抗战必胜的信心
- C. 指出中国抗战胜利的正确道路

揭露汪伪集团叛国投敌的无耻嘴脸
讽刺日本军国主义分子的无耻下场

31. 下表反映了现代中国中国共产党与各民主党派在政治上的一致性。这种一致性：

政治纲领和任务	政治基础	法律地位
统一祖国,振兴中华;建设有中国特色的社会主义	坚持四项基本原则	以宪法为根本准则,享有宪法规定内的政治自由、组织独立和法律地位平等

- A. 体现了各民主党派与中共利益的趋同
- C. 标志着我国人民民主进入了全新阶段

B. 保证了祖国统一和中华民族繁荣团结
D. 使我国政党制度具有稳定的政治基础

32. 公元前 367 年,罗马共和国通过《李锡尼——绥克斯图法案》,规定两名执政官中必须有一人为平民;公元前 286 年,又通过《霍布滕西法案》,规定平民大会决议对全体罗马人民具有同等法律效力。这两部法案的出台

- A. 打破了贵族对法律的垄断
- C. 拓展了罗马法的适用范围

B. 增强了公民法的实用性
D. 利于维护共和国的统治

33. 文艺复兴时期,文化艺术与商业金融有着无法分割的联系。莎士比亚在他的十四行诗中运用上流社会的利息、高利贷等经济词语来说明结婚的好处,它可以使美如同财产延续保值,美和幸福上流社会的实际利益息息相关;也借用了一系列司法义务和金钱债务用语描述情人、朋友和自己的三角关系。这说明了文艺复兴

- A. 营造了物质利益至上的风气
- C. 肯定了当时人的价值与尊严

B. 是资本主义发展的结果
D. 促进了西欧经济的发展

34. 1881 年,英国议会通过决议,首相取得提请下院认定某项问题为紧急问题的权力,所涉提案不需要任何讨论而交付表决。1887 年,下院领袖史密斯还提出一个新的程序规则:如果议员来不及在预定期限以前全部审核法案,则下院议长必须将法案的其余部分不经过讨论而提交表决。这些规定

- A. 促成了社会制度的转型
- C. 反映了宪政重心的转移

B. 折射出英国代议制的衰落
D. 凸显出议会下院中心地位

35. 20 世纪 80 年代以来,建立在多边谈判、协商机制基础上的政府间和非政府间的国际组织在数量和质量上都有了较大发展(见下表)。这一现象表明

时间	政府间国际组织	非政府间的国际组织
1969 年	37 个	176 个
2005 年	5 920 个	38 000 个

- A. 发展中国家加强了合作
- C. 发达国家主导国际局势

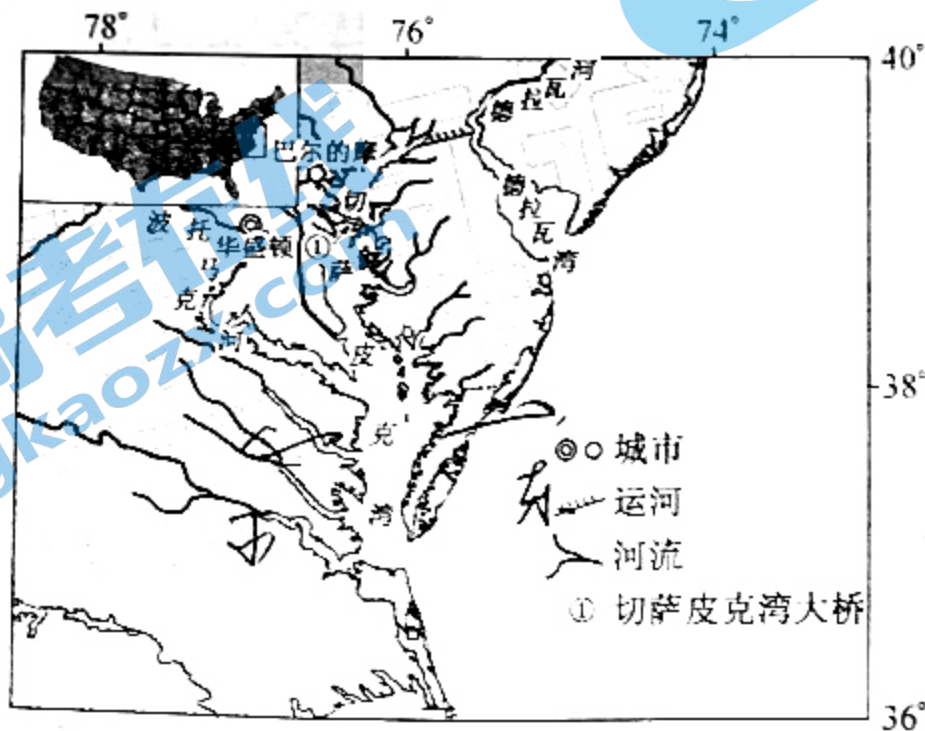
B. 多边机制利于全球治理
D. 世界呈多样性格局特征

二、非选择题：共 160 分。第 36~42 题为必考题，每个试题考生都必须作答。第 43~47 题为选考题，考生根据要求作答。

(一) 必考题：共 135 分。

36. 阅读图文材料，完成下列要求。(24 分)

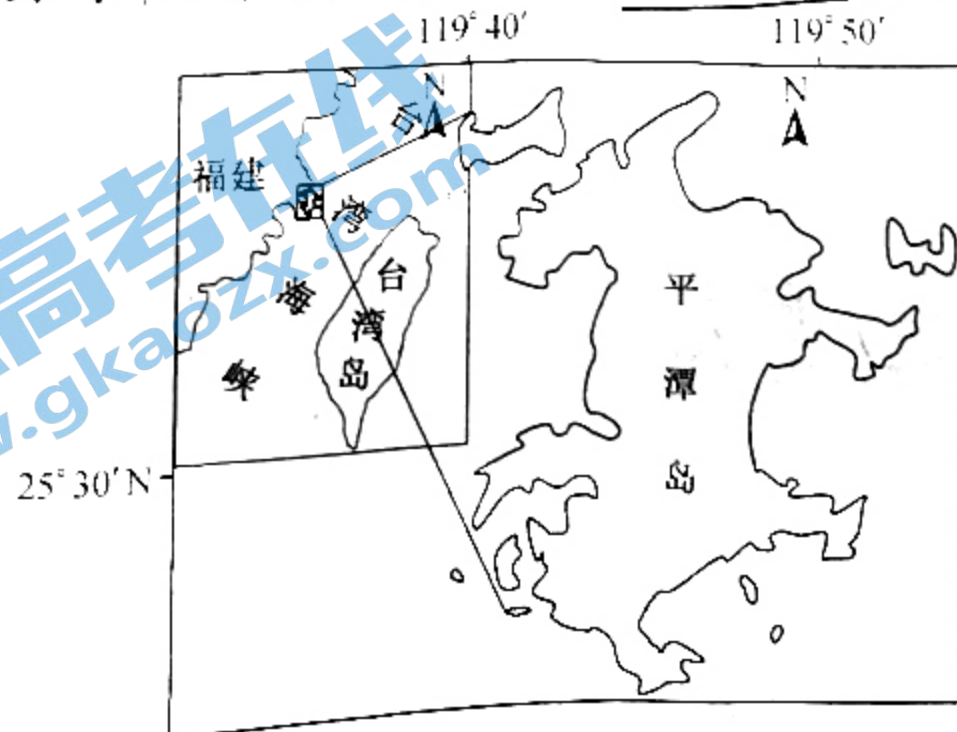
切萨皮克湾位于美国本土东海岸中部，整个海湾长 314 km，最宽处为 56 km，有萨斯奎哈纳河、波托马克河等 150 多条河流注入，是由河谷形成的溺谷型海湾。为了方便海湾两岸的交通往来和来此旅游的国内外游客，美国政府投资兴建了有“现代世界七大奇迹之一”之称的切萨皮克湾大桥，桥体融合了人工岛、沉管隧道和大桥三种形式，在切萨皮克湾和大西洋之间架起了一座水上长廊。切萨皮克湾顶端西侧的巴尔的摩，其早期的发展同海运密切相关，进出口贸易发达。下图示意切萨皮克湾地理位置及水系分布。



- (1) 简述切萨皮克湾的形成过程。(4 分)
- (2) 比较切萨皮克湾东西两侧的盐度大小，并说明判断依据。(6 分)
- (3) 说明切萨皮克湾大桥有“现代世界七大奇迹之一”之称的理由。(6 分)
- (4) 简述巴尔的摩进出口贸易发达的主要原因。(8 分)

37. 阅读图文材料，完成下列要求。(22 分)

平潭岛位于中国东南沿海、闽江口以南，是福建省第一大岛，年均温 19.5°C ，年均风速 6.9 m/s 。该岛独特的地理位置和丰富的底栖贝类物种(是反映海洋生态环境和海洋生物地理格局的基本生态类群之一)，使其在底栖生物地理学上也有重要的意义，不少种类在大陆沿海的分布北界即止于平潭岛。近年来，平潭岛大力发展海洋经济，依托港口构建大产业格局。下图示意平潭岛地理位置。



【高三 3 月质量检测·文综 第 7 页(共 12 页)】

40. 阅读材料,完成下列要求。(26分)

落后、扳平、绝杀! 2022年2月6日,中国女足时隔16年后再次问鼎亚洲之巅。亚洲杯赛场上永不言败的女足精神震撼人心。

为国而战,是中国女足永不磨灭的底色。中国姑娘们传球、助攻、射门,拧成一股绳,进球一起欢呼,丢球互相鼓励。她们用绝杀告诉我们,为国出征,是荣誉也是责任。必胜信念,是中国女足绝处逢生的原色。输过比赛、丢过冠军,经历过低谷期的徘徊与迷茫,但她们一直咬牙攒劲,不抛弃不放弃,抱着必胜的信念上战场,尽百倍千倍的努力打比赛。她们用绝杀告诉我们,唯有永不言弃,才能绝处逢生!

顽强拼搏,是中国女足一往无前的本色。赛场上,面对强敌,女足不乏扮演向上攻的挑战者角色,王霜带伤上阵,牛尾巴戏耍过人惊艳全场;张琳艳替补上场,贡献重要进球扳平比分;朱钰力挽狂澜,神扑救为最终逆转创造希望……她们用绝杀告诉我们,没有等来的胜利,只有拼来的荣耀!

人无精神则不立,国无精神则不强。今天,踏上向第二个百年奋斗目标进军的新征程,有不少“险滩”要涉,不少“硬骨头”要啃,需要大力弘扬新时代的女足精神,汇聚心往一处想、劲往一处使的磅礴力量。

(1) 结合材料,从文化生活角度,说明弘扬新时代中国女足精神的文化价值。(10分)

(2) 结合材料,运用“价值的创造与实现”的哲学知识,说明女足再次问鼎亚洲之巅对实现人生价值的启示。(6分)

(3) 中国女足亚洲杯夺冠获得了直通2023年女足世界杯入场券。请你为中国女足征战世界杯拟定两条励志口号。(4分)

41. 阅读材料,完成下列要求。(23分)

材料一

中国古人认为仓储是“天下之大命”,因此历代都不遗余力地加以建设,至隋代已具宏大规模,史称“资储遍于天下”。与此相关的是荒政思想,《周礼》中的“荒政十二书”集中体现了先秦时期对荒政的认识,其中的一些月令书中强调人的活动要与自然规律相一致,以避免灾害发生时可以保证人的生活用度。中国古代重本轻末的思想往往忽视粮食自由贸易对粮食安全的重要作用,明清闭关锁国的政策在客观上无法正常开展国际贸易活动。因此,要解决国内粮食安全只能依靠“自力更生”,甚至实行“以粮为纲”的政策。中国古代贫富之间面临的饥荒风险有着本质的区别,这种情况下农民起义、社会动乱则不可避免地发生,粮食安全的水平也由此而大大降低。研究表明,至宋元时期南方稻谷的亩产量已达343市斤之多,粮食需求和供应从量上看已能满足人民的正常需要。因此,这一时期粮食不安全的因素可能更多来自于人口增长、自然灾害以及社会方面的因素。

——摘编自吴宾等《试论中国古代的粮食安全观》

材料二

中国传统追求高粮食自给率的粮食安全战略脱胎于计划经济时期。2016年中国粮食产量达到6.16亿吨。与此同时,中国粮食也出现了生产量、进口量、库存量“三量齐增”的怪现象。作为崛起的大国,一方面,伴随着经济快速增长、收入水平提高,人们自然会升级食物消费结构,从“吃得饱”向“吃得好、吃得放心、吃得健康”转变,因此中国无疑需要依赖国际市场来实现国内食物基本均衡;另一方面,作为负责任大国,中国在实现国际粮食稳定的基础上需要给全球贸易伙伴一个稳定的农产品需求预期,同时以“一带一路”沿线国家和最不发达国家为重点,借助于中国对外基础设施与农业技术援助提升全球粮食生产能力,并推动大量劳动密集型产业向“一带一路”沿线国家转移,这样既给中国粮食

安全创造了良好的外部环境,也有利于帮助“一带一路”沿线国家从贫穷走向富裕。最后,中国应主动参与全球粮食安全治理,加强全球农产品贸易与区域农业合作,在满足发展中国家的期待方面有所作为,发挥负责任大国的作用,维护全球粮食贸易市场秩序。

——摘编自毛学峰等《重塑中国粮食安全观》

- (1)根据材料一并结合所学知识,概括古代中国粮食安全观的主要内容,并简析其形成的原因。(13分)
- (2)根据材料二并结合所学知识,指出当前中国需要重塑粮食安全观的背景,并据此为中国参与全球粮食安全治理提出合理化建议。(12分)

42. 阅读材料,完成下列要求。(12分)

材料

在社会发生变革的关键时期,改革与革命往往互为因果:改革是革命的前奏,革命是改革的开始;改革与革命如此相互促进,导致新制度逐步取代旧制度。在这样一种关系链中,革命无疑起着至关重要的作用,它往往是推动社会变革的决定性因素。但是革命也并不是包治百病的灵丹妙药,而且它产生的副作用也是显而易见的,诸如革命具有一定的盲目性和强大的破坏性。因此,有人主张在社会变迁过程中应尽量避免用革命的手段,而希望通过和平渐进的改革来达到变革社会体制的目的。如果能做到这一点,当然属于最佳选择。但是,选择改革或革命并不是依靠人们的想象力,也不是取决于人们的好恶。各国经历改革与革命之路除取决于改革派的力量和旧制度的适应能力之外,它也与各国的文化传统以及导致变革的各种因素和变革的内在动力等方面紧密相连。所以改革与革命是社会历史发展的产物。如果单凭情感的冲动,或为某种政治目的就以改革来否定革命,或以革命来否定改革,那都是对历史的歪曲。


摘编自郭汉民《近代中国改革与革命述论》

根据材料,围绕“改革与革命的关系”这一主题,提炼一个恰当的观点,并结合所学世界近代史的相关知识对其进行简要阐述。(要求:观点明确,史实准确,史论结合,逻辑清晰)

(二) 简答题：共25分。请考生从2道地理题、3道历史题中每科作选一题作答。如单题多做，则每科按所答的第一题计分。

选修6：旅游地理(10分)

康养旅游是指健康养生类旅游，国际上一般被称为医疗健康旅游，是在物质条件已经满足的条件下，对美好自然的精神层面的深度体验。2021中国文化和旅游高峰论坛主论坛正式发布了“中国康养旅游发展白皮书”，海口位居榜首。下图示意海口城市景观。



分析海口位居中国康养旅游城市百强榜首的原因。

选修7：环境保护(10分)

贵州省喀斯特地貌区约10.91 km²，约占贵州省国土面积的62%，居全国之首，是全球喀斯特发育最典型、最集中、最完整和最丰富的地区之一。在贵州省兴义市以南、贞丰县以北的北盘江花江大峡谷两岸，喀斯特地貌面积都属喀斯特地貌，过去只见石头，不见片土，甚至寸草不生。如今，花江大峡谷两岸已经走出“生态破坏—经济贫困—人口膨胀”的困境，实现了生态美、百姓富。

分析北盘江大峡谷两岸形成“生态破坏—经济贫困—人口膨胀”困境的关键原因，并推测花江大峡谷两岸实现生态美、百姓富所采取的主要措施。

选修3：历史上重大改革回眸(10分)

材料

五四运动之前，中国近代女子教育已经有了一定的发展，培养“贤妻良母”式的女性是当时的教育宗旨。五四运动时期，先进的知识分子认识到“贤妻良母”作为女子教育的终极目标，不能使妇女具有独立的人格，这种教育宗旨塑造的只是“多知识之顺婢、良仆供男子驱策耳”。五四之前，“近代中国女子教育的对象主要是上层社会的女性”。五四时期，随着杜威“平民主义”教育理论的传入，国内随即掀起了一股平民教育的热潮，“贵族式”的教育受到了冲击，在京、沪等地开始兴办平民女校。为了解决平民女子就学的经济问题，又发展出了女子工读运动，一些妇女还得到了赴法勤工俭学的机会。自清末兴女学以来，女子教育在教育机构中与男子分属不同的教育体系(双轨学制)，除了女子高等师范学校外，大学不允许女子进入学习。1919年5月，甘肃女青年邓春兰率先上书北京大学校长蔡元培，要求国立大学增收女生。1920年2月，经过考试北京大学录取了9名女生，邓春兰就是其中之一。大学开禁女学促进了中学女子教育的改革，1921年广东省中等学校、北京高师附中、长沙第一师范招收了女生，标志着中学男女同校的风气正在全国形成。

——摘编自贾仟军《五四运动时期的女子教育变革》

- (1) 根据材料并结合所学知识，概括五四运动时期女子教育变革兴起的原因。(6分)
- (2) 根据材料并结合所学知识，指出五四运动时期女子教育变革的表现及其意义。(9分)

46. [历史——选修3:20世纪的战争与和平](15分)
材料

1958年,中国宣布从朝鲜撤军,随后中美双方围绕着朝鲜撤军和统一问题展开交涉。美国国家安全委员会相继出台了一系列文件,美国政府越来越强调所谓“中国威胁”的严重性。美国认为,在撤军和朝鲜统一问题上,对中国做出任何让步都可能成为将来讨论的起点,进而影响到将来德国、越南、中国等国的统一方式。作为由大陆向海洋延伸的特殊地理部分,朝鲜半岛构成了东北亚的地理中心,它既是大陆国家东方防御的最后一张“盾牌”,同时又是海洋国家向西进攻的第一块“陆基”。而对于日本的防卫而言,朝鲜半岛则犹如“瞄准日本心脏的一把短刀”,在朝鲜半岛建立统一的亲美政权对日本的安全有着重要意义。因此,在政治、外交层面应对中国外交攻势的同时,美国政府内部开始对朝鲜半岛的地位进行重新评估。1958年8月,美国国家安全委员会出台了5817号文件,坚持了美国对朝政策的长期目标,即在朝鲜半岛建立亲美政权。文件提出,鉴于中国军队从朝鲜撤军,美国把防御的主要目标将集中在北朝鲜的“进攻”,同时也将进一步缩减驻朝美军。在“重要政策指导”部分,美国认为联合国提供了抵制共产主义入侵的法律基础,因而文件强调美国应坚守联合国这份重要遗产。

——摘编自冯东兴等《1958年中国从朝鲜撤军与中美外交交涉》

- (1)根据材料并结合所学知识,分析朝鲜战争后美国拒绝从朝鲜半岛撤军的原因。(8分)
(2)根据材料并结合所学知识,简析中国从朝鲜撤军对美国朝鲜半岛政策的影响。(7分)

47. [历史——选修4:中外历史人物评说](15分)
材料

八思巴家族开创的西藏佛教萨迦派,在西藏地区占统治地位。元朝统治者积极笼络吐蕃佛教上层人士,实行因俗而治的政策。1252年,八思巴以他的博学、谦逊、富于政治远见而得到忽必烈的信任。忽必烈封八思巴为“大宝法王”“大元国师”,领宣政院管理西藏及蒙汉地区的佛教事务。在八思巴主持宣政院期间,西藏地区建立了行政区划,进行了人口调查,确定了赋役负担,社会秩序稳定,政治和经济都有较大程度的发展。元政府在通往西藏腹地的沿途,普遍设置了驿站,构成了与内地紧密联系的交通网。为了便于汉藏间贸易的开展,元政府在沿途的会宁等地陆续设置榷场,又设置“西番茶提举司”,经营粮食、茶叶贸易以方便藏民生活。在用人方面,忽必烈重用的桑哥等著名人物都是由八思巴举荐的。对元王朝派兵灭南宋统一全国的战争,他采取支持的态度。在元政府机构里,设有专门翻译梵经的局所,八思巴及其弟子们亲自参加翻译,仅至元十七年,有司奏上八思巴新译出的戒本就有五百部之多。八思巴和他的伯父萨班乃至他的祖辈,世代都精通医术,通过他们的努力,西藏的医学被介绍到内地。与此同时,内地的雕版印刷术经八思巴的随从弟子们之手流传到西藏。至元六年,八思巴受忽必烈之命创作完成“蒙古新字”(亦称八思巴字),忽必烈在诏文中规定以新字为国书,用它来释写一切文字,蒙古新字迅速得到广泛的流行,举凡儒家的经籍、史书、佛教典籍都曾以蒙古新字进行大量的翻译。

——摘编自徐连达《论八思巴在历史上的作用与贡献》

- (1)根据材料并结合所学知识,概括八思巴作出贡献的历史背景。(7分)
(2)根据材料并结合所学知识,简评八思巴的历史贡献。(8分)

关于我们

北京高考在线创办于 2014 年，隶属于北京太星网络科技有限公司，是北京地区极具影响力的中学升学服务平台。主营业务涵盖：北京新高考、高中生涯规划、志愿填报、强基计划、综合评价招生和学科竞赛等。

北京高考在线旗下拥有网站门户、微信公众平台等全媒体矩阵生态平台。平台活跃用户 40W+，网站年度流量数千万量级。用户群体立足于北京，辐射全国 31 省市。

北京高考在线平台一直秉承 “精益求精、专业严谨” 的建设理念，不断探索 “K12 教育+互联网+大数据” 的运营模式，尝试基于大数据理论为广大中学和家长提供新鲜的高考资讯、专业的高考政策解读、科学的升学规划等，为广大高校、中学和教科研单位提供 “衔接和桥梁纽带” 作用。

平台自创办以来，为众多重点大学发现和推荐优秀生源，和北京近百所中学达成合作关系，累计举办线上线下升学公益讲座数百场，帮助数十万考生顺利通过考入理想大学，在家长、考生、中学和社会各界具有广泛的口碑影响力

未来，北京高考在线平台将立足于北京新高考改革，基于对北京高考政策研究及北京高校资源优势，更好的服务全国高中家长和学生。



微信搜一搜

北京高考资讯

官方微信公众号: bjgkzx

官方网站: www.gaokzx.com

咨询热线: 010-5751 5980

微信客服: gaokzx2018