

# 北京某学校 2017—2018 学年度第一学期高一期中考试试卷

## 政治试题 (A 卷)

考试时间 60 分钟 试题分数 100

一、选择题 (本大题共 50 小题。每小题 1.6 分, 满分 80 分。在每小题给出的四个选项中, 只有一项是最符合题意的。)

1、2017 年 8 月 8 日九寨沟发生 7.0 级地震, 地震发生后, 社会各界纷纷伸出援手, 向灾区捐款捐物。对捐赠的救灾物资的表述正确的是

- A. 不是商品, 因为没有用于交换 B. 不是商品, 因为不是劳动产品  
C. 是商品, 因为有使用价值 D. 是商品, 因为是劳动产品

2、人们购买手机, 有人在意它的外观如何, 有人在意它的功能多少, 还有人在意它的价格等, 不同的消费者对手机有不同的需求, 这是消费者在关注商品的

- A. 使用价值 B. 价值 C. 性价比 D. 价格

3、“在很大程度上, 因为货币被作为交换媒介, 所以它才必然地起价值贮藏的作用。”这一观点告诉我们

- ①流通手段职能使货币成为社会财富的象征  
②流通手段和贮藏手段都是货币的基本职能  
③贮藏手段职能是从流通手段职能衍生而来  
④社会财富的象征使货币具有流通手段职能

- A. ②④ B. ②③ C. ①② D. ①③

4、2016 年 6 月 1 日至 6 月 3 日, 稻花香·2016 中国龙舟公开赛在湖北宜昌夷陵区龙泉镇隆重举行。稻花香集团推出赠票活动, 凡在本次活动中指定购酒换票地点购买 2 瓶 42° 稻花香新珍品一号白酒, 即可获赠 1 张龙舟赛门票。对获赠龙舟赛门票认识正确的是

- ①不是商品, 因为赠送非“交换” ②是商品, 因为赠票前提是“购酒”, 本质上仍是买卖关系  
③不是商品, 因为它没有使用价值 ④是商品, 这对稻花香集团而言是一种营销策略

- A. ①② B. ①③ C. ①④ D. ②④

5、在“创意点亮北京”活动中, 解决胡同停车难这件事也成了创意活动。由胡同的居民通过微信报名方式“奉献”出自己的车位一整天, 停车人只需贡献出后备箱, 以供摆放工艺品等各种小物件, 便于人们直接换取还有用处的东西, 满足换客们的交易需要。材料反映的这种交易行为

- ①是社会发展的新的商品流通形式 ②能够充分实现物品的多元使用价值  
③使换客同时兼得了商品的使用价值和价值 ④本质上是在交换无差别的人类劳动

- A. ①② B. ①③ C. ②④ D. ③④

6、2016 年 6 月 12 日, 河南省安阳市汤阴县启动食品安全宣传周。此次宣传活动周共销毁伪劣食品 30 余吨, 销毁品种涉及“三无”食品、过期食品、伪劣食品, 总货值 30 余万元。此次宣传活动周销毁的这些食品

- ①其价值以使用价值为基础 ②是使用价值和价值的统一  
③不具备商品应有的使用价值 ④不具有成为商品的基本属性

- A. ①② B. ②④ C. ③④ D. ②③

7、2016年央视“3·15”晚会曝光“饿了么”网络订餐存在的诸多食品安全问题。在节目播出后，“饿了么”网站立即下线了所有涉事的餐厅，并对商户审核责任人进行了严肃处理。支持这一做法的理由有

- ①商品是使用价值和价值的统一体 ②商家应为消费者提供合格的使用价值  
③问题食品不是真正的劳动产品 ④商品质量高低决定着商品价格的高低

A、①② B、②③ C、①④ D、③④

8. 在现实生活中，人们生产商品并不是为了自己享用，而是拿到市场上去换货币，然后再用货币去买各种商品，以满足自己生产和生活的需要。货币和商品关系非常密切，总是“形影不离”。对此，你认为下列说法正确的是

- ①商品和货币是一对孪生兄弟②货币是商品交换长期发展的产物  
③货币是一个历史范畴，商品是一个永恒的概念④货币是一种特殊的商品

A. ①③ B. ①② C. ②④ D. ③④

9、有三种不同情形：1克黄金=一只羊；一头牛先换5克黄金货币，再用黄金货币换回农具；1克黄金=184人民币元。对此下列说法正确的有

- A. 三种情形下的黄金都充当了一般等价物 B. 人民币执行了价值尺度的职能  
C. 三种情形下的黄金都没有本质上的区别 D. 黄金是商品交换过程中的产物

10. 2017年8月，魏女士首付50万元购买价值160万元的商品房，剩余110万元及15万元的利息共125万元分14年偿还银行。在这里50万元、160万元、125万元分别执行的货币职能是

- A. 价值尺度、支付手段、贮藏手段 B. 支付手段、价值尺度、流通手段  
C. 流通手段、价值尺度、支付手段 D. 价值尺度、流通手段、支付手段

11、用日语交换英语、用驾驶交换修车、用德语交换财务知识、用电脑技术交换股票证券知识……这是最近在白领中流行的一种技能交换方式，他们以自己的特长作为资本通过网络平台，和别人交换自己想学的技能。技能交换

- ①属于物物交换②是商品流通的一种特殊形式  
③是有形商品的一种交换形式④是无形商品的一种交换形式

A. ②③ B. ①④ C. ①③ D. ②④

12. 过去我们常说一卡在手走遍天下，而如今的“微信支付”只需手机绑定一张银行卡，当用户支付时在自己的智能手机上输入密码，无需任何刷卡步骤即可完成支付，更加方便、快捷。可见“微信支付”

- ①使用的货币履行的是支付手段职能 ②是金融系统创新服务模式的具体体现  
③增加了货币量，易引发通货膨胀 ④使用的货币履行的是流通手段职能

A. ①③ B. ①② C. ③④ D. ②④

13、中国人民银行于2016年10月28日起陆续发行2017版熊猫金银纪念币一套12枚，其中熊猫普制金银纪念币6枚(2016年10月28日发行)、熊猫精制金银纪念币6枚(2016年12月15日发行)，均为中华人民共和国法定货币。该纪念币

- A. 能收藏，但不能在市场流通 B. 是商品，其买卖价格是固定的  
C. 其本质是一般等价物 D. 是我国的法定纸币

14. “世界上只有少数人信仰上帝。世界上所有的民族，文明的和蒙昧的，发达的和不发达的，穷的和富的，无论是哪一种肤色的人，对黄金的感情是一致的，无不对它顶礼膜拜。黄金不仅是一种名贵的金属，也是一种世界文化，是一种不需要翻译的万能语言。黄金是无可匹敌的强大的宗教。”上述观点

- A. 是正确的，因为金钱是万能的商品  
B. 是错误的，黄金作为货币只是一般等价物

- C. 是错误的，因为货币具有价值尺度和流通手段职能  
D. 是正确的，因为对金钱要取之有道，用之有度

15、中国人民银行于 2016 年 8 月 29 日发行 2016 年二十国集团杭州峰会金银纪念币一套。该套纪念币共 3 枚，其中金质纪念币 1 枚，银质 2 枚，图为 3 克圆形精制金质纪念币图案，该纪念币面额 50 元，这里的 50 元执行的货币的职能是



3 克圆形精制金质纪念币

- A. 支付手段      B. 价值尺度      C. 流通手段      D. 贮藏手段

16、目前来说最方便的车票分销方式莫过于网络直销即电子车票。火车票网络服务可以解决老百姓买火车票不方便问题，同时也为老百姓购票节省了交通成本与时间成本，特别为商务人士出行提供了较大的便利性。这种火车票网络服务

- ①使货币的职能发生了变化    ②没有改变货币本身固有的职能  
③使用的是虚拟货币    ④使得商品交换的方式发生了变化

- A. ①②      B. ②④      C. ③④      D. ①④

17、2017 年 5 月 18 日，中国人民银行发行世界遗产——曲阜孔庙、孔林、孔府金银纪念币一套。该套纪念币共 5 枚，其中金质纪念币 2 枚，银质纪念币 3 枚。该套金银纪念币正面图案均为中华人民共和国国徽，并刊国名、年号。该套金银纪念币由上海造币有限公司、沈阳造币有限公司和深圳国宝造币有限公司铸造，中国金币总公司总经销。该套金银纪念币

- ①具有法定货币的属性，可以在市场上流通  
②满足公众收藏需求，具有保值和投资价值  
③中央银行具有发行义务，可规定其购买力  
④作为价值符号，能够执行贮藏手段的职能

- A. ①②      B. ②③      C. ③④      D. ①④

18. 纸币的发行量应以流通中所需要的货币量为依据。假如某国流通中需要的货币量为 5000 亿元，由于大量商品涌入该国，待售商品总量增加 50%。为了保持该国商品平均价格水平的稳定。下列说法可行的是

- ①如果货币流通速度保持不变，货币的供应量应增加 2500 亿元  
②如果货币流通速度保持不变，货币的供应量应减少 2500 亿元  
③如果货币的供应量保持不变，货币的流通速度要降低 50%  
④如果货币的供应量保持不变，货币的流通速度要提高 50%

- A. ①③      B. ②③      C. ①④      D. ②④

19、广西百色的张先生一家计划 2017 年春节期间去“新马泰”旅游。最适合张先生携带的信用工具应是

- A. 现金      B. 支票      C. 外汇      D. 信用卡

20. 用纸币代替金属货币，是用一种更廉价，且更便利的物品代替一种极其昂贵的商业工具。有如此优势的纸币的出现，无疑为流通安上了全新的车轮。与“旧车轮”相比，这个“新车轮”

- ①其制作的成本更低                      ②更加易于携带和运输  
③是有形状和面值的铸币 ④供应量过多会使物价下降

A. ①②                                      B. ①③                                      C. ②③                                      D. ②④

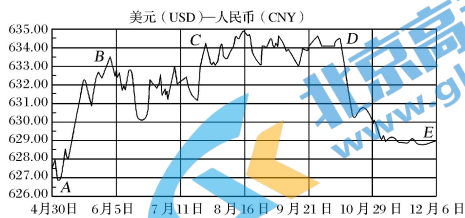
21、2016年11月2日，欧元对人民币汇率在开盘后延续上涨趋势，进一步扩大涨幅到7.4922。某购物达人在微信朋友圈发帖称“欧元上涨，买个1000欧元包比去年这个时间多花100元人民币！”。去年同期100元人民币可能兑换

A. 8.28欧元                                      B. 13.0欧元                                      C. 5.68欧元                                      D. 15.6欧元

22、近年来，在我国与越南、新加坡、俄罗斯等国家的贸易中，使用人民币计价、结算的业务量不断上升，从2010年的0.51万亿元上升到2017年的16.55万亿元。对外贸易中使用人民币计价、结算，有助于

- A. 我国外贸企业规避汇率风险 B. 发挥人民币的贮藏手段职能  
C. 我国外贸企业加快转型升级 D. 增强人民币国际市场购买力

23、下图是某时段人民币对美元汇率(人民币元/100美元)中间价基本走势曲线。下列对此变化及影响的说法正确的是



- ①A点至E点表示美元汇率跌落，有利于中国公民到美国旅游    ②B点至C点表示美元汇率上升，不利于美国对华投资  
③C点到D点表示人民币汇率基本稳定，有利于世界金融稳定    ④D点到E点表示人民币升值，会加剧我国出口企业的经营压力

A. ①②                                      B. ①④                                      C. ②③                                      D. ③④

24. 假定M、N两国的汇率为1:6.5，M国某商品国内售价为1000元，2017年N国货币相对于M国升值25%，不考虑其他条件，2017年该商品在N国售价应为

A. 5000元                                      B. 8125元                                      C. 5200元                                      D. 4160元

25、2016年9月1日，中国人民银行副行长易纲在中外媒体吹风会上表示，汇率对实体经济有一些影响，最好是保持合理均衡稳定。这有利于

- ①人民生活安定，经济持续健康发展    ②世界金融稳定，促进世界经济复苏  
③规避汇率风险，提升货币国际购买力    ④降低商品成本，提升商品出口竞争优势

A. ①②                                      B. ①④                                      C. ②③                                      D. ③④

26、古书记载，一人善耕，一人善渔。善耕者欲以谷物换鱼虾，善渔者拒之。对“善渔者拒之”的原因，下列分析合理的是

- ①谷物与鱼虾不能交换                      ②谷物可能非渔者所需之物  
③鱼虾可能非耕者所需之物                      ④鱼虾可能非耕者所需之物

A. ①②                                      B. ③④                                      C. ②③                                      D. ②④

27. 一个想要改变自己办公环境的白领，用闲置多时的《音乐之声》碟片换来了一盆漂亮的君子兰；一个喜欢工艺品的收藏爱好者，用瑞士军刀换来了一个精致的木筷盒漆器……这样的故事每天都在易物网上发生。这种以物易物的交换



- ①是一种商品流通②可以使商品的价值最大化  
③可以使商品的使用价值最大化④前提是交换双方恰好都需要对方的商品

A. ①②                      B. ②④                      C. ③④                      D. ①③

28. 下列选项中，对于增加纸币发行量、物价上涨与通货膨胀三者关系的说法正确的是

- A. 只要增加纸币发行量，必然引起通货膨胀，导致物价上涨  
B. 物价上涨总是因为增加纸币发行量引起的，其本质是通货膨胀  
C. 一般情况下，纸币的发行量不超过流通中实际需要的货币量，就不会导致通货膨胀  
D. 物价上涨必然导致增加纸币发行量和通货膨胀

29. 目前，“绿色、健康、环保”已成为人们消费时关注的焦点，在服装市场，面料健康环保、生产过程无污染、产品废弃以后能够回收利用的绿色服装呈现出强劲的发展势头，成为热销的商品。绿色商品之所以热销，是因为其

- A. 凝结了较多的体力和脑力劳动 B. 是人类劳动的产物  
C. 使用价值能够适应消费者的需求 D. 能给人以精神享受

30. 如果在一年里全社会用现金支付的销售商品总量为 5 000 亿件，平均每件价格水平为 8 元，在这一年里货币平均周转 5 次。那么，这一年里货币发行量应为\_\_\_\_\_亿元。如果这一年实际发行了 16 000 亿元纸币，这时的 1 元钱相当于\_\_\_\_\_元，这会引起\_\_\_\_\_。

- A. 8 000 0.5 通货膨胀 B. 4 000 0.2 购买力降低  
C. 16 000 2 纸币升值 D. 2 000 3 购买力提高

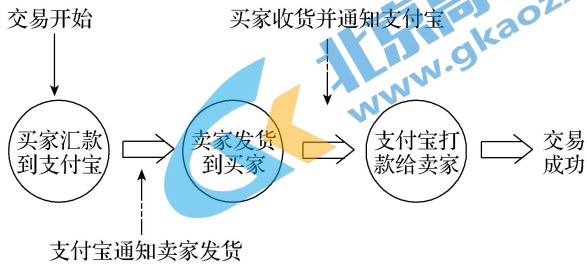
31. 2017 年某县的橙子大获丰收，但成熟时间较往年推迟，错过了在春节前上市的最佳时机，造成滞销。后来，在当地政府的帮助下，橙子滞销问题得到了解决，实现了“惊险一跃”。经济学之所以把上述过程称为“惊险一跃”，是因为

- A. 商品价值的实现存在不确定性                      B. 货币流通手段的作用不易发挥  
C. 商品使用价值很容易被损耗                      D. 商品价值难以用货币表现

32. 2016 年某国国民经济总体上是平衡的。假设 2017 年该国待售商品量增加 14%，货币流通速度提高 5%，物价水平上涨 3%，在其他条件不变的情况下，国民经济要保持平衡，流通中所需要的货币量应

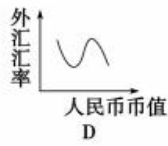
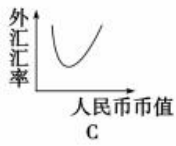
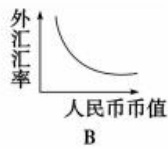
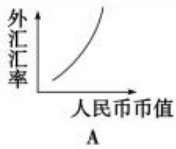
- A. 减少 11.8%    B. 增加 11.8%    C. 减少 16.2%    D. 增加 16.2%

33. 淘宝网是亚太地区最大的网络零售商圈，其业务跨越 C2C、B2C(淘宝商城)两大部分。请看下图，在这一购物流程中



- A. 货币执行了流通手段职能                      B. 货币执行了价值尺度职能  
C. 货币表现了其他商品的价值                      D. 货币只是观念上的货币

34. 下列关于外汇汇率与人民币币值之间关系的曲线走势图，正确的是



35. 商王在宗庙赏赐戍嗣子海贝二十朋（朋为计量单位，一朋有五贝、十贝之说），戍嗣子用它来做了祭祀先人父癸的铜鼎。海贝是不能做成鼎的，那只能是用海贝换铜再铸造铜鼎。材料揭示了在当时的社会里，海贝

- ①可表现其他一切商品的价值
- ②是商品交换发展的必然产物
- ③促进了商品流通的不断发展
- ④能帮人们换回所需要的商品

A. ①③                      B. ②③                      C. ②④                      D. ①④

36. 近年来，我国居民银行卡消费的习惯不断养成，交易笔数和交易量都有了明显攀升，刷卡消费渐渐成为人们的消费习惯。使用信用卡

- ①能减少人们现金的使用，简化收款手续
- ②能创设绝对安全的环境，增强消费安全
- ③能够保持本币币值稳定，减少消费支出
- ④能为人们提供信用透支，释放消费需求

A. ①②                      B. ②④                      C. ①④                      D. ②③

37. 随着信息技术的发展，电子商务、电子政务、电子银行已走进我们的生活。许多消费者购物和旅行时经常使用信用卡刷卡消费。在使用信用卡刷卡消费的过程中，货币执行的职能有

- ①一般等价物
- ②流通手段
- ③贮藏手段
- ④支付手段

A. ①②                      B. ①③                      C. ②④                      D. ③④

38. 2017 年我国继续实施稳健的货币政策，严格控制货币信贷总量和投放节奏，更好地调节社会总需求和改善国际收支平衡状况，维护金融稳定和安全。采取上述措施有利于

- A. 防止出现明显通货膨胀
- B. 抑制人民币汇率上升
- C. 促进财政收入增加
- D. 刺激社会总需求增长

39. 2017 年 5 月 26 日 1 美元兑换人民币汇率中间价为 6.8698 元，1 英镑兑换人民币汇率中间价为 8.8857 元，而 2016 年同期 1 美元兑换人民币汇率中间价为 6.5579 元，1 英镑兑换人民币汇率中间价为 9.5938 元。这表明

- ①英镑汇率上升，有利于我国商品出口
- ②我国企业对英国投资成本下降
- ③美元汇率下降，美元贬值
- ④我国公民到美国旅游成本增加

A. ①②                      B. ①④                      C. ②③                      D. ②④

40. 人民币跨境支付系统正式启动后，相当于通过一条“支付高速公路”将全球人民币使用者联结起来。由此可见，这一系统的启动有利于

- A. 增强人民币国际市场购买力
- B. 进一步推动人民币的国际化
- C. 我国外贸企业加快转型升级
- D. 我国外贸企业避免汇率风险

41. 在其他条件不变的情况下，当 100 美元兑人民币由 628.97 元跌至 619.25 元时，下列可能会发生的经济现象是

- A. 我国居民降低对美国商品的需求
- B. 我国居民更多地选择去美国旅游
- C. 我国企业增加对美国的商品出口
- D. 我国企业会逐渐减少对美国投资

M国2016年货币供应量为15万亿元，同期商品价格总额为30万亿元。回答42~43题

42、假设该国货币供需均衡且货币价值稳定，那么，可推算出M国当年货币流通速度为

- A. 0.5次/年                      B. 1次/年                      C. 2次/年                      D. 3次/年

43、若M国货币流通速度加快20%，国内生产扩大10%，在其他条件不变的情况下，该国物价水平的变化大致是

- A. 下降10%                      B. 上升10%                      C. 上升30%                      D. 上升50%

44、某中学从当地新华书店购买了一批图书，价格总额为50万元。下面最合适的结算方式是

- A. 现金结算                      B. 转账结算                      C. 现金支票                      D. 汇票

45、有分析师预测，人民币兑美元可能在2016年会有小幅升值，幅度在3%以内。下列主体中，最有可能希望人民币升值的是

- A. 广东省某出口企业                      B. 一位即将赴美国留学的中国大学生

- C. 中华人民共和国商务部                      D. 一家准备到中国投资办厂的美国公司

46、2016年4月至2017年4月，人民币对美元的汇率中间价（人民币元/100美元）由645.79振荡走高至689.06，这对我国对外经济造成重要影响。若不考虑其他因素，下列推导正确的是

- A. 美元升值→中国商品在美国市场的价格下降→不利于中国商品出口美国

- B. 美元贬值→美国商品在中国市场的价格上升→有利于中国进口美国商品

- C. 人民币升值→中国企业在美国投资成本下降→有利于中国企业在美国投资

- D. 人民币贬值→中国企业在美国投资成本上升→不利于中国企业在美国投资

47、2014年6月19日，支付宝钱包与住建部合作推出城市一卡通服务，将NFC手机（NFC是Near Field Communication缩写，即近距离无线通讯技术）变身公交一卡通，可实现35个城市刷手机公交出行，人们戏称支付宝为“第二货币”。对于支付宝，下列认识正确的是

- A. 属于银行信用卡的一种                      B. 执行货币的基本职能

- C. 使网上购物更加方便和安全                      D. 本质是一般等价物

48、下列对支票的认识，正确的是

- ①活期存款的支付凭证                      ②出票人和付款单位是银行

- ③均能持票到银行支取现金                      ④主要分为转账支票和现金支票

- A. ①②                      B. ①④                      C. ②③                      D. ②④

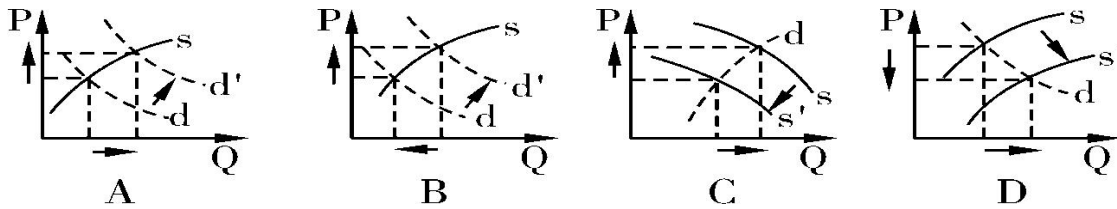
49、央行数据统计显示，2014年上半年，我国外汇储备余额为3.99万亿美元，逼近4万亿美元大关。充足的外汇储备

- ①有利于增强国际清偿能力、提高风险应对能力                      ②是长期以来我国过度依赖进口造成的

- ③有利于促进我国经济发展方式的转变                      ④对维护国家经济金融安全具有重大意义

- A. ①②                      B. ③④                      C. ①③                      D. ①④

50、通货膨胀有良性与恶性之分。经济学界普遍认为，当社会总物价水平的上涨幅度在一定范围内，并对经济增长有较为积极的刺激作用时，就可以视为良性通货膨胀。下列图示（P为物价总水平，Q为社会总供给量和总需求量，s为社会总供给曲线，s'为变化后的供给曲线，d为社会总需求曲线，d'为变化后的需求曲线）能够正确表示良性通货膨胀的是



二、非选择题(20分)

51. 材料：人民币汇率变动对我国制造业两类企业产生的影响，见下表：

企业类型	单位商品价格或 单位项目投资额	汇率变动前后单位商品价格 或单位项目投资额	
		变动前	变动后
出口贸易型企业	192（元）	23.41（美元）	A（美元）
对外投资型企业	8200（万元）	B（万美元）	1281.25（万美元）

注：假定人民币兑换美元的汇率由 100 美元=820 元人民币变动为 100 美元=640 元人民币(不考虑其它影响因素)。

计算表格中 A、B 的值，并结合材料一分析人民币汇率变动对表中两类企业经营产生的影响。(假设影响企业经营的其它条件不变)

更多高一期中试题，请扫描二维码下载



长按识别关注



## 政治试卷答案

### A 卷

- 1、A【解析】商品是用于交换的劳动产品。捐赠的救灾物资虽然属于劳动产品，但其并未用于交换，故不属于商品，A项符合题意；本题材料中的“救灾物资”属于劳动产品，故B项表述错误；有使用价值的东西并不一定是商品，故C项表述错误；用于交换的劳动产品才属于商品，故D项表述错误。
- 2、C【解析】“购买手机有人关注外观、功能，有人关注价格”，说明消费者关注商品的使用价值和价值(价格)，即性价比，C正确；ABD只关注了问题的一个方面，不符合题意。
- 3、D
- 4、D【解析】商品是用于交换的劳动产品，是使用价值和价值的统一体。要想成为商品必须具备两个条件，一是必须是劳动产品，二是必须是用于交换，二者缺一不可。获赠龙舟赛门票是商品，因为赠票前提是“购酒”，本质上仍是买卖关系，对稻花香集团而言是一种营销策略，②④符合题意，①③不符合题意。
- 5、C【解析】“直接换取还有用处的东西”是物物交换，不是商品流通；商品的使用价值和价值对商品来说缺一不可，对交换的任何一方都是不可兼得的，所以①③错误；②④符合题意(商品交换表面看是换东西，实质上交换的是无差别的人类劳动)。
- 6、C【解析】由题意可知，销毁的这些食品不具备商品应有的使用价值，因而也就没有价值，③④符合题意；①②是对商品的描述，销毁的这些食品不是商品，不符合材料题意。
- 7、A【解析】存在安全问题的食品，没有合格的使用价值，商家及时作出处理，才能减少食品安全问题的发生，为消费者提供合格的使用价值，①②正确；问题食品不是合格的劳动产品，但不能否认它们也是劳动产品，③错误；④的观点错误，价值决定价格。
- 8、C【解析】货币是商品交换发展到一定阶段的产物，故①排除，并据此选择②；因为货币和商品都是一个历史范畴，故③排除；货币的本质是一般等价物，因此也是一种特殊的商品，故④正确。
- 9、B
- 10、C【解析】首付50万元购买商品，执行的是货币的流通手段职能，价值160万元的商品房，执行的是货币的价值尺度职能，偿还银行125万元执行的是货币的支付手段职能，C正确，ABD都错误。
- 11、B【解析】商品流通是以货币为媒介的商品交换，而技能交换没有货币作为媒介，属于物物交换，②错误；技能交换属于劳务的交换，③错误；①④符合题意。
- 12、D【解析】微信支付履行的是流通手段，④正确，①不选；微信支付不会增加货币量，③不选；②正确。
- 13、C【解析】该纪念币作为我国的法定货币，既能够收藏，也可以流通，A项错误；该纪念币的价格由价值决定，也会受供求关系影响，不是固定不变的，B项错误；该纪念币是金属货币，D项错误；金银纪念币是法定货币，其本质是一般等价物，C正确。
- 14、B【解析】黄金作为货币，其本质是一般等价物，题中观点夸大了黄金的作用，是错误的；C理由是不成立的，B正确；金钱不是万能的，A错误；D判断错误，后半句话正确，但不符合题意。
- 15、B
- 16、B【解析】火车票网络服务没有改变货币的职能，使用的是现实的货币，①③错误；②④正确切题。
- 17、A【解析】纪念币属于法定货币，可以在市场上流通，①正确；该套纪念币能满足公众收藏需求，具有保值和

投资价值，②正确；中央银行不能规定该套纪念币的购买力，③不选；该套纪念币不是价值符号，④不选，故本题答案应为A。

18. C 【解析】流通中所需要的货币量=商品价格总额（商品价格×待售商品数量）÷货币流通速度。由此可见，流通中所需要的货币量与商品价格成正比，与货币流通速度成反比。因为待售商品重量增加50%，所以，货币供应量也应该增加50%，也就是货币的供应量应增加2500亿元，或者货币的流通速度要提高50%，①④说法正确，②③说法不正确。

19. D 【解析】使用信用卡可以集存款、取款、借款、消费、结算、查询为一体，能减少现金的使用，简化收款手续，方便购物消费，给持卡人带来诸多便利。由此可见，外出长途旅游最适合携带的信用工具是信用卡，故D项符合题意。

20. A 【解析】由材料信息可知，题中的“新车轮”隐喻的是纸币，排除③。①②是对纸币的正确描述，符合题意。纸币供应过多会引发通货膨胀，导致物价持续上涨的局面，排除④。

21. D 【解析】购买一款标价1000欧元的包，多花1100元人民币，则在欧元上涨之前需要人民币6392.2元人民币，即原来人民币兑欧元的汇率为6.3922:1，去年同期100元人民币可兑换到的欧元为100/6.3922≈15.64欧元，D正确。

22. A 【解析】在对外贸易中直接使用人民币结算，可以使我国外贸企业规避汇率风险，故选A；题干中人民币是用于国际贸易的，故不能说是发挥人民币的贮藏手段职能，排除B；C中的转型升级与题干没有直接关联；对外贸易中使用人民币计价、结算不一定会增强人民币国际市场购买力，排除D。

23. D 【解析】A点至E点美元对人民币汇率有波动，但总体上是上升的，①判断错误；B点至C点表示美元汇率上升，美元升值，人民币贬值，有利于美国对华投资，②判断错误；③④正确。

24. C 【解析】由题意可知，M、N两国的汇率为1:6.5，N国货币相对于M国升值25%，M、N两国的汇率为1:6.5/(1+20%)，即1:5.2，2017年该商品在N国售价应为1000×5.2=5200，C正确，ABD都错误。

25. A 【解析】保持汇率合理均衡稳定，即对内保持物价总体水平稳定，对外保持人民币汇率稳定，这对人民生活安定、经济社会持续健康发展，对世界金融稳定、世界经济复苏具有重要意义，①②说法正确；保持汇率合理均衡稳定，有利于规避汇率风险，但并不能提升货币国际购买力，③说法错误；商品成本与汇率无直接关系，④不选。

26. C 27. C 28. C

29. C. 解析 绿色商品之所以热销，是因为其使用价值能够适应消费者绿色、健康、环保的消费需求，A、B、D不构成其热销的原因，排除。

30. A

31. A 【解析】本题考查商品交换。材料中的“惊险一跃”指的是产品销售的困难，A项符合题意。只要有商品流通，货币的流通手段就能够得以发挥，B项错误。商品使用价值的损耗与“惊险一跃”（即销售）没有直接关系，排除。商品流通条件下，商品价值都是用货币表现的，D项错误。

32. B 【解析】直接运用流通中所需要的货币量公式，假定2012年待售商品量、货币流通速度和物价水平均为1，则2013年流通中所需要的货币量为 $(1+14%) * (1+3%) / (1+5%) \approx 1.118$ 。所以应比上一年增加11.8%

33. A. 解析 从淘宝网购物的流程可以看出，货币在此充当了商品交换的媒介，这是货币执行流通手段职能的体现，A项正确。B、C、D三项皆反映货币的价值尺度职能，所以不选。

34. B

35. D 【解析】一般等价物是一种人们普遍乐意接受的商品，它能表现其他一切商品的价值，充当商品交换的媒介。由题意可知海贝是一般等价物，①④是对一般等价物的正确描述，符合题意。海贝是自然物，在商品交换之前就已

经存在，②说法错误。商品流通是以货币为媒介的商品交换，而以海贝为媒介的商品交换不是商品流通，③不符合材料主旨。

36、C

37、C【解析】使用信用卡刷卡消费的过程，首先是由刷卡人从签发银行贷款，然后由银行划拨给商家，商家接到划款后发货给刷卡人，刷卡人到期再将贷款还给签发银行的过程。贷款和还款的过程，货币执行的是支付职能。银行拨款给商家后，商家发货给刷卡人的过程货币执行的是流通手段职能，②④符合题意。①③与题意无关，故排除。

38、A

39、D【解析】材料表明美元升值，人民币对美元贬值，有利于出口产品到美国，不利于我国公民到美国旅游，因为成本增加；英镑贬值，人民币升值，我国企业对英国投资成本下降。②④项符合题意；①③项与题意不符；正确选项为D。

40、B【解析】人民币跨境支付将全球人民币使用者联结起来，这有利于进一步推动人民币的国际化，B符合题意。人民币国际市场购买力跟人民币的汇率变化有关，人民币跨境支付并不能增强人民币国际市场购买力，A与题意无关。人民币跨境支付系统的启动与我国外贸企业加快转型无关，也不能避免汇率风险，故排除C、D。

41、B

42、C【解析】货币供需均衡且货币价值稳定，说明币值不变，原来一元还是一元，根据公式  $30/15=2$  次。答案为C。

43、B【解析】依据题意先计算出在货币流通速度加快20%和国内生产扩大10%的条件下该国流通中实际需要的货币量即  $30 \times (1+10\%) / 2 \times (1+20\%) = 13.75$  万。在其他条件不变的情况下，也就是纸币发行量没变也就是说实际发行了15万，可知物价是上涨了。上涨幅度为  $(15-13.75) \div 13.75$  万，接近10%。答案为B。

44、B 45、B 46、D 47、C

48、选B。支票是活期存款的支付凭证，是出票人委托银行等金融机构见票时无条件支付一定金额给持票人的票据，包括转账支票和现金支票。①④是对支票含义和种类的正确认识，应选。出票人和付款单位均是存款人，银行是代付人；转账支票不能支取现金，故②③错误。

49、D

50、A。s为社会总供给曲线，供给曲线和商品的价格呈正相关关系，所以排除C；由于材料中强调的是良性通货膨胀，所以会使商品的价格上升，所以排除D选项，因为D强调的是价格下降；良性通货膨胀会刺激经济增长，会使需求量和供给量都有所增加，所以选A。

51、A: 30; B: 1 000

出口贸易型企业：出口商品价格上升，市场竞争力下降，不利于商品出口。对外投资型企业：投资成本降低，有利于进一步扩大对外投资。

【解析】：解答本题，首先要准确计算出A、B两处数据，可以根据汇率直接计算出A处为  $192 \div 6.4 = 30$  (美元)，B处为  $8\ 200 \div 8.2 = 1\ 000$  (万美元)。分析人民币汇率变动对表中两类企业经营产生的影响，要注意分别说明对出口贸易型企业和对外投资型企业的不同影响，结合汇率变动前后的数据对比，可以正确分析出其影响。