

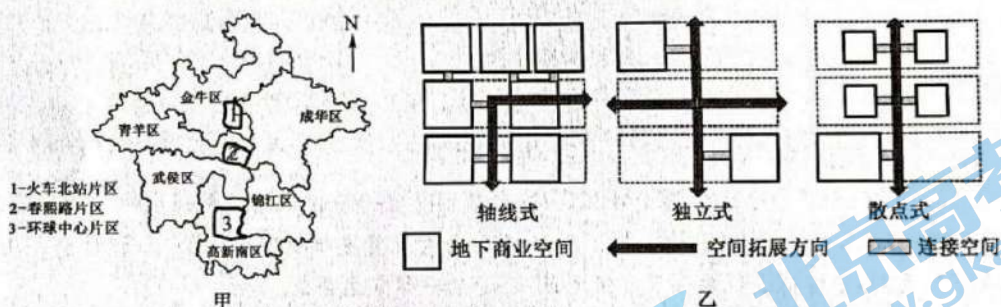
高三文科综合

考生注意：

1. 本试卷分选择题和非选择题两部分。满分 300 分，考试时间 150 分钟。
2. 答题前，考生务必用直径 0.5 毫米黑色墨水签字笔将密封线内项目填写清楚。
3. 考生作答时，请将答案答在答题卡上。选择题每小题选出答案后，用 2B 铅笔把答题卡上对应题目的答案标号涂黑；非选择题请用直径 0.5 毫米黑色墨水签字笔在答题卡上各题的答题区域内作答，超出答题区域书写的答案无效，在试题卷、草稿纸上作答无效。
4. 本卷命题范围：高考范围。

一、选择题：本大题共 35 小题，每小题 4 分，共 140 分。在每小题给出的四个选项中，只有一项是符合题目要求的。

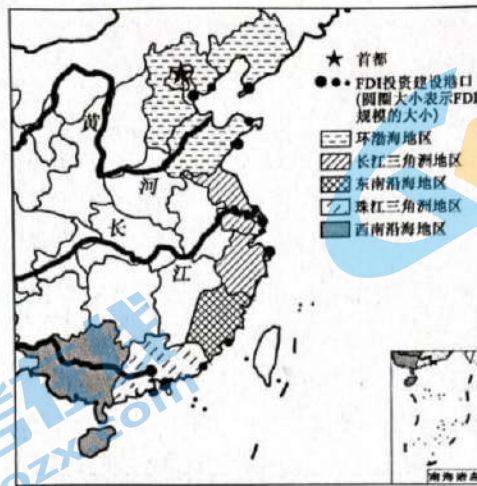
近年来，我国各大城市地下商业空间发展迅速。研究发现，大型居住区周边的地下商业空间应以生活服务、体育休闲等业态为主导进行开发，以满足居民的生活需求；枢纽型的地下商业空间需要形成有特色的、多元化的地下商业圈。成都市春熙路片区、火车北站片区及环球中心片区是具有地下商业空间的三个特色区域，位置如图甲所示，图乙示意三种地下商业空间演化模式。据此完成 1~3 题。



1. 与地上商业空间相比，建设地下商业空间应着重考虑
A. 消防、通风排烟和排水系统规划
B. 地下空间功能、形态与结构布局
C. 地下停车场等相关基础设施建设
D. 地下通道与地铁、公交站的距离
2. 春熙路片区、火车北站片区及环球中心片区对应的地下商业空间演化模式依次为
A. 轴线性、散点式、独立式
B. 散点式、轴线性、独立式
C. 轴线性、独立式、散点式
D. 独立式、轴线性、散点式
3. 我国各大城市地下商业空间发展迅速的主要影响有
①提升抗灾能力 ②缓解用地紧张 ③增加能量消耗 ④降低土地价格
A. ①② B. ①④
C. ②③ D. ③④

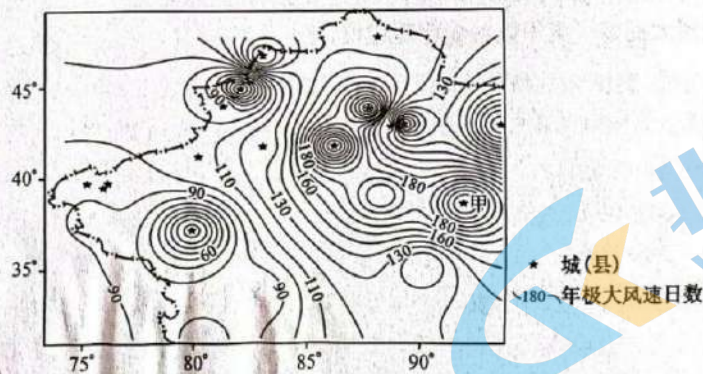
在我国港口的快速发展中，外商直接投资(FDI)成为重要推动力之一。然而，在我国港口吸引外资规模不断扩大的同时，外商的非对称投资使得 FDI 在空间分布上存在显著差异。世界银行数据显示，

1991~2011年底,共有48项外商投资建设我国海港的记录,涉及18个沿海港口。下图示意1991~2011年FDI在我国港口沿海岸线分布状况。据此完成4~6题。



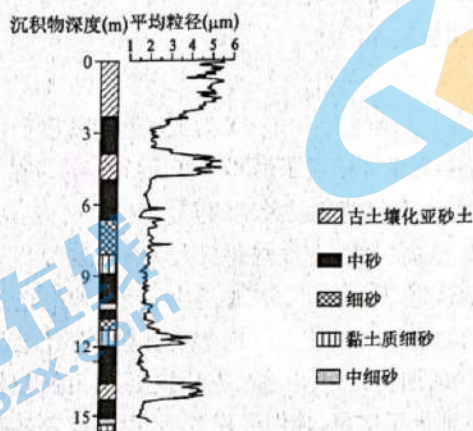
4. 外商的非对称性投资对我国港口的主要影响是
- A. 港口竞争力降低
B. 扩大港口经济腹地
C. 空间发展不均衡
D. 增加了港口的数量
5. 推测 FDI 前期主要集中在
- A. 环渤海地区
B. 珠江三角洲地区
C. 西南沿海地区
D. 长江三角洲地区
6. FDI 在港口群选择上具有时间阶段性,与其关联性最大的是
- A. 我国经济格局的变迁
B. 港口集群状况
C. 经济发展水平的高低
D. 自然资源种类

极大风速(指给定时间段内的瞬时最大风速大于 17 m/s)是影响城市森林滞尘循环的重要指标。下图示意新疆主要城(县)年极大风速日数分布。据此完成 7~9 题。



7. 甲地年极大风速日数最可能为
- A. 160 天
B. 185 天
C. 220 天
D. 235 天
8. 影响新疆主要城(县)年极大风速日数分布特征的主要因素有
- ①地形 ②热量 ③降水 ④气压场
- A. ①②
B. ②③
C. ①④
D. ③④
9. 为减少新疆主要城(县)年极大风速日数可采取的措施是
- A. 大力发展风力发电
B. 提高植被覆盖率
C. 提高绿洲开发强度
D. 扩大城市的规模

青山“砂山”位于武汉市青山镇,形成于古地质历史时期,“砂山”呈条带状近乎平行排列,垂直于长江河岸,组成“砂山”的沉积物粒径不一,但呈现出一定的规律性,冬季是“砂山”主要形成期。下图示意“砂山”0~17 m 深度各组成沉积物平均粒径,不同深度的沉积物平均粒径对当地气候环境有指示作用。据此完成 10~11 题。



10. 形成青山“砂山”的主要作用是
 A. 流水沉积 B. 风力沉积 C. 地壳抬升 D. 流水侵蚀
11. “砂山”在 5~10 m 形成期间,其环境特点最可能是
 A. 冷干 B. 冷湿 C. 暖湿 D. 暖干
12. 恩格斯说:“没有奴隶制,就没有古希腊城邦,就没有古希腊的艺术和科学,没有奴隶制,就没有古罗马帝国。”上述观点告诉我们
 ①古希腊是世界上早期国家的发祥地 ②奴隶社会代替原始社会是生产力发展的结果 ③奴隶社会代替原始社会是人类历史的进步 ④奴隶社会代替原始社会后,人类开始迈入文明时代
 A. ①② B. ①④ C. ②③ D. ③④
13. 新民主主义革命在全国胜利之后,有人认为,新中国成立之初,中国的经济文化发展水平同资本主义发达国家相比,存在很大差距,应该等到资本主义充分发展以后再进行社会主义改造。上述观点没有看到
 ①社会主义公有制逐步成为社会经济中的主导性因素 ②个体农业经济难以适应新形势,迫切需要组织起来 ③党的八大召开为社会主义事业的发展指明了方向 ④国际形势有利于中国加快向社会主义阵营的转变
 A. ①② B. ①③ C. ②④ D. ③④
14. 渐进性延迟退休是近年来社会热议话题。但不少人担心,延迟退休年龄以后,自己中年失业了该怎么办?以延迟后的退休年龄标准为 65 岁计算,如果一个劳动者在 34 岁,甚至 40 岁的时候就失业,而且找不到新的工作。这意味着,要在失业的环境中,坚持 25 年甚至 30 多年才可以退休。而且在失业以后,社保的缴费等都会成为问题。为此,需要
 ①完善再分配调节机制,加快推进基本公共服务均等化 ②深化收入分配改革,增强劳动报酬在初次分配中比重 ③加快健全和完善社会保障制度,增强群众更多获得感 ④公民增加权利意识和法律意识,依法维护自身权益
 A. ①② B. ①③ C. ②④ D. ③④
15. 人民银行、银保监会联合召开房地产金融工作座谈会。会议提出,金融部门要认真贯彻落实党中央、国务院决策部署,围绕“稳地价、稳房价、稳预期”目标,坚持“房住不炒”,加快完善住房租赁金融政策体系。下列措施符合上述要求的是

①强化个人住房贷款审慎管理,支持居民刚性居住需求 ②出台征收房地产税的政策,提高炒房的成本,抑制炒房 ③适度上调金融机构购房贷款利率,以便更多的居民买得起 ④落实购地只能用自有资金的规定,严控购地加杠杆行为

- A. ①③ B. ①④ C. ②③ D. ②④

16. 国家主席习近平在新年贺词中深情回顾中国共产党百年奋斗的光辉历程,着眼实现中华民族伟大复兴的宏伟目标,强调“我们唯有踔厉奋发、笃行不怠,方能不负历史、不负时代、不负人民”。为此,党必须要做到

①坚持以人为本、公民至上的价值取向 ②坚持人民主体地位,把人民需求作为各项工作的依据
③坚持人民立场这一我们党的根本立场 ④坚持立党为公、执政为民的执政理念

- A. ①② B. ①④ C. ②③ D. ③④

17. 2022年11月20日至2023年1月20日,广西壮族自治区公安机关开展为期两个月的岁末年初打击突出犯罪攻坚战,剑指组织偷越国边境、涉黑恶等七类犯罪。攻坚战开展一个多月以来,广西刑事警情、治安警情同比分别下降15.7%和35.7%。可见

①社会主义民主是最广泛、最真实的 ②国家通过专政手段保障人民民主 ③我国政府履行对内职能维护社会秩序 ④阶级斗争在我国少数民族区域尤为突出

- A. ①② B. ①④ C. ②③ D. ③④

18. 对于雪景的描写,古人在诗句中有所不同。

诗人	有关雪景的描写
李白	燕山雪花大如席,片片吹落轩辕台。
高适	千里黄云白日曛,北风吹雁雪纷纷。
柳宗元	孤舟蓑笠翁,独钓寒江雪。
王安石	遥知不是雪,为有暗香来。

以上有关雪景描述的差异告诉我们

①对雪景的描述源自于诗人的情感认知 ②诗人对雪景描述体现意识能动创造性 ③雪景的描述是对客观真实的真实反映 ④雪景描述是客观存在的一种主观表达

- A. ①③ B. ①④ C. ②③ D. ②④

19. 长期以来,基层行政执法领域存在多头执法、重复执法、执法扰民等诸多问题。为此,S市积极探索推进综合行政执法体制改革,根据不同层级、不同领域情况,分层分类实施改革,有效整合部门内部、相关部门之间和一定区域内的行政执法职能、机构和人员,在市级、县级、镇级层面均实现“一支队伍管执法”。S市积极探索推进综合行政执法体制改革的哲学依据是

①生产关系一定要适应生产力的发展 ②改革是推动社会发展的重要动力 ③社会发展只有在改革中才能实现 ④上层建筑一定要适应经济基础状况

- A. ①③ B. ①④ C. ②③ D. ②④

20. 第七届湖南艺术节期间,共展演了29台新创大型舞台剧目、25个新创小戏作品、12个复排传统经典戏曲剧目、13台群众文化活动;展出美术书法作品272件,摄影作品120组。湘剧《忠诚之路》、花鼓戏《夫子》、京剧《向警予》、花鼓戏《徐特立》等10台剧目获田汉大奖。由此可见,该艺术节的举办

①繁荣文化市场,突显中华文化的博大精深 ②彰显文化自信,对接红色文化与优秀传统文化 ③礼敬传统文化,通过文化创新挖掘其商业价值 ④提供精神引领,力促社会思想意识的多元多样

- A. ①② B. ①④ C. ②③ D. ③④

21. 法国宪法规定,共和国的地方单位是市镇、省和海外领地。这些地方单位由选出的议会依照法律规定的条件,自主管理。在各省和领地,由中央政府的代表负责维护国家利益、监督行政并且使法律获得遵守。这表明法国

- ①地方单位坚持中央政权的统一领导 ②地方单位是享有相对主权的完整政治实体 ③地方单位在权限范围内享有最高权力 ④是典型的中央集权型单一制国家
- A. ①③ B. ①④ C. ②③ D. ②④
22. 王大爷大儿子五年前病故,儿媳甲一直与王大爷夫妇共同生活,尽了主要赡养义务。王大爷二儿子在国外生活,很少回来探望父母。王大爷还有一丧失劳动能力的养子丙。王大爷病故,留下 50 万元的存款。下列选项正确的是
- ①甲由于和王大爷没有血缘关系,不能继承王大爷的遗产 ②乙虽是第一顺序继承人,但因没有尽赡养义务应少分或不分遗产 ③50 万元应由王大爷老伴和甲、乙、丙共同继承 ④丙因丧失劳动能力在分配遗产时应当予以照顾
- A. ①③ B. ①④ C. ②③ D. ②④
23. 下列选项与“世界上最大的发展中国家—中国”概念关系一致的是
- A. 喜怒哀乐—情绪 B. 父母、子女、兄妹—直系血亲
C. 湖南的省会—长沙 D. 早中晚—一天
24. “生民”一词,在先秦时保留最多的是儒家典籍,而在同作为先秦时代的思想家韩非子那里,“生民”政治思想对于构建他的政治思想体系是无所帮助,甚至和他的政治理念相冲突。两者对待“生民”态度的分歧
- A. 体现了文化间的对立 B. 反映出思想家所属阶层的不同
C. 源于政治选择的差异 D. 表明先秦诸子学说具有多样性
25. 一份统计资料显示,两晋南北朝由吏部“直接任命”而起家的人,约占总入仕者的半数;由察举和学校开始入仕者的占四分之一;州郡县吏积功升迁的占 14%;公府掾属入仕的占 1.2%。另一份资料也表明,两晋高级士族子弟由吏部铨选入仕的占 50%。这说明两晋南北朝时期
- A. 九品中正制成为选官方式首选 B. 官吏选拔集权化的趋势
C. 士族政治固化了社会阶层流动 D. 科举制度端倪开始出现
26. 唐代不仅有象征着丰收的丝绸图案,更有了以丰收命名的丝绸,如“瑞绫”“散花绫”等。散花绫是河北道邢州的特产,“散花”即“撒花”之意,在黄底上撒满白色的四瓣碎花,寓意为天空撒下了满天飞雪,瑞雪飞舞丰年到。这反映了
- A. 中华民族的农耕意识 B. 唐代昂扬上进的时代风貌
C. 丝织技术的时代转型 D. 唐代中西文化交流的频繁
27. 清代乾隆年间的《生意世事初阶》一书中将商贾之理财视为居家之急务,并与为官出仕、“出而裕国”相提并论,而《贸易须知》中更是希望学习者“研求温习,玩味熟思”,并把“异日有成,出人头地”的希望寄托于经商之上。这可用来说明当时
- A. 社会结构发生了根本性的变化 B. 工商皆本观念开始流行
C. 新商业伦理观的构建业已完成 D. 农本商末观念受到冲击
28. 1851 年,太平天国颁布了《太平礼制》,其中以天王诏令的形式从称呼、服饰、仪卫舆马都有明确规定,不准逾越,而凡“东王驾出,如各官兵,回避不及,当跪于道旁,如敢对面行走者斩首不留”。这表明,太平天国
- A. 大大推动了中国近代化的进程 B. 具有脱离广大群众的倾向
C. 打破了封建思想对人们的束缚 D. 代表的阶级属性发生变化
29. 新文化运动的代表人物鲁迅认为救治中国,“其首在立人,人立而后凡事举”;陈独秀也明确表示,“人间百行,皆以自我为中心,此而丧失,他何足言”;李大钊更是鼓励人们特立独行,以觉醒之我,实现青春之我。这反映了新文化运动

- A. 提倡民主科学
B. 批判伦理纲常
C. 呼吁人的解放
D. 倡导文学革命
30. 1935 年之前,南京国民政府在重工业建设上始终难以投入较多的资源。1936 年调整制定了《国防工业三年计划》,加快了金融改革与金融统制、重工业建设和铁矿统制,以及交通运输建设的步伐,并取得了一定的成效。这一计划的实施
- A. 完善了苏联的经济发展模式
B. 使官僚资本的规模急剧扩张
C. 实现了国民经济的协调发展
D. 为抗战胜利创造了一定条件
31. 1955 年 10 月,中共七届六中全会讨论并通过了由邓子恢主持修订的《农业生产合作社示范章程(草案)》。该章程规定:“为了照顾社员种植蔬菜或者别的园艺作物的需要,应该允许社员有小块的自留地”,并规定“每口人所留的土地至多不能超过全村每口人所有土地的平均数的百分之五”。这些规定
- A. 说明农业市场化得到中央的认可
B. 适应了当时农村经济发展需求
C. 印证了农村经济调整效果的初显
D. 表明社会主义体系的日渐完善
32. 有学者研究表明,古埃及新王国时期,人们把金、银、铜块按照不同的重量储存起来,如果一方想买卖牛,另一方想买卖谷物,为了保证公平交易,他们会用黄金、白银或者黄铜来衡量交易双方的商业价值,但是不会用黄金、白银进行直接交换。甚至可以直接进行物物交换,且这一现象还很普遍。据此可知,这一时期的埃及
- A. 借贷形式日益普遍
B. 金属货币开始出现
C. 契约意识逐渐增强
D. 商业发展水平有限
33. 下表是启蒙思想家的部分观点。其共同点是

孟德斯鸠:不强迫任何人去做法律所不强迫他做的事,也不阻止任何人去做法律所许可他做的事,就要防止滥用权力
卢梭:行政权力的受任者绝不是人民的主人……只要人民愿意就可以委任他们,也可以撤换他们

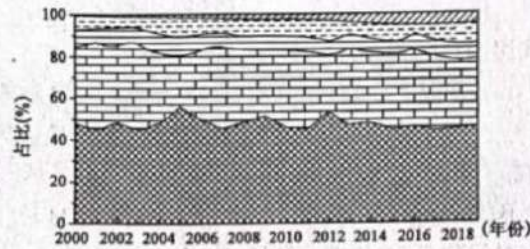
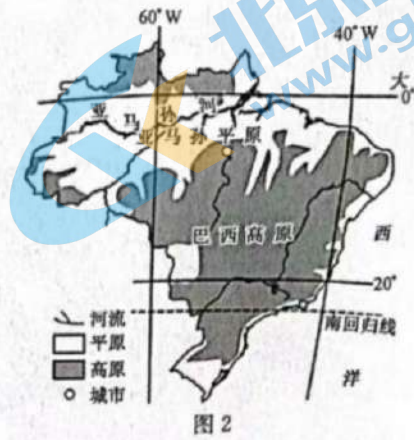
- A. 主张人民主权原则
B. 倡导实行民主共和制
C. 追求个人独立自由
D. 强调对权力进行制约
34. 有学者说:“英国在十七八世纪,相继在多层保护财产合同、价格控制制度、保护发明者的专利制度等方面做出了大量的努力。到了十九世纪,对输出品的限制、东印度公司对印度贸易垄断、谷物条例、航海条例的逐步废除等因素都很好解释了这一历史发展的因果关系。”材料可用来说明,工业革命
- A. 是一次完整的社会革命
B. 带来了国际分工的变化
C. 促进了自由主义的发展
D. 重视科技与工业的结合
35. 两极格局瓦解以来,世界格局处于单极化趋势与多极化趋势并存的三支力量(要求建立单极世界的力量、中间游移力量、要求建立多极世界的力量)角逐的总体状态。在冷战结束到 2007 年美国次贷危机爆发这个阶段,单极化趋势总体上较为明显;2008 年全球金融危机爆发之后,多极化趋势更加凸显。这一变化说明
- A. 经济危机客观上助推了多极化趋势
B. 世界政治格局的变化莫测
C. 经济全球化致使美国霸权意识消弭
D. 经济全球化遭受巨大挫折

二、非选择题:本大题包括 9 小题,共 160 分。

36. 阅读图文材料,完成下列要求。(28 分)

大豆性喜暖,但温度过高易导致植株提前结束生长而使单株产量降低,对土壤肥力要求较高。大豆原产于我国,但近年来我国大豆在国内市场的竞争力逐渐减弱。在技术及政策的支持下,巴西已成

为世界上最大的大豆生产国,其大豆种植具有一定的区域性。图1示意巴西国土分区,图2示意巴西相关地理事物分布,图3示意2000~2020年巴西各地理分区大豆产量占比。



- (1) 推测我国大豆在国内市场的竞争力逐渐减弱的原因。(6分)
- (2) 说明巴西成为世界上最大的大豆生产国的条件。(6分)
- (3) 指出巴西各地理分区大豆种植特征,并分析其北部地区种植大豆的劣势。(8分)
- (4) 比较巴西南部与东南部地区大豆产量的差异,并分析原因。(4分)
- (5) 请你为提高我国大豆市场竞争力提出合理建议。(4分)

37. 阅读图文材料,完成下列要求。(28分) 全科试题免费下载公众号《高中僧课堂》

牯牛河是位于辽宁西部朝阳境内大凌河的最大一级支流,因汛期河水势若牛奔(俗称“牯牛水”,“牯牛水”可在一定程度上改善中下游地区耕地的土壤状况)而得名,发源于内蒙奈曼旗黄苍他拉乡东南11 km 三台力虎村北,全长136 km,流域面积4 400 km²。牯牛河流域状如芭蕉扇形,境内丘陵起伏,河谷相间,河道宽窄不等,深浅不定。河流上游为地势起伏的山区,中游、下游均建有大型水库。下图示意牯牛河水系分布。



- (1)分析“牯牛水”形成的主要原因。(6分)
- (2)分析“牯牛水”可改善中下游地区耕地土壤状况的主要原因。(6分)
- (3)说明牯牛河中下游大型水库所发挥的主要功能。(8分)
- (4)指出“牯牛水”的主要危害及应对措施。(8分)

38. 阅读材料,完成下列要求。(14分)

“2022年实施新的组合式税费支持政策,基本原则是坚持阶段性措施和制度性安排相结合,减税与退税并举。”2022年的政府工作报告中,2022年新的组合式税费支持政策得以公布,预计全年退税减税约2.5万亿元,其中留抵退税约1.5万亿元,退税资金全部直达企业。

回顾2021年,“减税降费+缓税缓费”成为我国涉税政策的一大亮点。围绕提振工业经济运行、促进能源电力保供,制造业中小微企业预计办理缓税(费)2 000亿元,煤电和供热企业预计办理“减、退、缓”税270亿元。围绕激发科技创新发展活力,受益于两度“升级”的研发费用加计扣除政策,企业提前享受减免税额3 333亿元。大规模减税降费的对象是市场主体,还兼顾居民家庭,提升职工工资。实践表明,减税降费是助企纾困直接有效的办法,实际上也是“放水养鱼”、涵养税源。

结合材料并运用经济与社会知识,分析新的组合式税费支持政策对推动中国经济稳步复苏的作用。

39. 阅读材料,完成下列要求。(12分)

探索建立检察机关提起公益诉讼制度,是党的十八届四中全会作出的一项重大改革部署。

公益诉讼领域涵盖食品药品安全、国有财产保护、国有土地使用权出让、英烈权益保护、生态环境保护以及安全生产、产品质量安全、文物保护等所有法定领域和部分新领域,每一起案件都与国家利益或社会公共利益密切相关。据统计,从2017年7月至2021年6月,检察公益诉讼已全面开展4周年,共提起诉讼19695件,其中生态环境和资源保护与食品药品安全案例所占的比例最高。一方面,生态环境保护和食药安全问题,离老百姓最近,同老百姓生活最密切,是司法维护民生民利最具普遍性的领域。目前,尽管我国生态环境和食药安全形势持续好转,但从各方面数据看,这两个领域的公益损害问题最为突出,人民群众反映最为强烈;另一方面,生态环境保护和食药安全问题,影响面大,涉及面广,单纯依靠公民个人点对点地提起维护权益的私益诉讼,不仅费时费力,即便赢得诉讼,也很难取得面上的效果,难以维护更多人的利益。微信关注高考早知道安徽

因此,迫切需要检察机关以国家的名义,通过依法独立行使检察权,督促适格主体依法行使公益诉讼权,取得“办理一案、治理一片”的法律效果和社会效果。

结合材料并运用政治与法治知识,说明我国探索建立公益诉讼制度的理由。

40. 阅读材料,完成下列要求。(8分)

某网络科技有限公司将其付费会员称为“雷锋会员”,将其提供服务的平台称为“雷锋社群”,将其注册运营的微信公众号称为“雷锋哥”,在微信公众号上发布宣传海报和文章,并在公司住所地悬挂“雷锋社群”文字标识。该公司还以“雷锋社群”名义多次举办“创业广交会”“电商供应链大会”“全球云选品对接会”等商业活动,并以“雷锋社群会费”等名目收费。

结合材料,运用法律与生活知识,评析该公司的行为。

41. 阅读材料,完成下列要求。(18分)

习近平指出:“履不必同,期于适足;治不必同,期于利民”。一个国家的发展道路合不合适,只有这个国家的人民才最有发言权。正像我们不能要求所有花朵都变成紫罗兰这一种花,我们也不能要求有着不同文化传统、历史遭遇、现实国情的国家都采用同一种发展模式。否则,这个世界就太单调了。”事实上,各种文明形态、各种社会制度,无论差异多少、无论优劣几何,从文化根源上都在追求着一些人类的共同价值和共通目标,只不过道路不同、程度不同、快慢不同、侧重不同,但是不影响殊途同归的本质和谐。世界上没有放之四海而皆准的发展道路。只有能够持续造福人民的发展道路,才是最有生命力的。

(1)运用“思维形态及其特征”的知识,分析习近平主席的论述所运用的思维形态。并说明其基本单元、主要特征。(6分)

(2)履不必同,期于适足;治不必同,期于利民。结合材料,说明习近平这一思想给我们的哲学启示。(12分)

42. 阅读材料,完成下列要求。(25分)

材料一

“早期工业化”是指工业革命之前的工业化,也就是乡村的工业化,是为市场而不是为家庭的手工业制造业。江南地区的盛泽镇的丝绸业兴盛于明末清初,“盛泽纺绸,乃是农家副业,为该地农家经济之主要收入,农田收获,反漠视之”。“盛泽所有丝绸产品全为农村工业……盛泽四乡农民,重织轻耕”。盛泽镇鼎盛时期拥有人家万户,其中机工、曳花有数千人,炼坊、染坊、踹坊等雇佣工人又有近千人,有一半人家以此为生。在盛泽镇附近的黄溪市,丝织机坊“雇人织挽”,等待雇佣的工人,每天清晨聚集于长春桥、泰安桥的桥堍等待雇主召唤。全镇商店五六百家,工商业人口在全镇总人口中占据大多数,工商业人口大大超过农业人口。形成介于县城与乡村之间的小城市,这是中国特色的城市化模式。在1679~1833年的155年中,中国生丝的出口量从微不足道的8担上升到9920担,初露了“外向型”的经济。

——摘编自樊树志《明清江南市镇的“早期工业化”》

材料二

在16世纪至18世纪中期,英国的乡村工业在全国已有广泛深入地发展,几乎遍及每一个村庄。下面为1520~1801年英国人口结构变动趋势情况。

年份	总人口 (百万)	城市人口 (百万)	乡村人口 (百万)	农业人口占乡村 总人口的比例(%)	乡村农业人口 (百万)	乡村非农业人口 (百万)
1520	2.40	0.13	2.27	80	1.82	0.45
1600	4.11	0.34	3.77	76	2.87	0.90
1670	4.98	0.68	4.30	70	3.01	1.29
1700	5.06	0.85	4.21	66	2.78	1.43
1750	5.77	1.22	4.55	58	2.64	1.91
1801	8.66	2.38	6.28	50	3.14	3.14

——摘编自成德宁《英国前工业化时期的农业革命及其在社会转型中的作用》

- (1)根据材料一并结合所学知识,概括明清时期江南“早期工业化”的表现,并分析其原因。(12分)
- (2)根据材料二并结合所学知识,说明英国乡村工业发展的影响。(8分)
- (3)根据材料一、二并结合所学知识,简析中英乡村工业发展的当代启示。(5分)

43. 阅读材料,完成下列要求。(12分)

材料

文明是民族认同的标志,也是人类进步的标尺。文明嵌合自我与他者的比较和对话,也传递了后人对前人的批判和借鉴。作为“具有独特的历史连续性和文化传统同一性的大国”,当代中国的现代文明建构不仅与轴心时代以来文明发展规律相契合,更是在由传统中华文明与科技——工业文明的碰撞交融、民族复兴与人类解放的相通共达中所生成的一种新的文明形态。它的实然性和应然性在于这一民族叙事的新文明不是从头脑中想象出的“抽象逻辑的可能性”,而是在其展开过程中表明的“历史规律的必然性”。

——摘编自吴海江 徐伟轩《新文明的中国形态》

以“新文明的中国形态”为主题,参考材料信息,结合中国史相关知识,自拟一个具体论题并予以阐述。(要求:论题明确,论持有据,论证充分,表述清晰。)

44. 阅读材料,完成下列要求。(15分)

材料一

宋代蒙学有常年开课的私塾、义学、家塾等。私塾是塾师在自己家中设学教授,规模较小。教师以学生所交的少量现金或财物作为办学费用,其生活往往相当艰难,但这些教书先生热爱教育事业,为提高宋人的文化素养作出了积极贡献。宋代蒙学以识字、习文为主,同时也进行伦理道德和行为规范教育。由于蒙学设置相当普遍,城镇乡村处处都能听到琅琅读书声,这对培养儿童道德素质和增长知识有着难以估量的重要贡献。

——摘编自游彪《新编中国史:宋史》

材料二

法国在1881~1882年通过法律规定:7至13岁的儿童必须接受世俗化义务教育;小学完全免费,有关费用由地方和国家通过税收承担。由此,法国确立了初等教育改革的三原则:义务、免费、世俗化。为了坚定青少年的共和信念,加强其爱国主义情感,费里政府还决定对中小学生进行公民义务教育,而宗教教育只能在校外进行。在推行教育世俗化改革的过程中,费里还努力加强师范教育,提高师资水平,规定只有获得合格证书的人,才有资格执掌教鞭。与此同时,费里政府还大幅度增加教育经费,使教师的工资待遇、社会地位都有了显著提高。

——摘编自吕一民《法国通史》

- (1)根据材料一并结合所学知识,概括宋代蒙学教育推行的原因。(6分)
- (2)根据材料二,概括这一时期法国教育改革的措施。结合材料并结合所学知识,谈谈你对基础教育重要性的看法。(9分)

高三文科综合参考答案、提示及评分细则

1. A 建设地下商业空间的目的是缓解地上商业用地的不足,而相对于地上商业空间,地下商业空间存在一定的封闭性,导致其环境及排水要求更高,故建设地下商业空间应着重考虑消防、通风排烟和排水系统规划。
2. C 结合图文材料分析可知,成都市春熙路片区为传统商贸核心区,其地下商业空间辐射全市各类的消费人群,地下商业空间应具有更多公共属性,最可能为轴线式;火车北站片区为枢纽型的地下商业空间,旅客消费随机性强,应沿选择度高的轴线经营布置,最可能为独立式;环球中心片区为大型居住区,其周边的地下商业空间应以生活服务、体育休闲等业态为主导进行开发,以适应居民的生活需求,最可能为散点式。
3. A 结合所学知识分析可知,我国各大城市地下商业空间发展迅速,城市地面空间得以释放,用地紧张状况得到缓解;地下空间对于难以抗御的外部灾害如战争空袭、地震、风暴等具有较强的防御能力,可以作为灾害时的避难空间、防灾物资的储备仓库及救灾安全通道等;地下空间具有一定的恒温保温性,地下建筑物能量消耗比地面建筑物少;发展地下空间不能降低土地价格。
4. C 结合图文材料分析可知,我国港口的 FDI 地理分布都集中于沿海主要港口,外商的非对称性投资与我国港口能力结构的非均衡性发展相叠加,进一步加剧了我国港口空间发展和码头结构的不均衡性,不利于我国港口产业的长远发展。
5. B 据图并结合所学知识分析可知,最先进行改革开放的深圳、珠海、厦门等经济特区由于政策优势,率先吸引外商投资港口建设。随着浦东开发、环渤海经济圈等一系列政策鼓励,港口 FDI 逐渐向长江三角洲、环渤海地区转移。随着西部开发和东盟自由贸易区的推进,西南沿海特别是广西地区具有巨大的发展前景和市场潜力,我国港口建设的 FDI 区位格局出现西移现象。
6. A 分析可知,FDI 前期主要集中在珠江三角洲地区,而后转向长江三角洲、环渤海地区,目前出现西移现象,FDI 在港口群选择上体现的时间阶段性与我国经济格局的变迁具有很强的同步性,二者的关联性最大。
7. D 根据图示大风日数等值线分布图可知,甲地内层等值线数值可能为 230~240,故该地极大风速日数最可能为 235 天。
8. C 根据图示新疆主要城(县)极大风速日数的分布特征,呈现出多个低值区和高值区,主要是受气压场和地形的影响。
9. B 提高地表植被覆盖率,可以起到降低风速的效果,有利于减少新疆主要城(县)极大风速日数;扩大城市规模,地表硬化率提高,下垫面摩擦力减小,可能会导致新建主要城(县)极大风速日数增加;发展风力发电对减少新疆主要城(县)极大风速日数无明显影响;提高绿洲开发强度,会加剧周边地区地下水下降,导致原生植被退化,可能增加地区极大风速日数。
10. B 由材料可知,“砂山”垂直于长江河道,且呈条带状近乎平行排列,说明是常年在盛行风的吹拂下,由沉积物堆积而成;流水沉积形成的沙丘大致与河道平行,且呈线条状前后排列。
11. D “砂山”在 5~10 m 形成期间,沉积物平均粒径小,说明长江流水搬运用弱,径流量较小,再加上冬季风势力弱,粒径较大的沉积物难以经风吹拂至高处沉积,使之形成“砂山”的沉积物粒径变小。长江流水搬运能力弱,则说明该时期降水少;该时期冬季风势力弱,则冬季气温相对较高;故“砂山”在 5~10m 形成期间其环境特点为暖干。
12. D 材料强调奴隶社会代替原始社会是人类历史的进步,推动了社会的发展,使人类开始迈入文明时代,③④符合题意。古老的亚非大陆是世界上早期国家的发祥地,①说法不准确,不选。材料没有涉及奴隶社会代替原始社会的原因,②不符合题意。
13. C 上述观点的错误之处,在于没有看到从新民主主义向社会主义过渡的历史必然性。从国内看,个体农业经济难以适应新形势,迫切需要组织起来;从国际看,国际形势有利于中国加快向社会主义阵营的转变。这是从新民主主义向社会主义过渡的有利条件,②④符合题意。在当时,社会主义国营经济迅速发展,逐步成为社会经济中的主导性因素,①说法错误。党的八大召开在三大改造完成以后,③不符合题意。
14. B 材料中“在失业以后,社保的缴费等都会成为问题”等,强调再分配调节机制,并没有涉及初次分配问题,①正确,排除②;材料中没有涉及劳动者维权问题,④不选;③符合题意,入选。
15. B 强化个人住房贷款审慎管理,支持居民刚性居住需求,落实购地只能用自有资金的规定,严控购地加杠杆行为,都是金融部门采取的促进房地产市场健康发展的措施,有助于实现“房住不炒”,①④符合题意;征收房地产税的政策是财政部门的职权,与金融部门无关,排除②;上调金融机构购房贷款利率,会增加居民购房成本,居民购房会减少,排除③。
16. D 强调“我们唯有踔厉奋发、笃行不怠,方能不负历史、不负时代、不负人民”。为此,党必须坚持人民立场这一根本立场,坚持立党为公、执政为民的执政理念,全心全意为人民服务,③④入选;坚持以人为本,人民至上的价值取向,而不是公民至上,①错误;党开展各项工作的依据是客观实际、法律、党内法规等,不是人民的需求,②错误。

17. C 广西壮族自治区公安机关开展打击突出犯罪攻坚战,是履行专政职能,保障民主,维护社会秩序,②③符合题意;社会主义民主的广泛性在材料中没有体现,①不选;④的说法不被材料所反映,也不符合实际,不选。
18. D 诗人所处的客观条件不同,同时主观情感不同,体现意识能动创造性,②入选;雪景的描述都是对雪这一客观存在事物的反映,④入选;意识源自于客观存在,①排除;雪景的描述属于意识范畴,意识并非都是对客观现实的如实反映,③排除。
19. D 材料中 S 市积极探索推进综合行政执法体制改革,调整的是上层建筑,其依据是上层建筑一定要适应经济基础状况,改革是推动社会发展的重要动力,②④符合题意;题目没有涉及调整生产关系,①排除;在阶级社会,社会发展通过阶级斗争实现,在社会主义社会,社会发展通过改革实现,③排除。
20. A 从材料可以看出,节会期间举办多项群众文化演出活动,故①可选;从获田汉大奖的剧目可以推知②可选;材料没有体现“挖掘其商业价值”,故③不选;提供精神引领,应该是弘扬主旋律,而不是思想意识的多元性,④不选。
21. B 在各省和领地,由中央政府的代表负责维护国家利益、监督行政并且使法律获得遵守,表明地方单位坚持中央政权的统一领导,是典型的中央集权型单一制国家,故①④符合题意。②③是联邦制国家的特征,不符合题意,故②③不选。全科试题免费下载公众号《高中僧课堂》
22. D 丧偶儿媳对公婆,丧偶女婿对岳父母,尽了主要赡养义务的,可以作为第一顺序继承人,本案中甲为第一顺序继承人,可以继承遗产,①说法错误。50 万元的存款属于夫妻共同财产,其中 25 万应归王大爷老伴个人所有,剩余 25 万由王大爷老伴和甲、乙、丙共同继承,③说法错误。乙与王大爷虽有血缘关系,但因没有尽赡养义务,可以不分或少分遗产,②正确。对生活有特殊困难又缺乏劳动能力的继承人,分配遗产时应当予以照顾,本案中丙因失能在分配遗产时应予照顾,④正确。
23. C “世界上最大的发展中国家—中国”这一概念属于全同关系,C 属于全同关系,可选。情绪不仅包括喜怒哀乐,还包括惊、恐、思共七种情绪,故不属于全同关系,A 不选。父母、子女属于直系亲属,兄妹属于旁系血亲,故不是全同关系,B 不选。一天不仅包括早中晚,故也不符合全同关系,D 不选。
24. C 考查先秦思想。春秋战国时期,随着中国政治的发展和建立大一统政治的需要,尊君的思想越来越突出,各诸侯国的改革都纷纷加强君主权力,而加强君主权力就意味着“君”的地位上升和“民”之地位的下降,在这种时代背景下,“生民”及其代表的政治理念就显得不合时宜。这也是韩非子没有提到“生民”甚至认为“生民”“和他的政治理念相冲突”的重要原因,故 C 项正确。材料只是提到儒家和法家对待“生民”态度的不同,并未涉及文化间的对立及诸子学说的多样性,故排除 A、D 两项;先秦儒家代表人物孟子和荀子及法家代表人物韩非子都代表的是新兴封建地主阶级的利益,故排除 B 项。
25. B 考查魏晋时期的选官制度。结合材料中“由吏部‘直接任命’而起家的人,约占总入仕者的半数”“两晋高级士族子弟由吏部铨选入仕的占 50%”等信息可知,两晋时期,选官权逐渐集中到中央,有利于中央集权的加强,故 B 项正确。材料涉及多种选官制度,且材料中体现不出九品中正制是首选的选官方式,故排除 A 项;材料反映社会阶层在正常流动,并未固化,故排除 C 项;科举制度的端倪与材料信息无关,故排除 D 项。
26. A 考查唐代的农耕文化与丝织业发展。结合材料中“象征着丰收的丝绸图案”“以丰收命名的丝绸”“瑞雪飞舞丰年到”等信息可知,唐代的丝绸不仅技艺高超,在图案选择上选择承载农业丰收的场景,寄托了唐人对于农业丰收的美好愿景,是中华文明重视农耕技术的时代象征,故 A 项正确。材料与昂扬上进的时代风貌无关,故排除 B 项;丝织技术转型是在元代,故排除 C 项;材料并未涉及中西文化交流,故排除 D 项。
27. D 考查清代的经济思想。结合材料中“将商贾之理财视为居家之急务”“希望寄托于经商之上”等信息可知,明清时期,随着社会经济的发展和工商业的日益繁荣,商贾与士农并列为业,人们的经商观念出现巨大变化,说明农本商末观念受到冲击,故 D 项正确。A 项说法太绝对,故排除;B 项出现是在明朝中后期,故排除;商业伦理指的是商业价值观念中的义利观,材料中不涉及,故排除 C 项。
28. B 考查太平天国运动。根据题干,“不准逾越”“东王驾出……如敢对面行走者斩首不留”,这些太平天国颁布的礼制规定,其实质不过是一个新的封建与专制的中央集权的等级森严的王朝而已,这与人民的利益不符,故 B 项正确。太平天国的这些规定并未推动中国近代化的进程,故排除 A 项;由材料可知,这并未打破封建思想的束缚,故排除 C 项;结合所学知识可知,太平天国的阶级属性并未发生变化,仍是属于农民阶级,故排除 D 项。
29. C 考查新文化运动。根据材料可知,新文化的三位代表人物,鲁迅主张要救治中国“其首在立人”,陈独秀则表示“人间百行,皆以自我为中心”,李大钊“鼓励人们特立独行,以觉醒之我,实现青春之我”,三者的共同点是打破束缚,倡导人的解放,故 C 项正确。民主科学是关于个人与国家的关系,而材料提及的是个人的解放问题,故排除 A 项;批判伦理纲常只是部分目的,最终目的是人的解放且材料中并未对伦理纲常进行批判,故排除 B 项;文学革命的倡导者为胡适,且材料未提及其内容,故排除 D 项。
30. D 考查南京国民政府的经济建设。根据时间“1935 年之前,南京国民政府在重工业建设上始终难以投入较多的资源”及所学知识可知,1936 年的《国防工业三年计划》是在世界经济大危机和日本侵华加剧的背景下实行的,在“统制经

- 济思想的指导下”“金融改革与金融统制、重工业建设和铁矿统制，以及交通运输建设”等国防建设方面取得了一定的成效，这在一定程度上为以后抗战的胜利准备了一定条件，故 D 项正确。南京国民政府借鉴了而不是完善了苏联的经济发展模式，故排除 A 项；官僚资本的规模急剧扩张是在全面抗战爆发后，故排除 B 项；《国防工业三年计划》主要是调整金融和发展重工业，并未实现国民经济的协调发展，故排除 C 项。
31. B 考查新中国过渡时期的农业建设。结合材料中“1955 年”“允许社员有小块的自留地”“不能超过……平均数的百分之五”等信息可知，面对当时农业合作化运动中农民纷纷加入合作社形成的经济工作问题，党中央及时对合作化运动中存在的问题进行了调整，适应了当时农村经济发展的需求，故 B 项正确。社员允许有自留地并不等于农村市场化，故排除 A 项；农村经济调整是在 1960 年以后，故排除 C 项；社会主义经济体系确立是在 1956 年，故排除 D 项。
32. D 考查古代埃及的商业。根据“金银、铜块按照不同重量储存起来……交易双方的商业价值”可知，当时商业有所发展，根据“但是不会用黄金、白银进行直接交换”，且物物交换的情况还很普遍可知，当时商业发展水平有限，故 D 项正确。材料反映的不是借贷关系，故排除 A 项；此时的贵金属是起到了价值尺度的作用，还没有成为流通货币，故排除 B 项；材料内容无法体现契约意识，故排除 C 项。
33. D 考查启蒙运动。根据材料“不强迫任何人去做法律所不强迫他做的事，也不阻止任何人去做法律所许可他做的事，就要防止滥用权力”可知，这一观点强调权力不能滥用，这需要对权力进行制约；“行政权力的受任者绝不是人民的主人……只要人民愿意就可以委任他们，也可以撤换他们”表明政府的行政权必须接受人民的制约与监督，两者的共同点都反映了对权力进行制约，故 D 项正确。孟德斯鸠的该观点未体现人民主权原则，故排除 A 项；能够对权力进行制约并非强调实行民主共和制，故排除 B 项；个人独立自由两则材料均未体现出，故排除 C 项。
34. C 考查英国的工业革命。根据材料并结合所学知识可知，工业革命发生之前，英国经济发展过程中国家干预的因素突出，但随着工业革命的推进“对输出品的限制、东印度公司对印度贸易垄断、谷物条例、航海条例的逐步废除”等都是自由主义的体现，结合材料中“都很好解释了这一历史发展的因果关系”这一信息，可知材料可用来说明工业革命促进了自由主义的发展，故 C 项正确。工业革命推动社会关系出现变革，使以家庭和社群结合形成的部落等在社会中的作用逐渐被削弱，国家和市场的功能不断增强可知，工业革命是一次完整的社会革命，A 项在题干中体现不出来，故排除；国际分工、科技与工业的结合在题干中体现不出来，故排除 B、D 两项。
35. A 考查世界政治格局。根据材料“在冷战结束到 2007 年美国次贷危机爆发这个阶段，单极化趋势总体上较为明显；2008 年全球金融危机爆发之后，多极化趋势更加凸显”可知，世界金融危机客观上助推了世界多极化趋势的发展，故 A 项正确。世界政治格局短时期内趋于稳定，并非变幻莫测，故排除 B 项；C 项不符合史实，故排除；D 项并未反映材料主旨，故排除。
36. (1)大豆种植面积减少，总产量减少；大豆育种等研发技术投入少，种子退化，单产低且大豆品质较差；国内大豆生产人工、土地等成本高，价格优势降低；巴西等国家规模化种植，大豆进口成本低，进口量大冲击国内大豆市场等。（每条 2 分，答对 3 条得 6 分，共 6 分）
- (2)地广人稀，以平原、高原为主，耕地面积大；大部地处热带，大豆种植热量充足；技术研发投入大，大豆单产及品质高；国家政策支持等。（每条 2 分，答对 3 条得 6 分，共 6 分）
- (3)特征：主要种植在中西部和南部地区；东南部、东北部地区种植较少；北部地区种植最少。（每条 2 分，答对 2 条得 4 分，共 4 分）劣势：河网密布，耕地破碎且洪灾多发；土地淋溶作用强，土壤肥力低；森林密布，耕地开发难度大，大豆可种植面积少；人口稀少，劳动力不足；气温过高，大豆单产低。（每条 2 分，答对 2 条得 4 分，共 4 分）
- (4)差异：南部大豆产量大于东南部。（2 分）原因：东南部城市、人口众多，产业发达，农业用地少；东南部地势起伏较南部大，耕地质量较差等。（从“南部”角度回答亦可，每条 2 分，答对 1 条得 2 分，共 2 分）
- (5)增加大豆育种等技术投入，提高单产；适当扩大大豆种植面积，提高总产量；加大对农户种植大豆的补贴力度，提高农户种植大豆的积极性；进行海外“屯田种植”，建立海外大豆生产基地等。（每条 2 分，答对 2 条得 4 分，共 4 分）
37. (1)夏季多暴雨，降水集中且强度大，汛期径流量大；支流众多，流域状如芭蕉扇形，汛期时汇水时间短；丘陵起伏，河谷相间，落差大，流速快等。（每条 2 分，共 6 分）
- (2)“牯牛水”携沙量大，可为农田补充营养物质；带来大量淡水，可淋盐、排盐，减轻土壤盐碱化程度等。（每条 3 分，共 6 分）
- (3)排涝；拦沙；供水；农田灌溉；水产养殖；旅游观光；发电等。（每条 2 分，答对 4 条得 8 分，共 8 分）
- (4)主要危害：“牯牛水”流速快，集水速度快，易诱发洪灾；“牯牛水”侵蚀搬运能力强，导致流域内水土流失严重；大量泥沙随“牯牛水”进入水库后淤积，导致水库库容减小等。（每条 2 分，答对 2 条得 4 分，共 4 分）应对措施：上游落差较大的地区，植树造林，涵养水源；中游兴建水利设施，水库清淤，增加库容；下游开挖排水管道，减轻积水导致的洪灾等。（每条 2 分，答对 2 条得 4 分，共 4 分）
38. ①能有效应对经济下行压力，刺激社会总需求增长，激发经济发展内生动力，促进国民经济平稳运行，拉动经济稳步复苏；（3 分）②减少企业税收支出，减轻企业运营负担，激发市场主体活力；（3 分）③提升企业创新能力，帮助制造业转型

- 升级,提升智造能力,推动供给侧结构性改革,为经济持续向好注入更强劲动力;(3分)④通过延长补助链条,为中小微企业主体减负,稳增长、保就业,提升职工工资,促进共同富裕;(3分)⑤通过大力支持实体经济,铸牢现代化经济根基,推动经济高质量发展。(2分)(其他答案,符合题意,可酌情给分)
39. 公益诉讼制度,是维护国家利益和人民利益的制度保障,也是以法治思维和法治方式推进国家治理体系和治理能力现代化的一项重要制度安排;(3分)我国探索建立公益诉讼制度,有利于发挥法律监督的核心保障作用,捍卫全社会的公平正义,捍卫宪法和法律权威;(3分)有利于顺应新时代人民群众对美好生活的新期待,切实维护人民群众的合法权益;(3分)我国探索建立公益诉讼制度,对于社会大众、行政机关、检察机关、审判机关如何更好守法执法司法,推动依法治国,共同加强公益保护,也具有重要积极意义。(3分)(其他答案,符合题意,可酌情给分)
40. ①“雷锋精神”是中华民族精神的表现,该公司明知“雷锋”文字具有特定意义,仍擅自用于商业宣传进行商业活动从中获利,误导公众,侵害了雷锋同志的人格权(或:姓名权、名誉权),曲解了“雷锋精神”,损害了人民群众对雷锋的特定感情,侵害了社会公共利益,不利于弘扬社会主义核心价值观。(4分)②该公司应立即停止以雷锋名义进行的宣传和经营,并公开道歉,消除侵权行为造成的不良社会影响。(4分)(其他答案,符合题意,可酌情给分)
41. (1)①“履不必同,期于适足”“我们不能要求所有花朵都变成紫罗兰这一种花”运用的是形象思维。形象思维抽象、概括的是事物的形象特征,以感性形象作为思维的基本单元,主要特征是基本单元的形象性、运行方式的想象性和思维表达的情感性。(3分)②“治不必同,期于利民”“我们也不能要求有着不同文化传统、历史遭遇、现实国情的国家都采用同一种发展模式”运用的是抽象思维。抽象思维抽象和概括了事物的共同属性,以概念作为思维的基本单元,主要特征是基本单元的概念性、运行方式的推导性和思维表达的严谨性。(3分)(其他答案,符合题意,可酌情给分)
- (2)①矛盾的普遍性和特殊性相互联结。各国的文明形态、社会制度等存在差异,具有特殊性,但无论选择何种发展模式,何种治理方式,都要适合本国国情,要利于民族发展,这是人类的共同价值追求,是普遍性;这一思想启示我们要坚持矛盾普遍性和特殊性的具体的历史的统一。(4分)②人民是社会历史的主体。各国人民的发展道路、治理方式都要持续造福人民,利于民族发展,这启示我们要坚持群众观点和群众路线,以人为本。(4分)③价值判断和价值选择要自觉站在最广大人民的立场上。各国的发展道路只有利民才是最有生命力,这启示我们要把维护人民的利益作为自己最高的价值追求。(4分)(其他答案,符合题意,可酌情给分)
42. (1)表现:以家庭手工业制造业为主业,重织轻耕;出现雇佣工人;劳动力市场形成;工商业人口比重的增大;产品面向市场以及出口。(6分,任答三点即可)原因:农业、手工业的发展;赋役制度改革推动了农民人身控制的松弛;重农抑商政策的松动;世界市场的进一步拓展;白银成为主要流通货币。(6分,任答三点即可)
- (2)影响:乡村工业发展带动了人口增长,人口增长又促进经济发展到新阶段;为英国由农业社会向工业社会转变奠定了基础;吸纳了乡村剩余劳动力,利于人民生活水平的提高;促进了英国城市化的发展;加快了封建经济的土崩瓦解。(8分,任答四点即可)
- (3)启示:调整农业产业结构,推动整个产业结构比例关系协调发展;大力发展乡村工商业解决农村剩余劳动力问题;稳定社会秩序,维护生态平衡;推动乡村城市化,防止人口过于集中到大城市;推动乡村工业也是推动整个国家的现代化;要顺势而为,大力发展乡镇企业,对于农村经济发展和美丽乡村建设具有重大影响。(5分,其他言之有理亦可)
43. 示例:
论题:新中国的民主政治建设是符合中国国情的必然选择。(2分)
阐述:新中国成立后,社会主义民主政治在我国确立,形成了人民代表大会制度、中国共产党领导的多党合作和政治协商制度、民族区域自治制度,这一民主政治建设是符合中国国情的必然选择。中国传统思想文化中的“民本”“和合”思想,为新中国的民主政治建设提供了思想渊源。同时,近代以孙中山为首的资产阶级实行民主共和制以及以蒋介石为首的资产阶级建立的国民政府,代表的都是资产阶级利益,并未代表广大人民群众利益,因而他们的政权在中国最终失败。1947年,内蒙古自治区的成立是中共在新中国成立前实行民族区域自治政策、解决民族问题的成功实践。新中国的成立和国民经济的恢复,为新中国的民主政治建设奠定了政治基础和经济基础。(8分)
总之,在中国共产党的领导下,通过广大人民群众在各领域的共同努力,建立了符合中国国情的民主政治体系。因此,新中国的民主政治建设是符合中国国情的必然选择。(2分)
44. (1)原因:教师的奉献精神;儒学的复兴及理学的发展;印刷术的进步促进教育发展;统治者的重视;选拔人才的需要。(6分,任答三点即可)
- (2)措施:制定法律保障教育;推行义务教育,限制宗教教育;制定教育改革原则;加大教育经费投入;严控教师资质;着力提高教师地位、待遇。(5分,任答三点即可)看法:基础教育对儿童和青少年人格和价值观形成、爱国主义;社会责任感的培养具有重要作用;政府应高度重视基础教育,发挥教育的培养、塑造人的功能;对促进家庭、学校、社会形成合力,齐抓共管,共同承担育人责任有推动作用。(4分,言之有理即可)

关于我们

北京高考在线创办于 2014 年，隶属于北京太星网络科技有限公司，是北京地区极具影响力的中学升学服务平台。主营业务涵盖：北京新高考、高中生涯规划、志愿填报、强基计划、综合评价招生和学科竞赛等。

北京高考在线旗下拥有网站门户、微信公众平台等全媒体矩阵生态平台。平台活跃用户 40W+，网站年度流量数千万量级。用户群体立足于北京，辐射全国 31 省市。

北京高考在线平台一直秉承 “精益求精、专业严谨” 的建设理念，不断探索 “K12 教育+互联网+大数据” 的运营模式，尝试基于大数据理论为广大中学和家长提供新鲜的高考资讯、专业的高考政策解读、科学的升学规划等，为广大高校、中学和教科研单位提供 “衔接和桥梁纽带” 作用。

平台自创办以来，为众多重点大学发现和推荐优秀生源，和北京近百所中学达成合作关系，累计举办线上线下升学公益讲座数百场，帮助数十万考生顺利通过考入理想大学，在家长、考生、中学和社会各界具有广泛的口碑影响力

未来，北京高考在线平台将立足于北京新高考改革，基于对北京高考政策研究及北京高校资源优势，更好的服务全国高中家长和学生。



微信搜一搜

北京高考资讯