

历史 试 卷

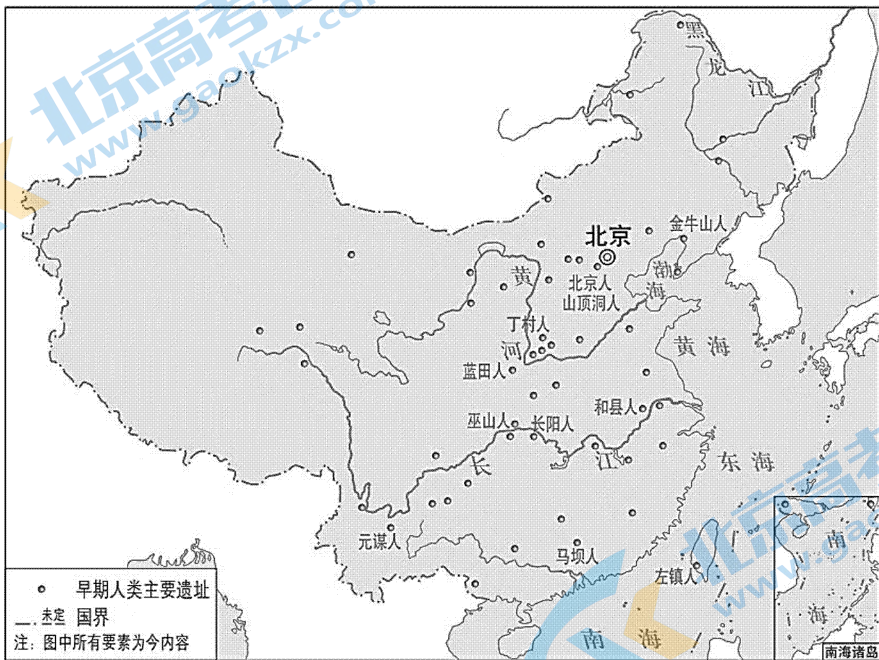
2023 · 1

本试卷共 9 页，共 100 分。考试时长 90 分钟。考生务必将答案答在答题卡上，在试卷上作答无效。考试结束后，将答题卡交回。

第一部分 选择题（共 60 分）

本部分共 40 小题，每小题 1.5 分，共 60 分。在下列每小题列出的四个选项中，选出最符合题目要求的一项。

1. 下图是中国旧石器时代重要人类遗址分布图。从图中可以获得的历史信息是

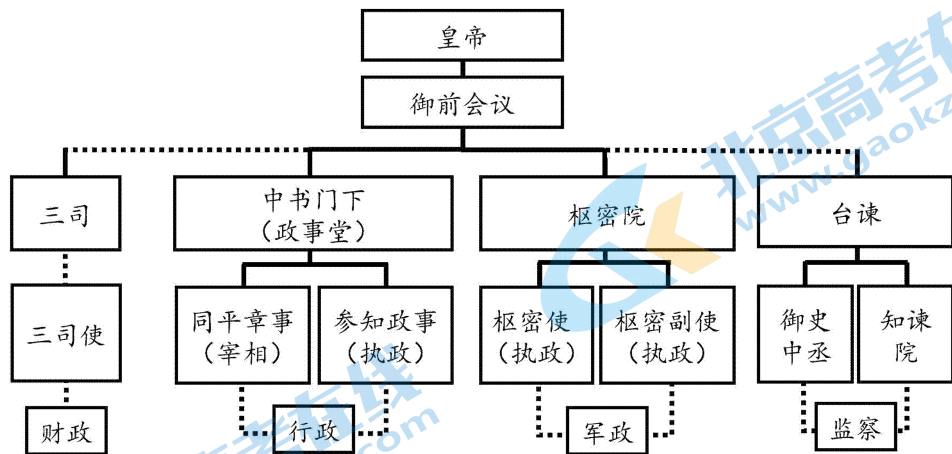


- A. 中国早期人类遗址分布广泛
 B. 社会贫富分化与不平等出现
 C. 此时以打磨的方法制作石器
 D. 部落联盟间的战争非常频繁
2. 关于启的继位，《史记·夏本纪》写道：“益（禹晚年培养的接班人）让帝禹之子启。”《战国策·燕策一》记载：“启与支党攻益，而夺之天下，是禹名传天下于益，其实令启自取之。”古书中的记载说明
- ①启的继位并非一帆风顺
 ②禹建立了奴隶制国家
 ③关于启继位有不同解释
 ④这两种解释都不可信
- A. ①②
 B. ①③
 C. ②③
 D. ②④
3. 春秋时期，某一学派思想观念的核心是“仁”，这一学派主张“克己复礼”“为政以德”。该学派是
- A. 道家
 B. 儒家
 C. 法家
 D. 墨家

4. 战国时期，各国为了富国强兵，纷纷推行变法，形成一股潮流。各国的变法
- A. 推动了社会转型
B. 推翻了君主专制统治
C. 结束了兼并战争
D. 加强了周天子的权力
5. 汉初统治集团尊奉黄老无为思想，将恢复发展经济、稳定社会作为首要任务，并取得了显著效果。下列现象与此效果相关的是
- A. 文景之治
B. 光武中兴
C. 贞观之治
D. 开元盛世
6. 汉武帝将全国分为 13 个监察区，称为 13 州部，每州部设刺史 1 名。这一措施是为了
- A. 加强军事防备
B. 扩大疆域版图
C. 增加财政收入
D. 加强中央集权
7. 《宋书》是记载南朝第一个王朝刘宋历史的史书，其中描述道：“地广野丰，民勤本业，一岁或稔，则数郡忘饥。”这一现象出现的原因是
- ①江南自然条件优越
②北方大批人口南迁
③南方长期基本和平
④全国割据局面结束
- A. ①②③
B. ①②④
C. ①③④
D. ②③④
8. 下面“笔记卡片”记录的是中国古代某政权改革的措施。据此可知，该政权是
- A. 西晋
B. 东晋
C. 北魏
D. 南宋
- ①迁都：将都城从平城迁到洛阳

②移风易俗：改籍贯、易服饰、说汉语、改汉姓
9. 山西悬空寺始建于北魏太和十五年（491 年），三教殿为全寺最高的建筑，内奉孔子像、老子像和释迦牟尼佛像。这反映出魏晋南北朝时期
- A. 思想呈现多元特征
B. 科技走在世界前列
C. 中国文化向外传播
D. 书法艺术大放异彩
10. 隋文帝时，中央正式确立了三省六部制。隋唐时期，三省的职权分工明确，又彼此制约。三省分别负责“草拟皇帝诏令”“审核诏令，有不妥者驳回”“执行”。下列关于其运行流程表述正确的是
- A. 中书省→门下省→尚书省
B. 中书省→尚书省→门下省
C. 门下省→尚书省→中书省
D. 尚书省→中书省→门下省
11. 唐高宗时，朝廷组织编修新的药典。这部药典后来成为世界上最早由国家颁行的药典，它是
- A. 《黄帝内经》
B. 《千金方》
C. 《唐本草》
D. 《本草纲目》
12. 780 年，唐德宗接受宰相杨炎的建议，改革赋税制度，规定“户无主客，以现居为簿，人无丁中，以贫富为差……居人之税，秋、夏两征之”。这一制度的影响是
- A. 促使平民家庭的士人参政
B. 扩大了南北方经济之间的差距
C. 消除了地主和农民的矛盾
D. 减轻了政府对农民的人身控制
13. 唐朝时，江南农民在长期生产中将耕犁改进为一种轻便的短曲辕犁。这种犁成为当时最先进的耕具，在江南水田地方推广。至此，耕犁基本定型。以上史实描述的是
- A. 政治制度的创新
B. 社会经济的发展
C. 文学艺术的繁荣
D. 中外文化的交流

14. 下图是某朝中央权力分配示意图，这个朝代是



- A. 秦朝 B. 西汉 C. 北宋 D. 明朝

15. 北宋官员宋祁曾上疏说：“今天下有定官无限员……州县不广于前，而官五倍于旧。”这一现象

- A. 拓展了对外贸易的范围 B. 提高了政府机构的效率
C. 改变了崇文抑武的观念 D. 加重了国家的财政负担

16. 宋朝是中国古代商品经济发展的一个高峰。下列史实能够佐证这一观点的是

- ①各民族政权之间经济往来密切 ②外贸税收成为国库重要财源
③面向大众的基层市场蓬勃涌现 ④形成了实力雄厚的商人群体

- A. ①②③ B. ①②④ C. ①③④ D. ②③④

17. 宋朝理学家朱熹认为“物皆有理”，只有深刻探究万物，才能真正得到其中的“理”。据此可知，他主张

- A. 隆礼重法 B. 兼爱非攻 C. 格物致知 D. 致良知

18. 中国古代在科技方面取得了巨大成就。下列人物及其科技成就按朝代顺序排列正确的是

- ①贾思勰——《齐民要术》 ②蔡伦——改进造纸术
③郭守敬——《授时历》 ④沈括——《梦溪笔谈》

- A. ①②③④ B. ②①④③ C. ②①③④ D. ①③②④

19. 元朝不仅版图辽阔，而且对边疆地区实施了长时间和比较稳定的统治。下列属于元朝地方管理措施的是

- ①由直属中央政府的宣政院管理吐蕃
②在全国共设10个行省
③设北庭都元帅府、宣慰司等加强管理西域
④在台湾设府，隶属福建省

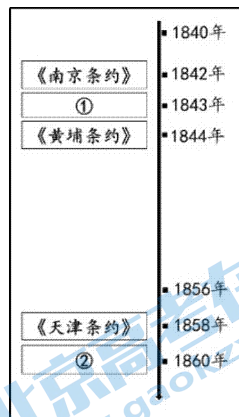
- A. ①②③ B. ①②④ C. ①③④ D. ②③④

20. 明太祖说：“自秦始置丞相，不旋踵而亡。汉唐宋因之，虽有贤相，然其间所用者，多有小人，专权乱政。”鉴于此，他采取的措施是

- A. 废分封制 B. 设立郡县 C. 废除宰相 D. 置军机处

21. 郑和下西洋是世界航海史上的壮举。郑和的船队先后到达亚非 30 多个国家和地区，最远到达非洲东海岸和红海沿岸。所到之处，郑和及随行人员都要访问当地的首领，赠送物品，表达通好的意愿，同时与当地居民进行交易。由此可见郑和下西洋
- A. 有利于明朝与亚非诸国的交往 B. 加剧了明朝东部沿海的危机
C. 给明朝带来了巨大的财政收入 D. 标志着明朝海禁政策的结束
22. 《明神宗实录》中这样描述 17 世纪初苏州丝织业发展的状况：“染坊罢而染工散者数千人，机户罢而织工散者又数千人，此皆自食其力之良民也。”这种现象反映了
- A. 经济重心南移已经完成 B. 明政府放弃了重农抑商
C. 新的经营方式工场出现 D. 大批工商业市镇的兴起
23. 明末清初社会的剧烈动荡，促进了思想界的活跃。有一位思想家称专制帝王为“天下之大害”，提出“工商皆本”，他是
- A. 陆九渊 B. 王守仁 C. 李贽 D. 黄宗羲
24. 康雍乾时期，部分官员向皇帝单独呈送密封报告，皇帝亲手批阅后返回，不经过其他中转、收发环节，形成了_____制度。横线处应填写的是
- A. 三公九卿 B. 中外朝 C. 土司 D. 奏折

25. 右图是某同学在学习两次鸦片战争时制作的时间轴，其中②应为



- A. 《虎门条约》
B. 《望厦条约》
C. 《北京条约》
D. 《马关条约》
26. 魏源是近代中国最早开眼看世界的人之一，他在自己的著作中指出：“是书何以作？曰：为以夷攻夷而作，为以夷款夷而作，为师夷长技以制夷而作。”这部著作是
- A. 《四洲志》 B. 《海国图志》
C. 《瀛寰志略》 D. 《资政新篇》
27. 下面是某同学在学习了“戊戌维新运动”相关内容后所做的总结。其中④属于

为挽救民族危机，维新派掀起一场旨在救亡图存的戊戌维新运动。1898年6月，
①
光绪帝在维新派推动下，颁布“明定国是”诏书。此后的变法诏令涉及政治、
②
经济、军事、文化、教育等方面除旧布新的措施。戊戌维新运动对于推动中国民族
③
资本主义的发展和新思想的传播，起到了积极作用，在一定程度上冲击了旧式
④
官僚体制。

- A. 历史原因 B. 历史事实 C. 历史过程 D. 历史评价

35. 中国抗日战争是世界反法西斯战争的重要组成部分，中国战场是世界反法西斯战争的东方主战场。以下史实能够证明此结论的是
- ①中国向德、奥两国宣战，加入协约国 ②中国战场协助和配合盟军作战
③中国积极倡导建立世界反法西斯同盟 ④中国远征军开赴缅甸救援英军
- A. ①②③ B. ①②④ C. ①③④ D. ②③④
36. 党的二十大闭幕不到一周，中共中央总书记、国家主席、中央军委主席习近平带领中共中央政治局常委专程从北京前往陕西延安，瞻仰延安革命纪念地，重温革命战争时期党中央在延安的峥嵘岁月。以下史事属于这段“延安的峥嵘岁月”的是
- A. 第一个农村革命根据地建立
B. 古田会议确立建党建军原则
C. 中华苏维埃共和国宣布成立
D. 中共七大提出党的政治路线
37. 毛泽东在《解放战争第二年的战略方针》中提出：“我军第二年作战的基本任务是：举行全国性的反攻，即以主力打到外线去，将战争引向国民党区域，在外线大量歼敌。”依据这一方针，中国共产党采取的重大军事行动是
- A. 孟良崮战役 B. 千里跃进大别山
C. 辽沈战役 D. 渡江战役
38. 1949年2月21日《浙南周报·画刊》刊登了漫画《老百姓帮助自己的军队打敌人》，内容是老百姓帮助解放军“探听敌情，放哨带路，运送子弹，送菜送饭，救护受伤解放军，搬运战利品。”这反映了
- A. 全中国各民族人民团结一心抗战
B. 封建土地制度已经被彻底废除
C. 农村革命根据地得到进一步巩固
D. 中国共产党得到了民众的支持
39. 新中国成立后，面临很多亟待解决的困难。为此，人民政府作出的一系列巩固新生政权的决策有
- ①土地改革 ②三大改造
③稳定物价 ④剿匪镇反、抗美援朝
- A. ①②③ B. ①②④ C. ①③④ D. ②③④
40. 20世纪50年代中期，周恩来在印度尼西亚举行的亚非会议上强调“中国代表团是来求团结而不是来吵架的”，会议最终通过了《关于促进世界和平和合作宣言》。在这次会议上
- A. 中国第一次提出“和平共处五项原则”
B. 中国鲜明地提出了“求同存异”的方针
C. 印度支那问题由于中国作出的努力得以政治解决
D. 中国全方位外交布局彰显中国特色大国外交新辉煌

第二部分 非选择题（共40分）

本部分共2小题，共40分。

41. (20分) 统一多民族国家的建立与发展

①


（秦始皇）南登琅邪……立石刻，颂秦德，明得意。曰：

……器械一量，同书文字……六合之内，皇帝之土。西涉流沙，南尽北户。东有东海，北过大夏。人迹所至，无不臣者。功盖五帝，泽及牛马。莫不受德，各安其宇。

……今皇帝并一海内，以为郡县，天下和平。昭明宗庙，体道行德，尊号大成。群臣相与诵皇帝功德，刻于金石，以为表经。

——《史记·秦始皇本纪》

②



秦始皇琅琊刻石
(中国国家博物馆馆藏)

(1) 指出①②的史料类型，简述上述材料中秦朝的制度措施及其影响。(6分)

隋朝及唐前期鼎盛局面的出现，与一些具体制度的制定和贯彻有密切关系。

科举是隋唐时期新兴的一种选官制度，其主要特点是通过考试选拔官员。因为有多种科目，“分科举人”，故名科举。其中以明经、进士二科最为重要。明经主要考试帖经，重在测试记诵能力。进士考时务策、帖经、杂文，杂文为主要录取标准。与过去重点在于推荐的察举相比，科举体现出不问出身与背景、公平竞争的特色。

——摘编自张帆《中国古代简史》

(2) 依据材料，概括隋唐科举制度的特点。结合所学，分析科举制度的作用。(4分)

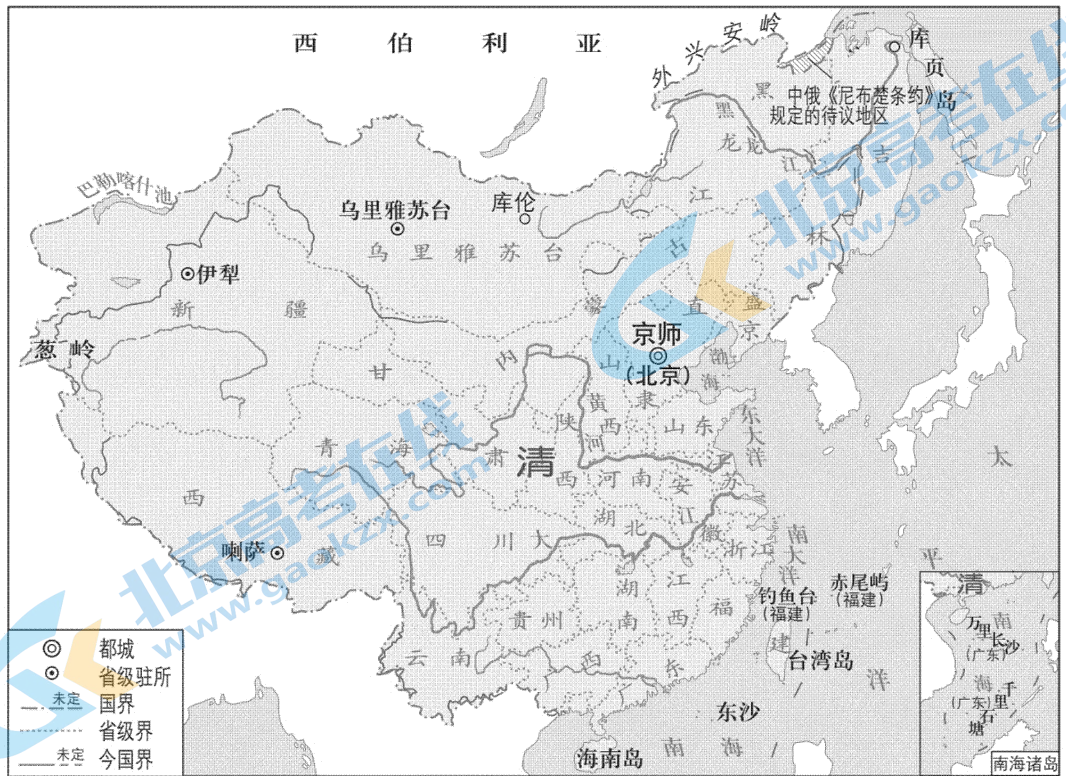
胡人之官，领番中职事者皆胡服，谓之契丹官，枢密、宰臣则曰北枢密、北宰相。领燕中职事者，虽胡人亦汉服，谓之汉官，执政者则曰南宰相、南枢密。

——余靖《武溪集》卷18《契丹官仪》

其官分文武班，曰中书，曰枢密，曰三司，曰御史台，曰开封府，曰翊卫司，曰官计司，曰受纳司，曰农田司，曰群牧司，曰飞龙院，曰磨勘司，曰文思院，曰蕃学，曰汉学。自中书令、宰相、枢使、大夫、侍中、太尉已下，皆分命蕃汉人为之。

——《宋史·夏国上》

(3) 结合所学，谈谈你对两则材料中共同历史现象的认识。(4分)



清朝疆域图（1820年）

(4) 依据上图指出清朝的疆域四至，说明清朝疆域奠定对后世的影响。（6分）

42. (20分) 中国的奋斗

在洋务新政推动下，近代军事工厂由当初以手工制作为主的安庆内军械所，发展到1890年时的21个局厂。各省督抚为了强化本辖区内的武装力量，也纷纷自筹经费创办机器局，于是中小型机器局相继出现。其中，大中型军事工厂有10个，均可制造新式枪炮、弹药、机器和冶炼钢铁，成为近代中国经济产业结构中最早的一批现代机器生产企业。

——王先明《中国近代史》

(1) 依据材料并结合所学，概括洋务新政中近代军事企业的特点。（4分）

我们革命的目的是为众生谋幸福，因不愿少数满洲人专利，故要民族革命；不愿君主一人专利，故要政治革命；不愿少数富人专利，故要社会革命。这三样有一样做不到，也不是我们的本意。达了这三样目的之后，我们中国当成为至完美的国家。

——孙中山《在东京〈民报〉创刊周年庆祝大会的演说》

(2) 依据材料，概括孙中山的革命思想。结合所学，说明在这些思想下孙中山进行了哪些革命活动。(6分)

经历过无数次深重灾难的中华民族与中国人民将永远记得这个可珍贵的时刻：它宣布了旧中国完全死亡，宣布了人民的新中国的诞生。中国，中国人，将不再是屈辱的殖民地与殖民地奴隶的代名词，而要永远地受到全世界爱好和平民主的人民的尊敬了。中国人民从此有了屹立于世界和平民主阵营的祖国，有了真能保护自己、代表自己的政府。

——林韦《记中央人民政府成立盛典》

(3) 材料中“这个可珍贵的时刻”指的是哪一时间？结合所学，简述新中国诞生的意义。(4分)

序号	大事
①	1980年，中央决定在深圳、珠海、汕头、厦门设立经济特区
②	1997年，中共十五大召开，邓小平理论被确立为党的指导思想
③	2001年，中国正式加入世界贸易组织
④	2010年，中国经济总量跃升至世界第二位，成为仅次于美国的第二大经济体
⑤	2017年，中共十九大召开，习近平新时代中国特色社会主义思想被确立为党的指导思想
⑥	2013年至2019年，中国对全球经济增长的年均贡献率接近30%

(4) 从上表中任选两个事件，写出序号，提炼一个主题，结合所学对主题进行说明。(6分)

关于我们

北京高考在线创办于 2014 年，隶属于北京太星网络科技有限公司，是北京地区极具影响力的中学升学服务平台。主营业务涵盖：北京新高考、高中生涯规划、志愿填报、强基计划、综合评价招生和学科竞赛等。

北京高考在线旗下拥有网站门户、微信公众平台等全媒体矩阵生态平台。平台活跃用户 40W+，网站年度流量数千万量级。用户群体立足于北京，辐射全国 31 省市。

北京高考在线平台一直秉承 “精益求精、专业严谨” 的建设理念，不断探索 “K12 教育+互联网+大数据” 的运营模式，尝试基于大数据理论为广大中学和家长提供新鲜的高考资讯、专业的高考政策解读、科学的升学规划等，为广大高校、中学和教科研单位提供 “衔接和桥梁纽带” 作用。

平台自创办以来，为众多重点大学发现和推荐优秀生源，和北京近百所中学达成合作关系，累计举办线上线下升学公益讲座数百场，帮助数十万考生顺利通过考入理想大学，在家长、考生、中学和社会各界具有广泛的口碑影响力

未来，北京高考在线平台将立足于北京新高考改革，基于对北京高考政策研究及北京高校资源优势，更好的服务全国高中家长和学生。



微信搜一搜

北京高考资讯