

2023 届“皖南八校”高三第三次大联考

数 学

北京高考在线
www.gkzox.com

考生注意：

1. 本试卷分选择题和非选择题两部分。满分 150 分，考试时间 120 分钟。

2. 考生作答时，请将答案答在答题卡上。选择题每小题选出答案后，用 2B 铅笔把答题卡上对应题目的答案标号涂黑；非选择题请用直径 0.5 毫米黑色墨水签字笔在答题卡上各题的答题区域内作答，超出答题区域书写的答案无效，在试题卷、草稿纸上作答无效。

3. 本卷命题范围：高考范围。

一、选择题：本题共 8 小题，每小题 5 分，共 40 分。在每小题给出的四个选项中，只有一项符合题目要求。

1. 已知集合 $A = \{x \in \mathbb{Z} \mid \frac{x-3}{x+1} \leq 0\}$, $B = \{y \mid y = x^2, x \in A\}$, 则集合 $A \cup B$ 的非空真子集的个数为

A. 14

B. 15

C. 30

D. 62

2. 已知复数 z 满足 $iz = \frac{1+\sqrt{2}i}{1+i}$ (i 为虚数单位), 则复数 z 在复平面内对应的点所在的象限为

A. 第一象限

B. 第二象限

C. 第三象限

D. 第四象限

3. 给出下列四个命题，其中正确命题为

A. “ $\forall x > 0, x^2 + x > 1$ ”的否定是“ $\exists x_0 > 0, x_0^2 + x_0 < 1$ ”

B. “ $a > \beta$ ”是“ $\sin a > \sin \beta$ ”的必要不充分条件

C. $\exists \alpha, \beta \in \mathbb{R}$, 使得 $\sin(\alpha + \beta) = \sin \alpha + \sin \beta$

D. “ $a > b$ ”是“ $2^a > 2^b$ ”的充分不必要条件

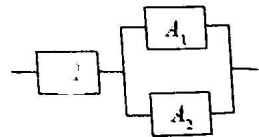
4. 如图，用 M, A_1, A_2 三类不同的元件连接成一个系统，当 M 正常工作且 A_1, A_2 至少有一个正常工作时，系统正常工作，已知 M, A_1, A_2 正常工作的概率依次是 $\frac{1}{2}, \frac{3}{4}, \frac{3}{4}$ ，已知在系统正常工作的前提下，则只有 M 和 A_1 正常工作的概率是

A. $\frac{5}{9}$

B. $\frac{3}{4}$

C. $\frac{1}{9}$

D. $\frac{1}{9}$



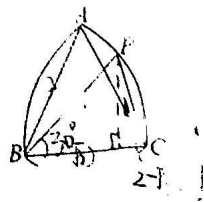
5. 勒洛三角形是一种典型的定宽曲线，以等边三角形每个顶点为圆心，以边长为半径，在另两个顶点间作一段圆弧，三段圆弧围成的曲边三角形就是勒洛三角形。在如图所示的勒洛三角形中，已知 $AB = 2$, P 为弧 AC 上的一点，且 $\angle PBC = \frac{\pi}{6}$ ，则 $\vec{BP} \cdot \vec{CP}$ 的值为

A. $4 - \sqrt{2}$

B. $4 + \sqrt{2}$

C. $4 - 2\sqrt{3}$

D. $4 + 2\sqrt{3}$



6. 已知函数 $f(x) = \sqrt{3} \sin^2 x + \cos x - \sin^2 x + \frac{1}{2}$, 则下列结论正确的有

- A. $|f(x)|$ 的最小正周期为 (2π)
- B. 直线 $x = \frac{\pi}{3}$ 是 $f(x)$ 图象的一条对称轴
- C. $f(x)$ 在 $(0, \frac{\pi}{2})$ 上单调递增
- D. 若 $f(x)$ 在区间 $[\frac{\pi}{2}, m]$ 上的最大值为 1, 则 m

7. 已知 $f(x)$ 是定义在 \mathbf{R} 上的奇函数, 其图象关于点 $(2, 0)$ 对称, 当 $x \in (0, 2)$ 时, $\sqrt{1 - (x-1)^2}$, 若方程 $f(x) + k(x-2) = 0$ 的所有根的和为 6, 则实数 k 的取值范围是

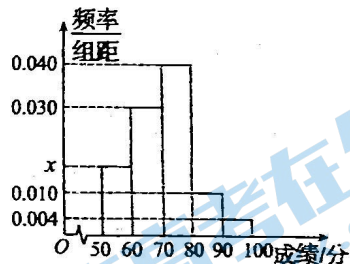
- A. $\{\frac{\sqrt{2}}{4}\} \cup (-\infty, -\frac{\sqrt{6}}{12})$
- B. $\{\frac{1}{12}\} \cup (-\infty, -\frac{\sqrt{6}}{12})$
- C. $\{-\frac{\sqrt{2}}{4}\} \cup (\frac{\sqrt{6}}{12}, +\infty)$
- D. $\{-\frac{\sqrt{2}}{4}\} \cup (-\frac{\sqrt{6}}{12}, +\infty)$

8. 已知函数 $f(x) = me^{x-n} - x - n - 1 (m, n \in \mathbf{R})$, 若 $f(x) \geq -1$ 对任意的 $x \in \mathbf{R}$ 恒成立, 则 mn 的最大值是

- A. e^{-2}
- B. $-e^{-2}$
- C. e^{-1}
- D. $-e^{-1}$

二、选择题: 本题共 4 小题, 每小题 5 分, 共 20 分. 在每小题给出的选项中, 有多项符合题目要求. 全部选对的得 5 分, 部分选对的得 2 分, 有选错的得 0 分.

9. 在某市高三年级举行的一次模拟考试中, 某学科共有 20 000 人参加考试. 为了了解本次考试学生成绩情况, 从中抽取了部分学生的成绩 (成绩均为正整数, 满分为 100 分) 作为样本进行统计, 样本容量为 n . 按照 $[50, 60)$, $[60, 70)$, $[70, 80)$, $[80, 90)$, $[90, 100]$ 的分组作出频率分布直方图如图所示. 其中, 成绩落在区间 $[50, 60)$ 内的人数为 16. 则下列结论正确的是



- A. 图中 $x = 0.016$
- B. 样本容量 $n = 1\ 000$
- C. 估计该市全体学生成绩的平均分为 70.4 分
- D. 该市要对成绩前 25% 的学生授予“优秀学生”称号, 则授予“优秀学生”称号的学生考试成绩大约至少为 77.25 分

10. 已知正实数 a, b, c 满足 $a^2 - ab + 4b^2 - c = 0$, 当 $\frac{c}{ab}$ 取最小值时, 下列说法正确的是

- A. $a = 2b$
- B. $c = 4b^2$
- C. $\frac{2}{a} + \frac{1}{b} - \frac{6}{c}$ 的最大值为 1
- D. $\frac{2}{a} + \frac{1}{b} - \frac{6}{c}$ 的最小值为 $\frac{1}{2}$

11. 已知正方体 $ABCD - A_1B_1C_1D_1$ 棱长为 4, M 为棱 CC_1 上的动点, $AM \perp$ 平面 α , 则下列说法正确的是

- A. 若 N 为 DD_1 中点, 当 $AM + MN$ 最小时, $\frac{CM}{CC_1} = 1 - \frac{\sqrt{2}}{2}$
- B. 当点 M 与点 C_1 重合时, 若平面 α 截正方体所得截面图形的面积越大, 则其周长就越大
- C. 直线 AB 与平面 α 所成角的余弦值的取值范围为 $[\frac{\sqrt{2}}{2}, \frac{\sqrt{6}}{3}]$
- D. 当点 M 与点 C 重合时, 四面体 AMD_1B_1 内切球表面积为 $\frac{16\pi}{3}$

12. 已知抛物线 $C: x^2 = 2y$ 的焦点为 F , 准线为 l , A, B 是 C 上异于点 O 的两点 (O 为坐标原点)

则下列说法正确的是

- A. 若 A, F, B 三点共线, 则 $|AB|$ 的最小值为 2
- B. 若 $|AF| = \frac{3}{2}$, 则 $\triangle AOF$ 的面积为 $\frac{\sqrt{2}}{4}$
- C. 若 $OA \perp OB$, 则直线 AB 过定点 $(2, 0)$
- D. 若 $\angle AFB = 60^\circ$, 过 AB 的中点 D 作 $DE \perp l$ 于点 E , 则 $\frac{|AE|}{|DE|}$ 的最小值为 1

三、填空题: 共 4 小题, 每小题 5 分, 共 20 分.

13. 函数 $f(x) = \begin{cases} -x+4, & x \leq 2, \\ 1+\log_2 x, & x > 2 \end{cases}$ 的值域是 $[-1, 1]$

14. 某企业五一放假 4 天, 安排甲、乙、丙、丁四人值班, 每人只值班一天. 已知甲不安排在第一
天, 乙不安排在最后一天, 则不同的安排种数为 18 .

15. 过双曲线 $C: \frac{x^2}{a^2} - \frac{y^2}{b^2} = 1 (a > 0, b > 0)$ 右焦点 F 的直线 l 与双曲线 C 的一条渐近线垂直, 垂足
为点 A , O 为坐标原点, 若 $\angle OAF$ 的角平分线与 x 轴交于点 M , 且点 M 到 OA 与 AF 的距
离都为 $\frac{b}{3}$, 则双曲线 C 的离心率为 $\frac{5}{3}$.

16. 已知四面体 $ABCD$ 的四个顶点都在球 O 的球面上, $\triangle ADC$ 是边长为 2 的等边三角形,
 $\triangle ADC$ 外接圆的圆心为 O' . 若四面体 $ABCD$ 的体积最大时, $\angle BAO' = \frac{\pi}{3}$, 则球 O 的半径为
 $\frac{2\sqrt{21}}{3}$; 若 $AB = BC = \frac{\sqrt{21}}{3}$, 点 E 为 AC 的中点, 且 $\angle BED = \frac{2\pi}{3}$, 则球 O 的表面积为
 20π . (本题第一空 2 分, 第二空 3 分)

四、解答题: 共 6 小题, 共 70 分. 解答应写出文字说明、证明过程或演算步骤.

17. (10 分)

2022 年卡塔尔世界杯是第二十二届世界杯足球赛, 是历史上首次在卡塔尔和中东国家境内
举行, 也是第二次在亚洲举行的世界杯足球赛. 卡塔尔世界杯后, 某校为了激发学生对足球
的兴趣, 组建了足球社团. 足球社团为了解学生喜欢足球是否与性别有关, 随机抽取了男、女
同学各 100 名进行调查, 统计得出的数据如下表:

	喜欢足球	不喜欢足球	合计
男生		50	
女生	25		
合计			

(1) 根据所给数据完成上表, 试根据小概率值 $\alpha = 0.001$ 的独立性检验, 分析该校学生喜欢足
球与性别是否有关.

(2) 社团指导老师从喜欢足球的学生中抽取了 2 名男生和 1 名女生示范点球. 已知男生进球
的概率为 $\frac{3}{4}$, 女生进球的概率为 $\frac{1}{3}$, 每人踢球一次, 假设各人踢球相互独立, 求 3 人进球
总次数的分布列和数学期望.

附: $\chi^2 = \frac{n(a_1 - b_1)(a_2 - b_2)}{(a_1 + b_1)(a_1 + b_2)(a_2 + b_1)(a_2 + b_2)}$, $a + b + c + d = n$.

α	0.050	0.010	0.001
χ_α^2	3.841	6.635	10.828

【“毓八”高三第三次大联考·数学 第 3 页(共 4 页)】

HD

18. (12分)

已知 $\triangle ABC$ 的内角 A, B, C 的对边分别为 a, b, c ,且 $\cos A + \sqrt{3} \sin A = \frac{b+a}{c}$.

(1)求角 C ;

(2)设 BC 的中点为 D ,且 $AD = \sqrt{3}$,求 $a+2b$ 的取值范围.

19. (12分)

在数列 $\{a_n\}$ 中, $a_1=0$,且对任意的 $n \in \mathbb{N}^*$,都有 $a_{n+1} - a_n = 2^n$.在等差数列 $\{b_n\}$ 中,前 n 项和为 S_n , $b_1=2, 2b_3 + S_5 = 28$.

(1)求数列 $\{a_n\}$ 和 $\{b_n\}$ 的通项公式;

(2)设 $c_n = \frac{b_n}{a_{2n} + 2} (n \in \mathbb{N}^*)$,求数列 $\{c_n\}$ 的前 n 项和 T_n .

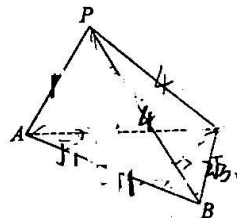
16

20. (12分)

如图,在三棱锥 $P-ABC$ 中, $\triangle ABC$ 为直角三角形, $\angle ACB = 90^\circ$, $\triangle PAC$ 是边长为4的等边三角形, $PB=4, BC=2\sqrt{3}$.

(1)求证:平面 $PAB \perp$ 平面 ABC ;

(2)求二面角 $A-PB-C$ 的余弦值.

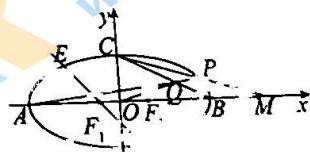


21. (12分)

如图,椭圆 $\Gamma: \frac{x^2}{16} + \frac{y^2}{b^2} = 1 (0 < b < 4)$ 的左、右焦点分别为 F_1, F_2 ,点 A, B, C 分别为椭圆 Γ 的左、右顶点和上顶点, O 为坐标原点,过点 F_1 的直线 l 交椭圆 Γ 于 E, F 两点,线段 EF_2 的中点为 $(0, \frac{1}{2})$.点 P 是 Γ 上在第一象限内的动点,直线 AP 与直线 BC 相交于点 Q ,直线 CP 与 x 轴相交于点 M .

(1)求椭圆 Γ 的方程;

(2)设 $\triangle OCQ$ 的面积为 $S_1, \triangle OCM$ 的面积为 S_2 ,求 $S_1 \cdot S_2$ 的值.



22. (12分)

若对任意的实数 k, b ,函数 $y = f(x) + kx + b$ 与直线 $y = kx + b$ 总相切,则称函数 $f(x)$ 为“恒切函数”.

(1)判断函数 $f(x) = x^3$ 是否为“恒切函数”;

(2)若函数 $f(x) = \frac{1}{2}(e^x - x - 1)e^x + m$ 是“恒切函数”,求证: $-\frac{1}{8} < m \leq 0$.

HD