

# 2022 北京东城初三一模

## 历史

2022. 5

学校 \_\_\_\_\_ 班级 \_\_\_\_\_ 姓名 \_\_\_\_\_ 教育 ID 号 \_\_\_\_\_

考生须知

1. 本试卷共 12 页，24 道小题，满分 70 分。考试时间为 70 分钟。
2. 在试卷和答题卡上准确填写学校、班级、姓名和教育 D 号。
3. 试题答案一律填涂或书写在答题卡上，在试卷上作答无效。
4. 在答题卡上，选择题用 2B 铅笔作答，其他试题用黑色字迹签字笔作答。
5. 考试结束后，将本试卷、答案卡和草稿纸一并交回。

### 第一部分

选择题（共 30 分）本部分共 20 小题，每小题 1.5 分，共 30 分。在每小题列出的四个选项中，选出最符合题目要求的一项。

1. 10000 多年前，中华大地进入新石器时代。此后，农业逐渐产生和发展起来。以下遗址中，能为我们了解祖先的农业活动提供证据的是

①	北京人遗址	北京人生活在距今约 70 万-20 万年
②	河姆渡遗址	距今约 7000 年
③	良渚遗址	良渚古城距今 5300-4300 年
④	陶寺遗址	陶寺都城遗址距今 4300-4000 年

- A. ①②③                      B. ②③④                      C. ①③④                      D. ①②④

2. 殷墟出土的文物对人们识别甲骨文提供了一些帮助。通过以下示意图，我们可以看出

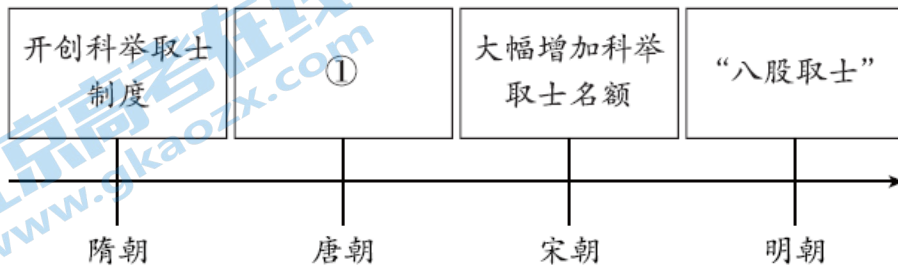


- A. 甲骨文是刻写在青铜器、陶器上的文字  
 B. 甲骨文记载的内容仅仅涉及祭祀和饮食  
 C. 象形是甲骨文使用的重要造字方法之一  
 D. 我国有文字可考的历史是从周朝开始的
3. 有学者认为：汉武帝雄才大略，英明果断，完成了汉王朝的政治重建和文化重建。其史实依据有
- A. 分封制、百家争鸣                      B. 郡县制、焚书坑儒  
 C. 休养生息、无为而治                      D. “推恩令”、尊崇儒术
4. 以下是中国古代一位历史人物的部分经历。对此解读正确的是

时间	471 年	490 年	494 年	499 年
----	-------	-------	-------	-------

事件	年幼即皇帝位，由祖母冯太后临朝听政	正式亲政，受冯太后影响，继续推行改革	力排众议，迁都洛阳，并进一步推行汉化措施	崩，葬于长陵
----	-------------------	--------------------	----------------------	--------

- A. 该帝王即位导致外戚宦官交替专权  
B. 该帝王亲政标志三国鼎立局面形成  
C. 皇帝苻坚任用汉人为相锐意改革  
D. 北魏孝文帝改革促进了民族交融
5. 二十四节气历法起源于黄河流域，为农民准确把握农作物耕、种、收的农时提供保障。下列著作中强调农业生产要遵循自然规律，不误农时的是
- A. 《伤寒杂病论》  
B. 《齐民要术》  
C. 《大唐西域记》  
D. 《红楼梦》
6. 以下是某一专题知识示意图，图中①处应填写的是



- A. 进一步完善三省六部制  
B. 进士科成为最重要科目  
C. 实行开明的民族政策  
D. 实行重文轻武的政策
7. 右侧材料共同说明了清朝
- A. 恢复发展生产  
B. 限制对外贸易  
C. 重视加强海防  
D. 巩固国家统一
- 1684年，清朝设置台湾府，隶属福建省。  
1727年，清朝在西藏设置驻藏大臣。  
1762年，清朝设置伊犁将军。
8. 历史学家孟世杰认为，一场战争导致中国“藩篱尽撤，外力交侵”，成为中国“近百年忧患之种原”。他所指的这场战争应是
- A. 鸦片战争  
B. 第二次鸦片战争  
C. 甲午战争  
D. 八国联军侵华战争
9. 2020年，在江苏考察调研的习近平总书记来到南通博物苑参观。他赞扬了这位创办南通博物苑的近代实业家，在兴办实业的同时，积极兴办教育和社会公益事业，造福乡梓，帮助群众，影响深远，是中国民营企业家的先贤和楷模。这位实业家是
- A. 卢作孚  
B. 侯德榜  
C. 张謇  
D. 詹天佑

10. 右图反映了一系列历史事件，这些历史事件的意义有

- ①推翻了清王朝的反动统治，结束了君主专制制度
- ②是中国共产党独立领导武装斗争、创建革命军队的开始
- ③拉开了中国革命从城市转入农村、建立根据地的序幕
- ④保存了党和红军的基干力量，使中国革命转危为安

- A. ①②
- B. ②③
- C. ①④
- D. ③④



11. 以下两首歌曲创作于 20 世纪 30 年代，当时意在唤起民众

歌曲	词、曲作者	歌词（部分）
《义勇军进行曲》	田汉、聂耳	中华民族到了最危险的时候，每个人被迫着发出最后的吼声。起来！起来！起来！
《保卫黄河》 (《黄河大合唱》组曲之一)	光未然、冼星海	端起了土枪洋枪，挥动着大刀长矛，保卫家乡！保卫黄河！保卫华北！保卫全中国！

- A. “扶清灭洋”
- B. “打倒列强，除军阀”
- C. “打倒日本帝国主义”
- D. “打过长江去，解放全中国”

12. 有学者论述道：在中国共产党百年历史中，这一年以社会主义制度在中国的建立而载入党的史册，同时又以开始探索中国自己的建设社会主义的道路而载入党的史册。材料中的“这一年”

- A. 宣告中华人民共和国成立
- B. 开始分批进行土地改革
- C. 确立了人民代表大会制度
- D. 基本上完成了三大改造


13. 右图是中国乒乓球博物馆陈列的一个砂纸贴画球拍展品。画中的两个人物分别是毛泽东主席和尼克松总统，下面一行英文写的是“乒乓外交”。这场“乒乓外交”推动了

- A. 中国与苏联正式建交
- B. 中国参加日内瓦会议
- C. 万隆会议的圆满成功
- D. 中美关系走向正常化



14. 右图是一位同学制作的主题小报插图，其主题应是

- A. 贯彻新时代军事战略方针
- B. 坚持独立自主和平外交政策
- C. 铸牢中华民族共同体意识
- D. 全面准确地贯彻“一国两制”



15. 下表①和②处应填写

1492年， <u>①</u> 从西班牙出发，率领船队横渡大西洋，“发现”美洲，拓展了人们对世界未知地域的认知。	1831年， <u>②</u> 从英国出发，以博物学家身份随船进行了近5年的环球航行，为其提出进化论准备了重要科学素材。
--	--

A. ①哥伦布 ②麦哲伦

B. ①哥伦布 ②达尔文

C. ①牛顿 ②麦哲伦

D. ①牛顿 ②达尔文

16. 钱乘旦先生在《英国通史》中写道，它作为新国王登基的条件，其中多数条款都是“英国人自古就有的”权利，比如只有议会才可以征税，议会应该定期召开等。材料中的“它”指的是

A. 《权利法案》

B. 《独立宣言》

C. 《人权宣言》

D. 《拿破仑法典》

17. 美国历史上的两次资产阶级革命，一次摆脱了英国的殖民统治，一次废除了奴隶制，都为美国的资本主义发展扫除了障碍。与此相关的史实是

①美国独立

②拉丁美洲独立运动

③南北战争

④1861年农奴制改革

A. ①③

B. ①④

C. ②③

D. ②④

18. 有学者指出，到20世纪初，世界上已经没有未被占领的领土，然而欧洲帝国扩张的渴望仍无法满足。于是，国际秩序变成一场零和游戏（注：一方所赢正是另一方所输），在日益紧张的关系和互相怨恨的气氛中，欧洲大国的领导人创建了一系列联盟。这“一系列联盟”

A. 催化了第一次世界大战

B. 形成了亚洲战争策源地

C. 结成世界反法西斯同盟

D. 加快了欧洲一体化进程

19. 一位同学的历史小论文中出现了以下关键词：“互联网”“虚拟现实技术（VR）”“人工智能（A）”“线上教学”。他研究的主题应是

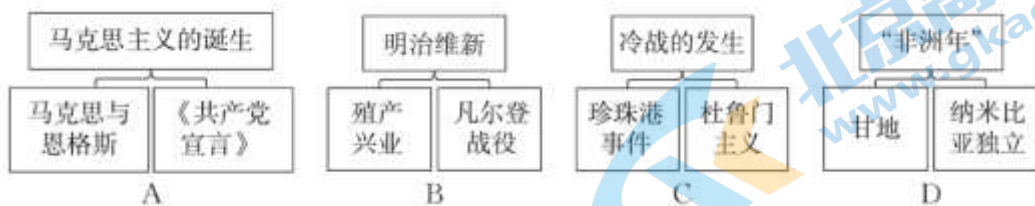
A. 生态问题

B. 人口问题

C. 计算机网络

D. 化工新材料

20. 绘制示意图梳理知识结构是历史学习的重要方法。以下示意图正确的是



第二部分

材料分析题（共40分）

21. （10分）青年是国家和民族的希望。

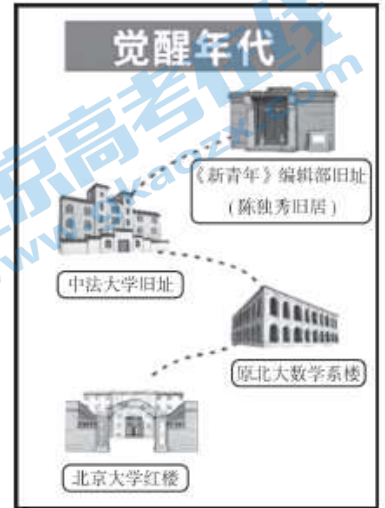
材料一

人物	时期	青少年时期经历
司马迁	西汉	从小勤奋好学，饱读书籍。青年时游历名山大川，实地考察风土人情，搜集历史材料，立志撰写史书。
祖冲之	南北朝	从小机敏好学，博览古籍。青年时进入华林学省（皇家藏书和讲学的地方），从事学术活动，他治学严谨，从不盲从。
李时珍	明代	从小对医药学产生浓厚兴趣，潜心钻研前人的医学著作。

	青年时随父行医，其间发现以往药书有不少错误和遗漏。
--	---------------------------

(1) 依据材料一，概括三位历史人物青少年时期经历的共同点。(1分) 从材料一中任选一位历史人物，结合所学，概括其历史贡献。(2分)

材料二 2021年，北京市东城区推出《薪火传承——东城区党史游学地图》，重点打造了五条党史游学推荐线路。其中，“觉醒年代”线路(见右图)集中展现了时代青年唤起民族觉醒的呐喊声。



(2) 结合所学，运用一则史实，说一说这一线路被命名为“觉醒年代”的理由。(2分)

材料三 新中国成立以来共青团中央授予模范个体的荣誉称号(部分)

年份	荣誉称号	个体姓名	相关事迹
1951年	模范青年团员	郝建秀	青岛国棉六厂工人。改进了“细纱工作法”，以吃苦耐劳、无私奉献精神和创新精神为国家纺织工业的发展做出了贡献。
1952年	模范青年团员	罗盛教	中国人民志愿军战士。在抗美援朝战争中，因救助溺水的朝鲜儿童而牺牲，彰显着革命英雄主义和国际主义精神。
1982年	优秀共青团员	钟铎(huá)	北京市长辛店铁路中学学生。身患白血病却始终保持革命乐观精神同病魔作斗争，以拼搏精神刻苦学习、助人为乐、奉献社会。
1983年	优秀共青团员	张海迪	作家。儿时因患病导致高位截瘫，以不屈精神自学了小学、中学的全部课程和多门外语，成长为作家。

(3) 依据材料三，分析这些表彰发挥的作用。(1分) 结合所学，列举与罗盛教同时期的一位战斗英雄及其事迹。(2分)

材料四 2021年7月1日，在庆祝中国共产党成立100周年大会上，共青团员和少先队员代表集体致献词：“请党放心，强国有我！”

(4) 结合以上所有材料和自身实际，为“请党放心，强国有我”提出一个行动建议。(2分)

22. (11分) 改革是历史发展的产物。

材料一 商鞅变法对秦国社会产生了极大的影响。它成功地把秦民全部变成了国家工具：①一种是生产工具，为国家增加财富；②一种是战争工具，为国家拓展疆土。

——摘编自白效咏、黄朴民《天地大变局与帝国秩序重构》

(1) 结合所学，分别写出与材料一中①和②相对应的商鞅变法内容。(2分) 写出商鞅变法对秦国的影响。(1分)

材料二 新经济政策实施后，很快在实践中取得了明显成效。由于允许多种形式的经营和多种经济成分的合作与并存，对于活跃市场、发展贸易，实现对外开放、对内搞活，具有重要作用，有效地恢复和发展了工农业生产，满足了劳动者的经济要求，巩固了工农联盟，使新生的苏维埃政权有了稳定的阶级基础和社会基础。新经济政策实施后的第二年即 1922 年，苏俄工业总产值增长 36.6%，农业在遭受自然灾害的情况下，谷物产量仍增长了 20%。

——《社会主义发展简史》

(2) 依据材料二并结合所学，写出新经济政策取得的成效。(2分)

材料三 1933 年以来美国政府颁布的主要救济计划(部分)

起始时间	结束时间	内容
1933 年	1935 年	设立联邦紧急救济署
1935 年	至今	失业保险计划
1935 年	1974 年	老年人援助计划
1935 年	1974 年	盲人援助计划
1935 年	1996 年	未成年儿童援助计划
1937 年	1946 年	设立农业保障署

——整理自爱德华·格莱泽等《腐败与改革—美国历史上的经验教训》

(3) 依据材料三，概括这些救济计划的主要特点。(1分) 结合所学，指出这些救济计划颁布的背景。(2分)

材料四 农村改革是中国农民的伟大创造。改革首先在农村取得突破和成功不是偶然的，它是由我国基本国情和当时农村经济发展困境决定的。党的十一届三中全会为农村改革提供了重要的思想前提，创造了良好的政治环境，广大农村基层干部和亿万农民为改变农村面貌和自身命运，勇敢冲破不利于生产力发展的旧体制，从而掀起了波澜壮阔的改革大潮。

——《中国共产党简史》


(4) 结合所学，写出“中国农民的伟大创造”的具体内容。(1分) 依据材料四，概括“改革首先在农村取得突破和成功”的因素。(2分)

23. (10分) 玻璃在人类文明发展史上发挥着重要作用。

材料一 优质玻璃镜子的发展，与 14 世纪前后新思潮的发展几乎完全同步。因为寓于绘画和其他艺术形式的新思潮的中心意大利和尼德兰，它们正是制造和使用镜子的最发达地区。借助镜子，画家以不同的眼光看到了世界，把自己从芸芸众生中分离出来，得以更加仔细地审视自己，于是以新的眼光发现了自我。

——摘编自艾伦·麦克法兰《玻璃的世界》

(1) 依据材料一并结合所学，写出“以新的眼光发现了自我”反映出的思想主张。(1分) 结合所学，分析这一思想主张的影响。(2分)

		
<p>①西汉弦纹玻璃杯</p> <p>1987年，在广西合浦县文昌塔70号汉墓出土。据考证，该玻璃杯材质系中国生产，形制亦系中国设计，但其技术是从西方传入。</p>	<p>②莫奈的油画</p> <p>《圣拉扎尔火车站》(局部)</p> <p>该画描绘的是19世纪法国巴黎圣拉扎尔火车站的场景。莫奈捕捉到光线穿过玻璃顶棚射向火车喷出的蒸汽烟云的画面，他曾写道：这恰恰是一种奇妙的场景。</p>	<p>③1929年爱迪生在纪念其发明白炽灯泡50周年庆典上的照片</p> <p>1879年，爱迪生把碳化棉灯丝放入玻璃球内，再将球内抽成真空，由此大大延长了灯丝的寿命，随后发明了耐用的白炽灯泡。</p>

(2) 从材料二中找出能说明以下主题的资料。(3分。写序号，多选、错选不得分)

工业革命推动艺术发展：\_\_\_\_\_

中西方文明交流：\_\_\_\_\_

人类社会进入“电气时代”：\_\_\_\_\_

材料三 王大珩(héng)(1915-2011)是中国光学事业奠基者，国家“两弹一星”元勋，“改革先锋”称号获得者。1953年底，王大珩带领团队成功熔制出第一炉光学玻璃，结束了我国不能制造光学玻璃的历史。1956年国家制定《1956年至1967年全国科学技术发展远景规划》之后短短数年，王大珩带领团队相继研制出了被称为“八大件一个汤”的科研仪器(“八大件”指8种光学仪器，“一个汤”指融化态光学玻璃)，奠定了我国国产精密仪器的基础。1964年，我国第一颗原子弹成功爆炸，其中有王大珩和团队研制的大型光学测试仪器的贡献。1970年，“东方红一号”卫星发射成功，他和团队研制的对地观测相机，带回了清晰的地面图像。



毛主席观看王大珩和团队研制的“八大件”之一“高精度经纬仪”

(3) 依据材料三，概括王大珩及其团队取得的成就。(2分) 结合所学，写出取得这些成就的背景。(2分)

24. (9分) 水是人类生产生活不可或缺的宝贵资源。

材料一 北京自来水博物馆坐落于1908年成立的京师自来水公司旧址。

	<p>①来水亭</p> <p>是对原水进行沉淀消毒的场所。这座建筑的整体风格属于欧式建筑，但其又运用了中国宝顶的顶饰造型。</p>
	<p>②蒸汽机房</p> <p>蒸汽机房内部设有两台当年从德国进口的蒸汽机，将水厂内消毒处理后的自来水通过蒸汽机抽送到水塔上。</p>
<p>诸位街坊台鉴：</p> <p>我们公司办这个自来水，是奉皇上旨意办的，全集的是中国股，全用的是中国人，不是净为图利啊。只因水这个东西，是人人不可离的，一个不干净，就要闹病，天气暑热，更是要紧。所以开市以后，凡是明白人，没有不喜欢这个水的。又有一种不明白的人，楞造谣言，说是洋水啦、洋胰子（注：肥皂）水啦，我们傻同胞，也就有信的，龙头安到门口，也是不要。</p>	<p>③京师自来水公司在 20 世纪初的报纸上刊登的广告（节选）</p>

(1) 依据材料一，写出京师自来水公司折射出的近代中国经济和社会生活的历史信息。(3分)

材料二 据统计，2008 年与 1978 年相比，以广州、深圳为中心的珠江三角洲地区供水量增加了 11 倍，用水人口增加了 12 倍，供水管道长度增加 26.5 倍，均比全国增长的速度快。同时，以上海为中心，包括江苏南部、浙江东部沿海的长江三角洲地区供水量增加 4.5 倍，用水人口增加 3.2 倍，供水管道长度增加 15.4 倍，各项的增幅也居全国前列。

(2) 依据材料二，概括珠江三角洲和长江三角洲 30 年间供水情况出现的变化。(2分) 结合所学，分析变化的原因。(2分)

(3) 一位同学为准备“人类的用水智慧”主题班会，正在搜集历史上的相关案例。请你结合所学，帮助推荐一个历史案例并说明理由。(2分)



# 参考答案

## 第一部分 选择题（共 30 分）

题号	1	2	3	4	5	6	7	8	9	10
答案	B	C	D	D	B	B	D	A	C	B
题号	11	12	13	14	15	16	17	18	19	20
答案	C	D	D	C	B	A	A	A	C	A

## 第二部分 材料分析题（共 40 分）

21. (10 分)

(1) 共同点：从小勤奋好学，阅读大量书籍，重视实践活动等。（1 分）

任选一位历史人物概括其历史贡献：

人物：司马迁；贡献：写出不朽的历史巨著《史记》，这是中国古代第一部纪传体通史；（2 分）

人物：祖冲之；贡献：把圆周率精确到小数点后的第七位数字，这项成果领先世界近千年等；（2 分）

人物：李时珍；贡献：编写出《本草纲目》，总结了我国古代药物学成就，丰富了我国医药学宝库。（2 分）

(2) 例：理由：1915 年，陈独秀创办《青年杂志》，正式吹响新文化运动的号角。《青年杂志》从第二卷起改名为《新青年》。后来《新青年》杂志社迁往北京，成为新文化运动最为重要的阵地之一。新文化运动使中国人民接受了一次民主与科学的洗礼，掀起了一股思想解放的潮流，推动了民族的觉醒。掀起了一股思想解放的潮流，推动了民族的觉醒。（2 分）（2 分）

(3) 作用：引领、带动广大青年投入到学习和生产建设中，成长为国家的有用人才。（1 分）

例：黄继光是抗美援朝战争上甘岭战役的一位战斗英雄。他奋不顾身，用自己的胸膛堵住敌人的机枪射口，为战友开辟了前进道路，自己英勇牺牲。（2 分）

(4) 行动建议：结合材料和自身实际，言之成理、价值观正确，即可得分。（2 分）

22. (11 分)

(1) ①：鼓励耕织，生产粮食、布帛多的人可免除徭役；②：奖励军功，对有军功者授予爵位并赏赐土地。（2 分）

影响：商鞅变法使秦国的国力大为增强，提高了军队战斗力，为以后秦国统一全国奠定了基础。（1 分）

(2) 成效：调动了生产者的积极性，有效地恢复和发展了工农业生产，巩固了工农联盟，促使国民经济稳步发展。(2分)

(3) 特点：采用国家干预手段；救济范围广；持续时间长等。(1分。答出1点即给分)

背景：1929年经济大危机爆发。1933年罗斯福就任美国总统，宣布实施新政。(2分)

(4) 内容：家庭联产承包责任制(或分田包干到户)。(1分)

因素：我国的基本国情；当时农村经济发展困境；党的十一届三中全会的重要决策；农民的首创精神等。(2分。答出2点即给分)

23. (10分)

(1) 思想主张：人文主义。(1分)

影响：以人文主义为思想核心的文艺复兴运动兴起，促进了人们思想的人解放，推动了资本主义的发展。(2分)

(2) ②：(1分) ①：(1分) ③：(1分)

(3) 成就：在科学研究和国防建设领域取得诸多成就。(2分。写具体内容，如熔制出第一炉光学玻璃，结束了我国不能制造光学玻璃的历史。研制的科研仪器，奠定了我国国产精密仪器的基础等，也可给分)

背景：新中国成立后，经过“一五”计划和社会主义建设的艰辛探索，我国初步形成了独立的、比较完整的工业体系和国民经济体系等。(2分)

24. (9分)

(1) 历史信息：出现新的生产方式和生活方式；建筑特色中西合璧；新式报纸的发展；社会生活既有崇洋逐新，又有因循守口，呈现出新旧并呈的特征等。(3分。答出3点即给分)

(2) 变化：供水量、用水人口和供水管道长度都出现较大增幅，且增幅比例位居全国前列。(2分)

原因：改革开放后，中国把珠江三角洲和长江三角洲开辟为沿海经济开放区，推动这两个地区的经济发展、城市建设和人口规模增速显著。(2分)

(3) 例：案例：都江堰。推荐理由：都江堰是战国时期秦国蜀郡郡守李冰主持修建的大型水利工程，在防洪、灌溉、水运等多方面发挥作用，造福千秋，充分反映出我国人民的用水智慧。(2分)

## 关于我们

北京高考在线创办于 2014 年，隶属于北京太星网络科技有限公司，是北京地区极具影响力的中学升学服务平台。主营业务涵盖：北京新高考、高中生涯规划、志愿填报、强基计划、综合评价招生和学科竞赛等。

北京高考在线旗下拥有网站门户、微信公众平台等全媒体矩阵生态平台。平台活跃用户 40W+，网站年度流量数千万量级。用户群体立足于北京，辐射全国 31 省市。

北京高考在线平台一直秉承 “精益求精、专业严谨” 的建设理念，不断探索 “K12 教育+互联网+大数据” 的运营模式，尝试基于大数据理论为广大中学和家长提供新鲜的高考资讯、专业的高考政策解读、科学的升学规划等，为广大高校、中学和教科研单位提供 “衔接和桥梁纽带” 作用。

平台自创办以来，为众多重点大学发现和推荐优秀生源，和北京近百所中学达成合作关系，累计举办线上线下升学公益讲座数百场，帮助数十万考生顺利通过考入理想大学，在家长、考生、中学和社会各界具有广泛的口碑影响力

未来，北京高考在线平台将立足于北京新高考改革，基于对北京高考政策研究及北京高校资源优势，更好的服务全国高中家长和学生。



微信搜一搜

北京高考资讯

官方微信公众号: bjgkzx

官方网站: [www.gaokzx.com](http://www.gaokzx.com)

咨询热线: 010-5751 5980

微信客服: gaokzx2018