

2021 北京丰台高一（上）期末

历史

第一部分（选择题 共 60 分）

本部分共 40 小题，每小题 1.5 分，共 60 分。在每小题列出的四个选项中，选出最符合题目要求的一项。

1. 右图为中国旧石器时代重要人类遗址分布图。观察此图，你能获得的历史信息是



- A. 遗址分布星罗棋布
- B. 社会贫富分化严重
- C. 部落联盟战争频繁
- D. 早期国家开始出现

2. 据《左传》记载，西周建立后，“封建亲戚，以藩屏周”。这种制度

- A. 取消了贵族凭血缘获得的特权
- B. 加强了天子对地方的政治统治
- C. 实现了中央对地方的直接控制
- D. 维护了大一统国家的长治久安

3. 下列商鞅变法的措施中，有助于剥夺和限制贵族特权的是

- A. 重农抑商
- B. 奖励军功
- C. 焚烧诗书
- D. 拆散大家庭

4. 春秋战国时期中国思想文化日益活跃，其中主张“令者，言最贵者也；法者，事最适者也”的思想家是

- A. 孔子
- B. 韩非
- C. 邹衍
- D. 墨子

5. 秦朝为加强中央对地方控制采取的措施是

- A. 设立丞相
- B. 设立御史大夫
- C. 实行禅让制
- D. 实行郡县制

6. 中国历史上第一次大规模农民起义的领导者是

- A. 陈胜、吴广
- B. 张角
- C. 黄巢
- D. 李自成

7. 中国自古以来重视监察制度。汉武帝时期为监察地方官员和豪强势力所采取的措施是

A. 颁布“推恩令” B. 推行均输平准 C. 设置刺史 D. 实行盐铁官营

8. 自东汉以来，西、北边陲的一些少数民族不断向内地迁徙。西晋末年，北方人民为躲避战乱大批流亡南下。由此可以推断

①内迁少数民族和汉族交融加强 ②北方人口南迁促进了南方经济的开发

③契丹族入主中原迅速统一全国 ④南方取代了北方成为我国的经济重心


A. ①② B. ①③ C. ②③ D. ②④

9. 中国古代历史上多次出现社会稳定、经济发展的治世局面，其中出现在唐朝时期的是

①文景之治 ②贞观之治 ③开元盛世 ④康乾盛世

A. ①② B. ①③ C. ②③ D. ②④

10. 右图为西安大雁塔唐朝进士题名帖，该史料有助于研究唐朝的



A. 九品中正制

B. 科举制

C. 租庸调制

D. 两税法

11. 在宋朝，（武官）即使将兵数十万，恢复幽、蓟，凯歌劳还，献捷太庙，其荣亦不可及（文人）状元登第。出现这一现象的原因是

A. 边防压力巨大，岁币沉重

B. 军队扩编，军费上升

C. 大力提倡文治，崇文抑武

D. 机构重叠，官员冗滥

12. 右侧材料是史书记载的时人对于王安石变法的看法，材料反映了王安石变法

二三年间，开阖动摇，举天地之内，无一民一物得安其所者……数十百事交举并作，欲以岁月变

A. 达到了富国强兵的目的

B. 造成统治集团内部分裂

C. 加重了普通百姓的负担

D. 导致了北宋的迅速灭亡

13. 下列属于辽、西夏和金统治措施共同点的是

- A. 实行南北面官制度 B. 向宋王朝称臣纳贡
C. 实行猛安谋克制度 D. 学习中原王朝制度

14. 元朝在中国历史上的贡献包括

- ① 结束民族政权并立，实现统一 ② 实行了行省制度，影响深远
③ 平等对待不同民族，促进交融 ④ 设置澎湖巡检司，经略台湾
A. ①②③ B. ①②④ C. ①③④ D. ②③④

15. 用以下两则史料进行互证，可以说明北宋开封城



(宋) 张择端《清明上河图》(局)

诸门桥市井已开……酒店多点灯
烛沽卖，每分不过二十文，并粥
饭点心，亦间或有卖洗面水，煎
点汤茶药者，直至天明……更有
御街州桥至南内前，趁朝卖药及
饮食者，吟叫百端。

- A. 城市经济繁荣 B. 海外贸易发达 C. 纸币广泛流通 D. 水陆交通便利

16. 宋朝时期“取士不问家世，婚姻不问阀阅”，这种状况反映了

- A. 门第观念流行 B. 雇佣关系发展 C. 社会控制严密 D. 身份趋向平等

17. 南宋朱熹认为“宇宙之间，一理而已。天得之而为天，地得之而为地……其张之为三纲，其纪之为五常，盖皆此理之流行，无所适而不在”。他所说的“理”在社会中应体现为

- A. 自然法则 B. 天人感应 C. 历史规律 D. 伦理纲常

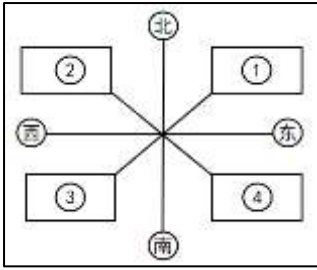
18. 明太祖朱元璋说：“自秦始置丞相，不旋踵而亡。汉、唐、宋因之，虽有贤相，然其间所用者多有小人，专权乱政。”鉴于此，他采取的措施是

- A. 废分封制 B. 设立中朝 C. 废除宰相 D. 置军机处

19. 《明史·郑和传》记载明成祖派郑和下西洋的目的之一是“欲耀兵异域，示中国富强”，出于这种考虑，郑和下西洋

- ① 宣示了明朝的天朝上国的地位 ② 促进了海外市场的不断扩大
③ 加强了与亚非多国的政治联系 ④ 给明朝带来较大的财政负担
A. ①②③ B. ①②④ C. ①③④ D. ②③④

20. 右图是某同学绘制的清朝巩固疆域措施示意图的草图，其中④处应填写



- A. 设置台湾府
- B. 签订《尼布楚条约》
- C. 设立伊犁将军
- D. 派遣驻藏大臣

21. 明清之际，有一位思想家认为“保天下者，匹夫之贱与有责焉”，后人将其概括为“天下兴亡，匹夫有责”。这位思想家是

- A. 王守仁
- B. 顾炎武
- C. 黄宗羲
- D. 王夫之

22. 时空观念是历史学科诸素养中学科本质的体现。以下图片中的历史著作，按时间先后排列正确的是



① 《天工开物》



② 《梦溪笔谈》



③ 王祯《农书》



④ 《齐民要术》

- A. ①②③④
- B. ①③②④
- C. ③①④②
- D. ④②③①

23. 下面是中国近代某个不平等条约的内容。据此推断，该条约是

①割让香港岛 ②赔款 2100 万银元 ③接受协定关税 ④开放五口通商

- A. 《南京条约》
- B. 《北京条约》
- C. 《马关条约》
- D. 《辛丑条约》

24. 19 世纪 70 年代，率军击溃阿古柏侵略军，收复新疆的爱国官员是

- A. 林则徐
- B. 左宗棠
- C. 冯子材
- D. 邓世昌

25. 下列对《马关条约》影响的解释正确的是

- A. 导致中国开始沦为半殖民地半封建社会
- B. 进一步把中国推向半殖民地半封建社会
- C. 使中国完全陷入了半殖民地半封建社会
- D. 引发了推翻清王朝统治的资产阶级革命

26. 认识历史只能通过现存的史料。通过下列史料能够认识到的历史事件是

“明定国是”诏书明确宣示：

嗣后中外大小诸臣……以圣贤义理之学，植其根本，又须博采西学之切于时务者，实力讲求，以救空疏迂谬之弊。

- A. 太平天国运动 B. “百日维新” C. 义和团运动 D. 新文化运动

27. 以下是某同学进行历史主题研学时查阅的资料内容，可概括出他的研学主题是

一	《四洲志》 《海国图志》
二	《资政新篇》
三	《新学伪经考》 《孔子改制考》

- A. 救亡图存的探索 B. 学习西方政治制度
C. 民族危机的加剧 D. 学习西方思想文化

28. 中国近代某次事件之后，外国列强认识到，任何国家“皆无此脑力与兵力可以统治此天下生灵四分之一”“瓜分一事，实为下策”。该事件是

- A. 太平天国运动 B. 戊戌维新运动 C. 义和团运动 D. 辛亥革命

29. 孙中山在《三民主义与中国前途》一文中强调革命任务有三，即民族革命、政治革命、社会革命。它们分别对应三民主义中的

- A. 民享、民治、民有 B. 民生、民族、民权
C. 民有、民治、民享 D. 民族、民权、民生

30. 下列对辛亥革命历史功绩的表述正确的是

- ①结束了两千多年的君主专制制度 ②完成了民族独立的历史任务
③为民族资本主义发展创造了条件 ④推动了中华民族的思想解放

- A. ①②③ B. ①②④ C. ①③④ D. ②③④

31. 下面列出的是某同学记录的历史笔记。将笔记内容进行归纳，可以得出的认识是

1. 袁世凯称帝、护国运动、“府院之争”、护法运动
2. 纺织厂、面粉厂等民族资本主义企业快速发展

- A. 民族危机空前严重 B. 先进与落后同时并存
C. 革命潮流浩浩荡荡 D. 经济与文化快速发展

32. 右图为《新申报》发行的一期号外（局部），该号外报道的事件是



- A.五四运动 B.九一八事变 C.西安事变 D.重庆谈判

33.2021 年是中国共产党诞生 100 周年，学校如果组织游学活动参观中国共产党诞生地，应去

- ①上海 ②浙江嘉兴 ③井冈山 ④延安
A. ①② B. ①③ C. ①④ D. ②③

34.下列关于北伐战争胜利原因的表述，正确的是

- A. 帝国主义放松侵略 B. 革命统一战线推动
C. 军阀势力极为软弱 D. 红军战士英勇斗争

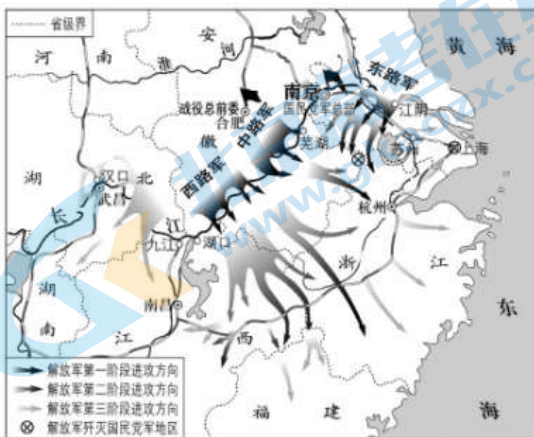
35. 1927 年，国民革命失败后，中国共产党开辟了革命新道路。对新道路描述准确的是

- A. 发动城市暴动，建立工农政权 B. 服从共产国际，开展工人运动
C. 放手发动群众，建立联合政府 D. 农村包围城市，武装夺取政权

36.抗日战争重新确立了中国在世界上的大国地位，取得这一地位的主要原因是

- A. 中华民族实行了全民族抗战
B. 世界友好国家给予鼎力相助
C. 国民政府积极参与国际事务
D. 中国在欧亚非战场勇猛出击

37. 解放战争时期的一系列重大战役改变了中国历史的进程。下图所反映的战役是



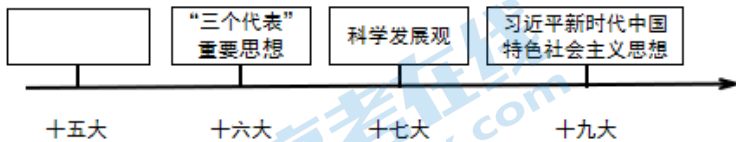
- A. 辽沈战役 B. 淮海战役 C. 平津战役 D. 渡江战役

38. 某班学生组织题为“新中国外交风云”的展览，以下能进入 20 世纪 50 年代展板内容的是

- ①提出“和平共处五项原则” ②参加万隆会议
③恢复在联合国的合法权利 ④尼克松访华

- A. ①② B. ①③ C. ①④ D. ②③

39. 制作时间轴是历史学习的重要方法，下面是关于中国特色社会主义理论体系形成和发展的时间轴，空白方框内应该填写的是



- A. 马克思主义 B. 列宁主义 C. 毛泽东思想 D. 邓小平理论

40. 完成祖国统一大业，是中华民族的根本利益所在。香港、澳门回归祖国的意义包括

- ①“一国两制”构想得以实施 ②祖国统一大业向前迈进
③为解决台湾问题提供了借鉴 ④中国领土实现完全统一

- A. ①②③ B. ①②④ C. ①③④ D. ②③④

本部分共 2 大题，共 40 分。请用黑色字迹签字笔在答题卡上各题的答题区域内作答，在试卷上作答无效。

41. 自古以来，中华民族形成多元一体的历史发展趋势。（本题共 20 分）

到了夏商周三代，黄河流域的居民不断吸收周围的东夷、南蛮、西戎、北狄等族的成分，逐渐形成华夏民族。相传周文王的伯父太伯、仲雍与当地的民族结合，形成兼有商、周和当地特点的吴文化，吴和越开发了东南地区。秦人和西戎诸族共同开发了西北地区。楚地的华夏族和许多少数民族相交融，共同开发了长江中游地区。最后秦灭六国，统一了中国，这个统一的过程也可视为多民族交融的过程。到了汉朝，华夏族进一步吸收其他民族的成分，扩大为人口近 6000 万的民族，后来遂称汉族。

——摘编自袁行霈、严文明主编《中华文明史》

(1) 依据材料，概括华夏族形成与发展的特点。（4 分）



《元暉墓志銘》拓片

(局部)

公讳暉，字景袭，河南洛阳人。昭成皇帝（北魏高祖拓跋什翼犍）之六世孙……温源恭俭之性，得之自然；忠孝笃敬之诚，因心而厚。幼涉经史，长爱儒术……太和（北魏孝文帝年号）中始自国子生辟司徒参军事，转尚书郎太子洗马……入为尚书右仆射，寻迁左光禄大夫尚书仆射……春秋五十五，以神龟二年九月庚午遘疾薨於位（因病去世）。天子震悼，群辟痛心，有诏追赠使持节都督中外诸军事司空公领雍州刺史，侍中如故。考德累行，谥曰文宪公。

——摘编自《元暉墓志銘》

(2) 写出《元暉墓志銘》的具体史料类型。依据材料内容，具体说明《元暉墓志銘》可以印证哪些史实？（6分）

中国是包括固有之二十八省、蒙古、西藏而成之整个国土，中华民族是由我汉、满、蒙、回、藏及其他各民族而成的整个大国族。日本帝国主义肆意武力侵略，其目的实欲亡我整个国家，奴我整个民族，凡我任何一部分土地，任何一部分人民，均无苟全饶存之理。

——摘自《康藏民众代表慰劳前线将士书》（《新华日报》1938年7月2日第3版）

(3) 依据材料，概括《康藏民众代表慰劳前线将士书》所表达的核心思想。结合所学，分析该慰问书发表的背景。（6分）

序号	文件	民族政策
①	1949年《中国人民政治协商会议共同纲领》	中华人民共和国境内各民族一律平等，实行团结互助，反对帝国主义和各民族内部的人民公敌，使中华人民共和国成为各民族友爱合作的大家庭。反对大民族主义和狭隘民族主义，禁止民族间的歧视、压迫和分裂民族团结的行为
②	1954年《中华人民共和国宪法》	中华人民共和国是统一的多民族的国家。各民族一律平等。禁止对任何民族的歧视和压迫，禁止破坏民族团结的行为。各民族自治地方都是中华人民共和国不可分离的部分

(4) 依据材料，任选一项民族政策，结合时代背景谈谈你对该政策意义的认识。（4分）

42. 实现中华民族的伟大复兴是全体中华儿女的共同愿望。（本题共20分）

西域各国和唐朝来往，必经长安；东亚、南亚各国经陆路与西域交往，也必经长安；它是首都，各国使节频繁来此进行政治活动，向这里传播域外文化，又从这里带回唐朝文化；它作为文化中心，四方儒士云会于此，又有左右两教坊，善歌工舞，域外传来新声佳曲，经教坊上演，传遍京城，影响全国。

——樊树志《国史概要》

(1) 依据材料和所学，指出唐朝长安城的地位。（4分）

时间	事 件
咸丰十一年（1861年）	恭亲王和文祥设立同文馆于北京，是为中国新学的开始
同治二年（1863年）	李鸿章设外国语文学校于上海
同治四年	曾国藩、李鸿章设江南机器制造局于上海，附设译书局
同治五年	左宗棠设造船厂于福州，附设船政学校
同治十一年	李鸿章挑选学生赴美国留学
光绪二年（1876年）	李鸿章派军官赴德国学陆军，船政学生赴英、法学习造船和驾船
光绪十一年	李鸿章设天津武备学堂

——摘编自蒋廷黻《中国近代史》

(2) 依据材料，概括洋务运动期间文化教育的特点。结合所学，分析其影响。(6分)

中国共产党是中国无产阶级政党。他的目的是要组织无产阶级，用阶级斗争的手段，建立劳农专政的政治，铲除私有财产制度，渐次达到一个共产主义的社会。

中国共产党为工人和贫农的利益计，引导工人们帮助民主主义的革命运动，使工人和贫农与小资产阶级建立民主主义的统一战线。中国共产党为工人和贫农的利益在这个联合战线里奋斗的目标是：

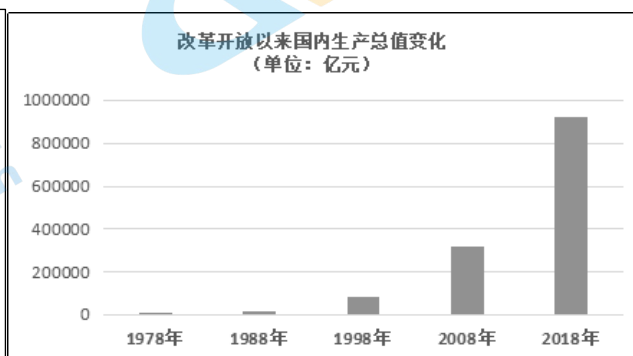
- (一) 消除内乱，打倒军阀，建设国内和平；
- (二) 推翻国际帝国主义的压迫，达到中华民族完全独立；
- (三) 统一中国本部（东三省在内）为真正民主共和国。

——摘自《中国共产党第二次全国代表大会宣言》（1922年7月）

(3) 依据材料，概括《中国共产党第二次全国代表大会宣言》的主要内容。结合所学，分析该宣言发表的背景。(6分)

改革开放是我们党的一次伟大觉醒，正是这个伟大觉醒孕育了我们党从理论到实践的伟大创造。改革开放是中国人民和中华民族发展史上一次伟大革命，正是这个伟大革命推动了中国特色社会主义事业的伟大飞跃！

——摘自习近平《在庆祝改革开放40周年大会上的讲话》（2018年12月）



(4) 结合材料和所学，从中华民族伟大复兴的角度谈谈对改革开放意义的认识。(4分)

2021 北京丰台高一（上）期末历史

参考答案

第一部分 (选择题 共 60 分)

本部分共 40 小题，每小题 1.5 分，共 60 分。

1	2	3	4	5	6	7	8	9	10
A	B	B	B	D	A	C	A	C	B
11	12	13	14	15	16	17	18	19	20
C	C	D	B	A	D	D	C	C	A
21	22	23	24	25	26	27	28	29	30
B	D	A	B	B	B	A	C	D	C
31	32	33	34	35	36	37	38	39	40
B	A	A	B	D	A	D	A	D	A

第二部分 (非选择题 共 40 分)

本部分共 2 小题，共 40 分。

41. (20 分)

(1) 特点：华夏族以黄河流域的居民为主体，吸收其他民族形成；华夏族与其他民族结合，共同开发中华大地；华夏族吸收其他民族，最后形成人口规模庞大的汉族。（4 分）

(2) 史料类型：文献史料中的碑铭。（2 分）

印证史实：墓志铭用汉文书写，可以印证孝文帝改革统一说汉语；“河南洛阳人”可以印证孝文帝迁都洛阳，将鲜卑贵族籍贯一律改为洛阳；元暉的名字可以印证孝文帝改鲜卑姓为汉姓；墓志铭中“温源恭俭之性，得之自然；忠孝笃敬之诚，因心而厚。幼涉经史，长爱儒术”“谥曰文宪公”可以印证孝文帝学习汉族文化；“转尚书郎太子洗马”“入为尚书右仆射，寻迁左光禄大夫尚书仆射”“有诏追赠使持节都督中外诸军事司空公领雍州刺史”可以印证孝文帝改革学习汉族制度。（4 分）

(3) 核心思想：中国各民族是一个整体，必须实行全民族抗战。（2 分）

背景：日本帝国主义发动全面侵华战争，中华民族面临生死存亡的危机；以国共两党合作为基础的抗日民族统一战线建立。（4 分）

(4) 4 分

①的民族政策规定中华人民共和国各民族一律平等，主张民族团结。该政策是在解放战争胜利在望，中华人民共和国即将建立的背景下提出的。有助于实现各族人民当家做主，团结各族人民巩固新生的人民政权，共同建设新中国。

②的民族政策规定国家统一、民族平等和民族团结。该政策是在过渡时期总路线提出实现国家的社会主义工业化，逐步实现国家对农业、手工业和资本主义工商业的社会主义改造的背景下提出的。有助于调动各族人民的积极性，建立社会主义制度，完成第一个五年计划。

42. (20分)

(1) 长安是唐朝的政治、经济和文化中心，也是文明交汇的枢纽。(4分)

(2) 特点：向外国学习；以军事方面为主；辅助洋务运动。

影响：传播了西方先进文化，培养了新式人才，有助于中国的近代化。(6分)

(3) 主要内容：最高纲领是实现共产主义，最低纲领是建立统一战线，实现国家独立、统一和领土完整。(2分)

背景：中国共产党成立，为中国指明了前进方向。中国共产党在组织开展工人运动时，对于中国国情的认识进一步深入，认识到建立革命统一战线的重要性。(4分)

(4) 改革开放解放和发展了生产力，促进了中国经济的发展，使得中国的综合国力大为提高。改革开放使得百姓的生活得到改善，人民的生活日益富裕。改革开放提高了中国的国际地位，增强了中国的国际影响力。

(4分，答对2点即可给分)

关于我们

北京高考在线创办于 2014 年，隶属于北京太星网络科技有限公司，是北京地区极具影响力的中学升学服务平台。主营业务涵盖：北京新高考、高中生涯规划、志愿填报、强基计划、综合评价招生和学科竞赛等。

北京高考在线旗下拥有网站门户、微信公众平台等全媒体矩阵生态平台。平台活跃用户 40W+，网站年度流量数千万量级。用户群体立足于北京，辐射全国 31 省市。

北京高考在线平台一直秉承“精益求精、专业严谨”的建设理念，不断探索“K12 教育+互联网+大数据”的运营模式，尝试基于大数据理论为广大中学和家长提供新鲜的高考资讯、专业的高考政策解读、科学的升学规划等，为广大高校、中学和教科研单位提供“衔接和桥梁纽带”作用。

平台自创办以来，为众多重点大学发现和推荐优秀生源，和北京近百所中学达成合作关系，累计举办线上线下升学公益讲座数百场，帮助数十万考生顺利通过考入理想大学，在家长、考生、中学和社会各界具有广泛的口碑影响力

未来，北京高考在线平台将立足于北京新高考改革，基于对北京高考政策研究及北京高校资源优势，更好的服务全国高中家长和学生。



微信搜一搜

北京高考资讯