

绝密★启用并使用完毕前

## 2021 年济南市高三模拟考试

# 历史试题

注意事项:

1. 答题前,考生先将自己的姓名、考生号、座号填写在相应位置,认真核对条形码上的姓名考生号和座号,并将条形码粘贴在指定位置上。
2. 选择题答案必须使用 2B 铅笔(按填涂样例)正确填涂;非选择题答案必须使用 0.5 毫米黑色签字笔书写,字体工整、笔迹清楚。
3. 请按照题号在各题目的答题区域内作答,超出答题区域书写的答案无效;在草稿纸、试题卷上答题无效。保持卡面清洁,不折叠、不破损。

一、选择题:本题共 15 小题,每小题 3 分,共 45 分。每小题给出的四个选项中,只有一项是符合题目要求的。

1. 殷商统治者崇尚天帝神权,强调“天命神授”,而西周统治者提出“天命靡(无)常,惟德是辅”,人主只有敬慎其德,治理好国家,“保享于民”才能“享天之命”。这一变化反映了西周  
A. 儒家民本思想初步形成  
B. 以宗法人伦取代天命  
C. 王权神授观念逐步淡化  
D. 天命观具有人文色彩
2. 汉代察举制最初规定各郡国岁举二人。东汉和帝时改以人口为标准,郡国人口满二十万每年举孝廉一人,满四十万每年举孝廉两人,以此推之;后又规定少数民族杂居的边郡地区,人口满十万每年即可举孝廉一人,不满十万每两年举孝廉一人。上述做法  
A. 保证了选官的公平公正  
B. 利于缩小各地区经济文化差距  
C. 促进了民族交融  
D. 利于维护国家统一和政权稳定
3. 唐代初期采用府兵制,征兵对象主要是均田农民,农民忙时务农,闲时参加军事训练,国家打仗时随军出征,自己携带粮食和武器。唐玄宗时,政府改行募兵制,由国家招募职业军人,提供军饷和装备,招募的兵士由专门的军官训练和指挥,长期服兵役。这一变化  
A. 客观上使农民对国家人身依附减弱  
B. 推动雇佣关系逐步普及  
C. 导致藩镇割据局面的出现  
D. 促使均田制度渐趋瓦解

准考证号

姓名

学校

- 4.北宋初年,统治者在开封府、应天府、河南府和大名府都设立了都商税院,专门负责征收工商业税。南宋时,又在各州、府、县、镇增设征收商税的分支机构“都税务”。这反映出宋代
- A.政府抑商政策趋于强化  
B.政府治理体系因时而变  
C.冗官问题进一步加剧  
D.工商税负的比重日渐上升
- 5.朱元璋统一全国前就规定:“凡民四五亩至十亩者,栽桑、麻、木绵各半亩,十亩以上倍之”,后又规定农桑征税以洪武二十四年为定数,自此以后新植棉花一律免征赋税。这些措施
- A.意在强化小农经济体系  
B.改变了传统的农业经济结构  
C.表明政府实施轻徭薄赋政策  
D.推动了农业生产模式的转变
- 6.晚清学者方东树在《汉学商兑》一书中指出:汉学“言言有据,字字有考,只是纸上与古人争训造形声”,“推之民人家国,了无益处,徒使人狂惑失守,不得所用。”他的这一说法旨在
- A.解放国人思想  
B.宣扬家国情怀  
C.批判传统文化  
D.倡导经世致用
- 7.据统计,鸦片战争至新中国成立前,移居海外的中国人约有1 000万人,主体是劳工,商业、政治性移民次之,文化、亲属团聚等又次之。他们主要分布在东南亚地区,也有大批前往美洲、大洋洲、欧洲、非洲等地。这一现象主要是因为
- A.中国自然经济走向解体  
B.民族危机不断加深  
C.西方列强的侵略扩张  
D.工业革命后世界联系加强
- 8.1936年,中华民国《兵役法》颁布实施,其中规定,知识青年可免、缓服兵役。1944年,蒋介石号召全国知识青年积极从军,提出“一寸山河一寸血,十万青年十万军”的口号。随后,国民党中央决定广泛发动知识青年从军运动。这一变化反映了当时
- A.民众的爱国热情空前高涨  
B.政府试图提高军队素养  
C.抗日战争形势的严峻  
D.中国开始准备全面反攻
- 9.据统计,我国1950年农业税实征税额折合细粮269.7万斤,占农业实际产量的12.3%;1951年,增长到361.5万斤,占农业实际产量的14.5%。这一变化是为了
- A.支援抗美援朝战争  
B.推进土地改革运动  
C.服务于工业化建设  
D.全面恢复国民经济
- 10.古希腊比其他地区的居民更早、更全面地提出节制生育、晚婚晚育的理论,也比其他地区更频繁地对外移民。上述现象的出现主要源于
- A.农业发展水平的落后  
B.古希腊哲学强调理性思考  
C.稳定公民群体的需要  
D.多山多湾的自然地理环境

11. 新教与罗马天主教分庭抗礼是政治权力广泛介入的结果, 主权意识正在萌生的国王和诸侯们站到了新教一边。这反映出当时

- A. 王权摆脱了教权控制  
 B. 民族意识日益增强  
 C. 政治权力主导宗教信仰  
 D. 资产阶级与封建君主利益一致

12. 表 1 为英、法、美、德四国在不同时期工业生产能力方面的排列次序。其中“丁”指的是

表 1

时间	第一	第二	第三	第四
1860 年	乙	丙	甲	丁
1880 年	甲	乙	丁	丙
1900 年	甲	丁	乙	丙

- A. 美国  
 B. 英国  
 C. 德国  
 D. 法国

13. 它不仅是一种思想, 而且成为受到广泛认同的政治实践原则, 一种受到追捧的生活方式。

它认为社会利益只是一种抽象, 是个人利益的综合, 每个人追求自己的正当利益必然会带动整体利益的提升。“它”是指

- A. 人文主义  
 B. 理性主义  
 C. 自由主义  
 D. 民族主义

14. 图 1 中的文字描述的是

- 经济发展的代价, 最终由全体公民来承受
- 人们不得不放弃自己的愿望、忍受当下的贫困, 被迫为将来而努力工作
- 公民逐步得到免费医疗、养老金、疾病和残疾津贴、产假、带薪休假等社会福利
- 引起了前殖民地各民族人民的强烈兴趣

图 1

- A. 新经济政策  
 B. 斯大林模式  
 C. 罗斯福新政  
 D. 战后福利国家

15. 1946 年美国颁布了《富尔赖特法案》, 其核心内容就是把美国的海外剩余资产(主要是欧洲国家二战中对美国的债务)用作美国教师和学生去海外学习和研究的基金, 同时也为外国学者和学生来美国学习和研究提供活动基金。这一做法旨在

- A. 与苏联争夺人才  
 B. 配合马歇尔计划的实施  
 C. 助力西欧迅速实现复兴  
 D. 扩大美国的影响力

二、非选择题：本题共 4 题，共 55 分。

16.(12分)“杯酒释兵权”的历史典故一般引自宋代李焘的《续资治通鉴长编》，李焘在对此的记述后说明：“此事最大，而《正史》《实录》皆略之，甚可惜也，今追书。……王曾《笔录》皆得其实，今从之。文辞则多取《记闻》，稍增益以丁谓《谈录》。”阅读材料，回答问题。

<p>《丁晋公谈录》(宋真宗时宰相丁谓所著琐谈小说)</p>	<p>(赵普)忽一日奏太祖曰：“石守信、王审琦皆不可令主兵”。上曰：“此二人岂肯作罪过。”赵曰：“然此二人必不肯为过，臣熟观其非才，但虑其不能制伏于下。”太祖又谓曰：“此二人受国家如此擢用，岂负得朕？”赵曰：“只如陛下岂负得世宗？”太祖方悟而从之，罢了两人的兵权。</p>
<p>《王文正公笔录》(北宋仁宗时宰相王曾所著笔记)</p>	<p>石守信、王审琦等犹分典禁兵如故，相国赵普屡以为言，上力保庇之。普又密启请授以他任，于是不得已，召守信等曲宴，道旧相乐，因谕之曰：“朕与公等，义同骨肉……而言事者进说不已，今莫若自择善地，各守外藩，勿议除替。”守信等咸顿首称谢。由是石、王之族俱蒙选尚，寻各归镇。</p>
<p>《涑水纪闻》(北宋神宗、哲宗时政治家、史学家司马光所著笔记集)</p>	<p>上因晚朝与故人石守信、王审琦等饮酒。酒酣，上屏左右，谓曰：“我非尔曹之力，不得至此，念尔之德，无有穷已，然为天子亦大艰难，殊不若为郡节度使之乐。吾今终夕未尝敢安寝而卧也。”守信等皆曰：“何故？”上曰：“是不难知，居此位者谁不欲为之？”“汝曹何不释去兵权，择便好田宅，市之，为子孙立永久之业；多置歌儿舞女，日饮酒以终其天年。君臣之间两无猜嫌，上下相安，不亦善乎？”守信等皆再拜谢曰：“陛下念臣及此，所谓生死而骨肉也。”上许之，皆以散就第，所以慰抚赐赍之甚厚，与结婚姻。</p>

从史料运用的角度，谈一谈你对李焘记述这一典故的认识。(12分)

略，材料、司马光。

元前 20.  
公元前 2070 年启  
代替了  
商 (554 年)

17. (15分) 图2、图3、图4是中国近代三个历史时期(1860—1894年、1901—1914年、1937—1945年)中国境内新建近代工业的空间分布示意图。阅读材料,回答问题。

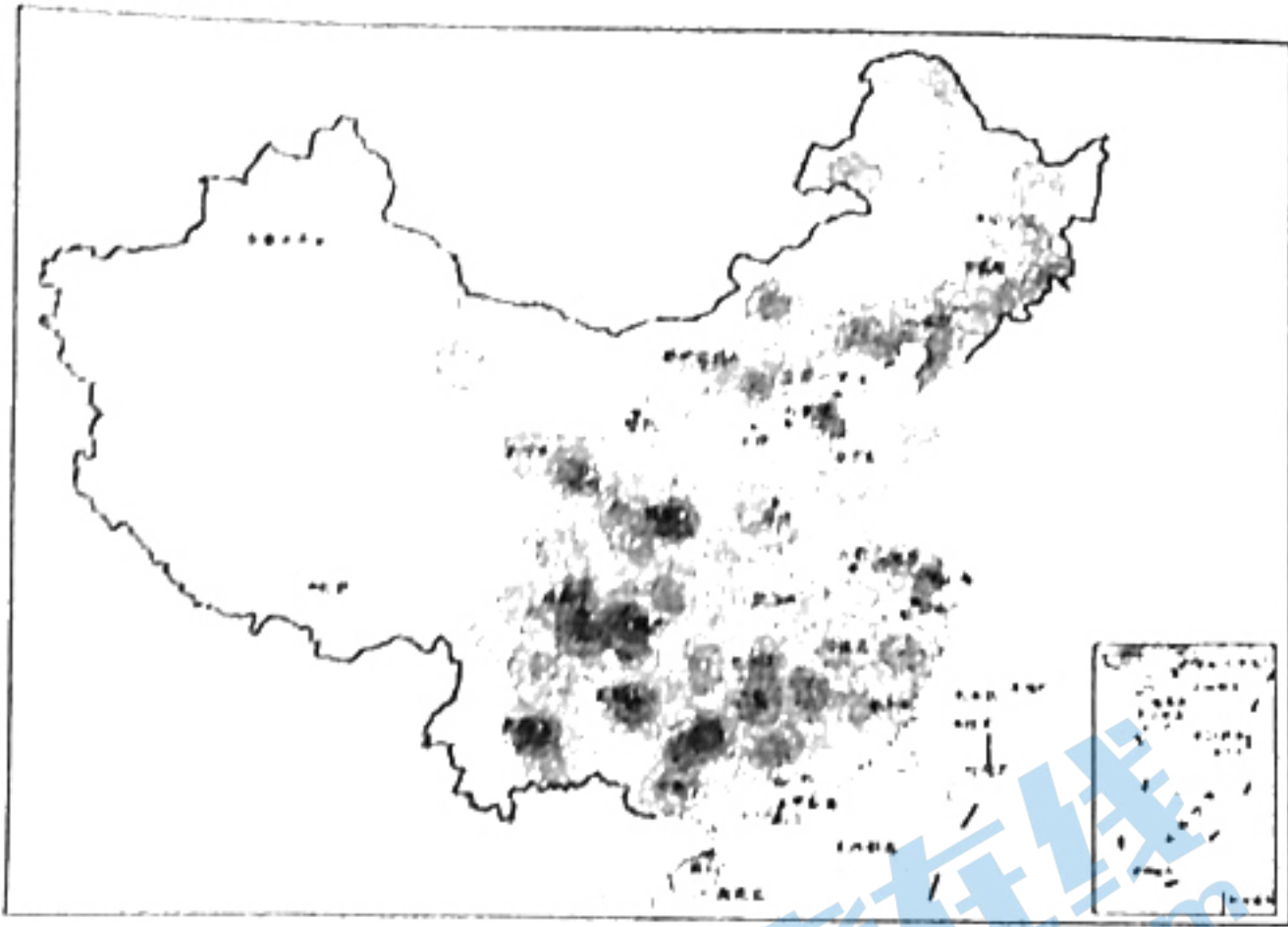


图2 1937-1945

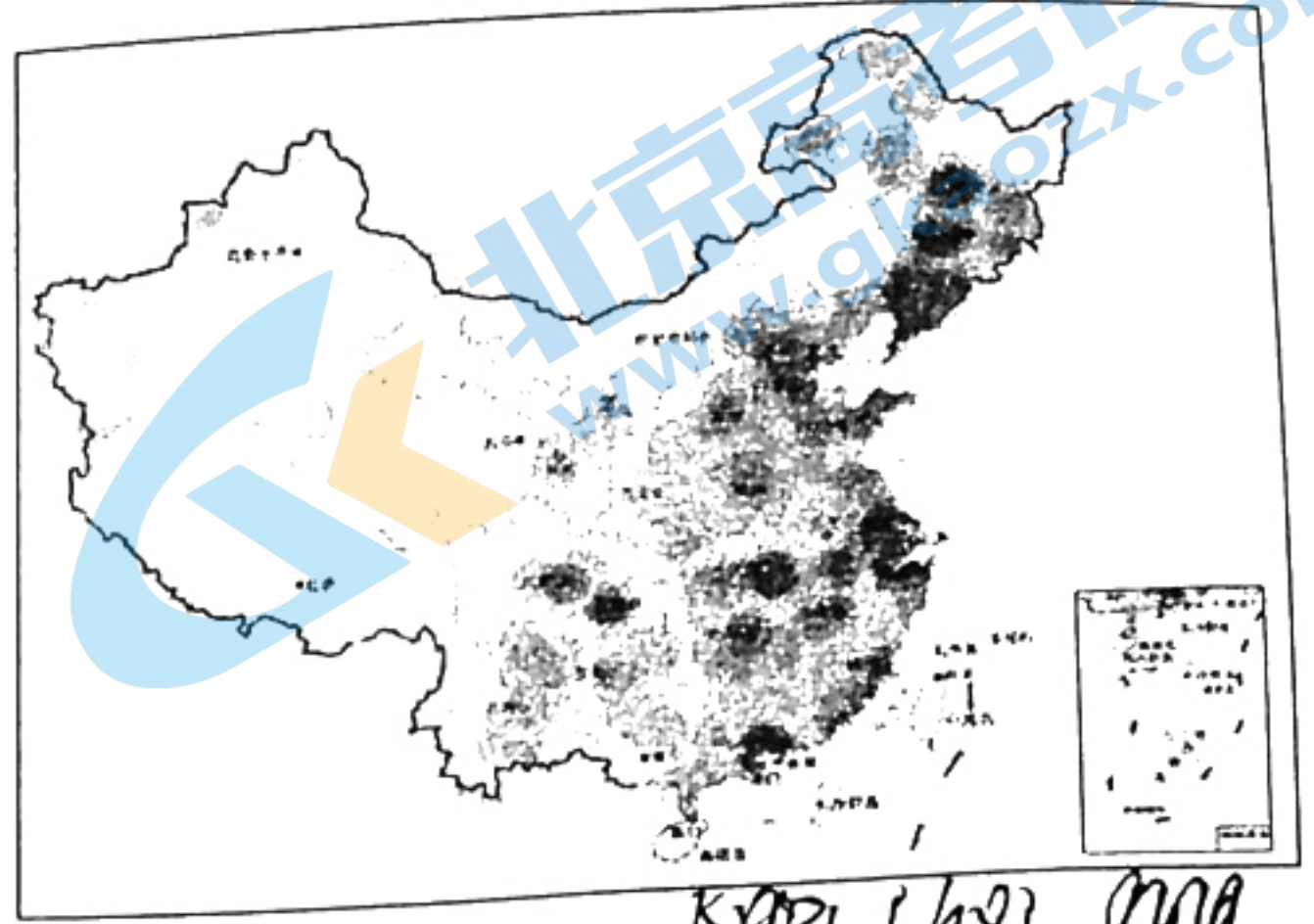


图3 1901-1914

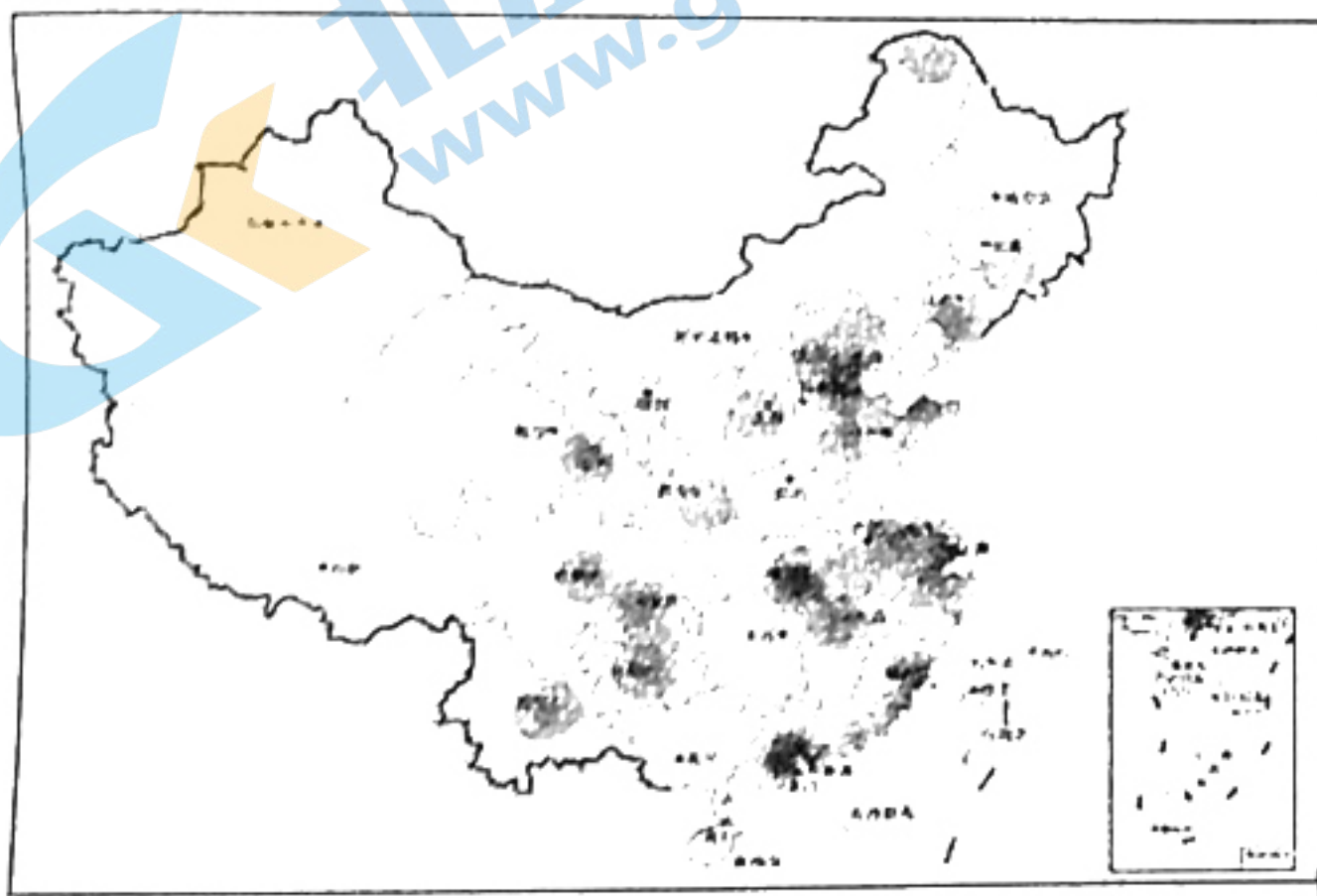


图4 1860-1894

- ★ 北京 首都
  - ◎ 天津 省级行政中心
  - 未定 国界
  - 省、自治区、直辖市界
- 核密度
- 0
  - 0.000000001~0.000062093
  - 0.000062094~0.000186280
  - 0.000186281~0.000496748
  - 0.000496749~0.015771735

(备注:核密度呈现的是被分析对象在一定时空范围内的集聚程度)

——据刘静等《中国近代城市工业时空演变分析》

分别提取图2、图3、图4的近代工业分布信息,并据此说明与其相对应的历史时期。

(15分)

18. 阅读材料,回答问题。(14分)

材料一 1928年,《中共中央宣传部“双十”宣传纲要》提出:“三民主义曾经是辛亥革命以来的口号,现在完全变成反辛亥革命的旗帜。”此后,中国共产党再未以中共中央名义进行过纪念辛亥革命的行动。1937年,中共中央宣传部在宣传大纲中指出,中国共产党“主张恢复孙中山先生的三民主义,继续孙中山先生的革命的精神”。1938年,毛泽东在纪念孙中山逝世十

三周年的大会上做了重要演讲。1939年，陕甘宁边区党委发布了纪念孙中山逝世十四周年的通知。1941年，中央做出了纪念双十节的决定 **历史素养**

——据靳燕凌《延安时期中国共产党对辛亥革命和孙中山的纪念与评价研究》等

材料二 新中国成立后，延续了纪念辛亥革命的传统，基本上每逢十年举行一次全国规模的纪念活动，在每次活动中《人民日报》都会发表纪念社论，而这些社论的标题往往带有明显的时代印迹。图5是其中两篇社论的报纸截图。



图5

- (1) 简析中国共产党在纪念辛亥革命和孙中山的态度上发生变化的原因。(8分)
- (2) 任选其中一篇社论，结合各自的时代背景对其标题加以解读。(6分)

19.(14分) 阅读材料，回答问题。

材料

建国后的历史学家开始以强烈的民族主义情感来记述美利坚民族成长和立国的进程。1799年华盛顿去世后不久，《乔治·华盛顿的生平与难忘的活动》等书籍一经出版便风靡一时。华盛顿逝世半个世纪后，他一直被看作是民族的象征、“祖国的救星”，甚至被奉若神灵。19世纪中后期，标榜“客观主义”和“科学方法”的朗克史学流派，注重写“人民的历史”的史学思潮在美国影响越来越大。南北战争后，美国史学界出现了一股寻求华盛顿“真实面貌”的思潮，关于华盛顿的新史料不断被挖掘出来。他们认为华盛顿如常人一样是“一个受人类的弱点制约的人，一个受人类欲望支配的人”。华盛顿经过这番“暴露”之后，他的真实面貌和历史价值更为世人所知了。

——摘编自余志森《美国学界华盛顿研究之演进》

对19世纪美国史学研究中华盛顿形象的变化做出合理的历史解释。(14分)(要求:表述成文、主旨明确、史论结合、逻辑清晰)

# 济南市高三模拟考试历史试题

## 参考答案及评分细则

2021.3

一、选择题:本题共 15 小题,每小题 3 分,共 45 分。

1: D 2: D 3: A 4: B 5: A 6: D 7: C 8: C 9: A 10: A  
11: B 12: C 13: C 14: B 15: D

二、非选择题:本题共 4 题,共 55 分。

16. (12 分)

李焘对这一历史典故的记述存在不严谨之处。(2 分)

从其选取的史料类型看,《丁晋公谈录》《王文正公笔录》《涑水纪闻》都属于私人笔记(或二手史料、琐谈小说)(1 分),其记载带有主观色彩,可信度存疑(或其史料价值较低)(2 分)。(共 3 分)

从其选取的史料内容看,三部笔记(或三则史料)对这一事件具体过程的叙述存在差异和矛盾之处(或据三则史料对差异指出进行概述),(1 分)李焘记述时并未对这些细节加以考究(或:未对史料进行辨析、只是对三则史料简单的综合采用)(2 分)。(共 3 分)

从其记述的历史影响看,李焘不严谨的记述使之从私人记述变为录入史书的历史事件,使其在后世广为流传。(2 分)

因此,在选取和运用史料进行历史研究的过程中,既要获取的史料进行辨析、去伪存真,也要注重史料间的互证(任意一点即可)。(2 分)

其他认识言之成理,也可酌情给分。

17. (15 分)

图 2: 新建工业主要分布在西部、西南内陆及东北地区。(2 分)这与抗日战争时期民族工业大量内迁、日本加强对沦陷区的经济掠夺,并力图将我国东北地区打造为重工业和军事工业基地等状况相吻合。(2 分)据此判定图 2 为 1937-1945 年。(1 分)

图 3: 新建工业主要分布在东北、华北、长江沿线等沿海、沿江区域,(1 分)总体发展迅速。(1 分)这与 20 世纪初列强加强对华资本输出,以及清末新政鼓励发展近代工业、辛亥革命后南京临时政府的经济政策、群众性反帝爱国运动推动等因素影响下,近代民族工业快速发展的状况相吻合。(以上因素至少答出其中两条)(2 分)据此判定图 3 为 1901-1914 年。(1 分)

图 4: 新建工业集中分布在华北、东南沿海和长江沿线区域,(1 分)内陆各地散布(或零星出现)、整体数量不多。(1 分)这与 19 世纪 60 年代后伴随长江沿线一些城市被迫开埠新式工业逐渐向这一区域扩散,民族工业在一些沿海通商口岸城市逐渐兴起,洋务运动期间各地陆续创办一批近代工业企业等状况相吻合。(以上因素至少答出其中两条)(2 分)据此判定图 4 为 1860-1894 年。(1 分)

(信息判断根据实际答题情况单独赋分;每个时期判断错误只扣 1 分)

18. (14 分)

(1) 1927 年国共第一次合作破裂,大革命失败,此后国共长期对峙;三民主义遭到国民党反动派破坏并沦为其反革命的工具,中国共产党出于武装反抗国民党反动派的考虑停止纪念。(每点 2 分,共 4 分)

1937 年日本全面侵华,民族危机空前严重;国共两党实现第二次合作,抗日民族统一战线形成,纪念辛亥革命有利于增强民族凝聚力,团结抗战。

新中国成立后很长时期内面临严峻的国际形势;建国初加强政治制度建设,实行中共领

导的多党合作政治协商制度；实现祖国统一、建设富强的社会主义国家是中华儿女的心愿。

(任答其中一点得2分，共4分)

(2) 1961年：

从当时中国仍然面临美苏冷战对峙，以及以美国为首的帝国主义阵营的孤立、包围、封锁的角度作答；(2分)

从辛亥革命是一次完全意义上的资产阶级民族民主革命的角度作答；(2分)

从纪念活动对于鼓舞中国人民的反帝斗争精神起到了积极作用的角度作答。(2分)

1981年：

从80年代初，两岸关系走向缓和，和平统一祖国的方针、一国两制的构想逐步形成的角度作答；(2分)

从统一祖国、振兴中华是孙中山等革命先贤的未竟理想，辛亥革命伟大功绩激励我们为民族繁荣昌盛奋进的角度作答；(2分)

从纪念活动对于和平解决台湾问题，进一步密切两岸交流，建设现代化社会主义强国起到积极推动作用的角度作答。(2分)

19. (14分)

19世纪随着美国社会的变迁，在史学研究中华盛顿的形象逐渐从神化到人化。(2分)

19世纪初，由于华盛顿在美国独立战争以及在民主制度构建过程中的重要贡献，华盛顿在美国人民心中享有崇高的威望；强烈的民族主义情感推动了史学研究充分肯定华盛顿的历史作用，塑造华盛顿的崇高形象。(4分)

19世纪中叶以后，美国的民主制度日渐完善；南北战争巩固了美国统一，废除了奴隶制，塑造了林肯的伟大形象；美国的史学研究思想发生改交，史料发掘取得进步；这体现在史学研究中，对华盛顿的评价逐渐趋于客观、全面。(6分)

表述成文、史论结合、逻辑清晰(2分)(凡采用条目式答题方式的扣掉2分)



## 关于我们

北京高考在线创办于 2014 年，隶属于北京太星网络科技有限公司，是北京地区极具影响力的中学升学服务平台。主营业务涵盖：北京新高考、高中生涯规划、志愿填报、强基计划、综合评价招生和学科竞赛等。

北京高考在线旗下拥有网站门户、微信公众平台等全媒体矩阵生态平台。平台活跃用户 40W+，网站年度流量数千万量级。用户群体立足于北京，辐射全国 31 省市。

北京高考在线平台一直秉承“精益求精、专业严谨”的建设理念，不断探索“K12 教育+互联网+大数据”的运营模式，尝试基于大数据理论为广大中学和家长提供新鲜的高考资讯、专业的高考政策解读、科学的升学规划等，为广大高校、中学和教科研单位提供“衔接和桥梁纽带”作用。

平台自创办以来，为众多重点大学发现和推荐优秀生源，和北京近百所中学达成合作关系，累计举办线上线下升学公益讲座数百场，帮助数十万考生顺利通过考入理想大学，在家长、考生、中学和社会各界具有广泛的口碑影响力

未来，北京高考在线平台将立足于北京新高考改革，基于对北京高考政策研究及北京高校资源优势，更好的服务全国高中家长和学生。



微信搜一搜

北京高考资讯