

北京市西城区 2020—2021 学年度第一学期期末试卷

高一历史

2021.1

本试卷共 9 页，共 100 分。考试时长 90 分钟。考生务必将答案写在答题卡上，在试卷上作答无效。

第一部分（选择题 共 60 分）

本部分共 40 小题，每小题 1.5 分，共 60 分。在每小题列出的四个选项中，选出最符合题目要求的一项。

- 2020 年 5 月，河南巩义“河洛古国”重大考古成果发布。在这处距今 5300 年前后的仰韶文化中晚期巨型聚落遗址中，出土器物包含许多其他文化因子：如折腹鼎、背壶具备山东大汶口文化特征，陶器组合中出现的大量双腹器属于长江流域屈家岭文化因素等。这体现了
 - 最早的国家正式形成
 - 贫富分化开始出现
 - 中原已进入青铜时代
 - 中华文明多元一体
- 武王伐纣后，“封纣子武庚禄父，使管叔、蔡叔傅之，以续殷祀。徧（遍）封功臣同姓戚者。”这则材料可用于研究
 - 世袭制
 - 禅让制
 - 井田制
 - 分封制
- 春秋时期，诸侯国间的争霸战争促进了中原的“诸华”（亦称诸夏）与周边民族的交往与碰撞，周边民族不断融入华夏族。可见，春秋争霸战争促进了
 - 各国改革
 - 民族交融
 - 技术进步
 - 思想繁荣
- 秦国成为战国七雄中实力最强的国家，“倾邻国而雄诸侯”，其主要原因是
 - 商鞅变法更加全面彻底
 - 工商业和城市繁荣兴盛
 - 铁农具和牛耕得到推广
 - 都江堰促进了农业发展
- “儒道互补”组成中国文化的基本框架。下列主张中，属于道家思想的是
 - “复礼”与“归仁”
 - “无为”与“自然”
 - “兼爱”与“尚同”
 - “变法”与“专制”
- 《史记》中记载：“二世元年七月，发闾左適戍渔阳九百人，屯大泽乡……会天大雨，道不通，度已失期。失期，法皆斩。”由此爆发了
 - 陈胜吴广起义
 - 绿林赤眉起义
 - 黄巾起义
 - 黄巢起义
- 示意图能够直观地反映历史现象。对右图所示历史事件的作用解释准确的是
 - 加速了国家分裂
 - 增强了诸侯势力
 - 扩大了王国疆域
 - 加强了中央集权




8. 古代思想家认为“神”是“形”之“君”。因此，艺术表现也要以神为主。东晋有一位画家提出了“以形写神”和“传神写照”的见解，并创作了《洛神赋图》等名作。他就是
- A. 王羲之 B. 顾恺之 C. 颜真卿 D. 吴道子
9. 有学者评价某个朝代：虽然只有短短三十多年，但“留下的物质遗产、文化遗产和政治遗产，比如大运河、科举制和三省六部制，则直到明清两代都让人受用无穷”。他评价的是
- A. 秦朝 B. 西晋 C. 隋朝 D. 唐朝
10. 唐玄宗在位前期选贤任能，改革吏治，发展生产，大兴文治，改革兵制，将唐朝推向全盛时期。历史上称这一时期为
- A. 光武中兴 B. 贞观之治 C. 开元盛世 D. 康乾盛世
11. “两税之立，惟以资产为宗，不以丁身为本，资产少者则其税少，资产多者则其税多。”此赋税制度的实施
- A. 推动了租庸调制继续实行 B. 保证了国家的财政收入
- C. 加重了对农民的人身控制 D. 杜绝了土地兼并的问题
12. 某历史学习小组搜集了以下三则史料，他们研究的主题应是
- ①当今赋出于天下，江南居十九。（韩愈）

②天宝已后，戎事方殷，两河宿兵，户赋不入，军国费用，取资江淮。（唐宪宗）

③而吴中又为东南根柢，语曰：“苏湖熟，天下足。”（陆游）
- A. 安史之乱的危害 B. 文学体裁的演变
- C. 经济重心的南移 D. 赋税制度的沿革
13. 北宋中期，“满朝朱紫贵，尽是读书人”，“今世用人，大率以文词进……虽有武臣，盖仅有也”。这体现出当时
- A. 崇文抑武 B. 守内虚外 C. 藩镇割据 D. 无为而治
14. 宋代在婚聘上的一大变化是比较计较婚姻关系的物质利益，富商娶宗室女是司空见惯的现象。这是因为
- A. 士族阶层开始衰落 B. 政府不再重农抑商
- C. 商品经济繁荣发展 D. 程朱理学受到尊崇
15. 钱穆先生在《国史大纲》中指出：“元人所谓‘行中书省’，即是活动的中书省，即中枢政权之流动分布。其意惟恐一个中央政权不足控驭此广土众民，乃专为蒙古狭义的部族政权而设此制度。”可以判断，“行中书省”是
- A. 中央的派出机构 B. 皇帝的中枢秘书机构
- C. 地方的自治机构 D. 掌管民族事务的机构

16. 右图为位于积水潭附近的汇通祠（今郭守敬纪念馆）的简仪模型。简仪是元朝科学家郭守敬创制的一种测量天体位置的仪器。此外，他还编定了



- A. 《授时历》 B. 《梦溪笔谈》
C. 《农书》 D. 《蒙古秘史》

17. 有学者称赞某个历史人物的作为：“廓清了东西方海上交通道路，沟通了东西方经济贸易和文化交流，完成了中国对外交往从陆路向海路的重大转折”，“增进了当时中国对国外的了解”，“在中外文明交流史上谱写了崭新的篇章”。他赞扬的应是

- A. 玄奘 B. 戚继光 C. 郑和 D. 林则徐

18. 中国古代的医学成就辉煌，是传统文化中的瑰宝。以下医学著作，成书于明朝的是

- A. 《黄帝内经》 B. 《神农本草经》 C. 《千金方》 D. 《本草纲目》

19. 以下言论中，体现明末清初黄宗羲思想主张的是

- A. “为天下之大害者，君而已矣”
B. “一理之实，而万物分之以为体”
C. “天理即是良知，千思万虑，只是要致良知”
D. “诸不在六艺之科孔子之术者，皆绝其道，勿使并进”

20. 雍正帝“虽深居大内，而于各地官僚之作为，政治、经济及社会动态，无不了如指掌。”这是因为他

- A. 废除了宰相 B. 沿用了奏折制度
C. 设立了内閣 D. 实行了改土归流

21. 中国近代某部著作被誉为了解外国知识的“百科全书”，是近代中国最早介绍外国历史地理的书籍之一，作者还提出了“师夷长技以制夷”的思想。这部著作是

- A. 《海国图志》 B. 《瀛寰志略》 C. 《资政新篇》 D. 《变法通议》


22. 清朝从道光以前，总督用汉人的很少，兵权全在满族手里；而 1864 年时，10 名总督中汉人占 9 名，15 名巡抚则全部由汉人担任。引发此重大变化的是

- A. 鸦片战争 B. 太平天国运动 C. 保路运动 D. 义和团运动

23. 1880 年，左宗棠创办的兰州机器织呢局开工。他寄望：“今日之学徒，皆异时师匠之选，将来一人传十，十人传百，由关内而及新疆，以中华所产羊毛，就中华织成呢片，普销内地，甘人自享其利，而衣褐远被各省。”下列对材料信息的解读，正确的是

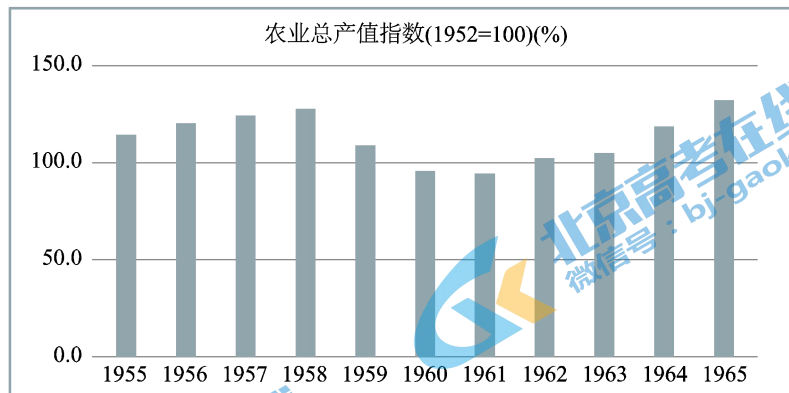
- ①此时清政府已经收复新疆 ②完整的学校制度建立起来
③该织呢局是洋务民用企业 ④内地民众放弃了传统服饰
A. ①③ B. ①④ C. ②③ D. ③④

30. 2020年夏,根据真实历史事件改编的电影《八佰》上映后引起轰动。它讲述了1937年“八百壮士”在团长谢晋元的带领下坚守上海四行仓库、阻击日军的英雄事迹。这一事件
- A. 标志着中国局部抗战的开始 B. 是淞沪会战的重要组成部分
C. 打破了日军的“囚笼政策” D. 取得了正面战场的最大胜利
31. 日军华北派遣军司令部在1943年综合战果报道中说:“敌大半为中共军,与蒋军相反,在本年交战一万五千次中,和中共的作战占七成五。在交战的二百多万敌军中,半数以上也都是中共军。”该材料反映了
- A. 国民政府推行“攘外必先安内”方针 B. 国共合作、团结抗战的局面得以初步形成
C. 中共军队数量超过国民党军占据优势 D. 中国共产党在抗战中发挥了中流砥柱作用
32. 抗日战争胜利后,国共两党经过重庆谈判签署了
- A. 《双十协定》 B. 《中国土地法大纲》
C. 《共同纲领》 D. 《国内和平协定》
33. 邓小平在某次军事行动前强调:“跃进大别山,解放中原,这是中央的第一步棋;下一步棋,就是以中原为阵地,再来一个跃进,打过长江,解放全国。”“中央的第一步棋”的重要意义在于
- A. 揭露了国民党假和平的真面目 B. 揭开了人民解放战争战略反攻的序幕
C. 基本摧毁了国民党军队的主力 D. 结束了国民党集团在大陆的反动统治
34. 下列漫画题为《过去与现在》,于1950年6月13日刊载于《解放军日报》。比较二者的不同,其变化的主要原因在于党和政府



- A. 进行了“银元之战”和“米棉之战” B. 实施了第一个五年计划
C. 肃清各地的土匪和一切反革命武装 D. 基本完成社会主义改造
35. “在_____期间……全国各族人民举国同心支撑起这场事关国家和民族前途命运的伟大抗争,最终用伟大胜利向世界宣告‘西方侵略者几百年来只要在东方一个海岸上架起几尊大炮就可霸占一个国家的时代是一去不复返了!’”横线上应填入
- A. 一二·九运动 B. 百团大战
C. 平津战役 D. 抗美援朝战争

36. 下图为中国 1955—1965 年农业总产值指数变化柱状图。以下解读中，正确的有



- ①总体：这一时期农业虽然经历曲折但总体仍有发展
- ②1955—1958 年：土地改革陆续完成推动了农业发展
- ③1958—1961 年：人民公社化运动挫伤农民的积极性
- ④1961—1965 年：中央对国民经济的调整取得了成效

- A. ①②③ B. ①②④ C. ①③④ D. ②③④

37. “三线建设”从 1964 年开始，进行了十多年。在贵州、陕西及鄂西、湘西等地区建立起许多军事工业基地，在西部地区建成攀枝花大型钢铁联合企业等一大批工业基地，还开工兴建成昆、贵昆、川黔、湘黔等铁路。可见，“三线建设”

- ①增强了国家的国防力量
- ②推动沿海地区的城市化进程
- ③改善了我国的工业布局
- ④促进了国民经济的平衡发展

- A. ①② B. ①③ C. ①④ D. ③④

38. 中国共产党自成立以来召开了许多重要的会议，其中开启了改革开放和社会主义现代化建设新时期的会议是

- A. 中共八大
- B. 中共十一届三中全会
- C. 中共十四大
- D. 中共十五大

39. 1997 年 7 月 1 日零时，《南京条约》议约地——静海寺敲响了警示钟，155 声雄浑厚重的钟声久久回荡在古城南京的上空。在这一天

- A. 举行了开国大典
- B. 达成了“九二共识”
- C. 香港回归祖国怀抱
- D. 澳门特别行政区成立

40. 2001 年中国货物贸易进出口总额为 5097 亿美元，2004 年突破 1 万亿美元，2007 年再破 2 万亿美元大关，2011 年突破 3 万亿美元大关。中国对外贸易规模实现这些重大突破主要得益于

- A. 沿海港口城市的开放
- B. 城市经济体制改革综合试点
- C. 邓小平发表南方谈话
- D. 中国正式加入世界贸易组织

第二部分（非选择题 共 40 分）

本部分共 3 小题，共 40 分。

41. (17 分) 我国统一多民族封建国家的建立、巩固与发展

有学者指出，秦汉时期是中国文明发展史上一个极为重要的时期：

- ①这是中央集权制度创建、健全并得以初步确立的时期；
- ②这是由文化多元走向文化思想相对统一并确立社会主导思想的时期；
- ③这是一个以开放和发展为主题的大时代……

(1) 结合所学，为以上分论点分别列举出相应的史实论据。(3 分)

公元 382 年，前秦苻坚执意伐东晋，苻融劝阻说：“国家本戎狄也，正朔会不归人。江东虽微弱仅存，然中华正统，天意必不绝之。”

《魏书》中记载，韩显宗给孝文帝的上书中谴责南朝汉族统治者说：“自南伪相承，窃有淮北，欲擅中华之称。”

(2) 阅读材料，苻融对前秦政权和韩显宗对北魏政权的看法有何不同？请结合所学分析原因。(6 分)

辽是一个半游牧半农耕国家，兼有两种不同的社会经济形态。辽太宗一度南掠中原，契丹贵族大肆劫掠，激起中原人民的反抗。在感叹“我不知中国之人难制如此”之余，辽太宗根据南北生产方式、生活习俗和民族构成的不同，采取相应的统治方式。随着时间的推移，这种政治策略演化为基本制度：“官分南北，以国制治契丹，以汉制待汉人……北面治宫帐、部族、属国之政，南面治汉人州县、租赋、军马之事。因俗而治，得其宜矣。”

(3) 依据材料，指出辽朝国家治理的特点，并简述其意义。(4 分)

康雍乾三朝绘制疆域图简况

康熙朝	1708 年，康熙“谕传教西士分赴内蒙各部、中国各省，遍览山水城廓，用西学量法，绘画地图。”于 1718 年，完成了《皇舆全览图》。
雍正朝	沿用为康熙朝测绘地图的西方传教士，对于尚不能进行精确测量的西域地区，仍在地图上以虚线标注。
乾隆朝	测绘工作以夫清技术人员为主，吸收在准部、回部进行实地测绘地图的成果，订正西藏部分错误。于 1760 年绘成的更完整、详细的全国地图《乾隆内府舆图》，达到了中国古代地图绘制的最高水平。

(4) 依据材料和所学，简要说明乾隆朝绘制《乾隆内府舆图》的原因。(4 分)

42. (11分) 近代中国人的道路探索

梁启超曾把近代国人的思想发展归纳为三个阶段：第一期，先从器物上感觉不足，觉得外国的船坚炮利确是我们所不及，于是福建船政学堂、上海制造局等渐次设立起来。第二期，是从制度上感觉不足，自从甲午败于日本，想到堂堂中国衰败到这田地，都因为政制不良。第三期，便是从文化根本上感觉不足，觉得社会文化是整套的，要拿旧心理运用新制度决计不可能，要求全人格的觉悟。

(1) 近代国人为解决“器物”“制度”和“文化”上的不足进行了积极探索。结合所学，各写出一个对应的历史事件；从中任选一件，概述其历史作用。(5分)

在湘赣边界的斗争中，毛泽东指出：要进行工农割据，必须是武装的，强调军事根据地的建设。若只有地方性质的赤卫队而没有正式的红军，则只能对付挨户团，而不能对付正式的白军。

土地革命是中国民主革命的基本内容。毛泽东在井冈山地区进行土地革命试点，此后颁布的《井冈山土地法》中规定：“没收一切土地归苏维埃政府所有……以人口为标准，男女老幼平均分配。”

革命根据地是中国革命的主要战略阵地，不建设根据地，武装斗争就会因为没有可靠后方做依托而陷于失败，土地革命的成果也无法保住。毛泽东领导湘赣边界军民对根据地进行了一系列建设，主持制定《遂川县工农兵政府临时政纲》，内容涵盖政治、经济、文化、军事等多个方面。

(2) 依据材料，概括“工农武装割据”思想的主要内容，并作简要评价。(6分)




1929至1932年农村革命根据地分布示意图

43. (12分) 现代中国的外交成就

1954年周恩来访问印度和缅甸期间，多次提到中国关于和平共处五项原则的主张。他指出：“世界各国不分大小强弱，不论其社会制度如何，是可以和平共处的。”这一主张被两国领导人认同并写入了联合声明。

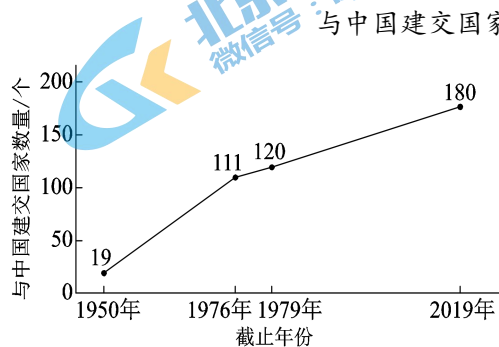
同年，毛泽东提出：“这五项原则是适合我国的情况的，我国需要长期的和平环境。”1955年万隆会议通过的处理国际关系的十项原则是和平共处五项原则的引申和发展。



周总理修改的《中印两国总理联合声明中方草案》

(1) 依据材料，概括和平共处五项原则提出的目的和意义。

(4分)



时间	亚洲	非洲	欧洲	美洲	大洋洲
1949—1969年	15	19	15	1	0
1970—1979年	12	25	15	13	5

——整理自外交部网站资料

(2) 依据材料并结合所学，归纳 20 世纪 70 年代中国外交的特点。(4分)

习近平外交的亮点之一，是“一带一路”重大倡议。这个合作倡议得到热烈响应，几年内有上百个国家和国际组织表达了参与意愿，地理范围扩大到中东、非洲、中东欧和亚太等地区，纳入的多半是新兴经济体和发展中国家，总人口（约 44 亿人）和经济总量（约 21 万亿美元）分别占到全球六成和近三成。中国政府先后出资 400 亿元和 1000 亿元人民币建立“丝路基金”，大力推动亚洲基础设施投资银行（简称“亚投行”，中国在其初始股本 1000 亿美元中占有重要比重），以满足基础设施建造和相关投资信贷的需求。

(3) 结合材料和所学，从条件、表现、影响等方面谈谈你对中国特色大国外交的理解。

(4分)

北京市西城区 2020 — 2021 学年度第一学期期末试卷

高一历史参考答案

2021.1

第一部分（选择题 共 60 分）

本部分共 40 小题，每小题 1.5 分，共 60 分。

1	2	3	4	5	6	7	8	9	10
D	D	B	A	B	A	D	B	C	C
11	12	13	14	15	16	17	18	19	20
B	C	A	C	A	A	C	D	A	B
21	22	23	24	25	26	27	28	29	30
A	B	A	D	C	C	B	C	D	B
31	32	33	34	35	36	37	38	39	40
D	A	B	A	D	C	B	B	C	D

第二部分（非选择题 共 40 分）

本部分共 2 小题，共 40 分。

41. (17 分)

(1) ①秦朝最早确立皇帝制和三公九卿制，在全国推广郡县制；汉朝设立中朝，确立察举制，设刺史监察地方等。

②秦朝统一文字；汉武帝时期，确立儒学的独尊地位等。

③张骞出使西域，开辟了中西交通道路（“丝绸之路”）；佛教随之传入中国并传播等。

（各列出一个史实即可，3 分）

(2) 不同：苻融认为前秦仍为“戎狄”；韩显宗则认为北魏是中华正统。（2 分）

原因：当时前秦虽然学习汉族的典章制度，但民族交融尚不充分；北魏孝文帝改革大力推动民族交融，加速了北魏政权的封建化进程。（4 分）

(3) 特点：因俗而治；双轨理政（或官分南北）。（2 分）

意义：适应了不同社会发展状况的需要，有利于各民族地区的安定，有利于国家的稳定和发展。（2 分）

(4) 原因：清军击败了准噶尔部的进攻，平定了大、小和卓的叛乱；清朝的版图得到进一

步开拓；大一统国家进行有效管理的需要；此前绘制的疆域地图存在不准确之处；地图测绘技术更加进步等。（答出1点2分，2点3分，3点4分）

42.（11分）

（1）事件：器物——洋务运动；制度——戊戌维新运动（答清末新政或预备立宪、辛亥革命也可）；文化——新文化运动。（3分）

示例：洋务运动引进了资本主义国家的机器生产技术，开启了中国早期现代化的历程；但未能达到保障国家安全、抵抗外敌侵略的目的。

戊戌维新运动推动了中国民族资本主义的发展和新思想的传播，在一定程度上冲击了旧式官僚体制；由于守旧势力的阻挠和维新派的局限，未能实现预期的目标。

新文化运动冲击了封建思想的统治地位，推动了思想文化革新，促进了国人思想的启蒙和解放。

（选择一个对应的历史事件进行正确表述即可，2分）

（2）主要内容：土地革命、武装斗争和根据地建设三者紧密结合。（2分）

评价：“工农武装割据”思想有利于革命根据地的巩固和扩展；工农武装割据和革命根据地的建立，开辟了中国革命新道路；是对大革命失败后中国革命道路问题的正确探索；也是马克思主义中国化的重要成果等。（任答2点，给4分）

43.（12分）

（1）目的：为了维护和平和国家主权，为国家建设争取有利的国际环境。（2分）

意义：和平共处五项原则超越社会制度，被越来越多的国家认同和接受，逐渐成为处理国际关系的基本准则。（2分）

（2）特点：中国外交打开了新局面；出现了又一次建交高潮；与美洲国家的关系迅速发展；建交国家遍布五大洲等。（答出1点2分，2点3分，3点4分）

（3）条件：遵循和平发展理念；改革开放以来，中国的综合国力不断提升。

表现：提出“一带一路”倡议、建立“丝路基金”和推动建立“亚投行”，体现出中国希望构筑互相尊重、公平正义、合作共赢的新型国际关系。

影响：形成全方位外交布局，为国家现代化建设争取到良好的国际环境，并带动世界经济发展；中国从经济全球化的参与者变成更具影响力和作用力的推动者，国际影响力不断扩大。

（答出1个方面2分，2个方面3分，3个方面4分；言之成理可酌情给分）

关于我们

北京高考在线创办于 2014 年，隶属于北京太星网络科技有限公司，是北京地区极具影响力的中学升学服务平台。主营业务涵盖：北京新高考、高中生涯规划、志愿填报、强基计划、综合评价招生和学科竞赛等。

北京高考在线旗下拥有网站门户、微信公众平台等全媒体矩阵生态平台。平台活跃用户 40W+，网站年度流量数千万量级。用户群体立足于北京，辐射全国 31 省市。

北京高考在线平台一直秉承“精益求精、专业严谨”的建设理念，不断探索“K12 教育+互联网+大数据”的运营模式，尝试基于大数据理论为广大中学和家长提供新鲜的高考资讯、专业的高考政策解读、科学的升学规划等，为广大高校、中学和教科研单位提供“衔接和桥梁纽带”作用。

平台自创办以来，为众多重点大学发现和推荐优秀生源，和北京近百所中学达成合作关系，累计举办线上线下升学公益讲座数百场，帮助数十万考生顺利通过考入理想大学，在家长、考生、中学和社会各界具有广泛的口碑影响力

未来，北京高考在线平台将立足于北京新高考改革，基于对北京高考政策研究及北京高校资源优势，更好的服务全国高中家长和学生。



微信搜一搜

北京高考资讯