

2021 北京顺义高三（上）期末

历史

第一部分

本部分共 15 题，每题 3 分，共 45 分。在每题列出的四个选项中，选出最符合题目要求的一项在答题卡上涂黑。

1. 大孟鼎是西周早期青铜器。鼎内有铭文 291 字，记载了周康王向孟讲述文王、武王建国的经验，告诫孟要忠心辅佐王室，还记载了周王赐予孟的器物与人口等信息，以及孟对康王的颂词等。对大孟鼎认识正确的是



大孟鼎



大孟鼎铭文片段

- ①为研究分封制提供了重要史料
- ②可以研究青铜器制造技术
- ③标志着楷书艺术逐渐发展成熟
- ④反映西周时期的社会状况

- A. ①②③ B. ②③④ C. ①②④ D. ①③④

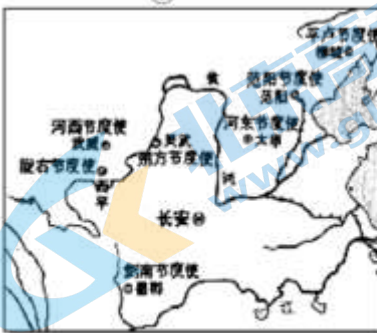
2. “时空观念”是历史学科核心素养的重要组成部分，以下四幅地图，按时间先后顺序排列正确的是



①



②



③



④

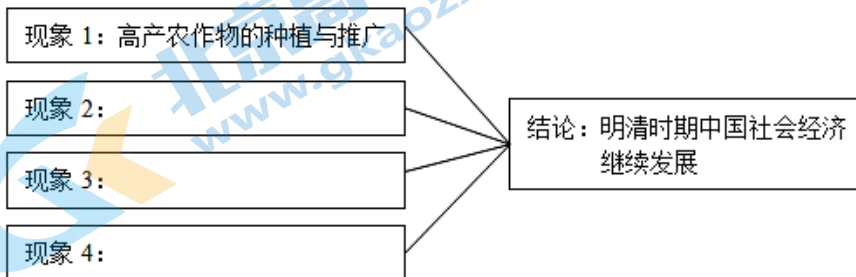
- A. ③②①④ B. ④②③① C. ②③①④ D. ②④①③

3. 阅读以下的“宋朝赋税结构变化表”，这可用来说明宋朝

年代	农业税(万贯)	非农业税(万贯)	农业税：非农业税
至道末年(997年)	2408.1	1567.3	60：40
天禧末年(1021年)	2641.2	3874.0	40：60
熙宁十年(1077年)	2021.3	5117.2	28：72

- A. 农业税一直占据主导地位 B. 重农抑商的政策被政府彻底废除
C. 南方经济超过了北方经济 D. 商贸税收逐渐成为政府重要财源

4. 某同学参加主题为“明清时期社会经济”的研究性学习，负责的任务是“明清时期中国社会经济继续发展”，他应采用的论据包括



- ①农业产品商品化趋势加强 ②长途贩运和大宗贸易兴盛
③城镇商业呈现繁荣的景象 ④海禁和“闭关锁国”政策
A. ①②③ B. ②③④ C. ①③④ D. ①②④

5. 1842年鸦片战争结束后，轮船、火车等交通工具陆续传入中国，对中国近代社会产生的影响包括

- ①阻碍了中国近代交通的发展 ②促进了人口流动和信息交流
③便利了列强进一步掠夺中国 ④客观上推动了中国的近代化
A. ①②③ B. ②③④ C. ①③④ D. ①②④

6. 右图邮票中的“伊敦号”是轮船招商局初创时向英国购置的，1873年该船首航日本神户、长崎，开创了我国商轮驶入国际航线的历史。该材料表明



- A. 洋务运动实现富国强兵 B. 自然经济已经完全解体

C.航海运输业进入新阶段 D.造船工业取得重大进步

7. 1917年俄国十月革命胜利后，李大钊同志备受鼓舞，连续发表《法俄革命之比较观》、《庶民的胜利》、《我的马克思主义观》、《新纪元》等文章，热情讴歌十月革命。这些文章
- A.客观上推动马克思主义的进一步传播 B.增强了人们对社会主义的鉴别力
C.说明列强侵略严重破坏中国社会经济 D.表明中国知识分子救国有盲目性
8. 1938年，毛泽东在《论持久战》中指出：“抗日战争将经历三个阶段。第一个阶段，是敌之战略进攻、我之战略防御的时期。第二个阶段，是敌之战略保守、我之准备反攻的时期。第三个阶段，是我之战略反攻、敌之战略退却的时期。”这一论断
- A.指导我军取得了平型关大捷 B.指明了中国胜利的光明前景
C.扭转了正面战场的进攻颓势 D.粉碎了日军灭亡中国的计划
9. 1953年，为改善和发展同新兴民族独立国家的关系，新中国提出了“和平共处五项原则”；1956年，中国政府指出社会主义国家之间的关系也应该建立在和平共处五项原则之上。这说明和平共处五项原则
- A.冲破帝国主义的孤立和遏制 B.消除周边国家的恐惧和疑虑心理
C.成为我国处理对外关系的准则 D.改善中国同资本主义国家的关系
10. 1986年，钱学森回忆说：“中国过去没有搞过大规模科学技术研究，‘两弹’才是大规模的科学技术研究，那要几千人、上万人的协作，中国过去没有。组织是十分庞大的，形象地说，那时候我们每次搞试验，全国的通讯线路将近一半要由我们占用，可见规模之大。”材料反映新中国取得成就的根本原因是
- A.科技工作者团结协作精神 B.“科教兴国”战略的推动
C.先进通讯方式的技术支持 D.社会主义制度优越性的保障
11. 古希腊医师希波克拉底被西方尊为“医学之父”，他曾做过实验，对出现与人类癫痫症患者同样症状的山羊头部进行研究，发现山羊头部“充满了液体与恶臭，证明了疾病而非神明是损害身体的罪魁祸首”。由此可知古希腊人
- A. 已经完全摆脱了神灵崇拜 B. 尝试通过实验解释疾病的发生
C. 疾病和宗教已经脱离关系 D. 理性思维占据了当时主导地位
12. 欧洲人认为哥伦布发现美洲使美洲“走出原始的野蛮状态，进入文明时代”；一些拉美国家认为哥伦布到达美洲是“苦难的开始”；联合国教科文组织则认为是“两个大陆相遇”。据此可知
- A.历史解释受立场的影响而各异 B.不同文明之间的交融成为主流
C.要用发展的眼光认识历史事物 D.各种观点都需要大量史料佐证
13. 以下史实与结论的逻辑关系对应正确的是

选项	史实	结论
A	公元前 594 年，梭伦进行改革	雅典民主制度到达顶峰

B	1689年，《权利法案》颁布	英国的责任内阁制和两党制形成
C	1861年，亚历山大二世签署“解放”法令	俄国近代工业化完成
D	1889年，《大日本帝国宪法》颁布	日本成为亚洲第一个立宪制国家

14. 1687年，牛顿的《自然哲学的数学原理》出版，1859年，达尔文的《物种起源》出版。这两部伟大的著作

- A. 标志近代科学诞生 B. 推动宗教改革兴起
C. 实现人类认识飞跃 D. 揭示社会发展真相

15. 下列国别、作家、文学流派和文学作品对应关系完全正确的是

- A. 法国巴尔扎克——批判现实主义——《人间喜剧》
B. 德国海涅——浪漫主义——《等待戈多》
C. 俄国托尔斯泰——荒诞主义——《战争与和平》
D. 英国拜伦——现代主义——《西风颂》

第二部分

本部分共5题，共55分。请将所有答案写在答题卡中。

16. (12分) 古代政治制度

统治者在设计政治制度时，面临的难题是什么？换言之，他们煞费苦心、处心积虑地进行制度上的改造，要解决什么样的政治难题？

统治者面对的政治难题主要有以下两个：

第一，如何防止地方力量坐大，形成对中央政府的致命挑战？

第二，如何防止外朝官僚集团坐大，形成对皇权的威胁与挑战？

运用史实说明中国古代是如何解决以上这两个问题的。（12分）

17. (10分) 古代治国思想

材料一 故明主使其群臣不游意于法之外，不为惠于法之内，动无非法……故以法治国，举措而已矣。法不阿贵，绳不挠曲。法之所加，智者弗能辞，勇者弗敢争。刑过不避大臣，赏善不遗匹夫。故矫上之失，诘下之邪，治乱决谬，一民之轨，莫如法。厉官威民，退淫怠，止诈伪，莫如刑。

——《韩非子·有度》

材料二 《春秋》大一统者，天地之常经，古今之通谊也。今师异道，人异论，百家殊方，指意不同，是以上亡以持一统；法制数变，下不知所守。臣愚以为诸不在六艺之科孔子之术者，皆绝其道，勿使并进。邪辟之说灭息，然后统纪可一而法度可明，民知所从矣。

(1) 依据材料一概括韩非子的治国理念。结合所学说明该理念是如何应用的。(4分)

(2) 依据材料二指出董仲舒的治国思想。结合所学分析出现这种思想的原因。(6分)

18. (9分) “荣氏”家族企业

材料一 1896年,荣氏兄弟决定筹办面粉厂。在办厂审批时因为没有送礼遭到当地士绅的反对,幸好两江总督刘坤一是倡导兴办实业的官员,一连下了八道批示要求地方官支持实业。最终在1902年保兴面粉厂创办。

材料二 1908年,“荣氏”企业面临第一次经济危机,一方面国内麦收不佳,美国面粉倾销,麦贵粉贱,“荣氏”茂新面粉厂连续3年巨额亏损,另一方面,荣宗敬因卷入投机风潮,亏本5万两,牵动钱庄资本,广生钱庄摇摇欲坠。

材料三 1914年“一战”爆发。西方列强忙于战争,还纷纷向中国大量订购面粉,荣氏企业便大力扩充规模……。到1921年,茂新、福新12个面粉厂,从最早的4部粉磨增加到301部,每日夜可出面粉76000多袋,占全国面粉产量的23.4%,发展速度之快,在整个中国企业史都是空前的。

材料四 南京国民政府成立后,实行扶植民间轻工业、统一货币、关税自主等政策。1928-1937年,中国工业产值年增长率达到8%以上。到抗战前,荣氏家族的面粉厂已飙升到14家,另外还创办了9家纺织厂,荣氏家族的企业达到了近代发来的最高水平。

材料五 抗战时期,荣氏工厂惨遭浩劫。抗战后,荣氏企业试图东山再起。但是继之而来的是国民党发动内战和官僚资本的压迫,社会政局动荡,再加上美国产品的涌入以及通货膨胀,荣氏企业始终难恢复战前的辉煌。

阅读材料,结合所学,评析“荣氏”家族企业的兴衰。(9分)

19. (12分) 新中国的经济发展

材料一 改革开放前,我国工业布局由沿海向内地推进。改革开放后,实现了东部沿海地区率先发展。上世纪90年代以来,中央相继作出了西部大开发、振兴东北地区等老工业基地、促进中部地区崛起等一系列重大决策,形成了区域共同繁荣、全面协调发展的愿景。

材料二

中国经济结构变化表(1978-2008)单位:%

类别	年份	1978	1990	2008
	农业	28.2	27.1	11.3

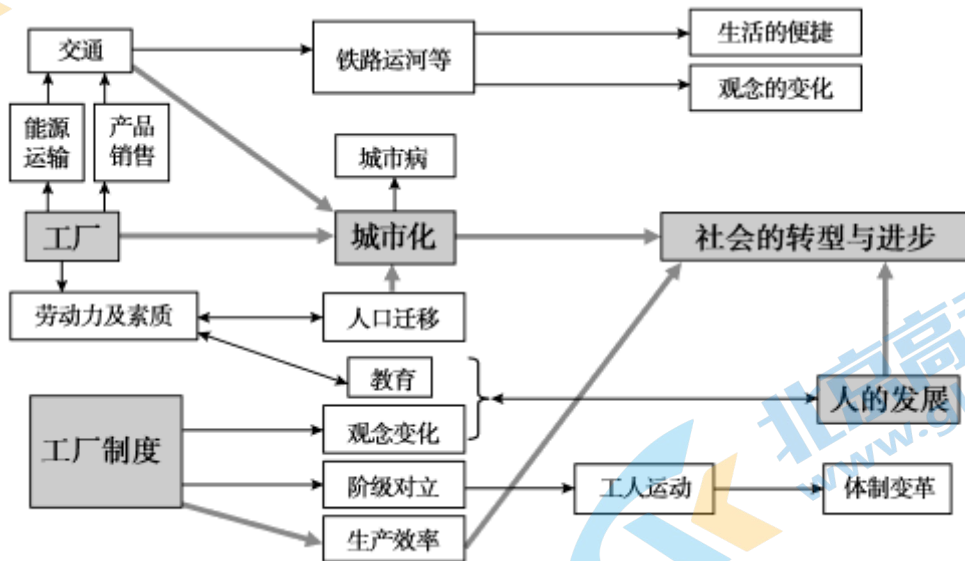
产业结构 GDP 占比	工业	47.9	41.3	48.6
	服务业	23.9	31.6	40.1
城镇人口占比	城镇人口	17.9	26.4	45.7
所有制经济工业	公有制	100	81.5	69.3
总产值占比	非公有制	0	18.5	30.7

(1) 依据材料一概括改革开放前后中国工业布局的变化。(4分)

(2) 依据材料二和所学,从“中国经济结构的变化”的角度,进行解读。(8分)

要求:史实准确,逻辑清晰,史论结合。

20. (12分) 工厂和工厂制度



依据图示和所学,围绕“工厂和工厂制度”对人类社会某一个方面的影响,进行论述。要求:观点明确,史论结合,逻辑清晰。(12分)

2021 北京顺义高三（上）期末历史

参考答案

一、选择题：（本题共 15 题，每题 3 分，共 45 分。请将正确答案的字母填入答案栏中。）

题号	1	2	3	4	5	6	7	8	9	10
答案	C	D	D	A	B	C	A	B	C	D
题号	11	12	13	14	15					
答案	B	A	D	C	A					

二、非选择题：（共 55 分）

16. （12 分）

说明一：汉武帝采取“推恩令”等方式以削弱地方诸侯王国的力量，解决了汉初以来日益严重的王国问题，加强了中央集权。北宋初期，为汲取唐末五代以来藩镇割据的历史教训，分别从行政上、军事上、财政上将地方的各项权力收归中央，形成了“强干弱枝”的局面，基本上解决了长期以来困扰统治者的中央与地方的矛盾问题。

（6 分）

说明二：君主要加强专制，就必须杜绝官僚集团势力的膨胀。汉武帝时期建立的“内朝”制度，开启了任用身边的侍从亲信参与处理军国大事的先河，分享了外朝官僚集团的决策权，加强了皇权的独断性。明朝废除宰相制度后，为了处理繁重的政务而设置的内阁，同样是直接听命于君主的内侍机构，外朝六部只有行政事务的执行力而无决策权，君主专制空前强化。（6 分）

17. （10 分）

（1）理念：君主应该用严刑峻法来管理国家。（2 分）

应用：秦国采用法家治国理念，通过商鞅变法，实现了富国强兵，统一六国，建立了统一的多民族国家。（任意 1 点 2 分）

（2）思想：罢黜百家，独尊儒术。（2 分）

原因：汉武帝时期，社会稳定，国力强盛，为大一统奠定基础；汉武帝加强中央集权需要思想上的统一；董仲舒的思想适合统治者的需要。（任意 2 点 4 分）

18. （9 分）

评析：19 世纪末期，荣氏家族企业在官僚的支持，实业救国思潮的推动下，开始艰难起步。由于国内小麦歉收，外国资本主义倾销面粉，导致荣氏企业艰难前行。1914 年第一次世界大战的爆发，西方列强忙于战争，需要大量粮食，向中国订购大量面粉，荣氏企业抓住机会，扩大规模，企业快速发展。南京政府成立后，扶植民族资本主义企业，给与优厚政策，荣氏家族企业达到顶峰。抗战时期，荣氏家族企业惨遭浩劫，抗战结束后，由于国民党发动内战，社会动荡。官僚资本主义对荣氏企业进行压迫以及美国产品的倾销，荣氏企业迅速衰落。

近代企业的发展与时代和创办者息息相关，荣氏家族企业是中国近代民族工业的杰出代表，它的兴衰史在一定程度上折射了中国民族资本主义发展的艰辛历程。（9分）

水平一（7-9分）	能够结合时代背景、经过、影响分析，史论结合，逻辑非常清晰。
水平二（4-6分）	没有结合时代背景分析，只有经过和影响，能够史论结合，有一定逻辑。
水平三（0-3分）	没有结合背景分析，只陈述史实，有一定的逻辑。

19. （12分）

（1）变化：改革开放前主要是内地发展；改革开放后，沿海地区迅速发展；到90年代后，变成区域间协同发展。（任意2点4分）

（2）（8分）

水平一（6-8分）	能够结合时代背景分析变化、史实准确，史论结合，逻辑非常清晰。
水平二（3-5分）	没有结合时代背景分析变化，只有变化，能够史论结合，有一定逻辑。
水平三（0-2分）	没有结合背景分析，没有变化，只陈述史实，有一定的逻辑。

示例：1978年十一届三中全会召开，实行了改革开放的伟大决策，对内实行家庭联产承包责任制，国有企业改革，对外开放，建立经济特区。1992年建立社会主义市场经济体制，2002年正式加入WTO,中国经济快速发展。经济结构发生重大变化，产业结构日趋合理，农业比重下降，服务业比重不断上升；城镇化进程的加快促进了城乡协调发展；所有制结构从单一公有制经济转向多种所有制经济共同发展。（6分）

从经济的发展变化我们可以看出，改革是促进经济发展的主要动力。国家经济要发展，要有稳定的社会环境，要坚持改革开放，要抓住经济全球化的机遇，迎难而上。（2分）

20. （12分）

水平一（9-12分）	观点明确，能够结合时代背景、经过、影响分析，史论结合，逻辑非常清晰。
水平二（5-8分）	观点明确，没有结合时代背景分析，只有经过和影响，能够史论结合，有一定逻辑。
水平三（2-4分）	没有观点，没有结合背景分析，只陈述史实，有一定的逻辑。
水平四（0-1分）	没有观点，史实和逻辑混乱。

示例：论点：工业革命推动城市化进程

工业革命后，由于工厂制度需要大量劳动力，农村人口向城市流动加快；城市人口增多，城市规模扩大，城市交通、居住环境改善，大量新兴城市出现；农业与乡村为主体的经济体制变成以工业与城市为主体的经济体制，城市化进程加快；但同时也产生了一系列城市问题，如人口拥挤，城市环境污染迅速增加等。

关于我们

北京高考在线创办于 2014 年，隶属于北京太星网络科技有限公司，是北京地区极具影响力的中学升学服务平台。主营业务涵盖：北京新高考、高中生涯规划、志愿填报、强基计划、综合评价招生和学科竞赛等。

北京高考在线旗下拥有网站门户、微信公众平台等全媒体矩阵生态平台。平台活跃用户 40W+，网站年度流量数千万量级。用户群体立足于北京，辐射全国 31 省市。

北京高考在线平台一直秉承“精益求精、专业严谨”的建设理念，不断探索“K12 教育+互联网+大数据”的运营模式，尝试基于大数据理论为广大中学和家长提供新鲜的高考资讯、专业的高考政策解读、科学的升学规划等，为广大高校、中学和教科研单位提供“衔接和桥梁纽带”作用。

平台自创办以来，为众多重点大学发现和推荐优秀生源，和北京近百所中学达成合作关系，累计举办线上线下升学公益讲座数百场，帮助数十万考生顺利通过考入理想大学，在家长、考生、中学和社会各界具有广泛的口碑影响力

未来，北京高考在线平台将立足于北京新高考改革，基于对北京高考政策研究及北京高校资源优势，更好的服务全国高中家长和学生。



微信搜一搜

北京高考资讯