

2018 北京十四中高 一（上）期中

政 治

2018. 11

班级：_____ 姓名：_____

注 意 事 项	1. 本试卷共 12 页，共 60 道小题，满分 100 分。考试时间 100 分钟。 2. 在答题卡上指定位置贴好条形码，或填涂考号。 3. 试题答案一律填涂或书写在答题卡上，在试卷上作答无效。 4. 在答题卡上，选择题用 2B 铅笔作答，其他试题用黑色字迹签字笔作答。 5. 答题不得使用任何涂改工具。	出题人：徐凌 审核人：张建波
------------------	---	-----------------------

第一部分 选择题（共 50 分）

一、选择题 在每小题列出的四个选项中，只有一项是最符合题目要求的。本大题共 50 小题，每小题 1 分，共计 50 分。

1. 在“商品—货币—商品”的流通过程中，“商品—货币”阶段的变化“是商品的惊险的跳跃。”这说明


- A. 商品生产者需要生产适销对路、质量上乘的商品。
- B. 商品生产者生产的商品就是失去了使用价值和价值
- C. 货币作为商品交换的媒介必须是观念上的货币
- D. 货币作为一般等价物在物物交换中起决定作用

2. 暑假快结束了，小明为新学期做着准备，在某书店购买了一套标价为 68.60 元的名著读本——《四世同堂》，这里的 68.60 元是

- ①一定数量的货币表现出来的商品的使用价值
- ②一定数量的货币表现出来的商品的价值
- ③正确反映了这套书的成本
- ④由市场需求决定的价格


- A. ①②
- B. ①③
- C. ②③
- D. ②④

3. 下图中，货币执行的职能是



- A. 世界货币
- B. 贮藏手段
- C. 价值尺度
- D. 流通手段

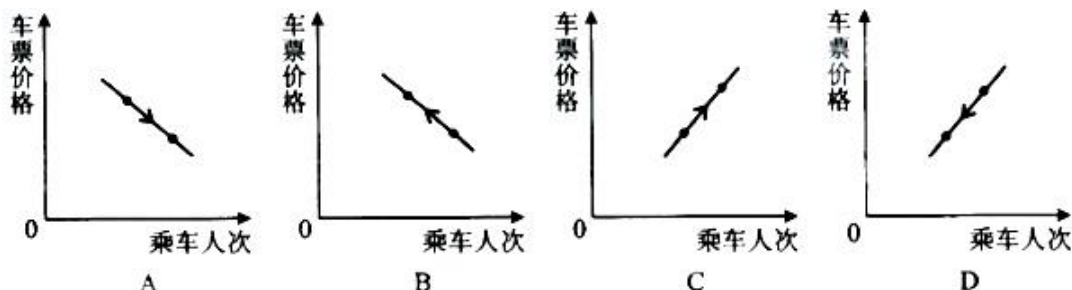
4. 假如市场上玫瑰花在某一时段价格与价值之间的关系如下图所示，回答问题：



请问：玫瑰花的市场价格是怎么形成的

- A. 由商品的使用价值决定，使用价值越大，商品价格越高

- B. 由商品的价值决定，并受市场供求关系影响
 C. 由生产商品的社会必要劳动时间和供求关系共同决定
 D. 由价值规律和买卖双方共同讨价还价决定的
 5. 北京市下调公交车车票价格，乘坐公交车的人次增加，能够正确反映这一变化的图形是



6. 福州至厦门高速铁路客运专线(动车)开通后，福州的张先生和李先生在“乘坐动车还是汽车前往厦门”的讨论中，张先生说：我会选择动车，虽然它的价格高一些，但速度快，用时少。李先生说，我会选择汽车，虽然它的速度没有动车快，但价格低。由此可见

- A. 商品价格的高低受供求关系影响 B. 商品价格的高低反映商品质量的优劣
 C. 人们选择商品关注的是商品的有用性 D. 人们选择商品关注的是使用价值与价值的统一

7. 经济学中，“口红效应”来自于某著名化妆品牌公司的调查：每当经济危机的时候，该公司旗下的主要化妆品的销量会全面下滑，反而相对廉价的口红销量会逆市出现上涨。这背后可能的原因是

- A. 价格变动对生活必需品影响大 B. 口红是其他化妆品的廉价替代品
 C. 经济危机时期人们更加注重外貌 D. 口红属于奢侈品，一般不会受到经济危机的影响

8. 图 5、6 中商品甲、乙是两种互不关联的普通商品。当两商品的价格 P 均从 P_1 同幅下降到 P_2 时。对于需求量 Q 的变化，若有如下判断，其中正确的是：

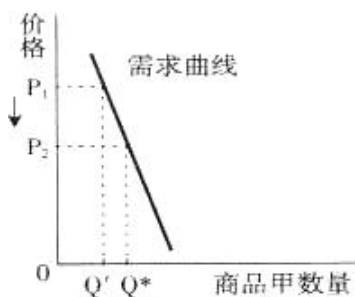


图 5

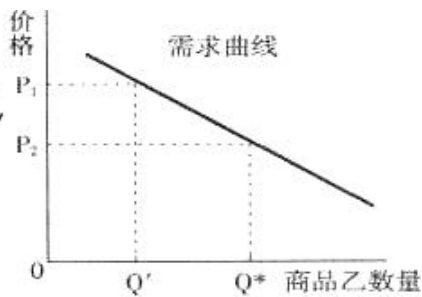
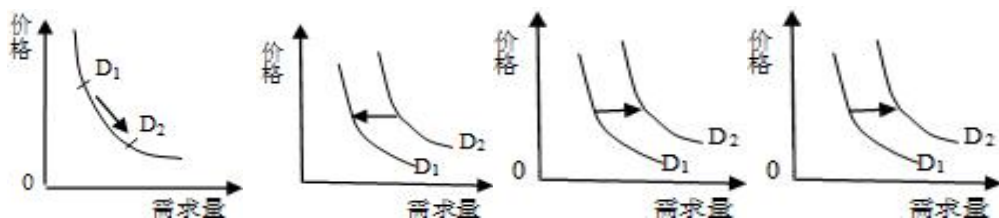
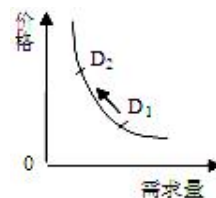


图 6

- ①商品甲的需求量现对于价格的变动较大 ②商品乙的需求量现对于价格的变动较大
 ③两商品相比，商品甲是高档耐用品 ④两商品相比，商品甲是生活必需品
 A. ①③ B. ①④ C. ②③ D. ②④

9. 截止 2017 年底，我国对获得许可在中国境内销售的纯电动以及符合条件的插电式混合动力、燃料电池三类新能源汽车，免征车辆购置税。下列图示中正确反映这一政策对新能源汽车的需求产生影响的是()



A B C D

10. 某国突然宣布即日废除市面上流通的两种旧版 500 和 1000 卢比的高面值货币，以打击腐败和黑钱交易，民众可在指定日期之前把旧钱拿去银行换成新钱。据估算，作废的两种旧纸币占该国流通货币市场总值的 85%，一时之间，该国现金供应十分紧张。如果该国现金供应不足的情况持续，则

- ① 适合提高利率，刺激经济发展 ② 会导致物价上涨，有通货膨胀风险
③ 会刺激无现金支付的商品交易 ④ 可能导致消费减少，影响经济增长
A. ①② B. ①③ C. ②④ D. ③④

11. 人民币外汇牌价（人民币 /100 美元）

时间	美元	人民币
2017 年 8 月 31 日	100	660.10
2018 年 4 月 10 日	100	630.71

上表情况说明

- A. 外汇汇率降低，美元币值下降，人民币币值上升
B. 外汇汇率升高，美元币值上升，人民币币值下降
C. 外汇汇率升高，美元币值下降，人民币币值上升
D. 外汇汇率降低，美元币值上升，人民币币值下降

12. 观察右图，如果沿该趋势持续变化，下列描述合理的是

- A. 赴美留学、出境旅游、海淘可获更大利好
B. 外贸企业扩大进口规模以获得更高利润
C. 相关企业宜增加美元资产，减少美元负债
D. 相关企业宜减少美元资产，增加美元负债



13. 李先生通过预约，用 1000 元现金兑换了 10 张面值为 100 元的航天纪念钞。根据中国人民银行的通告，航天纪念钞的发行数量为 3 亿张，与现行流通人民币职能相同，与同面额的人民币等值流通。航天纪念钞

- A. 与同面额人民币等值流通，没有升值空间 B. 不具有流通手段职能，不能在商场使用
C. 可以作为商品在淘宝的网店上加价出售 D. 被李先生持有后，就只能退出流通领域

14. 某一时期，航空公司从台北飞往上海的有关数据如下：

飞行方式	票价	机位供给	机位需求
台北直飞上海	3,000 元	3,500 位	2,000 位
台北经香港至上海	2,000 元	4,500 位	1,000 位

根据以上数据，下列推断合理的是

- A. 台北直飞上海的航班的供给量不能够满足需求
B. 多数乘客并不认为直飞的票价比转机贵是合理的
C. 只有少数航空公司有直飞上海，让旅客无从选择
D. 多数乘客更在意转机所带来的额外的时间成本

15. 走进商场，我们发现商品的陈列是有讲究的。如数码照相机旁放置记忆卡或电池，香皂旁放置皂盒，牙膏旁放置牙刷。在这里，每组中的两种商品是

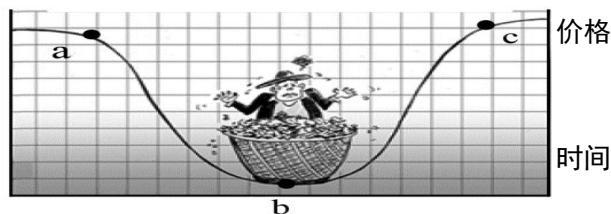
- A. 替代商品 B. 价值量相同的商品 C. 互补商品 D. 价格档次相同的商品

16. 在有互补关系的商品中，一种商品的价格上升，不仅使消费者_____对该商品的需求量，而且会_____对另一

种商品的需求量。

- A. 增加 减少 B. 增加 增加 C. 减少 增加 D. 减少 减少

某食用花卉价格走势



17. “暴涨惊市，暴跌伤农。”上图为云南某地区近年食用花卉收购价格的走势图。不考虑其他因素，根据图中价格走势，可以得出的合理结论是

- A. 价格处于 a 点时，该食用花卉处于买方市场
B. 价格处于 b 点时，该食用花卉的生产规模会扩大
C. 价格从 a 点到 b 点，该食用花卉的替代品需求量可能会减少
D. 价格从 b 点到 c 点，该食用花卉的互补品需求量可能会增加

18. 据史书记载，北宋范仲淹任杭州太守时，适逢浙江饥荒，谷价飞涨，百姓叫苦不迭。这时，范仲淹并未平抑谷价，反而张榜要求商贩抬高价格。消息传开后，许多外地粮商纷纷将谷米运往杭州，市场饱和，价格自然回落。范仲淹的高明之处在于

- A. 通过发布行政命令直接降低谷价 B. 通过抑制需求来影响谷价
C. 抬高价格刺激谷米生产规模扩大 D. 借助市场之手缓解谷米供求矛盾

19. 在某个展览会上，小王同学了解到：40 年前中国老百姓每赚 100 元钱，有 60 元钱需要购买食品；40 年后，这个数字降到了 30 元钱以下，这一变化显示

- ①家庭消费水平提高了
②我国恩格尔系数提高了
③家庭消费水平降低了
④我国恩格尔系数降低了
- A. ①② B. ①④ C. ②③ D. ③④

20. 2016 年 11 月 18~20 日，第十六届国际有机食品和绿色食品博览会在北京举行，它涵盖了全国范围内的有机绿色食品，其中无污染的有机蔬菜尽管价格高，仍受到消费者的青睐。关于无污染的有机蔬菜价格高的原因，分析正确的是

- ①无污染的有机蔬菜的高品质决定了其价格高
②无污染的有机蔬菜的劳动耗费多决定了其价格高
③无污染的有机蔬菜的供给量有限导致了其价格高
④无污染的有机蔬菜的社会劳动生产率提高导致了其价格高
- A. ①② B. ①③ C. ②③ D. ②④

B2C	是企业通过互联网为消费者提供网上零售商店，消费者在网上购物，再通过物流公司把商品送到消费者手中。
O2O	是消费者在线上购买或预定商品、服务，再到线下消费，可使消费者享受到比线下直接消费更便宜的价格。

21. 上表是两种电子商务模式 B2C (Business To Customer) 和 O2O (Online To Offline) 的比较。据上表可以作出的合理推断是

- A. B2C 满足了人们的从众心理, O2O 满足了人们的求实心理
- B. B2C 减少了商品的流通环节, O2O 避免了商家的欺诈现象
- C. B2C 使商家扩大了消费群体, O2O 改善了居民的消费结构
- D. B2C 适合买图书文具等商品, O2O 较适合餐饮娱乐等消费

22. 针对国内有效需求不足而居民的银行储蓄节节上升的趋势, 许多专家呼吁: 国家应尽快完善社会保障制度, 使居民老有所养, 病有所医, 通过减少居民对养老、医疗的顾虑, 刺激居民消费。这个观点说明, 对消费有重要影响的是

- A. 当前的收入水平
- B. 收入差距
- C. 未来收入的预期
- D. 物价水平

23. 2016 年 1—8 月北京社会消费品零售额增长情况

(数据来源: 北京市统计局、国家统计局北京调查总队)

项目	零售总额	部分消费品类别						
		食品	衣服	移动电话	家电和音像器材	教育文化产品	体育娱乐产品	各种服务
同比增长	4.3%	4.3%	1%	12.6%	12.8%	11.5%	21.4%	11.8%

根据表格, 下列推断合理的是, 北京市

- ①居民当前可支配收入有所增加
 - ②消费品价格呈现持续下降趋势
 - ③居民更注重满足物质消费需求
 - ④发展型和享受型消费增长较快
- A. ①② B. ①④ C. ②③ D. ③④

24. “网红经济”以时尚达人为形象代表, 以红人的品味和眼光为主导, 进行选款和视觉推广, 在社交媒体上聚集人气, 依托庞大的粉丝群体进行定向营销, 从而将粉丝转化为购买力。下列有关“网红经济”说法正确的是

- ①网红经济促进产业的升级, 优化消费结构
 - ②信息技术的发展为网红经济发展提供平台
 - ③网红主要利用粉丝的从众消费心理进行营销
 - ④网红经济引导生产方式的变化, 满足个性化消费
- A. ①③ B. ①④ C. ②③ D. ②④

25. 人们通常把尽可能减少二氧化碳排放的生活方式称为低碳生活。低碳生活离我们很近,

把白炽灯换成节能灯、使用环保购物袋、教材循环利用、废物再利用善等都能减少二氧化碳排放。这说明

- ①消费行为会对社会经济产生影响
 - ②家庭要超前消费, 防止消费滞后
 - ③要改变消费习惯, 提倡绿色消费
 - ④低碳生活要导致消费球平的降低
- A. ①② B. ①③ C. ①④ D. ③④

26. “今天, 你跑步了吗?” 随着人们生活水平的提高、生活方式与消费观念的改变, 跑步经济悄然兴起, 刺激了服装、鞋子等传统产业的回暖; 运动手表和智能手环等科技产品的出现, 引发了人们对该类产品的追捧。这一现象表明

- ①消费促进产业的发展
 - ②人们的消费行为越来越不理性
 - ③生产为消费创作动力
 - ④消费方式的变化提高了消费水平
- A. ①② B. ①③ C. ②④ D. ③④

27. 某同学在北京 798 艺术园区发现了一家“熊猫慢递”邮局, 它们提供和普通邮局相同的投递服务, 区别是投递的时间由寄信人自己决定, 可以是一个月以后, 也可以是一年以后, 甚至是更久的未来。这种与众不同的寄信方式吸引了该同学, 他认真地给 10 年后的自己寄了封信。请问该同学的行为由_____引发的。

- A. 从众心理
- B. 攀比心理
- C. 求异心理
- D. 求实心理

28. 据专家测算, 中国人在餐桌上的浪费的粮食一年高达 2000 亿元, 被倒掉的食物相当于 2 亿多人一年的口粮。“舌尖上的浪费”从消费观念上看是

- A. 因为我国居民的生活水平提高
- B. 我国居民的生活水平达到了富裕水平程度
- C. 我国居民的消费结构正在优化
- D. 背离了中华民族的艰苦奋斗、勤俭节约的美德

29. 绿色消费的核心是

- A. 可持续消费 B. 节能消费 C. 保护消费者生命健康 D. 适度消费

30. 某手机生产企业，从不同渠道广泛筹集资金，成为国家、集体、个人多方持股的公司。从所有制角度看，这家公司的性质属于

- A. 国有经济 B. 集体经济 C. 私营经济 D. 混合所有制经济

31. 在我国现阶段，公有制的主体地位表现在

- ①公有资产在社会总资产中占优势，但有的地方和产业有所差别
②国有资产在社会总资产中占优势，但有的地方和产业有所差别
③国有资产控制国民经济命脉，对经济发展起主导作用
④混合所有制经济中，国有资产必须占优势

- A. ①② B. ①③ C. ①④ D. ③④

32. 我国法定的公司形式有两种，即有限责任公司和股份有限公司。二者的主要区别在于

- A. 是否进行资本注册 B. 是否能向社会公开发行股票募集资金
C. 是否具有决策、执行和监督机构 D. 是否以全部资产对债务承担责任

33. 某人与几位朋友合作创办了一节有限责任公司。下列不符合设立有限责任公司规范的是

- A. 公司按出资比例行使表决权 B. 公司资本划分为等额股份
C. 公司财务不必向全社会公开 D. 股份转让须征得其他股东同意

2017年甲乙两家企业生产同类产品的主要经济指标

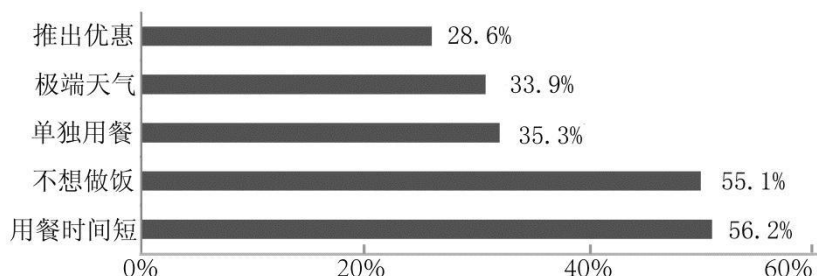
企业	产量（件）	总成本（万元）	单位产品平均售价（元）	售出产品数量（件）
甲	6000	300	550	6000
乙	10000	300	400	7000

34. 根据上表，可以得出的合理判断是（不考虑其他因素）

- ①甲企业的利润高于乙企业 ②乙企业的利润高于甲企业
③甲企业应控制生产成本，提高社会劳动生产率 ④乙企业应加强品牌建设，拓展产品的销售渠道
A. ①③ B. ①④ C. ②③ D. ②④

35. 网络时代，外卖影响着我们的生活，也影响着企业的经营。某网站对在线餐饮外卖用户订餐原因作了调查，结果如下图。

在线餐饮外卖用户订餐原因



根据调查结果，餐饮外卖企业应

- ①改进操作流程，提高食品价格 ②增加配送费用，分散送餐压力
③根据天气变化，调整备餐数量 ④保障餐品质量，提高配送时效

- A. ①② B. ①③ C. ②④ D. ③④

36. 互补品战略是企业利用两种商品之间的互补关系，优化产品组合，达到一定目标的经营战略。下列做法属于该战略的是

- A. 为降低碳排放，某供热公司将取暖燃料由煤改为天然气
B. 为促销增利，某企业降低其喷墨打印机价格，提高墨盒价格
C. 为降低人力成本，某企业投资智能自动化操作，减少人力操作
D. 为抓住商机获利，某公司原价出售空气净化器，赠送防霾口罩

37. 歧视定价是企业常见的一种定价策略，指企业在向不同的消费者提供相同等级和质量的商品或服务时，会实行不同的销售价格或收费标准。例如，在麦当劳购买麦辣鸡腿堡套餐需 23.5 元，若使用优惠券能直接省下 5.5 元。这一策略会让企业

- ①提高生产效率，形成竞争优势 ②稳定消费群体，扩大市场份额
③增加销售数量，获取更多利润 ④拓宽融资渠道，增强发展活力

- A. ①② B. ①④ C. ②③ D. ③④

38. 2016 年，华为手机在拉美地区的零售量已突破 1000 万台。近几年，华为凭借持续的技术创新和过硬的产品质量，走出了一条“中国创造”的国际化路线。这启示企业要

- ①实施“引进来”战略，充分利用国际资源 ②提高自主创新能力，增强企业核心竞争力
③提高利用外资质量，优化利用外资的结构 ④以产品质量全新塑造其国际化的品牌形象

- A. ①② B. ①③ C. ②④ D. ③④

39. “工匠精神”是指工匠对自己的产品精雕细琢，精益求精的精神理念。一个历史悠久的企业，必需有“工匠精神”作为支持。这对企业经营者的启示是

- A. 采用新技术，提高社会劳动生产率是根本
B. 制定正确的发展战略，适应快速变化的互联网时代最重要
C. 提高劳动者素质，确保产品质量才是企业长久之道
D. 扩大融资渠道，提升品牌价值才能在竞争中获胜

40. 2010 年初，我国长三角、珠三角等地区“用工荒”家具，不少企业拥有生产订单却招不满工人。下列有利于解决“用工荒”问题的措施有

- ①维护劳动者的合法权益 ②政府统筹安排劳动者就业
③引导劳动者树立正确的就业观 ④加强多劳动者的技能培训

- A. ①②③ B. ①②④ C. ①③④ D. ②③④

41. 杨某在某村租用了土地 10 余亩建立了一个小型农场，种植有机蔬菜，村里一些农民在该农场打工上班。请问该农场在所有制性质上属于

- A. 国有经济 B. 集体经济 C. 混合所有制经济 D. 非公有制经济

42. 发展无人驾驶汽车技术已经成为汽车领域的未来共识，众多互联网巨头在独立或者联合汽车厂商致力于无人驾驶汽车的研究。无人驾驶汽车将给未来消费者提供不一样的乘驾体验，这是因为

- ①新科技产品可以改善消费体验 ②无人驾驶汽车带来了新的产业不断发展
③消费是生产的最终目的和动力 ④生产决定消费的对象和方式

- A. ①② B. ①④ C. ②③ D. ③④

43. 右图为“职业规划三圈理论图”。这一图示其实我们

- A. 要树立自主择业观，积极自主创业
B. 要尽量选择去中小企业，这样就业机会较多
C. 要依据自己的兴趣和能力，为社会需要服务
D. 要努力提高自己的从业能力，增强法律意识



44. 日前，参与建设上海国际旅游度假区的1.2 万多名农民工全部加入公会，各级公会组织为建筑工人提供心理疏导、法律咨询等服务，使广大农民工有尊严地生活，更体面地劳动，这有利于
- A. 转变农民工的思维方式，缓和城乡之间矛盾
B. 缓解农民工的心理压力，淡化双方劳资纠纷
C. 统一农民工的价值取向，形成科学的世界观
D. 调节农民工的精神状态，建立和谐劳动关系
45. “不要把所有的鸡蛋都放在同一个篮子里”的投资理念，强调的是要重视股票、债券等投资的
- A. 风险性 B. 灵活性 C. 流动性 D. 稳定性
46. 风险性是居民投资理财考虑的一个重要因素。下列投资理财产品的风险性从低到高排序，正确的是
- ①金融债券 ②企业 ③国债 ④股票
- A. ①③②④ B. ③①②④ C. ④①③② D. ②④①③
47. 依据所学请你判断，下列俗语或广告词体现的《经济生活》道理，对应正确的是
- ①我为人人，人人为我——保险 ②薄利多销——需求缺乏弹性
③花明天的钱，圆今天的梦——贷款消费 ④物以稀为贵——价格影响供求
- A. ①② B. ①③ C. ②④ D. ③④
48. 在学习投资理财的知识时，某同学介绍了几种投资理财方式，其中描述正确的是
- ①股票价格受多种因素影响，其波动有很大的不确定性
②商业保险具有保障功能和互助特征，能降低风险损失
③储蓄存款是一种没有任何风险的投资方式，利国利民
④国债是中央政府发行的债券，在各种债券中利率最高
- A. ①② B. ①④ C. ②③ D. ③④
49. 随着大众投资理财时代的到来，老百姓可选择的投资理财产品越来越丰富。某同学根据a、b、c 三类投资理财产品6个月的收益情况列出下表，其分析比较可靠的是

投资收益产品		收益率		
		a 类产品	b 类产品	c 类产品
时间				
	2015年1月	4.5%	3.0%	5.5%
	2015年4月	9.5%	2.5%	4.5%
	2015年7月	1.8%	2.2%	3.0%

- A. 三类产品收益率总体呈下滑趋势，a 产品可能是股票
B. a 产品收益率较高，适合中低收入者投资
C. 风险性按照从大到小的顺序是a>b>c
D. 假如c 产品是金融债券，则b 产品可能是企业债券
50. 去超市购物，我们发现很多食品包装上贴有二维码（如右图所示），用智能手机“扫一扫”，生产厂家、生产日期、保质时间等信息就会一目了然。二维码技术的广泛应用，有利于
- ①维护消费者的权益 ②降低商品销售价格
③完善社会信用体系 ④树立企业良好形象
- A. ①②③ B. ①②④ C. ①③④ D. ②③④



第二部分 非选择题（共 50 分）

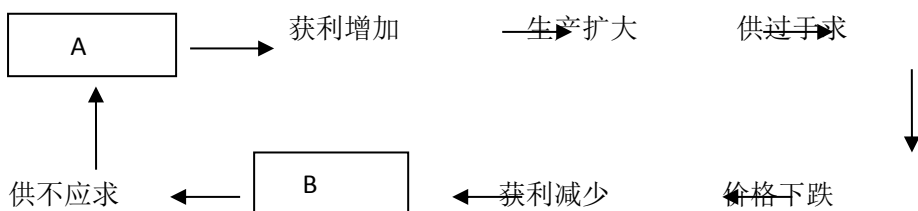
二、问答题 根据题目要求作答。本大题共 4 小题，每小题 5 分，共计 20 分。

一天，钦差大臣奉命来到民间寻找千里马。千里马找到钦差大臣，说：“我就是你要找的千里马啊！”钦差大臣问：“你熟悉我们国家的路线吗？”马摇了摇头。又问：“你上过战场，有作战经验吗？”马摇了摇头。钦差大臣说：“那我要你有什么用处呢？”说完，钦差大臣转身离去。……
请从就业观角度分析千里马“失业”的原因。（5分）

三、简答题 紧扣题意，简明扼要。本大题共 4 小题，共计 15 分。

55. 在市场经济条件下，存在这样一种经济现象：夏天，蔬菜在自然环境下生长，价格较便宜；冬季，蔬菜需要在温室中生长，增加了成本，蔬菜的价格往往比夏季贵一些。这说明_____。

56. 在市场经济条件下，存在这样一种经济现象。请在下面方框内填入恰当的内容。



57. 经济发展可以用下面的函数表示：

$$Y = F(K, L, A, R, \dots)$$

公式表明，国内生产总值 (Y) 的大小取决于资本 (K)、劳动力 (L)、技术 (A)、土地和其他自然资源 (R) 等生产要素投入的水平。

打造中国经济的升级版，最需要加大_____要素的投入比重。

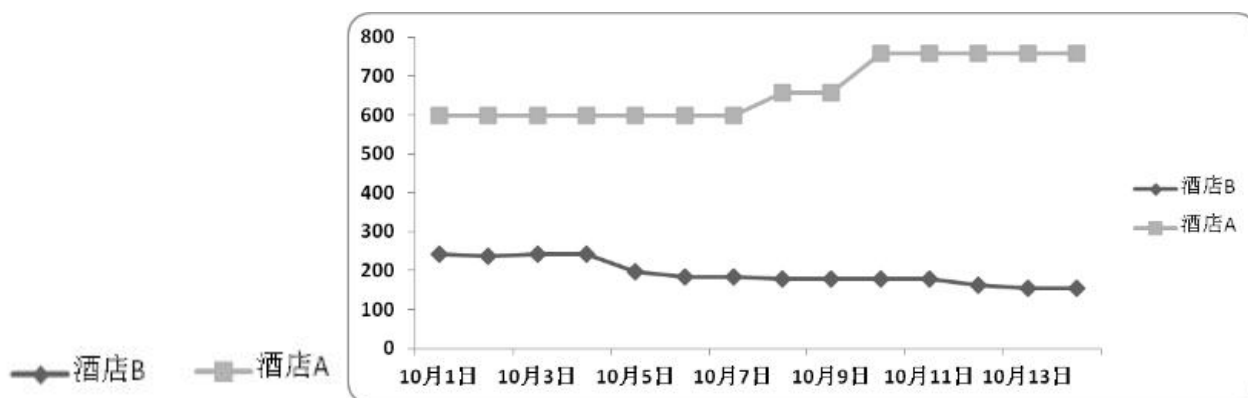
58. 下图中，三个青年计划开办一家公司。依据我国相关法律的规定，他们要开办的公司属于_____公司。



四、论述题 15 分。

59. (7 分) 有同学实时记录了 10 月 1 日到 10 月 14 日期间两家酒店的房价数据，并绘制成了一幅酒店房价变动图，请继续完成该项探究作业。

酒店房价的变化



【调查背景说明】 本调查选取了十一黄金周及之后一周共 14 天的实时数据，数据均来自酒店官网，酒店 A 为紧邻金融中心的高端商务酒店，酒店 B 为紧邻地铁站的普通快捷酒店。

【数据分析】

(1) (2分) 酒店 A 和酒店 B 的房价变动表现出明显的差异：_____

(2) (5分) 你会如何从经济角度解释这种差异：_____

60. 阅读材料，回答下列问题。

自行车这种普通的代步工具，在几代中国人的记忆中留下了不同的印记。

张爷爷：我年轻那会儿，全家人节衣缩食想买辆车，可当时自行车跟缝纫机一样凭票供应。我们一个车间百八十口人几年才轮到一张票，分配办法就是抓阄。

王大叔：1981 年我结婚，“三转一响”（自行车、缝纫机、手表、收音机）是必备物件。自行车脱销，我托朋友拉关系，好不容易搞到一辆“永久”牌自行车。买到新车的那天我觉得比娶媳妇还高兴！

李阿姨：我上中学开始骑车。那时候路上的自行车太多了，你的前轮跟着人家的后轮，前后左右都是自行车，你就在车流里转。我胆儿小，人多不敢骑，所以到现在我的车技都不过关。

刘大哥：2003 年，我家买了第一辆家用轿车。我的伙伴们陆续也成了有车族，从此告别了骑车郊游、骑车走亲访友的日子。

小峰同学：原来上下学都是爸妈开车接送我，现在一辆共享单车搞定一切，又健身又低碳，何乐而不为！

自行车的记忆承载着社会的发展与百姓生活的变迁。请运用所学知识，分析说明“自行车记忆”的变化体现了哪些经济学道理。（8分）



北京高考在线是长期为中学老师、家长和考生提供新鲜的高考资讯、专业的高考政策解读、科学的升学规划以及实用的升学讲座活动等全方位服务的升学服务平台。自 2014 年成立以来一直致力于服务北京考生，助力千万学子，圆梦高考。

目前，北京高考在线拥有旗下拥有北京高考在线网站和北京高考资讯微信公众号两大媒体矩阵，关注用户超 10 万+。

北京高考在线_2018 年北京高考门户网站

<http://www.gaokzx.com/>

北京高考资讯微信：bj-gaokao

北京高考资讯

关于我们

北京高考资讯隶属于太星网络旗下，北京地区高考领域极具影响力的升学服务平台。

北京高考资讯团队一直致力于提供最专业、最权威、最及时、最全面的高考政策和资讯。期待与更多中学达成更广泛的合作和联系。

长按二维码 识别关注



微信公众号：bj-gaokao

官方网址：www.gaokzx.com

咨询热线：010-5751 5980

