

2019 北京中考真题

历史

第一部分选择题(共 45 分)

本部分共 30 小题，每小题 1.5 分，共 45 分。在每小题列出的四个选项中，选出最符合题目要求的一项。

1. 考古发现是研究历史的重要证据。陕西西安半坡遗址出土的以下石器说明半坡原始居民



- A. 已从事农业生产
- B. 以捕鱼狩猎为生
- C. 住半地穴式房屋
- D. 会人工种植水稻

2. 一位历史学家说。秦始皇的残酷无道达到离奇的境界；可是他统一中国的工作，用长远的眼光设计，又用精到的手腕完成，以下史实能支持后一种观点的是

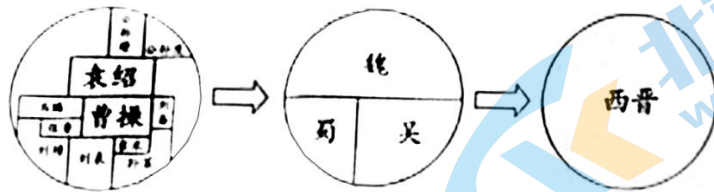
- ①实行郡县制
- ②建造阿房宫
- ③统一度量衡
- ④修建骊山陵

- A. ①②
- B. ①③
- C. ②③
- D. ②④

3. “自古书契多编以竹简，其用缣帛者谓之纸。缣贵而简重，并不便于人……用树肤、麻头及弊布、鱼网为纸。”下列人物中促成这一变化的是

- A. 李冰
- B. 蔡伦
- C. 祖冲之
- D. 毕昇

4. 以下示意图反映出



- A. 东汉末年军阀割据
- B. 三国鼎立局面形成
- C. 统一趋势不断加强
- D. 魏晋时期政权并立

5. 阅读下表材料，可以比较出长城和大运河的共同点是

长城	大运河
秦汉时期，抵御了北方游牧民族南下，保护了中原北部地区的农业生产和人民生活	隋唐时期，成为联系南北的交通大动脉，加强了各地区之间的经济、文化联系

- A. 抵御了匈奴侵扰
- B. 削弱诸侯国势力
- C. 促进了南北交流
- D. 有利于巩固统一

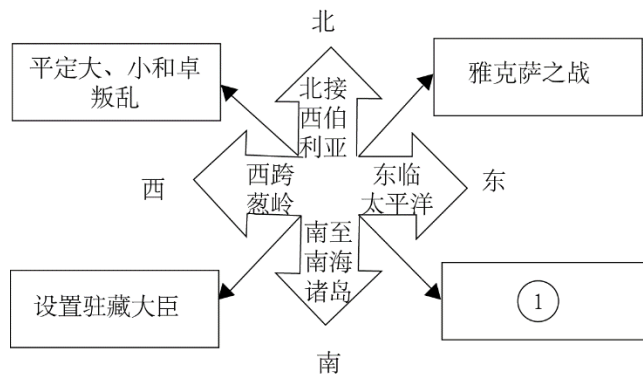
6. 一位同学在学习唐朝历史后，拟定了一副对联（见右图），横批应为

- A. 海路通达



- B. 经济繁荣
C. 民族和睦
D. 文明互鉴
7. 北宋时期，最高军事机构枢密院的正副长官累计超过 200 人，其中文臣出身者 162 人，武将出身者 39 人。这说明北宋
- A. 与辽保持长期的和平 B. 军队战斗力得到提高
C. 解除统兵将领的兵权 D. 实行重文轻武的政策
8. 右图是北京通州辽代墓葬出土的酱釉马镫壶。该壶用北宋定窑技术烧制，造型仿照皮水囊，扁身双孔，便于穿绳携带。这件文物可用于研究
- A. 辽代农业生产技术的发展
B. 契丹族与汉族的文化交融
C. 宋代都市生活的丰富多彩
D. 蒙古的崛起与元朝的统一

9. 时空观念是了解和理解历史的基础。以下示意图中①处可填



- A. 设置台湾府 B. 签订《尼布楚条约》
C. 平定噶尔丹叛乱 D. 实行金瓶掣签制
10. 一位同学分类梳理中国古代书籍，其中①处可填写

第一类：《论语》《老子》《墨子》
第二类：《三国演义》《水浒传》《西游记》
第三类：《齐民要术》《天工开物》①

- A. 《韩非子》 B. 《兰亭序集》
C. 《窦娥冤》 D. 《农政全书》
11. 以下文物按时间先后顺序正确的是



①半两钱



②殷墟甲骨



③京剧早期戏服



④三彩骆驼俑

A. ①②③④

B. ②③④①

C. ②①④③

D. ①②④③

12. 1839年，一位在广东的外国人说，鸦片是在最彻底的手段下被销毁了……全部事务的处理，在人类历史上必将永远是一个最为卓越的事件。他所说的事件是

A. 戚继光抗倭

B. 虎门销烟

C. 太平天国运动

D. 义和团运动

13. 中国共产党在井冈山走出一条将马克思主义基本原理同中国革命具体实践相结合的道路。能够说明这一结论的是

A. 国共两党合作发动北伐战争

B. 中国共产党在南昌发动武装起义

C. 开创第一个农村革命根据地

D. 国共两党建立抗日民族统一战线

14. 与以下示意图直接相关的诗句是

A. 扫除帝制建丰功，革命仍愁阻万重

B. 红军不怕远征难，万水千山只等闲

C. 自信挥戈能退日，河山依旧战旗红

D. 太行浩气传千古，留得清漳吐血花



15. 1943年，中国政府先后与美国、英国签署新条约，取消了近代以来美、英在华的许多特权，随后荷兰、比利时等国相继放弃在中国的不平等权益。这说明

A. 抗日战胜提升了中国的国际地位

B. 反法西斯同盟取得了战争主动权

C. 中国取得了反帝斗争的完全胜利

D. 美英等国建立了公正的国际秩序

16. 下图新闻报道中事件的意义是

A. 粉碎了国民党全面进攻

B. 揭开了战略反攻的序幕

C. 华北全境基本得到解放

D. 结束国民党在大陆统治



17. 历史解释是对史实的分析或评判。下列选项中属于历史解释的是

A. 1953年初，我国开始实施第一个五年计划

B. “一五”计划期间，北京电子管厂建成投产

C. “一五”计划期间先后施工一万多个工业项目

D. “一五”计划的完成为工业化奠定了初步基础

18. 2019年是中国人民海军成立70周年。以下是人民海军不同时期的主战装备，这反映出人民军队



20世纪50年代
鱼类快艇



20世纪70年代
火炮护卫舰



21世纪初
大型导弹驱逐舰



21世纪初
新型战略核潜艇

- A. 武器现代化水平提高
- B. 成为友好交往的使者
- C. 实战化训练不断加强
- D. 形成海陆空防御体系

19. 某部世界史著作指出，凡此种种，不仅是那个时代的壮举，也是整个人类历史上的伟绩；在此之前，地球上的各个区域之间缺少联系，而经由他们的努力，这些地区之间建立新的联系成为可能。材料中“壮举”是指

- A. 手工工场兴起
- B. 租地农场发展
- C. 新航路的开辟
- D. 早期殖民掠夺

20. “17世纪，英国人这种旧瓶装新酒的做法，既体现了英国人的政治智慧，也解释了英国变革得以成功的原因，同时还能让人领悟英国王室今天依然能够存在的历史渊源。”材料中“旧瓶装新酒”是指

- A. 处死国王，废除了封建君主制
- B. 保留国王，确立议会权力至上原则
- C. 设立议会，建立民主共和制度
- D. 制定宪法，实践了分权制衡的原则

21. 以下是《大国崛起》从书中某册的部分目录。这册书介绍的是

一、殖民时代	2
二、独立风云	10
三、宪法立国	28
四、兄弟阋墙	44

- A. 法国
- B. 美国
- C. 俄国
- D. 日本

22. 近代自然科学的殿堂中群星璀璨。以下人物应列入其中的是

- ①牛顿
 - ②贝多芬
 - ③巴尔扎克
 - ④达尔文
- A. ①②
 - B. ②③
 - C. ③④
 - D. ①④

23. 19世纪中期的一部著作阐明了社会发展的客观规律，论证了被剥削的无产者不断壮大，将用暴力推翻资本主义制度，未来属于工人阶级。这部著作是

- A. 《人权宣言》
- B. 《共产党宣言》
- C. 《解放黑人奴隶宣言》
- D. 《联合国宣言》

24. 下图漫画原图发表于 1912 年，桶上英文意为“巴尔干麻烦”，桶盖将被蒸汽顶起，上面的人物代表英、法、德、奥匈、沙俄等国。漫画可以说明

- A. 第一次世界大战的背景
- B. 凡尔登战役的空前惨烈
- C. 欧洲的优势地位被剥削
- D. 巴黎和会上的勾心斗角



沸点
(依原图改绘)

25. 1932 年美国总统竞选期间，罗斯福提出下列施政主张，说明他准备

- 稳定金融，限制股票、政权发行
- 约束、控制经济寡头
- 监管公共事业的控股公司
- 援助铁路运输业

- A. 继续实行“自由放任”的政策
- B. 通过扩军备战促进经济复苏
- C. 运用政府权力干预经济发展
- D. 利用过剩物资救济失业家庭

26. 下表是《1937 年各大国国民收入与国防开支的比例》，可用于研究

	美国	英国	法国	德国	意大利	日本
国民收入（亿美元）	680	220	100	170	60	40
国防开支所占比例（%）	1.5	5.7	9.1	23.5	14.5	28.2

- A. 三国同盟和三国协约的形成
- B. 凡尔赛—华盛顿体系的建立
- C. 第二次世界大战战争策源地的形成
- D. 欧美各国支持中国的全民族抗战

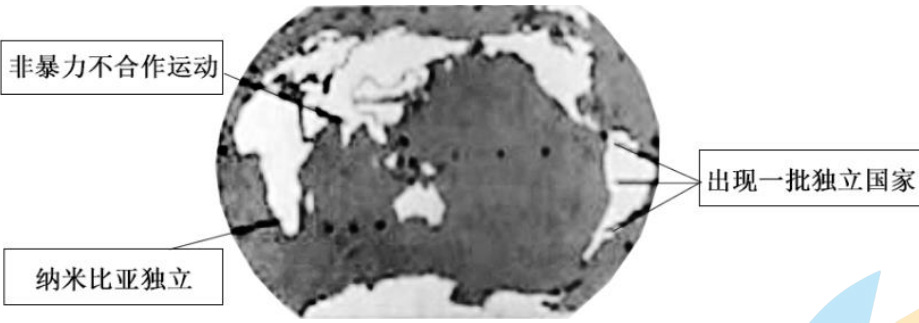
27. “在赢得第二次世界大战胜利的同盟中，主要成员之间的关系已经破裂，它们尽管还没有发生军事冲突，但在意识形态和地缘政治方面，却已经处于对抗状态。”这种“对抗状态”正式开始于

- A. 杜鲁门主义的出台
- B. 马歇尔计划的实施
- C. “北约”“华约”建立
- D. 欧盟联盟的成立

28. 截至 2017 年，中国累计派出军事人员 3.5 万余人次，先后参加了 24 项维和行动，被国际社会誉为“维和行动的关键因素和关键力量”。这说明

- A. 中国在联合国事务中发挥重要作用
- B. 当今世界的地区冲突有所缓和
- C. 中国恢复在联合国的一切合法权利
- D. 联合国大会是联合国主要机构

29. 下图反映的主题是



- A. 亚非拉国家友好合作
- B. 资本主义制度的扩展
- C. 非洲独立运动的发展
- D. 殖民地人民反抗斗争

30. 2019年4月,习近平主席在第二届“一带一路”国际合作高峰论坛发表讲话时指出:“商品、资金、技术、人员流通,可为经济增长提供强劲动力和广阔空间。”这句话说明

- A. 经济全球化能够有力推动世界经济发展
- B. 近年来有些国家推行贸易保护主义政策
- C. 发展中国家成为世界多极化的主要动力
- D. 地区发展不平衡是世界面临的主要问题

第二部分 材料分析题 (共 45 分)

31. (13分) 农业、农村、农民问题关系国计民生。

材料一

- ①孟子:民为贵,社稷次之,君为轻
- ②荀子:君者,舟也;庶人者,水也。水则载舟,水则覆舟。
- ③秦朝统治残暴,对农民征收沉重的赋税,大规模征调民力,导致陈胜、吴广起义。
- ④汉初统治者采取休养生息政策,重视农业生产,减轻赋税、徭役,出现了“文景之治”。
- ⑤唐太宗减轻人民负担,发展农业生产,减省刑罚,使得经济发展,国力强盛。
- ⑥明末土地兼并严重,政府不断加派赋税,导致了李自成等领导的农民大起义。

(1) 用材料一的史实,说明以下观点。(3分。填序号,每空多选、少选、错选均不得分)

以民为本是中国古代的重要思想主张: _____

盛世局面出现的重要前提是推行爱民政策: _____

苛政暴政是农民起义的主要原因: _____

材料二 秦孝公锐意改革秦国落后的局面,任用商鞅变法。商鞅认为按照当时的土地赋税制度,秦国的实力尚不能满足与列国竞争的需要。为此,商鞅变法规定:废除秦国原来传统的土地制度,重新规划丈量土地,依照土地数量缴纳赋税;官府奴隶可以凭借耕织的成绩恢复平民的身份,不从事农业生产而变穷的人则被罚为官奴婢。

——摘编自晁福林《中国大通史·春秋战国卷》

(2) 依据材料二,说出商鞅变法的背景。(1) 结合所学,分析材料二中变法内容的作用。(1分)

材料三 南北朝时期，北方的粮食作物麦、粟等传入南方。隋唐时期长江流域的户口数量有很大的增加，单位面积耕地所负载的人口大大增加，这就迫使农民实行复种制（一年两熟），稻、麦复种制产生并发展。江南地区推广了曲辕犁，普遍采用插秧技术，缩短了水稻在大田中的生长期，双季稻在南方出现。

——摘编自阎万英等《中国农业发展史》

依据材料三，概括促使隋唐时期南方复种制出现的因素。（2分）

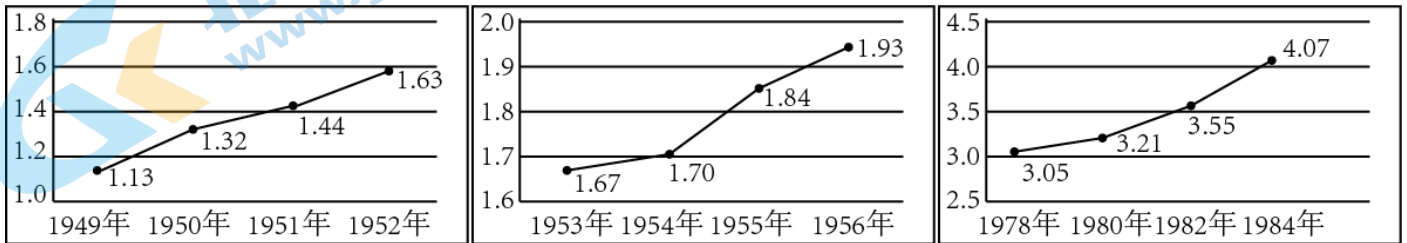
材料四 随着内燃机的发明，从20世纪初开始，内燃机拖拉机逐渐取代了蒸汽机拖拉机。20世纪40-50年代，在欧美的许多国家和地区，拖拉机及电力机械已经成为农业生产中的主要动力。

20世纪90年代以来，信息技术改变这农业的生产方式和管理模式，土壤和作物得到精细准确的管理，资源利用率和农业生产率不断提高。

——摘编自夏俊芳《现代技术革命与农业机械化》

（4）依据材料四并结合所学，说出20世纪上半叶农业生产的变化及背景。（2分）指出20世纪90年代以来农业发展的新特点。（1分）

材料五 中华人民共和国不同时期粮食产量变化（单位：亿吨）



图一

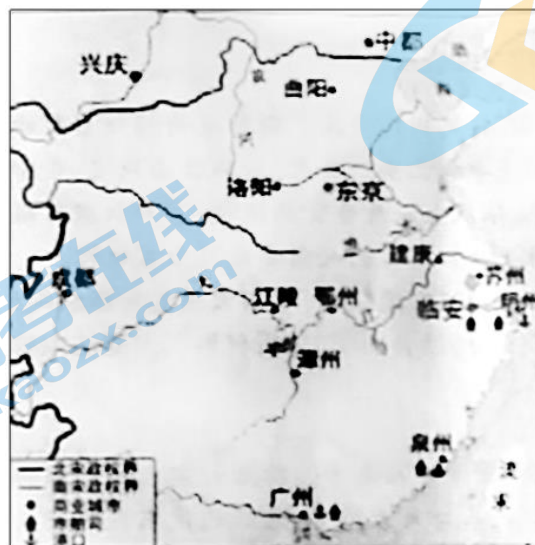
图二

图三

（5）依据材料五，概括图表反映的共同现象。（1分）任选两张，分别运用相关的农业政策解释图表反映的现象。（2分）

32. （12分）城市发展·历史印记·社会进步

材料一 宋代城市分布图



（1）依据材料一，写出两宋时期不同类型的城市。（2分）对比南方和北方，说出宋代商业城市分布的特点及其背景。（2分）

①政治统治中心：东京、_____

②外贸港口城市：明州、_____

材料二 在英国的城市化过程中，制造业和矿业城市发展速度最快，如曼彻斯特；一些传统老城市因为与工业革命疏远而发展缓慢。英国开始工业革命后，由于能提供更多的就业机会，外来移民逐渐增多。19世纪30年代曼彻斯特1/5的人口是爱尔兰人。1860年，城市化向高层次迈进时，其他国家的实业界人物、高科技人员开始涌入英国，集中在大城市。

——摘编自陈爱君《第一次工业革命与英国城市化》

(2) 依据材料二，概括工业革命推动下英国城市化的特点。(2分)

材料三 1860年天津成为通商口岸，以外贸为先导发展起来。洋务派创办天津机器制造局等工厂，天津成为近代中国重要的工业基地。天津位于铁路沿线和江、海之滨，成为港城一体化城市。1880年洋务派在天津设电报总局，并在上海、苏州等地设分局。至20世纪初，京汉、京张、津浦、京奉等铁路相继建成，以天津为中心的华北铁路网正式形成。同时期，天津形成了中国第一个城市有轨电车系统。公共交通的发展促进了人口流动，方便了市民生活。乘坐者必须遵守公共交通规则和章程。这也进一步增强了市民的公共意识和文明意识。

——摘编自杜希英《交通变革与天津城市近代化》等

(3) 依据材料三，说出近代天津兴起的主要因素。(2分) 概括近代天津社会生活的变化。(2分)

材料四 从数字看京津冀城市群

2015~2018年北京到津冀投资的认缴出资额累计超过7000亿元。

截至2018年5月，京津冀三地10649家医疗机构互认，看病无需重复检查。

截至2018年底，先后成立10个跨区域特色职教集团、12个京津冀高校联盟。

截至2018年底，国家高速公路网7条首都放射线北京段全部建成，京津保(定)1小时交通圈顺利实现。

2019年京津冀旅游一卡通覆盖的景区数量由2018年的158家增至261家，所有景区单次门票免费的总价值达14580元。

——整理自《京津冀协同发展走过五周年》等

(4) 依据材料四，谈谈京津冀城市群建设的作用。(2分)

33. (10分) 图书馆是开放的知识与信息中心

材料一 彼特拉克(1304-1374年)是意大利诗人和学者。他从修道院的图书馆中清理出古希腊、罗马文献的抄本，并用人文主义观点进行解释。随后，他的著作借印刷术流传开来。彼特拉克最先应用“人文主义”一词，将“人的学问”与“神的学问”做出对比，被尊为“人文主义之父”。

——摘编自扬子竞《外国图书馆史简编》

(1) 依据材料一并结合所学，分析彼特拉克做法所产生的影响。(2分)

材料二 1902-1903年，列宁致力于研究农民问题，他阅读了不列颠博物馆图书阅览室中有关这类问题的各种文字的书藉，认为工人应团结农民，共同革命。彼得格勒武装起义的同时，全俄工农代表苏维埃第二次代表大会通过《土地法令》，规定没收地主土地，交给劳动者使用。农民对土地的要求得到满足，积极支持苏维埃政府。

——摘编自杨威理《西方图书馆史》

(2) 依据材料二结合所学，分别说出列宁领导的苏维埃政权在十月革命中和 20 世纪 20 年代为团结农民而采取的措施或政策。(2 分)

材料三 1918-1921 年间，李大钊主任的北京大学图书馆订购了 40 余种有关马克思主义及俄国十月革命的书藉，并经常在《北京大学日刊》上进行宣传和介绍。1920 年，马克思学说研究会、北京共产主义小组等组织相继成立，它们都以北京大学图书馆为主要活动地点，其中许多人成为坚定的共产主义者。

——摘编自谷俊松《近代国立大学图书馆功能演变研究（1898-1949）》

(3) 依据材料三，分析北京大学图书馆的贡献。(2 分)

材料四 2019 年是五四运动 100 周年，中华人民共和国成立 70 周年。某组同学进行相关研究，在图书馆检索到以下信息：

①照片 1919 年 5 月 4 日学生游行照片：美国人拍摄，照片中学生手持标语“青岛是我们的”	②报刊 《每周评论》：五四运动期间重要刊物，对五四学生游行，上海工人罢工等均有详细报道。	③档案 《共和国脚步-1949 年档案》第三十八集；收录了第一届政协会议宣言，会议的决议草案及决议案等
④口述 《百年名人自述》第十四编：围绕开国大典编选了领导者，亲历者亲口述说的原始材料	⑤电影 《开国大典》：故事片，展现了从三大战役胜利至举行开国大典的历程	⑥专著 《五四与中国现代化》：研究了五四运动前后中国社会的变化，包括“从欧化到‘以俄为师’“从放足到服饰革命”等章节

(4) 选择一个研究主题和相应的一则材料，并说明选择材料的理由。(2 分。仿照示例完成，不得选用示例中的研究主题和材料) 说出中华人民共和国成立的意义。(2 分)

研究主题 1	研究主题 2	研究主题 3
五四运动在全国的扩展	五四运动的影响	开国大典的真实场景

示例：

研究主题：五四运动的影响


选择材料：⑥

理由：本书从社会思潮演变、社会习俗现代化等角度说明五四运动的影响。

34. (10 分) 大西山，涵盖了北京西山、永定河流域及周边地带，拥有秀丽的自然风光和丰厚的文化遗产。某历史社团开展了大西山考察活动。

【博物馆参观】

(1) 填写任务单。(2 分)

 伯矩鬲	<p>《史记》记载：“周武王之灭纣，封召公于北燕”房山区琉璃河镇发现一座西周早期古城遗址和大量古墓，出土带有“匱侯”（“匱”即“燕”，燕国的国君）铭文的青铜礼器，据此判定这就是燕国都城故址。该地位于古代的南北大道上，最易接受中原先进文化的影响。</p> <p>考古发现和《史记》记载印证了西周实行_____制度</p> <p>燕国都城地理位置的优势是：</p>
--	--

【实地考察】

京西古道是在永定河河谷，西山山隘、沟谷等地形的基础上形成的古代交通系统。同学们考察了京西古道的部分路段，整理出一下资料：

路段	起止地点	简介
西山大道	三家店村 洪水口	京西重要的交通干线。京西出产的煤炭，干鲜果品大部分通过此路运送出山，北京的日用百货大部分从这里运进山里。晋商多经此入京，在三家店村修建山西会馆，并在此经商。
斋堂至沿河路线	斋堂 沿河城	主要用于明清时军用物资及建筑材料的运输、军队的移防、敌台之间的联络等。

(2) 依据考察材料，概括京西古道在北京发展中的作用 (2分)

【听抗战故事】

1939年，一支八路军队伍活跃于西山地区，经常在夜间袭扰敌人。自称“夜老虎连”，把北平城的敌人弄得日夜不宁。给日军送了一份传单：“姓中华民族，名坚决抗战，字八路军挺进军，号称夜老虎连。来自万里长征，生在五岳三山，是炎黄的好子孙，农村工厂是籍贯。革命坚决得很，战斗不知疲倦，最恨帝国主义，最爱持久抗战。往来八达岭上，出入居庸关前，卢沟桥头常散步，西直门外总遛弯。”

(3) 依据故事，说出西山地区八路军的作战方式，以及传单所体现的八路军的精神。(2分)

【看新闻报道】

昔日“卖炭翁”而今“卖风景”

采煤曾经是房山史家营乡主要的经济支柱，20年前山区有许多小煤窑，矿工收入每月近万元。但无节制地开采造成地面坍塌，空气、水质也受到污染。为涵养生态，治理环境，北京市政府要求关停该地区煤窑，进行产业调整。

2010年史家营乡彻底关闭煤矿，开展废弃矿山治理工作，种植金枝国槐等具有观赏价值和经济价值的树木近10万株。当地利用矿区文化、人文历史、自然风光等资源，大力发展旅游业。

——原载2017年2月10日《北京晚报》(摘编)

(4) 依据报道并结合所学，说明史家营乡的产业变化及原因。(2分)

【活动延伸】

(5) 大西山留下很多名人遗迹，如曹雪芹纪念馆、孙中山纪念堂、梁启超墓。从以上人物中任选一位，围绕他在历史上的贡献，确定研究主题，并对如何进行研究提出建议。(2分)

2019 北京中考真题历史参考答案

一、选择题（共 30 道小题，每小题 1.5 分，共 45 分）

1	2	3	4	5	6	7	8	9	10	11	12	13	14	15
A	B	B	C	D	D	D	B	A	D	C	B	C	B	A
16	17	18	19	20	21	22	23	24	25	26	27	28	29	30
C	D	A	C	B	B	D	B	A	C	C	A	A	D	A

二、材料分析题

31. (1) ①②；④⑤；③⑥

(2) 背景：战国时期兼并战争不断；秦国较为落后；秦孝公锐意改革。

作用：提高了农民的生产积极性；促进经济发展；秦国国力增强，为秦统一中国奠定基础。

(3) 北方农作物传入南方；南方人口增加；先进农业技术推广（先进生产工具推广）。

(4) 变化：农业机械动力由蒸汽机转变为内燃机、电力。

背景：第二次工业革命发展。

新特点：信息技术应用于农业。

(5) 共同现象：粮食产量提高。

农业政策：

图一：实施土地改革，调动了农民生产积极性，促进了农业的发展。

图二：开展农业合作化，适合当时中国国情，促进了农业的发展。

图三：实行家庭联产承包责任制，带来了农村生产力的大解放，促进了农业的发展。

32. (1) ①临安或中都、兴庆；②广州或泉州

分布特点：商业城市主要分布于南方。

背景：经济重心南移。

(2) 城市化进程不平衡，外来移民增多；市民中高层次专业人员增多。

(3) 主要因素：开埠通商；洋务派在天津创办工业企业；位于水陆交通要道。

变化：近代通讯事业发展，人们联系更便捷；公共交通系统出现，人们出行更方便。

(4) 经济协同发展；教育均衡发展；生活更加便捷（交通便捷、就医便捷、旅游优惠等）

33. (1) 保存、传播了古典文化。推动了文艺复兴的发展；促进了思想解放。

(2) 十月革命中，通过《土地法令》，满足农民的土地需求

20 世纪 20 年代，颁布新经济政策，用粮食税取代余粮收集制。

(3) 促进了马克思主义思想的宣传，扩大了十月革命的影响；为中国共产党早期组织的活动提供条件；有利于中国共产党的创立。

示例 1

研究主题：五四运动在全国的扩展

选择材料：②

理由：报刊反映了五四运动从北京扩展到上海等地，参加者从学生扩展到工人等阶层。

示例 2:

研究主题：开国大典的真实场景

选择材料：④

理由：开国大典亲历者的口述是了解开国大典真实场景的重要证据。

意义：中华人民共和国的成立，开创了我国历史的新纪元；实现了民族独立和人民解放；为国家的繁荣富强奠定了基础；中国共产党成为执政党；领导人民进行社会主义建设；壮大了世界和平民主和社会主义的力量。

34. (1) 制度：分封。

优势：交通便利；有利于经济文化交流。

(2) 有利于北京与周边地区的联系；促进商业发展；加强军事防御。

(3) 作战方式：游击战。

精神：爱国主义、英勇顽强、坚持不懈、乐观主义等

(4) 变化：从以采煤为主到发展林业和旅游业。

原因：采煤业过度发展造成环境破坏；政府落实科学发展观，转变发展方式，保护生态环境。

(5) 主题与人物的贡献相关。所提建议与主题相符，具有可行性。

示例：

研究主题：曹雪芹与《红楼梦》

建议：参观曹雪芹纪念馆，搜集曹雪芹生平、《红楼梦》的创作背景等相关资料。

关于我们

北京高考在线创办于 2014 年，隶属于北京太星网络科技有限公司，是北京地区极具影响力的中学升学服务平台。主营业务涵盖：北京新高考、高中生涯规划、志愿填报、强基计划、综合评价招生和学科竞赛等。

北京高考在线旗下拥有网站门户、微信公众平台等全媒体矩阵生态平台。平台活跃用户 40W+，网站年度流量数千万量级。用户群体立足于北京，辐射全国 31 省市。

北京高考在线平台一直秉承“精益求精、专业严谨”的建设理念，不断探索“K12 教育+互联网+大数据”的运营模式，尝试基于大数据理论为广大中学和家长提供新鲜的高考资讯、专业的高考政策解读、科学的升学规划等，为广大高校、中学和教科研单位提供“衔接和桥梁纽带”作用。

平台自创办以来，为众多重点大学发现和推荐优秀生源，和北京近百所中学达成合作关系，累计举办线上线下升学公益讲座数百场，帮助数十万考生顺利通过考入理想大学，在家长、考生、中学和社会各界具有广泛的口碑影响力

未来，北京高考在线平台将立足于北京新高考改革，基于对北京高考政策研究及北京高校资源优势，更好的服务全国高中家长和学生。



微信搜一搜

北京高考资讯