

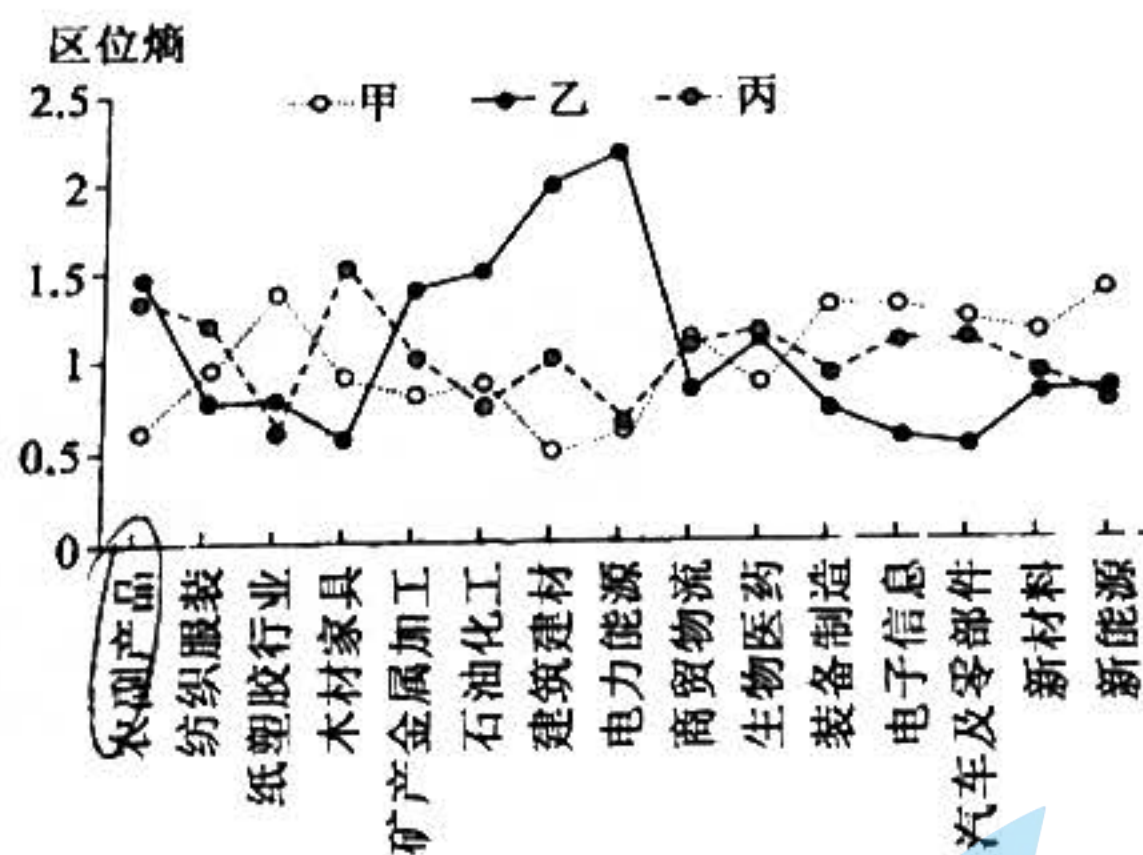
# 高三文科综合

## 考生注意：

1. 本试卷分选择题和非选择题两部分。满分 300 分，考试时间 150 分钟。
2. 答题前，考生务必用直径 0.5 毫米黑色墨水签字笔将密封线内项目填写清楚。
3. 考生作答时，请将答案答在答题卡上。选择题每小题选出答案后，用 2B 铅笔把答题卡上对应题目的答案标号涂黑；非选择题请用直径 0.5 毫米黑色墨水签字笔在答题卡上各题的答题区域内作答，超出答题区域书写的答案无效，在试题卷、草稿纸上作答无效。
4. 本试卷主要命题范围：高考范围。

一、选择题：本题共 35 小题，每小题 4 分，共 140 分。在每小题给出的四个选项中，只有一项是符合题目要求的。

区位熵又称专门化率，其值越高，地区产业集聚水平越高。一般来说，当区位熵大于 1 时，则该地区的某项经济指标在全国有优势；当区位熵小于 1 时，则处于劣势。下图示意我国东部、中部、西部三大经济带主要产业区位熵。据此完成 1~3 题。



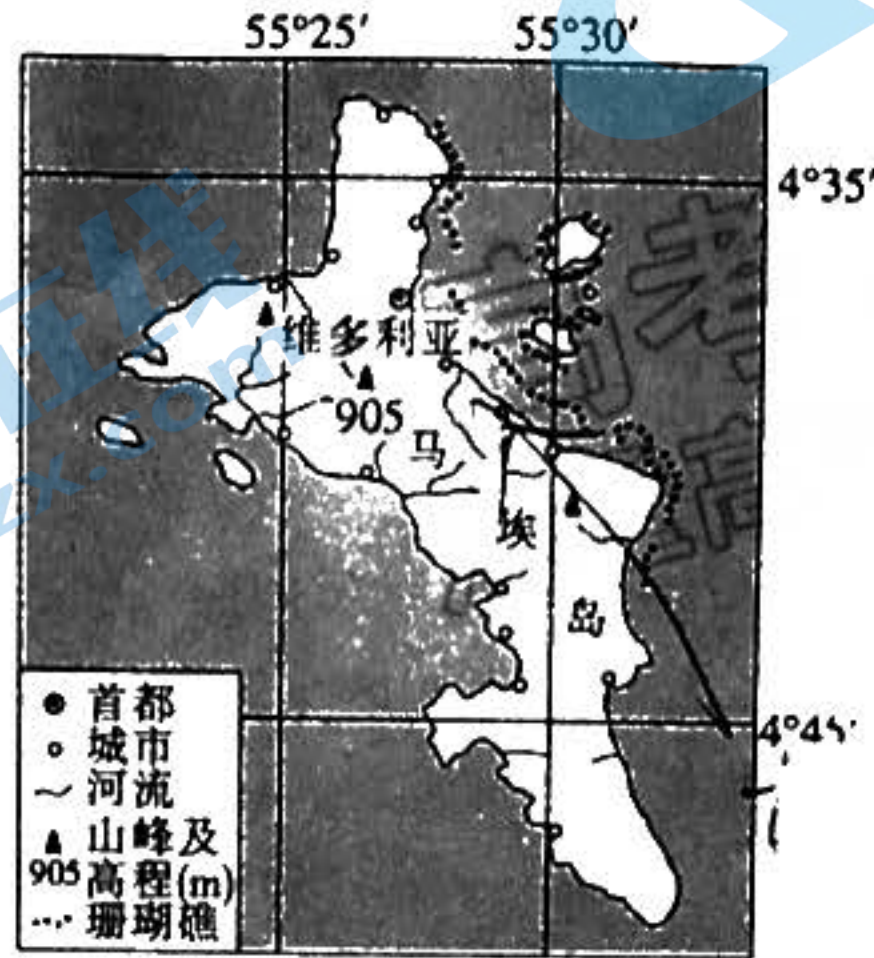
1. 图中甲、乙、丙分别表示
  - A. 东部经济带、中部经济带、西部经济带
  - B. 中部经济带、西部经济带、东部经济带
  - C. 东部经济带、西部经济带、中部经济带
  - D. 西部经济带、中部经济带、东部经济带
2. 乙曲线的电力能源区位熵明显高于该地区其他产业，关键在于当地
  - A. 消费市场广
  - B. 科技水平高
  - C. 劳动力廉价
  - D. 资源禀赋好
3. 影响三大经济带农副产品区位熵高低的主要因素是
  - A. 水热资源
  - B. 经济发展水平
  - C. 农产品种类
  - D. 交通便利程度

首位度在一定程度上代表一个系中城市发展要素在最大城市的集中程度。下表示意 2021 年与 2010 年我国部分省会城市的首位度(省会城市 GDP 占所在省份 GDP 比重)。据此完成 4~5 题。

年份	银川	石家庄	南京	济南
2021 年	50.0%	16.0%	14.4%	13.9%
2010 年	46.4%	16.8%	12.2%	9.9%

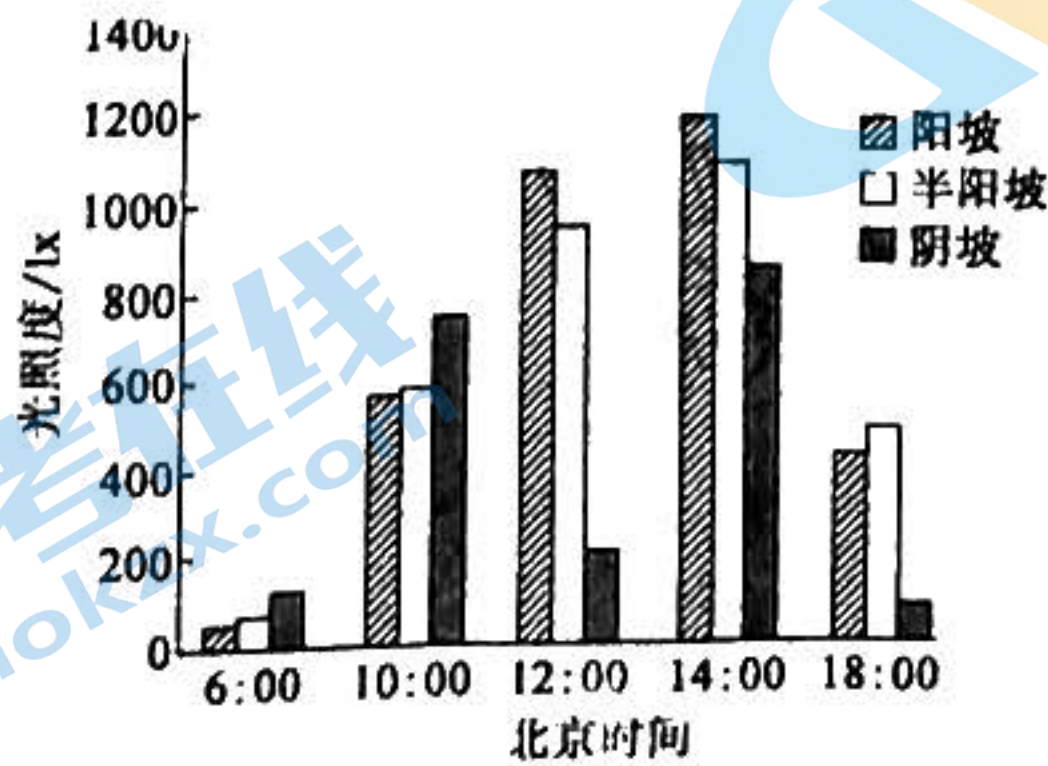
4. 四个省会城市中,2021 年对省内其他区域引领带动作用最明显的是  
 A. 银川                      B. 石家庄                      C. 南京                      D. 济南
5. 与 2010 年相比,2021 年石家庄经济首位度有所降低,其主要原因可能是该市  
 A. 交通运输地位下降                      B. 人口大量流失  
 C. 产业结构过于传统                      D. 承接产业转移

马埃岛是塞舌尔最大岛屿,位于印度洋中西部,面积约为 148 平方千米,离最近的陆地约 1000 千米,常住人口约 7 万,经济较为落后。岛上花岗岩广布,物种丰富且独特,沿海密布着 60 多个海滩,是世界著名的旅游胜地。下图示意马埃岛地理位置。据此完成 6~8 题。



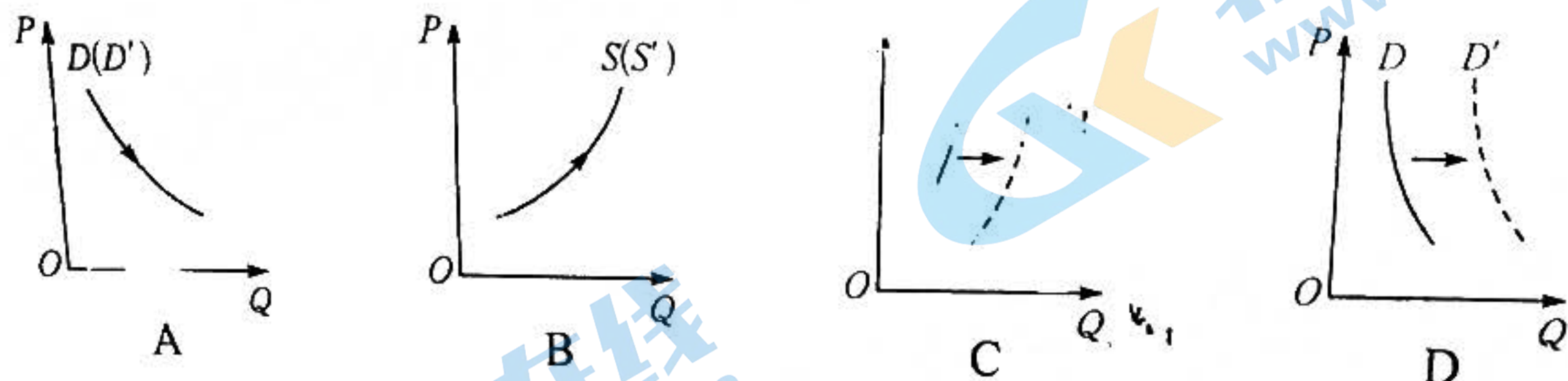
6. 与马埃岛成因相近的是  
 A. 冰岛(大岛)                      B. 海南岛                      C. 崇明岛                      D. 曾母暗沙
7. 马埃岛上物种独特,主要得益于  
 A. 形成时间早                      B. 平坦的地形  
 C. 丰富的降水                      D. 离大陆较远
8. 马埃岛珊瑚礁集分布在岛屿东北部,而西南部分布较少,这是因为东北部  
 A. 营养物质丰富                      B. 水温高  
 C. 海水盐度较低                      D. 降水多

坡向是山地光照、温度、水分和土壤等的主要影响因子之一。下图示意某研究站在天然草甸上测得的某月部分研究区域晴天特定时刻阳坡、半阳坡、阴坡平均光照度(单位面积上收到的光照量)数据。研究区域海拔约 2900 米,年均气温约 2℃,年降水量约 560 毫米。据此完成 9~11 题。



9. 该研究区域最可能位于  
 A. 海南                      B. 甘肃                      C. 山东                      D. 黑龙江
10. 测得该研究数据的月份最可能是  
 A. 1 月                      B. 3 月                      C. 7 月                      D. 10 月
11. 调查发现,该研究区域阴坡的生物多样性要多于阳坡,其主要影响因素最可能是  
 A. 热量                      B. 水分                      C. 人类活动                      D. 风力

12. 充换电设施规模发展迅速,可以有效解决新能源汽车充电难问题。有关数据显示,截至2022年11月,一年内,全国月均新增公共充电桩约5.3万台。全国充电基础设施累计数量为494.9万台,同比增加107.5%。不考虑其他因素,如果用下图表示充电基础设施发展对新能源汽车市场产生的影响,其中表达正确的是( $P$ 表示新能源汽车价格, $Q$ 表示新能源汽车数量, $S$ 、 $S'$ 、 $D$ 、 $D'$ 分别表示新能源汽车变动前后的供给和需求)



13. 神舟十三号载人飞船成功升空,中国空间站关键技术验证阶段收官之战正式打响。中国航天科工(国有特大型高科技企业集团)作为载人航天工程的副总指挥单位,承担了多台单机产品大量工业基础件电子元器件产品等研制生产任务,为神舟十三号航天员打造“准、稳、康”的太空之旅。由此可见,国有企业

- ①是我国国民经济的主体 ②在推进航天科技发展方面发挥重要作用 ③是我们党执政兴国的重要支柱和依靠力量 ④通过推进混合所有制改革增强了创新能力

A. ①②

B. ①④

C. ②③

D. ③④

14. 由辽宁省总工会、省人社厅、省工商联等联合制定的《辽宁省女职工权益保护专项集体合同(示范文本)》明确提出,用人单位与女职工在订立书面劳动(聘用)合同时,不得与女职工约定限制结婚、生育等内容;不得因女职工结婚、怀孕、休产假、哺乳等原因,降低工资等。这些规定

- ①旨在进一步维护女性劳动者的合法权益 ②有助于用人单位承担社会责任、规范人事行为 ③保障女性劳动者主人翁地位的前提 ④对于劳动者树立职业平等观有积极的指导作用

A. ①②

B. ②③

C. ①④

D. ③④

15. 随着金融全球化迅速发展,金融市场越来越超越国界,成为一种真正意义上的全球要素市场。2021年上半年,全球跨境资本流动呈现总量扩张、波动加剧且分化、证券投资占比上升的特征。5月,海外投资者净增持647亿美元的美国国债。资本跨国运动

- ①根本动因是世界各国对经济利益的追求 ②使金融市场成为推动全球经济增长的最主要动力 ③有利于促进全球范围内资源高效、优化配置 ④为经济全球化奠定了物质技术基础和体制基础

A. ①②

B. ①③

C. ②④

D. ③④

16. 2022年12月12日,永州市烟草专卖局组织召开永州市烟草制品零售点合理布局规划听证会。市司法局、市人大代表、市政协委员、市市场监督管理局、市行政审批局、市创建办单位代表、起草部门代表以及全市各县区卷烟零售户代表及消费者代表共28人参加听证会,并发表意见建议。此举

- ①体现了社会主义民主政治的本质和核心 ②有利于公民参与民主监督,保障人民民主 ③保障了公民通过社会听证制度行使决策权 ④有助于激发公民政治参与意识和社会责任感

D. ③

B. ①④

②③

D. ②④

17. 2022年12月12日,东北制药公司发布公告,称收到《行政处罚告知书》。辽宁省市场监督管理局认定东北制药于2018年11月至2019年6月期间滥用在中国左卡尼汀原料药市场的支配地位,实施了以不公平的高价销售左卡尼汀原料药行为,根据《反垄断法》《行政处罚法》规定,拟对东北制药处以罚款,共计13300.44万元。可见,辽宁省市场监督管理局

- ①坚持严格执法,捍卫法律尊严 ②贯彻国家法律,参与企业经营 ③履行政府职责,加强市场监管 ④践行公正司法,坚持惩处渎职

A. ①③

B. ①④

C. ②③

D. ②④

18. 国家主席习近平在亚太经合组织工商领导人峰会上发表主旨演讲时强调：中国将坚定推进高质量共  
建“一带一路”，促进亚太互联互通，维护区域产业链供应链稳定顺畅，深化同各方在电子商务、数字物  
流等领域合作，为亚太经济复苏和可持续发展注入动力。据此，下列推断正确的是  
①亚太经济一体化符合世界各国国家利益 ②中国与亚太各方存在着广泛的共同利益 ③中国为促  
进世界经济复苏发挥重要作用 ④中国积极推动世界朝着多极化方向发展 中国为促  
A. ①② B. ①④ C. ②③ D. ③④
19. 在第44届世界遗产大会上，中国“泉州：宋元中国的世界海洋商贸中心”项目顺利通过审议，列入《世  
界遗产名录》，充分体现国际社会对泉州项目在推动文明交流对话、构建人类命运共同体等方面的高  
度认同。泉州为世界提供了城市遗产保护与创新的“中国方案”，既具历史价值又有现实意义。保护好  
泉州历史文化遗存是因为它  
①是本民族独享的文化财富 ②可以展示世界文化的多样性 ③对研究人类文明演进具有重要意义  
④有利于增强世界人民对中华文化的认同感  
A. ①③ B. ①④ C. ②③ D. ②④
20. 辛弃疾，南宋官员、将领、文学家，豪放派词人，有“词中之龙”之称。他一生中写下了大量荡气回肠的  
诗词作品。千年之后，依然在江南文脉中闪耀着光芒。他的词，艺术风格多样，既有气吞山河的豪气  
云天、大气磅礴，也有退居山野的悠然闲适、多情细腻。从中可以感悟到  
①传统文化是现代人生存和发展的根本 ②中华优秀传统文化必须在继承中不断发展 ③中华优秀  
传统文化具有强大的生命力 ④中华优秀传统文化具有博大精深的特征  
A. ①② B. ①③ C. ②④ D. ③④
21. 习近平在关于《中共中央关于党的百年奋斗重大成就和历史经验的决议》的说明中指出，党中央认为，  
总结党的百年奋斗重大成就和历史经验，要坚持辩证唯物主义和历史唯物主义的方法论，用具体历史  
的、客观全面的、联系发展的观点来看待党的历史。由此可见，马克思主义哲学  
①是中国共产党正确观察时代、把握时代的指导思想 ②坚持科学性和革命性、认识世界和改造世界  
的统一 ③成为党总结百年奋斗重大成就和历史经验的根本出发点 ④为党总结百年奋斗重大成就  
和历史经验提供世界观和方法论指导  
A. ①② B. ①④ C. ②③ D. ③④
22. 习近平总书记在谈到如何讲好思想政治理论课时指出，“上思政课不能拿着文件宣读，没有生命、干巴  
巴巴的”“思政课不仅应该在课堂上讲，也应该在社会生活中来讲”“办好思政课关键在教师。广大思想  
政治理论课教师，政治要强、情怀要深、思维要新、视野要广、自律要严、人格要正”。习近平总书记提  
出这样的要求，是基于  
①认识是在主体与客体的相互作用中实现的 ②思政课应坚持实践与理论的具体的历史的统一  
③主要矛盾对事物的存在和发展起着决定性作用 ④坚持矛盾普遍性是坚持唯物辩证法的基本前提  
A. ①② B. ①③ C. ②④ D. ③④
23. 下列对漫画中的政府官员的认识正确的是  
①颠倒了价值判断和价值选择的关系  
②没有把维护人民利益作为自己的最高价值追求  
③缺乏坚定的理想信念，缺少价值观的指引  
④割裂了人的个人价值和社会价值的关系  
A. ①③ B. ①④ C. ②③ D. ②④



24. 夏、商、西周记录历史的主要形式是史官“记注”，目的是将过往历史书于竹册，观于后世。战国时期，“诸子书，发摭己意，往往借古事以申其说”。这一转变

- A. 开启改造历史事实的先例
- B. 推动了中国封建史学的确立
- C. 服从于对治世思想的解读
- D. 强调了对历史真实性的探讨

25. 下表是关于汉代官员“不胜任”的记述。材料反映的现象

内 容	出 处
一岁中盗贼发而令、丞、尉所(?)不觉智(知)三发以上,皆为不胜任,免之。	汉《二年律令·捕律》
尊子伯亦为京兆尹,坐臆弱不胜任免。	《汉书·王尊传》
(永光四年)光禄大夫琅琊张谭仲叔为京兆尹,四年不胜任免。	《汉书·百官公卿表》

- A. 说明中央集权有待加强
- B. 有利于社会秩序的稳定
- C. 说明西汉奉行严刑酷法
- D. 容易导致懒政行为泛滥

26. 下表反映了北宋元祐元年(1086年)开封商人借贷市易司钱数的统计情况。据此可推知,北宋时

类别	户数	钱数
大姓	35	154 万余贯
酒户	27	
小姓	27093	83 万余贯
合计	27155	237 万余贯

- A. 中小商户经营困难
- B. 长途贩运贸易发达
- C. 政府重视商业税收
- D. 开封城市商业繁荣

27. 明清“民本”思想,以传统的“民本”为旗帜,着力探讨重民、养民、富民、教民等基本内容,还倡导公天下论、平等论、限君论、“以民治民”论;“以民养民”论;崇私论、义利并重论、保富论;从重教化到重知识等。这说明明清“民本”思想

- A. 被赋予了新的时代内容
- B. 成为民主革命的思想武器
- C. 体现近代民权主义的本质
- D. 继承并传播传统民本思想

28. 国学大师钱穆这样评价太平天国:“由今看来,大家同情太平天国,认为他是一个民族革命,但实际也不尽然。至少他们太不懂政治,他们占了南京十多年,几乎没有丝毫制度上的建树。”由此可知,钱穆认为

- A. 太平天国运动不属于民族革命
- B. 太平天国自始至终未真正建立
- C. 太平天国运动具有阶级局限性
- D. 太平天国领导层缺乏创新精神

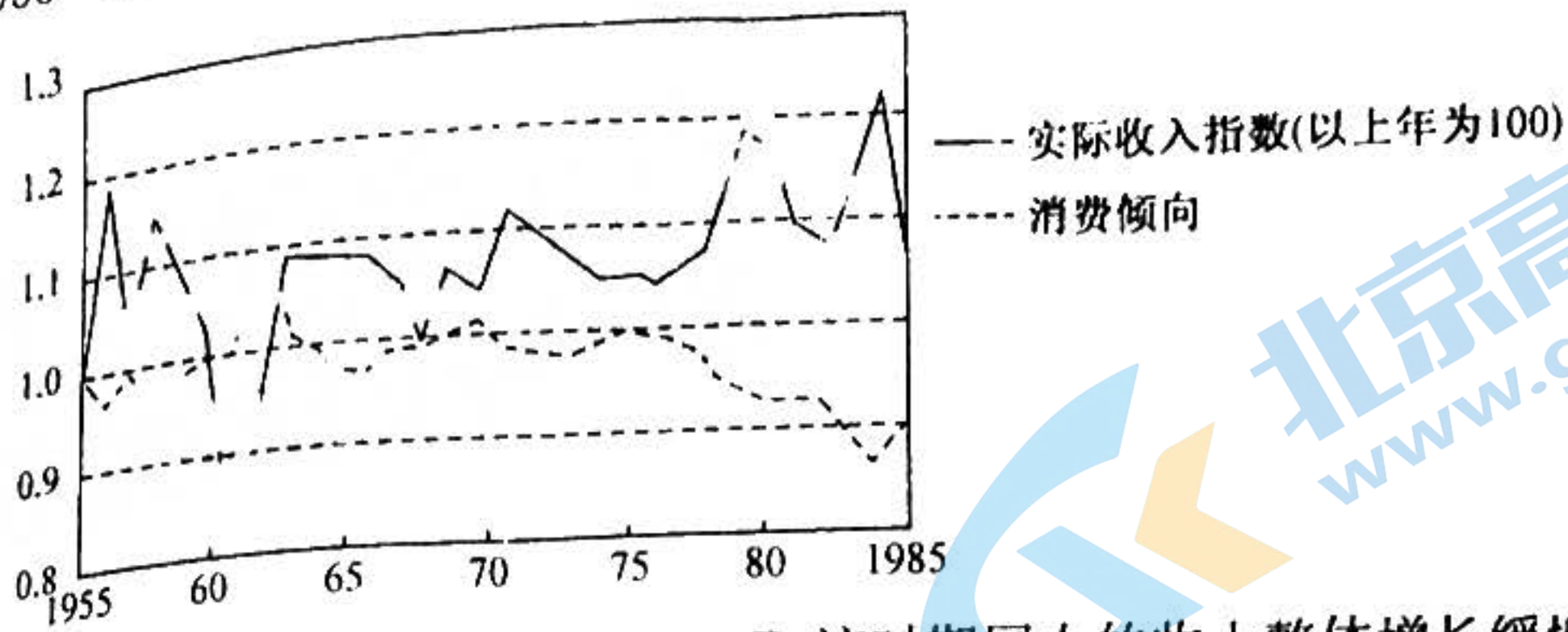
29. 梁启超从 1899 年到 1903 年在《清议报》和《新民丛报》两种刊物上发表了多篇文章,向国民广泛地介绍了西方资产阶级的各种理论和学说,竭力鼓吹民族主义、自由平等、博爱、民主、民权等资产阶级的思想与精神。这反映出梁启超

- A. 将传统文化与西方思想相融合
- B. 激励国民从西学中寻找救国良策
- C. 认为西学是救亡图存的根本
- D. 引入了西方民主共和的救国理念

30. 1932 年年底,国民政府国防委员会开始对粤汉铁路沿线的湖南湖北地区、津浦路沿线、胶济铁路沿线等地进行调查,内容涉及煤矿的地点、交通设施、矿山公司的历史、组织、资本、工厂设备等诸多方面。国民政府制定上述建设计划的主要原因是

- A. 国民经济建设运动蓬勃发展
- B. 革命武装威胁国民党统治中心
- C. 改变工业布局不合理的考量
- D. 日本侵华致使民族危机加深

31. 下图绘出了 1955~1985 年我国城乡居民实际收入增长和实际消费倾向的变化情况。从中可以看出



- A. 改革开放使中国取得了巨大成就  
B. 该时期国人的收入整体增长缓慢  
C. 收入增长并不必然带来消费增长  
D. 从众心理导致国人消费意愿偏低
32. 美国学者斯科特·戈登指出：“我们很难相信由一年召开 40 次、每次仅有几个小时的超过 6 000 人的公民大会来指定一般政策是有效率的。温和的理性怀疑论就能表明这种每个人都有发言权和提议权的公民大会将很快就会蜕变为暴动。”这反映出古代雅典
- A. 公民大会是最高权力机关  
B. 公民大会行政效率低下  
C. 民众的参政热情空前高涨  
D. 民主政治的局限性明显
33. 有学者认为,16 世纪欧洲物价的上涨带动了生产、贸易和消费的活跃以及信贷的发展,这又进一步推动了价格的上涨,从而促成了长达一个世纪的价格革命。由此可知,该学者的观点是
- A. 价格革命是经济发展的产物  
B. 经济发展依赖物价的上涨  
C. 价格革命与新航路开辟无关  
D. 贵金属过剩导致价格革命
34. 1865 年前后,旋转木马开始在纽约科尼岛流行。1884 年,科尼岛引进了一种纽约人从未见过的娱乐项目——过山车,票价相当便宜,只需 5 美分。不久,摩天轮出现了。科尼岛娱乐设施的发展
- A. 折射出民众工作条件的改善  
B. 得益于工业化成果的应用  
C. 说明休闲旅游生活方式出现  
D. 反映出市民福利建设加快
35. 当今世界,尽管美国的实力总体上仍然超群,但它的国际声誉“已跌入深渊中”,向其他国家发出的改革号召“被当作耳边风”;八国集团首脑会议从 2003 年开始邀请中国、巴西等发展中国家与会进行对话,到 2005 年才正式形成“8+5”机制。这种变化
- A. 不利于世界政治治理的民主化  
B. 加强了大国对国际事务的垄断  
C. 体现了政治格局的多极化趋势  
D. 说明传统强国丧失了优势地位

二、非选择题:共 160 分。第 36~42 题为必考题,每个试题考生都必须作答。第 43~47 题为选考题,考生根据要求作答。

(一)必考题:共 135 分。

36. 阅读图文材料,完成下列要求。(24 分)

创新生态系统是一个由创新个体、创新组织和创新环境等要素组成的动态性开放系统。针对创新生态系统建立的创新生态指数,由创新资源、创新产出、产业潜力和环境支撑 4 个一级指标,共计 12 项二级指标和 30 项三级指标构成。长三角城市群是我国经济发展最活跃、开放程度最高、创新能力最强的区域之一。至 2020 年底,长三角地区每万人发明专利拥有量已达 30.88 件,为全国平均水平 2.3 倍,知识产权发展处于全国领先地位。下图示意 2022 年长三角城市群创新生态指数空间分布(指数越高,表示的创新能力强)。

## 高三文科综合参考答案、提示及评分细则

1. C 由图可以看出,甲曲线装备制造、电子信息、汽车及零部件、新材料、新能源等技术含量较高的产业的区位熵较其余两曲线高,故甲曲线表示经济较为发达的东部经济带;乙曲线的矿产金属加工、石油化工、建筑建材、电力能源等产业的区位熵明显高于其余两曲线,故乙曲线表示西部经济带;丙曲线表示中部经济带。
2. D 乙表示西部经济带,西部地区经济落后,电力消费市场小、科技水平低,但风能、太阳能、水能、煤炭、天然气等资源禀赋好,电力能源区位熵高;电力能源与劳动力关联性小。
3. B 由图可以判断出,农副产品区位熵东部最低、西部最高,主要原因是农副产品附加值低,东部经济带经济发展水平高,虽然水热条件较好,但土地、劳动力等价格较高,导致农副产品生产成本比中、西部经济带高的多,不具备优势,区位熵较低。故经济发展水平是影响三大经济带农副产品区位熵高低的主要因素。与中、西部经济带相比,东部经济带水热资源、交通便利程度较好;农产品种类对农副产品区位熵影响不大。
4. A 表中银川市经济首位度最高,且呈上升趋势,说明城市发展迅速,对省内其他区域具有明显的引领带动作用。石家庄经济首位度下降,南京、济南经济首位度较低,说明这些城市的龙头辐射带动作用不充分、中心城市作用发挥不够,对省内其他区域引领带动作用较弱。
5. C 由表可以看出,石家庄近十年经济首位度有所下降,说明石家庄经济发展质量有所滑坡,省内其他城市发展较快。石家庄因铁路而兴,紧邻京津,交通运输地位没有下降;相对于河北省内其他城市,石家庄流出人口较少;承接产业转移有利于其经济发展从而提高经济首位度;石家庄经济发展质量有所滑坡,与它产业结构过于传统、缺乏新的经济动能有着直接的关系。
6. A 由题干“岛上花岗岩广布”可推知马埃岛为火山岛,选项中只有冰岛为火山岛。崇明岛为冲积岛,海南岛为大陆岛,曾母暗沙为珊瑚岛。
7. D 远离大陆,受人类活动干扰小,独特物种得以保留下来;形成时间短,不易有独特物种;丰富的降水与物种独特关联性小;马埃岛以山地丘陵为主,只有沿海地势相对平坦,且平坦的地形不易保留独特物种。
8. A 该海域受东南信风的影响,岛屿东部海域位于迎风一侧,海水搅动明显,易掀起海底营养物质,有利于珊瑚虫生长。
9. B 该研究区域位于我国,一般来说南坡为阳坡,北坡为阴坡,时间使用的是北京时间。晴天正午时刻,太阳高度最大,阳坡太阳辐射量最大,光照度最大。由图可知,该地阳坡(南坡)在北京时间 11:00 时光照度大于 12:00,说明其位于 120°E 以西,排除黑龙江;该研究区海拔 2900 米,年均气温 2°C,排除海南、山东。故最可能位于甘肃。
10. C 由图可知,该月研究区域 6 时与 18 时均有较高的光照度,说明该月昼长大于 12 小时,最可能为北半球夏季。
11. B 研究区域阳坡光照强度强,蒸发旺盛,土壤含水量小,水分条件较差,加上坡度较大,导致土壤养分条件差,影响植物群落的生物量、物种组成和生物多样性,故水分是导致研究区域阴坡的生物多样性多于阳坡的主要影响因素;阳坡光照强度高于阴坡,热量较阴坡充足,一般情况下,热量充足,植被生长较好,生物多样性丰富,故排除热量,研究区域

关注北京高考在线官方微信:北京高考资讯(微信号:bjgkzx),获取更多试题资料及排名分析信息。

位于天然草甸,人类活动相对较少;风力对生物多样性影响较小。

12. D 充电桩与新能源汽车是互补品,充电桩数量增加,在其他条件不变的情况下,人们对新能源汽车的需求将增加,D正确;A表示价格下降,需求增加,不符合题意;B表示价格上涨,供给增加,不符合题意;C表示价格不变,供给增加,不符合题意。
13. C 中国航天科工(国有特大型高科技企业集团)承担了载人航天工程多台单机产品大量工业基础件电子元器件产品等研制生产任务,体现的是国有企业的作用,不是国有企业的混合所有制改革,②③说法正确且符合题意,④不符合题意。公有制是国民经济的主体,故①说法错误。
14. A 《示范文本》的相关规定,是为了维护女性劳动者的合法权益,有助于用人单位承担社会责任、规范人事行为,①②当选;法律规定劳动者享有的各项权利是保障劳动者主人翁地位的前提,③排除;《示范文本》的规定是要求用人单位平等对待女性劳动者,而不是引导劳动者树立职业平等观,④排除。
15. B 资本跨国运动的根本动因是世界各国对经济利益的追求,尽可能使利润最大化,这有利于在世界范围内进一步优化资源配置、提高市场效率,①③符合题意。②中“最主要动力”说法错误。生产力发展和科技进步为经济全球化奠定了物质技术基础,市场经济体制为经济全球化奠定了体制基础,④错误。
16. B 永州市烟草专卖局组织召开永州市烟草制品零售点合理布局规划听证会,听取各方代表的意见建议,尊重了人民当家作主的地位,体现了社会主义民主政治的本质和核心,有助于激发公民政治参与意识和社会责任感,①④符合题意。材料涉及的是决策过程,没有体现民主监督,②不选。公民没有决策权,③不选。
17. A 政府不能直接参与企业经营,②不选;公正司法的主体是人民法院和人民检察院,且材料中没有涉及渎职行为,④不选;根据《反垄断法》,国家市场监督管理总局对东北制药公司处罚,捍卫法律尊严,加强市场监管,①③正确。
18. C 中国在亚太地区与相关国家的深入合作,可见国家间的共同利益是国家合作的基础,②正确。中国推动亚太地区经济发展,可以为世界发展注入动力,③正确。亚太经济一体化并非符合世界各国的国家利益,排除①。材料强调的是促进国家间的合作,与世界多极化无关,排除④。
19. C 材料中“国际社会对泉州项目在推动文明交流对话、构建人类命运共同体等方面的高度认同以及泉州为世界提供了城市遗产保护与创新的中國方案,既具历史价值又有现实意义”说明②③符合题意。文化不仅是民族的也是世界的,①与题意不符。各国人民认同的是本民族文化,④不选。
20. D 千年之后,辛弃疾的诗词作品依然在江南文脉中闪耀着光芒,展现出中华优秀传统文化强大的生命力,③符合题意。辛弃疾的词艺术风格多样,显示出中华优秀传统文化博大精深,④符合题意。生活资料是人们生存和发展的根本,①不选。材料没有反映文化的发展,②排除。
21. B 材料主要强调,坚持辩证唯物主义和历史唯物主义的方法论,对总结党的百年奋斗重大成就和历史经验的指导作用,故①④符合题意。材料没有涉及改造世界的问题,故②不合题意。党总结百年奋斗重大成就和历史经验的根本出发点是客观实际,故③说法错误。
22. B “思政课不仅应该在课堂上讲,也应该在社会生活中来讲”,是因为学生可以通过参与社会实践促进知与行的统一,

关注北京高考在线官方微信:北京高考资讯(微信号:bjgkzx),获取更多试题资料及排名分析信息。



①正确;“办好思政课关键在教师”抓住了思政课发展的关键,③正确;思政课应坚持理论与实际的具体的历史的统一,②错误;材料没有体现矛盾的普遍性,④不选。

23. D 漫画中懒政的政府官员,其价值判断和价值选择没有自觉站在广大人民的立场上,没有坚持在个人与社会的统一中实现人生价值,②④符合漫画寓意;漫画中的政府官员是在错误的价值判断的基础上作出了错误的价值选择,没有颠倒价值判断和价值选择的关系,①不选;漫画中政府官员的懒政行为是基于没有树立正确的价值观,不是没有价值观的指引,③不选。

24. C 考查先秦时期史学的记载。夏、商、西周时期,历史主要由史官来“记注”,而到了战国时期,诸子为了“发摭己意”,通常是“借古事以申其说”,故先秦时期对历史的记录由史官记注向诸子撰述转变主要是为了服从于诸子解读其治世思想的要求,故选 C 项。单凭材料信息不能得出这一转变“开启改造历史事实的先例”的结论,故排除 A 项;材料信息与封建史学无关,故排除 B 项;材料信息反映的是诸子为了“发摭己意”,通常是“借古事以申其说”,而不是强调探讨历史真实性,故排除 D 项。

25. B 考查汉代的政治制度。材料给出了汉代法律关于地方官“不胜任”的规定和两个官员因“不胜任”而被免职的记载,这有利于地方官认真履职,维护社会秩序,故 B 项正确,D 项错误。材料也说明中央对地方官员的有效控制,排除 A 项;材料反映不出“严刑酷法”,且这与西汉时的事实不符,排除 C 项。

26. D 考查北宋的开封商业。表格中仅借贷市易司的商户数量就有 27 155 户,还不包括没有借贷的,可推知当时开封城内商户数量众多,商业十分繁荣,故选 D 项。材料中的“大姓”和“小姓”并不是指大商人和中小商人,故 A 项结论不成立,排除 A 项;材料中没有长途贩运的信息,故得不出 B 项结论,排除 B 项;表格反映的是开封商人借贷市易司的钱数,并不是其所交的税额数,据此不能得出“政府重视商业税收”的结论,故排除 C 项。

27. A 考查明清时期的民本思想。明清“民本”思想中“公天下论、平等论、限君论”“义利并重论”等观点与传统民本思想不同甚至相反,反映了当时商品经济发展的时代要求,故 A 项正确。B 项说法本身不符合题意,故排除;C 项错在本质,故排除;材料强调的是发展关系而非继承关系,D 项错误。

28. C 考查太平天国运动。由于农民阶级的局限性,太平天国仍属于旧式的封建政权,所以说,“他们太不懂政治……几乎没有丝毫制度上的建树”,故选 C 项。太平天国运动是一场反封建反侵略的农民起义,故 A 项说法错误;1853 年,太平天国定都天京,建立了与清王朝对峙的革命政权,故 B 项说法错误;太平天国运动后期,洪仁玕提出《资政新篇》,这是先进的中国人最早提出的带有资本主义色彩的改革方案,故 D 项说法错误。

29. B 考查梁启超的救国思想。材料表明,梁启超引入西方资产阶级的思想和道德精神,意在激励国民从中找到救国的正确道路,故 B 项正确。材料并未涉及“中国传统文化”,故 A 项错误;C 项拔高了材料主旨,故排除;19 世纪末 20 世纪初的梁启超推崇的是君主立宪制,而非民主共和制,故 D 项错误。

30. D 考查中日民族矛盾激化和国民政府的抗战准备。据材料中“1932 年”“国防委员会”及调查中国重要的铁路线和矿产资源可知,随着日本侵华和中日民族矛盾的激化,国民政府着手抗日准备工作,故选 D 项。国民政府的上述措施主要是应对外患,并非基于国内经济发展和中共武装威胁国民党统治中心的考量,故排除 A、B 两项;国民政府设立专门

关注北京高考在线官方微信:北京高考资讯(微信号:bjgkzx),获取更多试题资料及排名分析信息。

机构,调查交通设施和主要矿产资源,与当时中国面临的严峻的外部危机密切相关,并不是出于对改变传统工业布局不合理的考量,故排除C项。

31. C 考查新中国的经济。从图中可以看出,当收入增长率较高时,国人的消费倾向则较低;当收入增长率较低时,则相反。这说明收入增长并不必然导致消费增长,说明国人的消费比较理性,故选C项。A项仅就图片信息难以体现,因为改革开放的成就需要通过政治、经济、文化、社会生活等多方面体现出来,而材料只是提供了城乡收入水平和消费能力的变化情况;B项错误,从图中可以看出国人的收入在几个时段上增长大多是比较快的;D项从图片信息看不出来。

32. D 考查古代雅典民主政治。题干材料反映出古代雅典公民大会参加人数多、会议时间短,难以保证行政效率,很容易变为“多数人的暴政”,实质上表明古代雅典民主政治的局限性十分明显,故D项正确。

33. A 考查近代欧洲经济。根据材料信息可知,价格革命的形成是多种经济因素共同作用的结果,是经济发展的产物,A项正确。材料显示物价上涨与经济发展有一定的相互促进关系,但是B项所述过于绝对,排除;材料没有明确指出新航路开辟在价格革命形成中的作用,但是新航路开辟与欧洲经济的发展、贵金属的流入、奢侈之风的形成等有密切关系,进而对物价上涨产生一定的影响,排除C项;材料没有关于贵金属过剩的信息,排除D项。

34. B 考查美国工业化的影响。由材料中“旋转木马”“过山车”“摩天轮”等信息可知,花样繁多的机械娱乐方式已出现在纽约科尼岛上;联系时代背景分析可知,当时美国正处于两次工业革命时期,故材料中娱乐设施的建设,得益于工业化成果的应用,故B项正确。A项由材料不能得出;材料信息并不足以说明“休闲旅游生活方式出现”,排除C项;“娱乐设施”的建设,并不能反映出市民福利的发展,排除D项。

35. C 考查政治格局的多极化趋势。材料反映了美国主导国际事务的能力相对削弱,和新兴大国在国际事务中的影响力的上升,体现了世界政治格局的多极化发展趋势,故C项正确。八国与发展中国家就国际事务的对话,说明A、B两项错误;D项夸大了传统强国影响力的下降力度,排除。

36. (1)分布不均,差异显著;整体呈现出东部高、西部低(,中部高、南北低)的分布特点。(每点2分,共4分,合理即可)

(2)高校众多,人才密集,科技创新资源密集;对外开放程度高,信息网络发达;经济发达,年研发经费支出多。(每点2分,共6分,合理即可)

(3)提高资源利用率,降低生产成本;促进企业清洁生产,减少污染物排放;提高企业生产效率,提升企业效益;促进对传统企业的改造与升级,优化产业结构。(每点2分,答对三点得6分,共6分)

(4)积极推进长三角区域一体化,加强区域合作联动、错位发展,提升区域整体创新水平和效率;提升上海、苏州、杭州等发展引擎作用,扩大中心城市的辐射带动作用;立足本身创新基础,政府继续加大科技投入,研发“高、精、尖”产品;与北京等大城市合作,获取互补性知识,形成跨界创新能力。(每点2分,答对四点得8分,共8分)

37. (1)历史上该地区地势较低,被海水覆盖;地处板块消亡边界,地壳运动抬升,导致海水退去;冬季受西风影响,降水量充足,且湖区地势低洼,积水成湖;纬度较低,蒸发旺盛,且周围无河流流出,盐分积累,形成盐湖。(每点2分,共8分)

(2)冬季。(2分) 该地为地中海气候,冬季受盛行西风影响,降水较多,(2分)且气温较低,蒸发较弱。(2分)

(3)喜热,喜光,耐旱,耐盐碱。(每点1分,共4分)

关注北京高考在线官方微信:北京高考资讯(微信号:bjgkzx),获取更多试题资料及排名分析信息。

(4)地处沙漠,骆驼适应性强;游客多,骆驼作为代步工具的市场需求大。(每点2分,共4分)

38. ①坚持和完善公有制为主体、多种所有制经济共同发展的制度,激发各种市场主体活力,广开进贤之路,广聚天下英才。(5分)②坚持和完善社会主义市场经济体制,既充分发挥市场在人才资源配置中的决定性作用,又发挥政府作用,进行科学的宏观调控,促进人才资源合理配置,做好人才事业布局。(5分)③坚持和完善按劳分配为主体、多种分配方式并存的分配制度,增加人才收入,做好人才激励工作。(4分)(其他答案,符合题意,可酌情给分)

39. ①“四五三”治村模式,坚持基层党组织领导,创新基层群众自治方式。(3分)②坚持全过程民主,依法、依制保障人民群众享有知情权、参与权、监督权等广泛民主权利。(3分)③通过基层民主协商,广泛集中民智民意,推进了决策的科学性、民主性。(3分)④拓宽民主监督新渠道,坚持人民主体地位,激发了人民群众参与自治的积极性和主动性,保证人民当家作主。(3分)(其他角度,言之有理可酌情给分)

40. (1)①节目素材选择广泛,彰显了中华优秀传统文化的博大精深和深厚的人文底蕴。(3分)②以人民群众喜闻乐见的形式展现中华文化的源远流长,满足了人民多样化、多层次的文化需求,增强了文化自信。(3分)③注重彰显中华美学精神,增强了中华优秀传统文化的公众吸引力和艺术感染力。(2分)④发挥大众传媒对文化传递、沟通、共享的强大功能,综合提升了中华优秀传统文化的传播效果。(2分)(其他答案,符合题意,酌情给分)

(2)①事物的发展总是从量变开始的,量变是质变的必要准备,要注重量的积累。(3分)实现中华优秀传统文化的高质量传播,需要持之以恒,长期坚持。(3分)②事物发展的道路是曲折的,要做好充分思想准备,不断克服前进道路上的困难。(3分)实现中华优秀传统文化的高质量传播,必须花大力气,开拓思路,寻找更好的发展路径。(3分)(其他答案,符合题意,酌情给分)

(3)①题材新颖,传播正能量,反映时尚校园生活。②听觉上给观众轻松、搞笑、娱乐的感觉。(每点2分,共4分。其他答案,符合题意,酌情给分)

41. (1)背景:政治上实行大一统;董仲舒吸收法家、道家、阴阳五行家思想改造儒学;儒学开始成为正统思想等。(6分,其他答案言之成理亦可)影响:法律儒家化;儒学正统地位进一步巩固;加强了儒家思想对社会的影响等。(6分,其他答案言之成理亦可)

(2)同:统治者都重视运用法律手段维护统治;都采用了判例法;得到统治者认可的法律著述具有法律效力;都适应了统治者的需要;都推动了法律研究等。(7分,其他答案言之成理亦可)异:中国,因统治思想的变化引起法律的变化;罗马因版图的扩张引起法律的发展。中国,受到儒家思想的影响;罗马,吸收了非罗马人的法律。中国,伦理道德色彩浓厚;罗马,重视解决财产关系等。(6分,其他答案言之成理亦可)

42. 示例一:

特征:新中国建国初期高等教育主要服务于国家工业化建设。(3分)

探讨:建国初期,由于我国工业化基础薄弱,随着国民经济恢复工作的完成和“一五”计划的实行,借鉴苏联工业建设经验,国家的工业化布局主要集中在东北地区,辽宁等省的高校数量增加较快,这反映了高等教育主要服务于国家工业化发展战略的特征。(9分)

关注北京高考在线官方微信:北京高考资讯(微信号:bjgkzx),获取更多试题资料及排名分析信息。

示例二:

特征:改革开放以来我国高等院校空间分布趋于合理。(3分)

探讨:改革开放以来,党和国家工作重心转移到以经济建设为中心,国家建设需要大量高素质人才,高等教育事业走向复兴和发展,突出表现在各省的高等院校数量都有较大增加,尤其是内陆地区,这使得我国高等教育的空间分布趋于合理,有利于高等教育的全面发展和提高国民文化素养,推动社会经济文化的全面发展。(9分)

(也可从“左”倾错误与高等教育的受挫等角度分析。“示例”只作评卷参考,不作为唯一标准答案。)

43. 有利条件:海岸线长,滨海地区自然和人文旅游资源丰富、质量高,吸引力强;自然和人文旅游资源结合,旅游资源的集群状况和地域组合状况好;旅游资源独特,旅游价值高;位于东部沿海地区,基础设施完善;紧邻环渤海城市群,靠近长三角城市群,客源市场广阔;交通运输方式多样,交通较为便利;政府政策支持,资金投入大。(每点2分,答对三点得6分,共6分。要体现分析,未分析最多得3分) 问题:滨海旅游景点重复建设;旅游产品同质化严重;旅游产品相对单一;旅游资源受损严重;加剧旅游区的污染等。(每点2分,答对两点得4分,共4分)
44. 主要目的:改善灌溉条件;防洪、抗旱;供水。(每点2分,答对两点得4分,共4分) 负面影响:水库拦截径流,下游绿洲水量减少,破坏绿洲原有平衡,有可能会减少下游地区生物多样性;水库拦截径流,下游地区的水量补给减少,造成下游地区土地荒漠化扩大;水库蓄水,减慢了水循环速度,从而减缓水资源更新速度,会加剧上游水资源的污染程度。(每点2分,共6分)
45. (1)背景:“三家分晋”,新兴地主阶级崛起;诸侯争霸,兼并战争不断;奴隶社会向封建社会转型;“百家争鸣”局面形成;各国纷纷改革变法以求富国强兵。(6分,任答三点即可)
- (2)特点:唯才是用。不赞成对擅长“郑歌”的抢、石两位宫廷乐人授爵,而对牛畜、荀欣、徐越三人却量才而用;儒法并施,王霸并用。任用荀欣、徐越按照法家理政方式处理财政和考核臣下政绩,同时注意按照儒家的社会政治伦理准则去规范和教化民众。富国强兵;全方位进行改革,希望达到富国强兵的目的。(9分)
46. (1)目的:从英法方面来看,参加谈判是想利用苏联恐吓德国;从德国方面来看,参加谈判意在争取苏联在德国进攻波兰时保持中立,同时也要争取英法不为波兰而战;从苏联方面来看,参加谈判意在联合英法构建集体安全体系。(6分)
- (2)表现:《苏德互不侵犯条约》的签订。(3分)原因:英法缺乏谈判诚意;苏联对英法的对德政策充满怀疑;波兰反对苏军假道本国领土;德国改善与苏联的关系,分化苏联和英法的关系。(6分)
47. (1)原因:“三从四德”的封建礼教的束缚;中国传统的重男轻女的观念;中国妇女自身的昏睡不醒;文化素质的低下。(6分,任答三点即可)途径:放足,求学,自立,合群。(4分)
- (2)简评:秋瑾揭露了封建礼教下妇女所受到的重重压迫和不平等的待遇,鼓励妇女为自身的独立、发展而作斗争;号召妇女投身革命事业,把妇女解放的要求,完全自觉地汇合于当时反封建的民主主义革命的总任务中去,是近代中国女性革命的一面旗帜。(5分)

## 关于我们

北京高考在线创办于 2014 年，隶属于北京太星网络科技有限公司，是北京地区极具影响力的中学升学服务平台。主营业务涵盖：北京新高考、高中生涯规划、志愿填报、强基计划、综合评价招生和学科竞赛等。

北京高考在线旗下拥有网站门户、微信公众平台等全媒体矩阵生态平台。平台活跃用户 40W+，网站年度流量数千万量级。用户群体立足于北京，辐射全国 31 省市。

北京高考在线平台一直秉承 “精益求精、专业严谨” 的建设理念，不断探索 “K12 教育+互联网+大数据” 的运营模式，尝试基于大数据理论为广大中学和家长提供新鲜的高考资讯、专业的高考政策解读、科学的升学规划等，为广大高校、中学和教科研单位提供 “衔接和桥梁纽带” 作用。

平台自创办以来，为众多重点大学发现和推荐优秀生源，和北京近百所中学达成合作关系，累计举办线上线下升学公益讲座数百场，帮助数十万考生顺利通过考入理想大学，在家长、考生、中学和社会各界具有广泛的口碑影响力

未来，北京高考在线平台将立足于北京新高考改革，基于对北京高考政策研究及北京高校资源优势，更好的服务全国高中家长和学生。



微信搜一搜

北京高考资讯