

# 高三历史

2022.1

本试卷共9页，100分。考试时长90分钟。考生务必将答案答在答题卡上，在试卷上作答无效。考试结束后，将本试卷和答题卡一并交回。

## 第一部分

本部分共20题，每题2.5分，共50分。在每题列出的四个选项中，选出最符合题目要求的一项。

1. 中国考古学成果表明，距今5300年前后，黄河中下游、长江中下游和辽河流域等区域的古国文明相继形成。山西陶寺遗址、辽宁西部的牛河梁遗址群、长江下游的含山凌家滩遗址等地的权贵墓中，都发现有随葬玉器和龙形图案。由此可推论出

- ①中国各地文明进程模式存在极大差异    ②中国出现多元一体的中华文化的雏形  
③中华各区域文明之间都有过直接联系    ④初步形成龙的信仰和以玉为贵的理念
- A. ①②                      B. ①③                      C. ②④                      D. ③④

2. 右栏所示内容为“四科”，是《汉官仪》中所记载察举制的选官标准。它反映出

- A. 汉朝通过考试选拔政府官员  
B. 儒家观念已经成为察举的标准  
C. “四科”便于对官员“明功过”  
D. 察举制重视家世、道德和才能

一曰德行高妙，志节清白；  
二曰学通行修，经中博士；  
三曰明达法令……能按章复问……；  
四曰刚毅多略……皆有孝悌廉公之行。

3. 为了巩固统一多民族封建国家，秦朝和隋朝在诸多领域均有创新。下列对两朝采取的措施叙述均准确的是

- A. 秦朝实行户籍分类登记制度；隋朝命州县官“大索貌阅”  
B. 秦朝在中央实行内外朝制度；隋朝正式确立三省六部制  
C. 秦的律和令都具有法律效力；隋朝修订并颁布《永徽律疏》  
D. 秦朝在南越设置西域都护府；隋朝册封谯国夫人治理岭南

4. 元朝海运的开辟是中国海运史上划时代的大事。下列记载体现了当时海运优势的是

- A. “功效大著，民间垦辟种艺之业，增前数倍。”  
B. “江南行省起运诸物，皆由会通河以达于都。”  
C. “星罗棋布，脉络相通，朝令夕至，声闻毕达。”  
D. “河漕视陆运之费省什三四，海运视陆运之费省什七八。”

5. 雍正元年(1723年),川陕总督年羹尧在《会陈军务事情请先具稿密陈折》中写到:“臣等请嗣后凡有紧要事情,先具奏稿密呈睿览……既经对圣虑,自有乾断,不独臣等获有遵循,而军务大事可免错误矣。”由此可见

- ①雍正时期奏折制度正式形成      ②奏折制度的特征之一是私密性  
③奏折制度有利于提高决策效率      ④奏折内容仅限于通告军事要务  
A. ①③      B. ②③      C. ②④      D. ③④

6. 右栏是某同学整理的中国古代赋役制度的知识要点。下列对中国古代赋役制度演变趋势的概括,准确的是

- A. 征税标准从人丁为主转向土地和财产  
B. 人头税从秦朝占较大比重到明朝废除  
C. 征收形式从以纸币为主到以白银为主  
D. 百姓的赋役负担呈现越来越轻的趋势

- 秦汉:“泰半之赋”与轻徭薄赋
- 隋唐:实行租庸调与推行两税法
- 明清:赋役合并与“摊丁入亩”

7. 近代时期,中华民族面临严峻的生存与发展的挑战,中华文化在冲击和交融中迈向新生。以下史料对应的历史事件,按时序排列准确的是

- ①“法者天下之公器,变者天下之公理。”  
②“将统治权公诸全国,定为共和立宪国体。”  
③“欲悉各国情形,必谙(熟悉)其语言文字,方不受人欺蒙。”  
④“只有这两位先生可以救治中国政治上、道德上、学术上、思想上一切的黑暗。”  
A. ①②④③      B. ③①②④      C. ③②①④      D. ④③①②

8. 晚清中央政府在筹办京师大学堂的同时,鼓励地方政府创建中小学堂。京师顺天府尹和五城察院联合会奏:“方今时势多艰,需才孔亟,京师为首善之区,尤当先行举办。”奏折获批,1901年中国第一个公立中学五城学堂诞生。可见,近代公立中学的创建

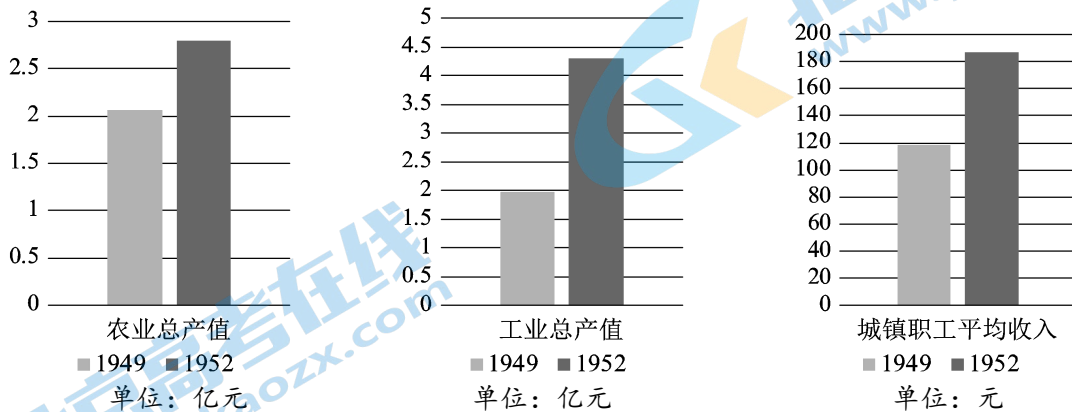
- A. 表明洋务派已意识到大学堂的生源问题  
B. 为维新变法运动培养了大量的新式人才  
C. 标志着近代中国学堂选官制度正式建立  
D. 筹划于百日维新之时,建成于新政时期

9. 列宁将20世纪初亚洲各国掀起的反帝反封建斗争的新高潮称为“亚洲的觉醒”。电视剧《觉醒年代》讲述了1915年《青年杂志》问世到1921年《新青年》成为中国共产党机关刊物的历程。对这两个“觉醒”的内涵解读准确的是

- ①“亚洲的觉醒”指亚洲各国民族忧患意识和民主改革意识觉醒  
②“亚洲的觉醒”指资产阶级的政治经济制度扩展到亚洲范围  
③中国的“觉醒”指马克思主义得到先进中国人的认同并传播  
④中国的“觉醒”指探索出“工农武装割据”的革命新道路  
A. ①③      B. ①④      C. ②③      D. ②④

10. 1949年5月16日，中国人民解放军进入武汉，三年后武汉国民经济发生的巨变如图所示。

此外，武汉国营工业产值比重由7.5%升至25.9%。对这些数据解读准确的是



- A. 土地改革调动农民积极性，农业总产值呈上升趋势
- B. “一五”计划超额完成，武汉工业总产值成倍增长
- C. “银元之战”“米棉之战”使得城镇职工收入上升
- D. 至1952年，武汉国营工业在国民经济中占据绝对优势

11. 1964年至1980年，中国在中西部13个省、自治区进行的“三线建设”建起1100个大中型工矿企业、科研单位和大专院校。“三线建设”留下的物质成果和精神财富分别是

- ①进一步增强我国的国防力量，并改善全国的工业布局
- ②建立起独立的、比较完整的工业体系和国民经济体系
- ③凝练、概括出“爱国、敬业、诚信、友善”等价值准则
- ④“艰苦创业、团结协作、勇于创新、无私奉献”的三线精神

- A. ①③
- B. ①④
- C. ②③
- D. ②④

12. 左图照片反映的是1971年11月1日，中华人民共和国国旗第一次在联合国总部大楼升起。右图为2021年中国邮政发行的《中华人民共和国恢复联合国合法席位50周年》纪念邮票。以下关于史料的类型和价值的说法，准确的是



- A. 老照片和纪念邮票均属于实物史料，但二者具有不同价值
- B. 照片与纪念邮票进行互证，更能全面认识此重大历史事件
- C. 老照片比纪念邮票更能体现出中国人对此外交成果的认识
- D. 邮票比照片更准确反映出五星红旗首次在联合国升起的情景

13. 以下四项表述可以从史实直接推断出结论的是

	史实	结论
A	人类最初的文明产生于西亚、北非、南亚和中国的大河流域	古代文明表现出明显的多元特征
B	公元前1000—前600年，西亚冶铁技术尚未传到埃及之时，东非已存在早期炼铁活动	受地理和历史条件影响，早期文明之间缺乏交流
C	封君封臣制度下，各级封建主是土地事实上的占有者	庄园是西欧基本的农业经济组织
D	15世纪晚期，英国王权得到加强，法兰西完成了统一	为英、法民族国家的形成奠定基础

14. 有学者概括某一阶段世界贸易的特征如下：“中国出售丝绸和瓷器；东南亚地区出售香料和胡椒；印度出售棉布；非洲出售奴隶和黄金；美洲出售白银、皮毛、糖和烟草；欧洲人则出售远洋保护，并运输各方的货物。”符合此特征的阶段应是

- A. 14、15世纪  
B. 1500年前后  
C. 16世纪中期至18世纪中期  
D. 18世纪中期至20世纪初

15. 美国独立之初，司法机构与其他政府部门相分离的规定仅停留在“羊皮纸”上，只是由原英王控制司法变为立法操纵司法。汉密尔顿在三权分立理论的基础上全面论述了司法独立的理论，为美国司法实践所采纳。对此解读准确的是

- ①北美获得独立后，完全抛弃英国的法律体系制定本国的法律  
②“司法独立”作为近代西方法律制度的特征之一源自罗马法  
③洛克、孟德斯鸠等启蒙思想家为汉密尔顿提供了思想基础  
④汉密尔顿结合美国实践，为限制立法干预提出“司法独立”

- A. ①③  
B. ①④  
C. ②③  
D. ③④

16. 1910年墨西哥爆发资产阶级革命，1917年颁布资产阶级宪法，下栏为宪法部分内容。

第 27 条：申明国家是土地、河流、矿藏的所有者，有权限制外国人利用墨西哥的土地、河流、矿藏资源，有权在必要时分割大地产，把大地产分配给村镇，转让给中小农户使用和经营。

它对亚非拉民族独立运动的借鉴意义在于

- A. 充分利用帝国主义国家忙于一战的时机  
B. 实行生产资料公有制，以争取民族解放  
C. 用法律手段抵制殖民扩张维护国家利益  
D. 平均分配土地，调动农民的革命积极性

17. 1922年，苏俄与德国签订《拉巴洛条约》，德国放弃在苏俄的财产，两国放弃战债及战争造成的经济赔偿，恢复外交关系并建立平等互利的经贸关系。苏俄此举旨在
- 实行战时共产主义政策，打赢国内战争
  - 为实施新经济政策创造有利的国际环境
  - 捍卫国家利益，推进“社会主义工业化”
  - 接受不平等条款，换取西方国家的认可

18. 雅尔塔会议后不久，英国人发表了名为《今天感觉好些了吗？》的漫画：斯大林、罗斯福和丘吉尔正在探视躺在病床上缠着绷带的地球。三巨头对“生病”的地球嘘寒问暖，画面和谐而友爱。以下解读准确的是



- “缠着绷带的地球”反映了战争对人类社会的严重破坏
  - 建立联合国是三巨头对地球“嘘寒问暖”的表现之一
  - 画面“和谐而友爱”反映出苏、美、英战时同盟关系
  - 三巨头共同“探视地球”寓意着世界多极化趋势出现
- ①②③
  - ①②④
  - ①③④
  - ②③④

19. 1999年，美国、英国、德国、俄罗斯、中国等世界上最重要的经济体组成了二十国集团（G20）。其宗旨是推动发达国家和新兴市场国家之间进行开放及有建设性的对话，寻求合作促进国际金融稳定和经济的持续增长。这表明

- 欧洲联盟等区域经济集团的发展遭遇重大的挫折
- 经济全球化趋势加强，出现全球经济治理新机制
- 资本主义国家实施政府主导政策，加强国际协调
- 发展中国家团结合作对抗发达国家操纵国际市场

20. 右图是为纪念世界上第一封电子邮件诞生发行的邮票，上面的年代数字是“1971-2021”。电子邮件是一种用电子手段传送信件、单据、资料等信息的通信方法。电子邮件广泛使用带来的影响是



- 推动计算机的出现和互联网的建立及英语的普及
- 使各类信息的收集、储存和传递更加高效而安全
- 促进文化的传播，也可能阻碍文化多样性的发展
- 推动社区出现，并在政府的管理下实行居民自治

## 第二部分

本部分共5题，共50分。

### 21. (14分) 张家口兴起与发展

材料一 古代时期张家口的历史沿革(部分)

时期	历史沿革
春秋战国	北部为匈奴与东胡居住地，南部分属燕国和代国
秦朝	南部属代郡、北部属上谷郡
汉朝	汉初属代国，部分属上谷郡；汉武帝时属并州代郡
唐朝	北属突厥地，南多属河北道妫州、新州
宋朝	先后属辽之西京道、金之西京路
元朝	属中书省上都路宣宁府与顺宁府
明朝	封皇子朱穗为谷王，就藩宣府，张家口为长城防线九边重镇之一
清朝	隶属直隶省

材料二 “俺答封贡”之后，明政府在九边设置互市11处，张家口为其一。由张家口至蒙古库伦(现在蒙古国的乌兰巴托)的张库商路逐渐畅通。康熙二十二年(1683年)清廷给噶尔丹的敕书规定可在张家口等处贸易。康熙三十年，清政府开张家口、杀虎口等五口，内地商人可到蒙古地区贸易。《尼布楚条约》规定俄商执有“路票”者可往来贸易。此后逐渐形成了一条由恰克图(现属俄罗斯)—库伦—张家口至北京的贸易路线。乾隆末年的《闻见瓣香录》记载：“张家口为南北交易之所，凡内地之牛马驼羊多取给于此。贾多山右人(山西人)，率出口以茶布兑换而归。又有直往恰克图地方交易者，所货物多紫貂、猞猁、银针、海貂……以及哈喇明镜、阿敦绸等物。”

——摘编自《明清时期草原丝路沿线城市张家口的发展与职能演变研究》等

- (1) 阅读材料一，任选两个重要时间节点(相邻朝代或同一朝代的两个时期)，结合张家口的历史沿革，说明中央对地方治理的变化。(4分)
- (2) 依据材料二，分析清代前期张家口商贸枢纽地位形成的原因，(6分)结合所学知识，简述其影响。(4分)

22. (8分) 《海国图志》与《日本国志》

材料一 林则徐在广州主持禁烟期间，派人收集、翻译外文资料，他在英人著《世界地理大全》的基础上加以编辑，撰成《四洲志》一书。

1842年，魏源著成《海国图志》。他在序言中说到：“《海国图志》六十卷，何所据？一据前两广总督林尚书所译西夷之《四洲志》，再据历代史志，及明以来岛志，及近日夷图、夷语。……彼（同类书籍）皆以中土（中国）人谈西洋，此则以西洋人谈西洋也。……为以夷攻夷而作，为以夷款夷而作，为师夷长技以制夷而作。”

材料二 1877-1881年，黄遵宪任驻日参赞官期间深入了解日本国情，搜集了200多种资料，于1887年写成《日本国志》。全书共四十卷，五十余万字，于1895年刊行。同年，黄遵宪还参与上海强学会，与梁启超、谭嗣同等人创办《时务报》。

黄遵宪在《日本国志》一书中写道：“日本变法以来，革故鼎新，旧日政令，百不存一，今所撰录，皆详今略古，详近略远，凡牵涉西法，尤加详备，期适用也。……意在借镜而观，导引国人，知所取法。”

阅读材料，选取两个角度，分别简述《海国图志》和《日本国志》反映的时代特征。

23. (8分) 从“三大法宝”到“十个方面的历史经验”

1939年，毛泽东总结中国共产党成立以来的历史经验，提出了中国革命的三大法宝：统一战线、武装斗争和党的建设。2021年，《中共中央关于党的百年奋斗重大成就和历史经验的决议》指出，一百年来，党领导人民进行伟大奋斗，积累了宝贵的历史经验。其中三个方面的历史经验及其要义摘要如下：

【历史经验之一：坚持党的领导】中国人民和中华民族之所以能够扭转近代以来的历史命运、取得今天的伟大成就，最根本的是有中国共产党的坚强领导。

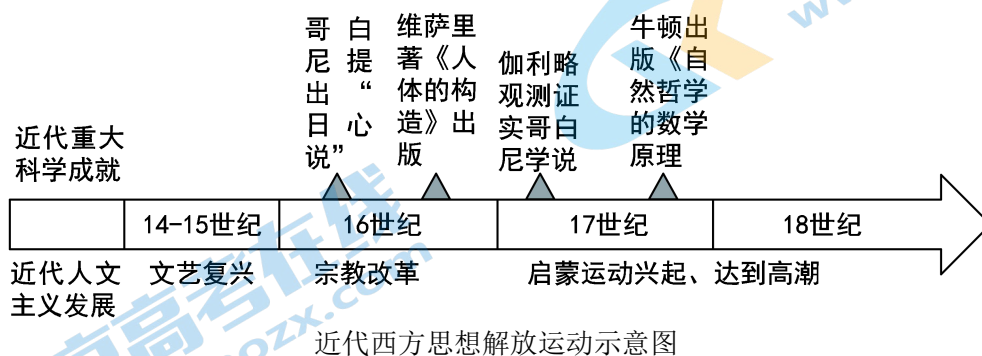
【历史经验之八：坚持敢于斗争】无论敌人如何强大、道路如何艰险、挑战如何严峻，党总是绝不畏惧、绝不退缩，不怕牺牲、百折不挠。

【历史经验之九：坚持统一战线】中国共产党始终坚持大团结大联合，团结一切可以团结的力量，调动一切可以调动的积极因素，最大限度凝聚起共同奋斗的力量。

以上方面是中国共产党在百年奋斗的历程中，经过长期实践积累的宝贵经验。从材料所列三个方面的经验中任选其一进行论述。（要求：观点正确，选取2—3个覆盖中国近代史和中国现代史的典型史实，史论结合，逻辑清晰。）

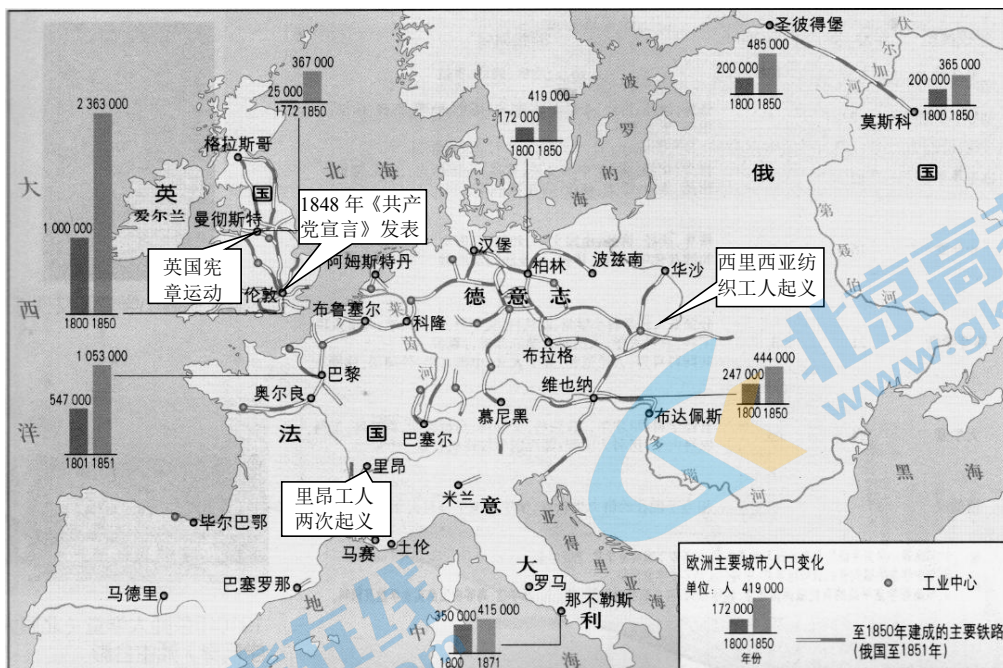
24. (12分) 人文主义与科学技术革命

材料一



(1) 依据材料一并结合所学，概述近代科学成就与人文主义是如何相互促进推动欧洲思想解放的。(6分)

材料二



(2) 依据材料二概括19世纪中期欧洲城市出现的新现象，结合所学知识，对应分析这些新现象出现的原因。(6分)



25. (8分) “停战空地”的集体记忆

1918年11月11日，第一次世界大战的停战协议在法国贡比涅森林的福煦元帅座车上签订。此车厢后来被命名为“停战车厢”，那片空地被命名为“停战空地”。时任法国国防部长马奇诺说：“要追念那些伟大的逝者，再没有比这里更好的地方了。”贡比涅森林内的第二次受降仪式发生于1940年6月21日至22日。德国凯特尔将军指出：“1918年的11月11日，德意志民族的苦难时光从这节车厢中开始了。”然后向战败者宣读停战条件。

1946年，“停战空地”的建筑相继在原地重建，戴高乐等多位法国总统都曾在此留下足迹。1950年，复制的车厢重回贡比涅森林，“舒曼计划”则开启了西欧煤钢联营的序幕。时代的发展赋予停战空地新的角色。2001年，停战空地被列入法国国家“历史建筑”名录。2018年，改建后的停战博物馆用法、英、德三种语言向来自世界各地的参观者讲述这段历史。同年11月10日，法国总统马克龙与德国总理默克尔在“停战空地”共同参加第一次世界大战停战百年的纪念活动。

——摘编自江天岳《贡比涅森林“停战空地”历史文化聚落的形成及其意义》

“停战空地”作为记忆之场，经历了从象征“对抗与复仇”到象征“和解与共生”的转变。结合所学对此现象进行阐释。

## 高三历史答案及评分参考

2022.1

## 一、选择题（共 50 分）

1	2	3	4	5	6	7	8	9	10
C	B	A	D	B	A	B	D	A	A
11	12	13	14	15	16	17	18	19	20
B	B	D	C	D	C	B	A	B	C

## 二、非选择题（共 50 分）

21.（14 分）

(1) 答案示例：

春秋战国时期，在分封制下张家口分属于诸侯国燕国和代国；秦统一后在全国推广郡县制，此地分属代郡和上谷郡管辖，纳入统一多民族封建国家的版图。

(2) 答案要点：

原因：张家口地理位置独特，明朝时张家口是九边重镇之一，清朝时是中俄贸易路线的必经之路；随着明朝汉蒙民族和好，张家口成为汉蒙等族互市之地，为商贸枢纽地位的形成奠定了基础；清朝时，对内平定噶尔丹叛乱，实行蒙旗制度、联姻政策，缓和了民族矛盾，对外签订《尼布楚条约》，确定疆域，大一统局面的形成为汉蒙、中俄的交流创造了良好的社会条件；商帮的推动作用等；

影响：促进张家口城市的发展与职能的转变；丰富了中俄人民的生活，推动了两国经济和贸易的发展；促进了中国边疆地区的稳定，巩固中国版图；有利于各民族交流交融；推动中俄文化的交流与扩散。

22.（8 分）答案要点：

《海国图志》：鸦片战争中国战败，中国开始沦为半殖民地半封建社会；魏源等人开眼看世界，提出“师夷长技以制夷”；学习对象主要是英法等西方资本主义国家；“长技”指西方的军事技术，反映出当时中国向西方学习处于初级水平；魏源通过收集、翻译西方书报等方式撰写，表明当时清政府与外国交往途径有限。

《日本国志》：中国进一步沦为半殖民地半封建社会；黄遵宪提出学西方变法图强；近代日本同样受西方侵略，但明治维新以来发生巨大变革，中国人将其列为学习对象；此书收录大量西法，表明进入学习西方制度的新阶段。黄遵宪任参赞官得以深入了解日本国情，表明中国近代外交体制建立后，了解西方的途径增多。

23. (8分)

答案示例：建设最广泛的统一战线，是中国共产党克敌制胜的重要法宝，也是其执政兴国的重要法宝。

1924年，中国共产党为完成民主革命任务，与国民党合作建立革命统一战线，开展国民大革命，基本推翻北洋军阀的统治，沉重打击帝国主义，并认识到坚持无产阶级及其政党在统一战线中的领导权的重要性。1931年后，民族矛盾逐渐上升为社会主要矛盾，中国共产党推动国共实现第二次合作，建立抗日民族统一战线，全民族浴血奋战取得近代以来第一次反抗外敌入侵的完全胜利。1949年9月，中国共产党领导的多党合作和政治协商制度确立。人民政协是各民主党派、各人民团体和社会各方面代表人士组成的爱国统一战线组织，扩大各界人士有序政治参与、拓展社会利益表达渠道，促进社会和谐发展。

中国共产党将“统一战线”视为宝贵的历史经验，在新征程中继续发挥中国共产党领导的多党合作和政治协商制度作为我国政治制度的特色和优点。

24. (12分)

(1) 答案要点：

文艺复兴运动肯定人的价值和尊严，崇尚理性，提倡探索人与自然的奥秘，使人们更多地关注人本身和现实世界。哥白尼、伽利略等人的成就确立了新的宇宙观和方法论，冲击了天主教世界观。生理学等成就提高了人对自身的科学认识，增强人的自信。近代科学形成重视经验和事实的理性化思维方式，确立观察、实验、分析等科学方法，促进启蒙思想家探索社会发展规律。启蒙思想家提倡理性，相信科学和教育的作用。以上这些相互影响，共同推动欧洲思想解放。

(2) 答案要点：

英国率先完成工业革命，其他国家也陆续开展工业革命，所以工业中心增多；为满足河流运输，工厂动力的需要，因此工业中心多分布于河流边；为运输原料和产品，发明了蒸汽机车，所以各地之间修建大量铁路联系；工厂发展需要大量工人集中劳动，吸引农村劳动力转移到城市和工业领域，因此城市人口迅速增加；工业革命后社会结构变化，矛盾激化，工业中心成为工人运动的集中地。

25. (8分)

答案示例：第一次世界大战中，法胜德败，签订停战协定之地成为两国“对抗”的记忆之场。德国法西斯利用民众对凡尔赛体系的不满，上台并发动第二次世界大战，进攻法国迫使其投降，以此报复一战的屈辱。此时“停战车厢”是象征“对抗与复仇”的记忆之场，反映出极端民族主义对国家关系的影响。

经历第二次世界大战，在两极格局下，为恢复经济争取国际地位，法、德在以史为鉴、面向未来的共识基础上，达成和解。“停战车厢”转化为人们敬畏历史、向往和平的记忆之场。法、德通过煤钢联营走上联合发展之路，合作共赢促进两国发展。

考察法、德两国对于“停战空地”的不同记忆，最初的“对抗与报复”反映的是以邻为壑、冤冤相报的狭隘民族主义，其后转为“和解求共生”，反映出一种包容、理性的态度，为当今各国处理历史与发展问题做出了较好的示范。

## 北京高一高二高三期末试题下载

北京高考资讯整理了【2022年1月北京各区各年级期末试题&答案汇总】专题，及时更新最新试题及答案。

通过【北京高考资讯】公众号，对话框回复【期末】或者底部栏目<试题下载→期末试题>，进入汇总专题，查看并下载电子版试题及答案！

