

# 高一历史

2023.01

考生须知

1. 答题前，考生务必先将答题卡上的学校、班级、姓名、教育 ID 号用黑色字迹签字笔填写清楚，并认真核对条形码上的教育 ID 号、姓名，在答题卡的“条形码粘贴区”贴好条形码。
2. 本次练习所有答题均在答题卡上完成。选择题必须使用 2B 铅笔以正确填涂方式将各小题对应选项涂黑，如需改动，用橡皮擦除干净后再选涂其它选项。非选择题必须使用标准黑色字迹签字笔书写，要求字体工整、字迹清楚。
3. 请严格按照答题卡上题号在相应答题区内作答，超出答题区域书写的答案无效，在练习卷、草稿纸上答题无效。
4. 本练习卷满分共 100 分，作答时长 90 分钟。

## 第一部分 选择题（共 30 小题，共 45 分）


1. 距今 5000 年左右的良渚遗址在空间布局上以城址为核心，自内而外分别是宫殿区、内城、外城，与后世都城“宫城、皇城、郭城”的结构十分类似；出土的墓葬中，距宫殿区最近的大型墓葬都有丰富的随葬品，其中玉器占 90% 以上，远离中心区的小型墓葬则随葬品很少，且多为陶器。这说明当时
  - ①出现了阶级的分化
  - ②私有制已产生
  - ③具备早期国家特征
  - ④实行封邦建国A. ①②③      B. ①②④      C. ①③④      D. ②③④
2. 某历史学家指出，西周时期诸侯在其封国内，卿大夫在其采邑内，都有其相对的独立性，他们都各自设立官职，私建武装，征收赋税，这样就形成了国中有国的现象。与上述现象有关的制度是  
A. 禅让制      B. 礼乐制      C. 分封制      D. 郡县制
3. 以下是关于春秋战国时期百家争鸣的叙述。其中②处表述的是

社会经济的发展，促使阶级关系出现新变化，旧的贵族等级体系开始瓦解，  
①  
新兴的士阶层崛起……当时出现众多学说、学派，各自提出对政治社会乃至宇  
②  
宙万物的看法，彼此论战辩驳……这是中国历史上第一次波澜壮阔的思想解放  
运动。      ③

- A. 历史背景      B. 历史现象      C. 历史影响      D. 历史评价

4. 右图所示秦权上铸有铭文“廿六年，皇帝尽并兼天下诸侯，黔首大安，立号为皇帝，乃诏丞相状、绌，法度量则不壹歉疑者，皆明壹之。”该权可用来研究秦代

- A. 铁器牛耕的推广情况
- B. 巩固统一的相关措施
- C. 楷书书法艺术的进步
- D. 雕版印刷技术的发展



5. 史书记载，北魏太祖拓跋珪曾“宣赞时令，敬授民时，行夏之正”，孝文帝也曾亲自率领众人躬耕种地，劝导百姓重视农业生产。据此推断他们

- ①认同中原文化      ②鼓励发展农业      ③主张严刑峻法      ④推动民族交融
- A. ①②③      B. ①②④      C. ①③④      D. ②③④

6. 下表为某同学记录的历史笔记。笔记反映的历史时期是

- |                  |
|------------------|
| ◆开通大运河，贯通南北      |
| ◆采用分科考试方法选拔官员    |
| ◆在长安、洛阳两都和地方广设仓库 |

- A. 隋朝      B. 唐朝      C. 宋朝      D. 元朝

7. 某同学准备以隋唐时期中央决策体系的完备为主题开展项目研究，下列可以作为研究对象的是

- A. 中朝尚书令的作用
- B. 政事堂的议事机制
- C. 内阁与六部的关系
- D. 军机处官员的职责

8. 北宋在中央设枢密院专掌军政，三司专管财政，并增设参知政事为副相，在地方各州增设通判，与知州共同签署文书。以上措施体现的特点是

- A. 守内虚外      B. 强干弱枝      C. 分化事权      D. 崇文抑武

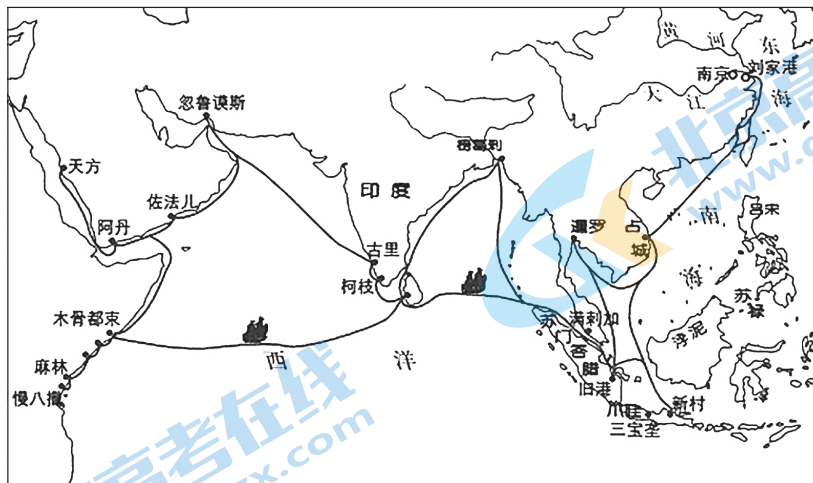
9. 元朝统一后，在全国大部分地区实行行省制度，由中央委派官员，代表中书省管辖地方乃至边疆事务，行省辖区广阔，军政大权集中。这一制度

- A. 加强了地方诸侯的势力
- B. 加速了士族阶层的衰落
- C. 破解了藩镇割据的难题
- D. 巩固了统一多民族国家

10. 明朝后期，经济领域出现了一些新现象。下列现象属于这一时期的有

- ①玉米、甘薯等高产作物广泛种植      ②货币需求量剧增促使纸币交子出现
  - ③美洲等地的白银大量流入中国      ④一些地区形成实力雄厚的商人群体
- A. ①②③      B. ①②④      C. ①③④      D. ②③④

11. 下图为中国古代一次远洋航行的路线图。对其历史意义评价正确的有

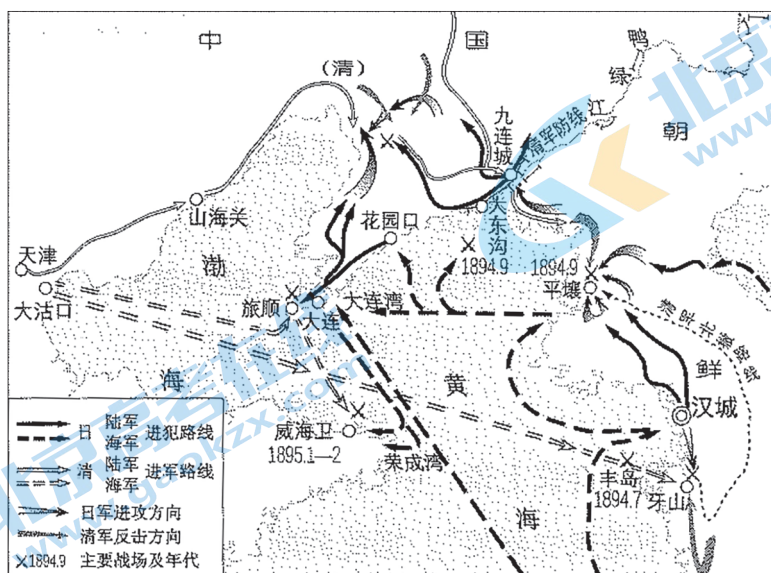


- ①推动了中外交流
  - ②抵御了外来侵略
  - ③增加了政府负担
  - ④传播了中华文化
- A. ①②③      B. ①②④      C. ①③④      D. ②③④

12. “敲剥天下之骨髓，离散天下之子女，以奉我一人之淫乐……为天下之大害者，君而已矣！”这段话体现出黄宗羲的思想是



- A. 无为而治
- B. 主张“致良知”
- C. 反对礼教
- D. 抨击君主专制

13. 下图为近代中国某次战争形势图。根据图中信息判断该战争是



- A. 鸦片战争
- B. 第二次鸦片战争
- C. 甲午中日战争
- D. 八国联军侵华战争

14. 时空观念是历史学科诸素养中学科本质的体现。以下图片反映的历史事件，按时间先后排列正确的是



- ①《天朝田亩制度》    ②《民报》创刊号    ③《孔子改制考》    ④《青年杂志》  
 A. ①②③④    B. ①③②④    C. ②①③④    D. ④③①②

15. 1898年，光绪皇帝颁布诏书，要求“嗣后中外大小诸臣……以圣贤义理之学，植其根本，又须博采西学之切于时务者，实力讲求，以救空疏迂缪之弊”。与该诏书有关的是


- A. 洋务运动    B. 戊戌变法    C. 义和团运动    D. 辛亥革命

16. 辛亥革命期间，上海、北京等地出现了《女学报》《女界月报》《中国妇人小杂志》等大批妇女报刊，这些报刊常以天赋人权学说为思想武器，鼓励妇女参加革命，宣传男女平等、婚姻自由等主张。这说明辛亥革命

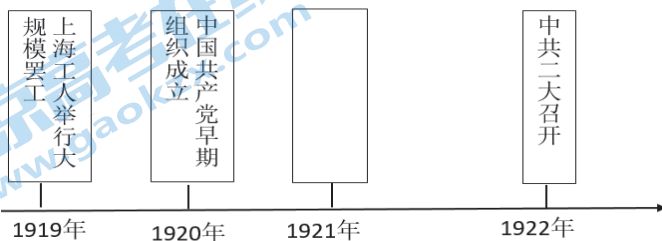
- A. 推动了中华民族思想解放    B. 打击了帝国主义的侵略势力  
 C. 促进了民族资本主义发展    D. 结束了中国的君主专制制度

17. 右图为1919年5月上海《新申报》印发的“号外”，其中有“今日各校学生游街”“声明不认二十一条……撤回赴欧和会专使节”等内容。该“号外”报道的事件是

- A. 五四运动爆发  
 B. 国民党一大召开  
 C. 北伐战争开始  
 D. 东北改旗易帜



18. 某同学用年代尺列举了新民主主义革命时期发生在上海的重要史事，其中空白处应填写的是



- A. 陈独秀创办《新青年》    B. 中共一大召开  
 C. 国民党组织淞沪会战    D. 一二·九运动

19. 右侧图片所示事件标志着

- A. 中国局部抗战开始
- B. 全面抗战由此开始
- C. 抗战进入相持阶段
- D. 抗日战争取得胜利



20. 美国记者史沫特莱描述了 1940 年一场战役的情景：“整个华北地区都成了战场。战斗日以继夜……打击了敌人的整个经济、交通线和封锁网。”她描述的是

- A. 淞沪会战
- B. 台儿庄战役
- C. 平型关大捷
- D. 百团大战

21. 抗日战争时期，东部沿海工业大规模向西南大后方迁移，华北、华东各著名高校师生带着书籍和实验设备迁到西南、西北大后方，海外华侨也捐款捐物甚至回国参战。这些壮举

- ①体现全民族坚强的抗敌意志
- ②鼓舞了全国人民的抗战决心
- ③使中国革命的面貌焕然一新
- ④奠定抗战胜利物质精神基础

- A. ①②③
- B. ①②④
- C. ①③④
- D. ②③④

22. 刘少奇说：“搞了土地革命，农民翻了身，就使我们与蒋介石在力量上发生了根本变化……我们有一亿五千万人，群众自动参战，人力、物力、财力是无穷的……蒋介石靠美国，我们靠老百姓……”上述材料反映的现象应该发生在

- A. 国民革命时期
- B. 土地革命时期
- C. 抗日战争时期
- D. 解放战争时期

23. 歌曲是时代的产物。建国初一首歌曲中唱到：“咱们的土地回老家哟……自己耕种自己的田哟……多收粮食送前线，援助人民志愿军。”歌曲反映的史实是

- A. 土地改革
- B. 农业合作化
- C. 人民公社
- D. 家庭联产承包责任制

24. 1956 年 1 月 15 日，北京各界 20 多万人在天安门广场举行联欢大会，北京市市长彭真在会上宣布：我们的首都已经进入了社会主义社会。据此推断这次联欢会庆祝的是

- A. 中国人民政治协商会议的召开
- B. 国民经济得到全面恢复发展
- C. 《中华人民共和国宪法》颁布
- D. 北京社会主义改造取得胜利

25. 1956 年，毛泽东提出要正确处理各类矛盾，调动一切积极因素为社会主义服务的思想，并提出在文学艺术和科学技术工作中要坚持“百花齐放、百家争鸣”的方针，1957 年又提出把正确处理人民内部矛盾作为国家政治生活的主题等思想。这表明毛泽东在

- A. 践行新民主主义革命理论
- B. 研究如何深入开展社会主义革命
- C. 探索社会主义建设的道路
- D. 指导社会主义市场经济体制建设

26. 20 世纪六十年代，大量先进典型和英雄人物抒写了改天换地的壮丽诗篇，形成了艰苦奋斗、自力更生的时代精神，如铁人精神、焦裕禄精神、红旗渠精神、雷锋精神等。这一时期中国人民的主要任务是

- A. 彻底打败日本侵略者  
B. 取消列强在华特权  
C. 全面建设社会主义  
D. 肃清一切反革命武装

27. 1964 年，许多友好国家和人民热烈祝贺中国取得的一大成果，普遍认为这一成果使世界力量对比发生了变化，打破了少数大国的垄断企图，使亚洲和世界和平得到更有力保证。这项成果是

- A. 成功爆炸了原子弹  
B. 载人航天技术取得重要突破  
C. 5G 技术快速发展  
D. 高速铁路里程跃居世界第一

28. 中国共产党成立以来召开了许多重要会议。下图是某同学制作的一张重要会议知识卡片，卡片横线处应填写

时间：1978 年 12 月 18 日—22 日

会议：\_\_\_\_\_

意义：开启了改革开放和社会主义现代化建设新时期

- A. 八七会议  
B. 遵义会议  
C. 七届二中全会  
D. 十一届三中全会

29. 中国改革开放四十多年来取得了巨大成就。下列成就属于这一时期的是

- ①社会主义基本制度开始确立  
②中国特色社会主义理论体系形成和发展  
③经济总量跃升至世界第二位  
④基础设施建设在众多领域走在世界前列
- A. ①②③  
B. ①②④  
C. ①③④  
D. ②③④


30. 21 世纪以来，中国积极促进全球治理体系改革与完善。下列能体现这一点的有

- ①奉行“一边倒”的外交方针  
②提出共建“一带一路”倡议  
③倡议设立亚洲基础设施投资银行  
④推动气候变化《巴黎协定》生效
- A. ①②③  
B. ①②④  
C. ①③④  
D. ②③④

## 第二部分 非选择题（共 55 分）

### 31. 史料与史实（10 分）

史料一：



“五星出东方利中国”锦护臂

说明：该织锦出土于西域精绝古国遗址中，有学者考证织锦为汉代蜀锦。织锦采用白、青、黑、赤、黄五色丝线织成，锦上织有“五星出东方利中国”等汉字以及孔雀、仙鹤、辟邪虎等中原文化中的祥瑞纹样。织锦代表了当时中国乃至世界丝织工艺的顶极水平。

史料二：

汉世张骞怀致远之略，班超奋封侯之志……建都护之帅，总领其权……立屯田于膏腴之野，列邮置于要害之路。驰命走驿，不绝于时月。商胡贩客，日款于塞下。

——范曄《后汉书·西域传》

(1) 阅读材料，指出史料一和史料二的史料类型。(4 分)

(2) 结合所学，分析史料一和史料二的史料价值。(6 分)

## 32. 江南制造局（10分）

清政府镇压太平天国农民起义军的过程之中，非但清军使用了新式的西洋武器，农民起义军也使用了同类武器。这促使曾国藩、李鸿章等有识之士认识到生产该类武器的重要性，江南制造局就是在这种背景下诞生的。当近代新式企业在中国的大地上产生时，拥有先进技术和强大资本的列强环伺周围，各国通过在中国设矿、办厂、修筑铁路，垄断了中国的工商业，如何挽回这些利权是晚清企业面临的主要社会责任之一。

——摘编自侯中军《试论江南制造局与近代中国早期的企业社会责任》

（1）阅读材料，概括江南制造局诞生的背景。（4分）

### 江南机器制造局大事记

1867年	造出第一批德国毛瑟11毫米前膛步枪和第一台车床
1868年	制造了第一艘蒸汽推进的新式轮船。同年建立翻译馆，翻译西方科技书籍
1874年	建成中国第一座铅室法硫酸厂
1876年	制造了第一艘铁甲军舰“金鸥”号
1878年	制造了第一架钢制火炮
1891年	制成第一炉钢水、第一磅无烟火药
1898年	创办工艺学堂，招收学员，学习化学工艺、机器工艺

——依据张静《李鸿章集团和江南制造局》、张寿椿《江南制造局》等整理

（2）依据材料并结合所学，分析江南制造局的历史意义。（6分）



### 33. 辛亥革命（12分）

辛亥革命发生前，中国社会各阶级和政治力量所进行的社会运动存在着一些共同缺陷，比如缺乏坚强有力的组织领导和阶级基础，缺乏明确系统的指导思想和先进合理的制度建构等……相比之下，辛亥革命是一场有主义指导、有政党领导、有阶级基础、有制度建构的革命运动，它拉开了近代以来中国发生深刻社会变革的序幕。

——金民卿《深刻认识辛亥革命的伟大历史意义》

（1）阅读材料并结合所学知识，说明辛亥革命与之前中国社会各阶级和政治力量所进行的社会运动相比有哪些新特点。（8分）

（提示：从主义指导、政党领导、阶级基础、制度建构等角度举例进行说明）

辛亥革命是旧民主主义革命的高峰，又为新民主主义革命奠定了一定基础。不否定皇帝专制，就难以得到辛亥革命后的大幅进步，就难以发生新文化运动和五四运动，就不会有马克思主义的广泛传播，就不会有中国共产党在艰难中诞生、发展和壮大，就不会有中华人民共和国的诞生，就不会有现代中国在世界上的地位。甚至辛亥革命失败的历史教训，辛亥革命反帝不彻底，辛亥革命未能成功地发动和解决农民的问题，都对后来的中国共产党人提供了重要的历史启示。

——张海鹏《怎么看待辛亥革命的伟大历史意义》

（2）阅读材料并结合所学，谈谈你对辛亥革命“为新民主主义革命奠定了一定基础”的理解。（4分）

### 34. 祭皇帝陵（14分）

维中华民国二十六年四月五日，苏维埃政府主席毛泽东、人民抗日红军总司令朱德，敬派代表林祖涵，以鲜花时果之仪致祭于我中华民族始祖轩辕黄帝之陵。而致词曰：

赫赫始祖，吾华肇造；胄衍祀绵，岳峨河浩。

……

世变沧桑，中更蹉跌；越数千年，强邻蔑德。

……

各党各界，团结坚固；不论军民，不分贫富。

民族阵线，救国良方；四万万众，坚决抵抗。

民主共和，改革内政；亿兆一心，战则必胜。

……

——毛泽东《祭黄帝陵文》

阅读材料，概括祭文的核心内容，结合所学说明中国共产党在抗日战争中是如何践行祭文中的思想主张的。（14分）

### 35. 思想解放（9分）

1992年3月26日《深圳特区报》刊载了《东方风来满眼春——邓小平同志在深圳纪实》：

邓小平同志指出，社会主义的本质，是解放生产力，发展生产力，消灭剥削，消除两极分化，最终达到共同富裕。证券、股市，这些东西究竟好不好，有没有危险，是不是资本主义独有的东西，社会主义能不能用？

允许看，但要坚决地试……

在谈话中，小平同志还谈到了：现在建设中国式的社会主义，经验一天比一天丰富；在农村改革和城市改革中，不搞争论，大胆地试，大胆地闯；我们的政策就是允许看，允许看，比强制好得多，等等。

概括材料中邓小平谈话的主要内容。结合所学，从“思想解放与深化改革”的角度谈谈你的认识。（9分）

## 关于我们

北京高考在线创办于 2014 年，隶属于北京太星网络科技有限公司，是北京地区极具影响力的中学升学服务平台。主营业务涵盖：北京新高考、高中生涯规划、志愿填报、强基计划、综合评价招生和学科竞赛等。

北京高考在线旗下拥有网站门户、微信公众平台等全媒体矩阵生态平台。平台活跃用户 40W+，网站年度流量数千万量级。用户群体立足于北京，辐射全国 31 省市。

北京高考在线平台一直秉承 “精益求精、专业严谨” 的建设理念，不断探索 “K12 教育+互联网+大数据” 的运营模式，尝试基于大数据理论为广大中学和家长提供新鲜的高考资讯、专业的高考政策解读、科学的升学规划等，为广大高校、中学和教科研单位提供 “衔接和桥梁纽带” 作用。

平台自创办以来，为众多重点大学发现和推荐优秀生源，和北京近百所中学达成合作关系，累计举办线上线下升学公益讲座数百场，帮助数十万考生顺利通过考入理想大学，在家长、考生、中学和社会各界具有广泛的口碑影响力

未来，北京高考在线平台将立足于北京新高考改革，基于对北京高考政策研究及北京高校资源优势，更好的服务全国高中家长和学生。



微信搜一搜

北京高考资讯