

北京市东城区 2016—2017 学年度第二学期高三综合练习(一)

2017.4

文科综合

本试卷共 12 页, 满分 300 分。考试时长 150 分钟。考生务必将答案答在答题卡上, 在试卷上作答无效。考试结束后, 将本试卷和答题卡一并交回。

第一部分 (选择题, 共 110 分)

本卷共 35 小题, 每小题 4 分, 共 140 分。在每小题列出的四个选项中, 选出最符合题目要求的一项。

图 1 为“古代《西域水道记卷二》中的罗布泊位置示意图”, 图 2 为“雅丹地貌景观图”。读图, 回答 1~3 题。



图 1



图 2

1. 博斯腾湖位于罗布泊西北侧的天山山脉中。若在图 1 的甲框中添加一个指向标, 下列正确的是

- A. B. C. D.

2. 图 1 中

- A. 罗布泊和博斯腾湖都是咸水湖  
B. 罗布泊和博斯腾湖都是内流湖  
C. 罗布泊参与了海陆间循环  
D. 博斯腾湖地势较罗布泊地势低

3. 罗布泊周围是我国雅丹(风蚀)地貌发育最典型地区之一, 依据图 2 判断雅丹地貌主要分布在

- ①干旱地区 ②湿润地区 ③沿海地区 ④内陆地区  
A. ①③ B. ③④ C. ①④ D. ②③

图 3 为“我国部分主要救灾物资储备基地分布示意图”(图中字母表示 4 个省级行政中心)。读图, 回答 4 题。

4. 图中

- A. a、b、c、d 均位于京广铁路沿线  
B. b、c 两地应多储备救生舟、救生衣等  
C. 所示救灾物资储备基地均处第三级阶梯  
D. 救灾物资储备基地选址主要考虑工业发展水平

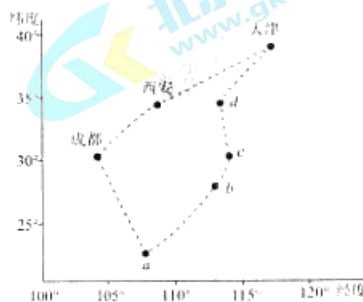


图 3

习近平主席在2013年秋天提出共建“一带一路”的合作倡议，旨在通过加强国际合作，促进共同发展。读图4，回答5~7题。

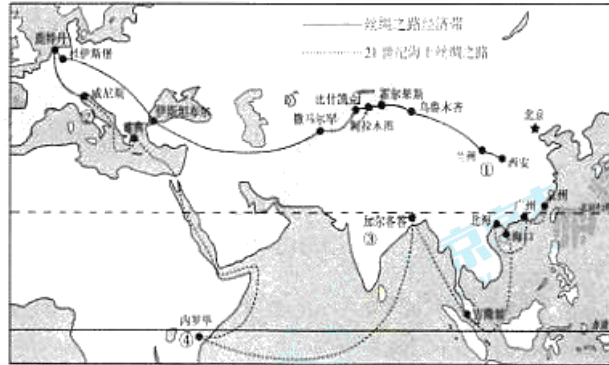


图4

5. “一带一路”国际合作高峰论坛将于2017年5月14日至15日在北京举行。论坛期间
  - A. 吉隆坡正午太阳高度低于海口
  - B. 西安日出晚于加尔各答
  - C. 雅典将进入高温多雨季节
  - D. 北京适逢中国农历谷雨节气
6. “一带一路”途经的国家
  - A. 均位于北半球中低纬
  - B. ①③位于同一板块
  - C. ②多常绿乔木或灌木
  - D. ④每年新增人数最多
7. “一带一路”沿线
  - A. 西安至乌鲁木齐自转线速度增大
  - B. 霍尔果斯至比什凯克可见高山、雪峰
  - C. 撒马尔罕至伊斯坦布尔多大牧场放牧业
  - D. 鹿特丹至雅典植被呈现经度地带性变化

图5为“2005~2010年中国各省区(港澳台除外)人口迁移量图”。读图，回答8、9题。

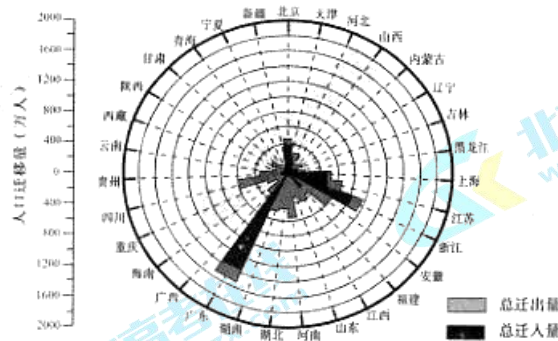


图5

8. 图中
  - A. 人口迁移总量最高的是蜀
  - B. 人口迁出量豫小于赣
  - C. 人口自然增长率沪高于鲁
  - D. 人口迁入量粤大于浙

9. 图中

- A. 人口净迁出的省份主要分布在黄河流域
- B. 人口净迁入的省份多属于经济较发达地区
- C. 南方各省的人口迁移量均大于北方各省
- D. 沿海各省区的人口总迁入量超过 1 亿人

某研究者从大数据的视角出发,利用国内新浪微博公众平台,采集了 2013 年网络用户签到数据,解析出北京几个城区“活动空间”的特征。读表 1 和表 2,回答 10、11 题。

表 1 北京三城区的活动空间数量分布

	朝阳区	西城区	丰台区
商业活动空间	13730	5343	3911
户外休闲活动空间	730	305	270
交通活动空间	868	310	375

表 2 北京三城区活动空间签到数量分布

	朝阳区	西城区	丰台区
商业活动签到	817418	307163	100886
户外休闲活动签到	55818	72932	12231
交通活动签到	98401	48207	113108

(注:“活动空间”是人们由于各种明确的目的、活跃在一定场所范围内的空间。主要分为居住、公共、商业、交通、通讯和户外休闲等六种类型。)

10. 该研究者得出表 2,使用的技术有

- A. GPS 和 GIS
- B. GPS 和 RS
- C. RS 和 GIS
- D. 数字地球

11. 下列说法正确的是

- A. 朝阳区商业活动签到最高是由于传统商业区知名度高
- B. 朝阳区户外休闲活动签到少于西城区是由于户外休闲活动空间少
- C. 丰台区交通活动签到多于朝阳区是由于对外交通枢纽多
- D. 丰台区户外休闲活动签到最少是由于交通活动空间少

12. 读图 6,序号和史实对应正确的是

- A. ①采取了焚诗书控制思想的措施
- B. ②发现了目前所知最早的成熟汉字
- C. ③诞生了儒家学派创始人孔子
- D. ④创作了我国最早的抒情长诗《离骚》



图 6

13. 《通鉴纪事本末》记载某朝皇帝说:“朕即位之始,览前王令典,睹五代弊端,乃革故鼎新,别作朝廷法度。”下列史实与此相符的是

- A. “分天下以为三十六郡,郡置守、尉、监”
- B. “惩戒亡秦孤立之败,于是剖裂疆土,立二等之爵”
- C. “知州掌郡国之政令,通判为之贰”
- D. “大学士之职,惟出入侍从备顾问而已”

14. 《晚明大变局》一书提到:“近来人们常说‘晚清大变局’,殊不知晚明也有大变局……它不是中国内部悄悄发生的,而是有世界背景的。”这里的“晚明大变局”主要表现在

- A. 坊市制度逐渐被打破
- B. 白银成为主要流通货币
- C. 重农抑商政策不断强化
- D. 自然经济逐步解体

15. 阅读图7和诗文,对其解读正确的有



渔家  
(明)孙承宗  
呵冻捉篙手未苏,  
满船凉月雪模糊。  
画家不识渔家苦,  
好作寒江钓雪图。

图7 (宋)马远《寒江独钓图》


- ①此画是古代人物画的代表,体现了“以形写神”的风格
  - ②此画受理学思想的影响,抒发性情重于刻画细节
  - ③由于科举考试侧重诗赋,此时古代诗歌创作达到全盛
  - ④该诗对当时思想界脱离现实,空谈心性的状况提出批评
- A. ①②      B. ③④      C. ①③      D. ②④
16. 1898年谭嗣同在《论今日西学与中国古学》中曾指出:“中国艰危……然吾约计开辟以来,战  
国与今日遥遥相映,时局虽皆极危,却又是极盛之萌芽。”对材料中的观点理解准确的是
- A. 借鉴历史经验,主张中体西用      B. 民族危机加深,出现变革契机  
C. 认同百家争鸣,致方托古改制      D. 主张救亡图存,提倡民主共和
17. 《每周评论》在评价某一历史事件时指出:“它是‘学生牺牲的精神’、‘社会裁制的精神’和  
‘民族自决的精神’的结合,是民意与正气的表示,也是中国国民的创举”。该事件
- A. 使民主共和观念逐渐深入人心      B. 动摇了专制思想的统治地位  
C. 标志着新民主主义革命的开端      D. 推动了第一次国共合作的实现
18. 下列诗词所描绘的历史事件按时间顺序排列正确的是
- ①推倒三山黎庶悦,中华崛起翻新页。
  - ②聚首上海怀天下,再游湖上驭红船。
  - ③红军不怕远征难,万水千山只等闲。
  - ④稻堆堆得圆又圆,社员堆稻上了天。
- A. ②③①④      B. ③①②④      C. ②④①③      D. ④①②③

19. 图8是美国《时代周刊》封面所展现的不同时期中国形象,下列选项正确的是



图8

- ①体现了中美两国之间意识形态领域的强烈对抗
  - ②折射了中国从一边倒到全方位外交的发展变化
  - ③反映了美国对中国从敌视到建交、合作的过程
  - ④展现了中国推动政治多极化格局形成的历程
- A. ①③      B. ②③      C. ②④      D. ③④

20. 托克维尔指出：“从这条污浊的排水管中，排出人类工业的最大一股潮流去滋润全世界；从这条肮脏的下水道中，流淌出纯金。在这里，人类的发展成就既是最完备的，又是最野蛮的。”对此观点的全面理解是
- A. 工业文明创造了巨大财富      B. 工业文明造成了环境污染  
C. 工业文明开创了世界市场      D. 工业文明带来了双重影响
21. 有西方论者认为：“法国大革命是现代西方形成过程中一个极为关键的历史阶段，它实现了启蒙运动思想家的理想，摧毁了旧秩序的等级制和整个社会，强化了资产阶级的利益，促进了现代国家的成长。”能佐证上述观点的史实是
- ①三级会议的召开      ②《人权宣言》的发表  
③《法国民法典》的颁布      ④巴黎公社的成立
- A. ①②      B. ②③      C. ①③      D. ②④
22. 《大日本帝国宪法》规定：“天皇为国家元首，总揽统治权；天皇依帝国议会之协赞（协助）行使立法权；司法权由法院以天皇名义依法律行使之……国家之岁入岁出须经帝国议会之协赞，每年列入预算。”这表明
- A. 日本采取了君主立宪制的形式      B. 日本建立起三权分立的民主政体  
C. 日本天皇和议会共同掌握行政权      D. 日本自由民权运动取得彻底胜利
23. 历史学家阿诺德·汤因比认为：“文明是在提出艰难挑战的环境中诞生和成长的，苏联社会主义的挑战，对资本主义文明也是一个刺激和推动”。下列史实体现了这一观点的是
- A. “杜鲁门主义”的提出      B. 北大西洋公约组织成立  
C. 不结盟运动的兴起      D. 欧洲共同体的形成
- 2017年是丁酉鸡年，图9是甲骨文“鸡”字的书法作品。回答24、25题。
24. “鸡”在中国被赋予“文、武、勇、信、义”五德，而韩国人谈到“鸡”形象时一般会与“活泼”“吵闹”联系在一起。中韩两国对“鸡”形象的理解
- A. 展示了民族文化的个性特征  
B. 蕴含着世界文化的共性与普遍规律  
C. 说明生肖文化是维系民族情感的纽带  
D. 表明不同地域决定了不同的文化
- 
- 图9
25. 自古以来鸡鸣是我国农业社会的公共时钟。《诗经》有：“女曰鸡鸣，士曰昧旦”的催起劳作的夫妻对话。鸡鸣演绎着早期先民生活的时观。这表明
- ①矛盾双方的对立统一推动着先民时间观的发展  
②鸡鸣这种朴素的时间观决定了先民的生产生活  
③先民的朴素时间观是客观存在的主观映象  
④先民的实践活动与认知影响着人们朴素的时间观
- A. ①②      B. ①④      C. ②③      D. ③④
26. 2017年，央视《中国诗词大会》节目，以“赏中华诗词，寻文化基因，品生活之美”为主旨，通过对诗词知识的比拼及赏析，带动全民重温那些曾经学过的古诗词，感受诗词之趣。此节目不仅摘得收视率桂冠，也在全国掀起一股学习背诵古诗词的热潮，其原因在于
- ①优秀文化生生不息，源远流长      ②中华韵味民族认同，雅俗共赏  
③声像合一新颖创新，引人入胜      ④吟诗赏识全民动员，古诗新作
- A. ①②      B. ①③      C. ②③      D. ②④

27. 漫画(图 10)给出的哲学寓意是

- A. 动机不同结果各异
- B. 结果往往比想法重要
- C. 悲与喜相比较而存在
- D. 机遇总是靠自己把握



图 10

28. 偏远山村,搭上电商“顺风车”,一时间变成时代弄潮儿;居民看病,借助远程医疗网,预约全国名医不是梦;穿梭城市,购物、租车、食宿,均可在线支付……这说明

- ①互联网在影响和改变着人们的日常生活
- ②互联网出现是主观与客观的完美统一
- ③互联网使人们的想象空间成为现实
- ④互联网已经成为联系诸多事物的桥梁

- A. ①③
- B. ①④
- C. ②③
- D. ②④

29. 小明同学在某街道发现“××街道办事处”和“××社区居委会”两个单位牌子,对这两者关系不太了解,下列解释正确的是

- ①居委会和街道办事处是隶属关系
- ②街道办事处指导居委会的工作
- ③二者均由区人大选举产生,共同履行管理和服务职能
- ④街道办事处是政府的派出机关,居委会是基层群众性自治组织

- A. ①③
- B. ①④
- C. ②③
- D. ②④

30. 2017 年 1 月 3 日,被称为最严格的《珠海市环境保护和生态建设“十三五”规划》正式出台。提出要在 2020 年实现 20 项指标,其中与民生密切相关的指标有:城市空气质量达到二级天数的占全年比例 93%,PM2.5 年均浓度低于 28 微克/立方米,城市集中式饮用水源达标率与近岸海域水质达标率 100%,地表水水质优良比例 85%或以上。这说明

- A. 政府的权威和威信将会得到提升
- B. 规划是政府科学民主决策的产物
- C. 政府履行职能,推动环境保护事业发展
- D. 规划实施将使珠海成为我国最宜居的城市

31. 日前,美国总统特朗普签署行政命令,暂时禁止七个伊斯兰国家的普通公民入境美国,对叙利亚公民无限期停发签证和停止难民庇护申请处理。这一入境限制令颁布后,遭到美国国内和国际的批评和抗议。没过多久,美国联邦法官对这一禁令进行裁决,最终判定该禁令违背宪法,决定暂时撤销总统行政命令。判决即刻生效,美国边检已对滞留者放行。但白宫发表声明说,将申请紧急对这一裁决进行延缓,并保护总统的行政命令。这说明,在美国

- A. 立法机关与司法机关之间相互制衡
- B. 政治运行贯彻“三权分立”的原则
- C. 总统享有立法倡议权,有权否决国会立法
- D. 两党在移民问题上的政策和主张有本质上的差别

32. 2016年10月,世界机器人大会在京开幕,大会以“共创共享共赢,开启智能时代”为主题,与会代表共议以“机器人革命”撬动创新发展。某校研究性课程围绕“机器人革命”设置了以下经济学研究方向,其中不合理的是

- A. 工人、机器人与价值创造——马克思劳动价值理论在今天的探讨
- B. 机器人换代升级——斯密“看不见的手”在机器人科研领域中的促进作用
- C. 机器人促进中国智造——中国“人口红利”消失后经济转型的要素研究
- D. 机器人大面积替代工人——日本高福利市场经济模式下劳动力缺乏的解决

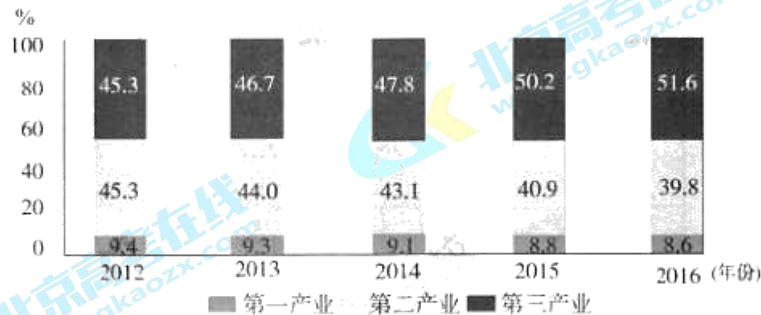


图 11 2012—2016 年中国三次产业增加值占国内生产总值比重

33. 读图 11,据此推断正确的是

- ①我国经济质量不断提升
  - ②我国经济已完成新旧动能转换
  - ③有利缓解我国就业压力
  - ④第一、二产业产值在不断降低
- A. ①③      B. ①④      C. ②③      D. ②④

34. 共享单车解决了最后一公里的出行,给众人带来了方便;但是随意停放、占据私有、使用安全隐患、毁坏等问题亟待解决。这说明

- A. 市场经济是利益驱动下的经济活动
- B. 完备的约束机制是服务资源优化配置的前提
- C. 经营者和消费者都应该受到道德约束
- D. 政府企业用户必须共同发力综合治理

35. 外出打工的农民,学到了知识,掌握了技能,积累了经验,有了积蓄,又回到了农村,这种现象被称为“城归”的现象进入了人们的视线。这种“城归”现象

- ①是人力资源合理流动和优化资源配置的表现
  - ②是疏散城市人口、减轻城市压力的有效措施
  - ③为政府做好农村供给侧改革服务提供了舞台
  - ④为缩小城乡差别,推动经济均衡发展提供了经验
- A. ①②      B. ①③      C. ②③      D. ②④

第二部分 (非选择题, 共 160 分)

36. (36 分) 读图 12 及文字材料, 回答下列问题。

榆林市(图 12)位于陕西省最北部, 地貌大体以长城为界, 北部为风沙草滩区, 占总面积的 42%; 南部为黄土丘陵沟壑区, 占总面积的 58%。

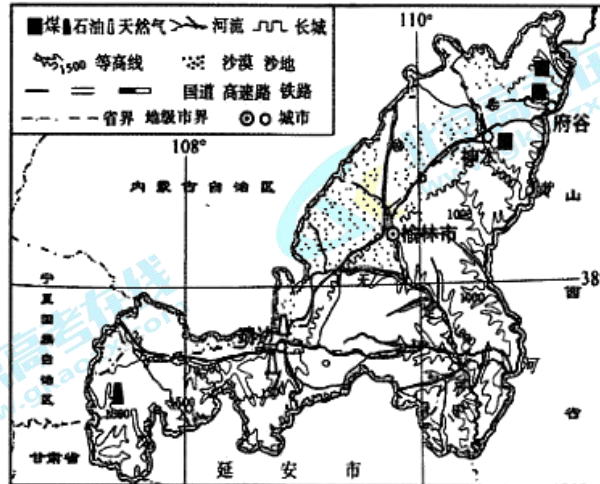


图 12

无定河因流量不定、深浅不定等而得名。

(1) 从气候的角度, 说明无定河名称的由来。(6 分)

2006 年榆林市靖边县政府推广种植马铃薯, 优质马铃薯种子在靖边扩繁成功, 产品全部被国外某公司高价收购。自此靖边县开荒扩大了马铃薯种植面积, 并采用现代化喷灌等技术。现在马铃薯种植面积达 3 万公顷, 且产品都被国内、国外公司提前预订。

(2) 归纳靖边县马铃薯种植规模不断扩大的主要原因。(8 分)

榆林市神木—府谷煤田是世界七大煤田之一, 该地区的天然气是迄今我国陆上探明的最大整装气田, 石油预测储量达 6 亿吨。

(3) 简述榆林市能源开发的优势条件, 并分别列举其输出的具体方式。(12 分)

(4) 指出图示地区主要的生态环境问题, 任选其一概括人为原因。(10 分)



37. (34 分)国家通过实施各类政策来实现对社会的管理。

材料一 城市商业繁荣是罗马帝国兴盛的基石。奥古斯都统治时期,商人得到了帝国政府的承认、保护和部分特权,如降低关税和简化税种,从而促进社会经济稳定发展。他派远征军深入阿拉伯半岛南部,为商人占取重要港口,外贸商队均有官方的武装部队保护。商人自由往来各地,而且在政府主导下为城市修建了城墙。

汉武帝时期开通了丝绸之路,长安城专设机构供外来商人使用和居住。为了解决财政问题,他推行新的经济政策,对国内商人课以重税,使“商贾中家以上大半破”。商人被定为贱民,不得进入仕途。此后,商业发展的空间已极小。

(1)阅读材料一,概括奥古斯都统治时期与汉武帝时期商业发展的异同点。(8分)

材料二 1924年孙中山谈到人口增殖问题时指出:“中国人口总是不加多,外国人口总是日日加多……他们使用多数来征服少数,一定要并吞中国。”

1949年毛泽东指出:“中国人口众多是一件极大的好事……我国各项事业刚刚起步,人力是现实生产力,人多力量大。”从1949年至1980年,中国净增人口4.3亿。

邓小平强调人口过多给经济、社会带来负效应。1982年,中央将计划生育定为国策,提倡“一对夫妇只生一个孩子”。2015年,我国60周岁及以上人口占总人口比重16.6%,远超国际标准,故此政府全面实施“二孩”政策。

(2)阅读材料二,概括中国近现代人口主张及政策的特点,结合所学分析这些主张及政策提出的依据。(10分)

材料三 1931年,西方经济学界关于政府在经济发展中的地位问题展开争论。一派认为,政府在国家经济发展中应居于主导地位,通过制定政策推动各项现代化事业的发展;另一派认为,应该让私人企业居于主导地位,才能避免政府干预企业的发展及公共资源的浪费,推动国家经济良性发展。

(3)概述这一争论在西方出现的时代背景。(4分)你如何看待上述争论中的观点?运用中外历史发展进程中的重要史实加以论述。(12分)

要求:观点明确,史实充分,史论结合,逻辑清晰。

38. (34分)某校同学正在组织“模拟政协”社团活动,请你也参与进来。

**【调查研究】**

资料:世界银行的一份报告指出,2004年中国已经超过美国,成为世界上最大的垃圾生产国。《人民日报》曾报道——

北京:日产垃圾1.84万吨,如果用装载量为2.5吨的卡车来运输,长度接近50公里,能够排满三环路一圈。

上海:每天生活垃圾清运量高达2万吨,每16天的生活垃圾就可以堆出一幢金茂大厦。

广州:每天产生的生活垃圾多达1.8万吨。

这只是增量,中国城市生活垃圾堆存量已经超过80亿吨。




图13 中国城市生活垃圾产生量与国内生产总值(GDP)的关系示意图

专家:破解“垃圾围城”现象,要在技术发展同时,更应该注重管理和经济上的相互协调,只有技术、经济、管理三方面共同进步,才可以真正达到城市垃圾的无害化、减量化和资源化。而在管理方面,需要改进的不仅仅是企业、政府;公众对城市垃圾的认知程度也极大地影响着垃圾的产生。

(1)上述资料和图13反映什么经济现象和问题。并说明技术、经济、管理的进步是如何破解“垃圾围城”的。(12分)

垃圾减量化作为垃圾管理的优先级别得到全球广泛共识。减量化是指在加强对生活消费品生产和人们消费过程的管理,从城市生活垃圾形成的源头上控制其产生的数量,以减轻对其消纳和处置的难度。

(2)结合生活体验和《经济生活》相关知识,为实现生活垃圾减量化提两条建议。(4分)

**【撰写提案】**

垃圾分类的好处不言而喻。全国第一批垃圾分类处理试点城市,已经“试”了16年,但进展并不顺利。一是大家普遍有了垃圾分类的认识,但对垃圾分类的认识还不一致,各地垃圾分类名称、标准五花八门;二是分类意识变成自觉行动还需要时间,由于垃圾分类的行为对于个人来说是可做可不做的事情,专门分类反而会多花时间和精力,多数人都会把垃圾分类的行为无限延迟;三是缺乏垃圾分类的协作机制。相关单位和部门之间的配合度不够,垃圾分类工作单靠一个部门完成难度很大;四是缺乏经济政策配套支持。很多城市实行垃圾源头分类后,后续的分类收运车辆、处理处置设施配套较困难,导致垃圾分类后又集中运输和处理处置,使居民的分类收集热情受挫;五是缺乏约束机制。由于垃圾分类还未形成固有的社会行为规范,对公众垃圾不分类的行为,除了监督和规劝,找不到其他更有效和有利的措施。

(3)同学们拟就上述垃圾分类存在问题撰写一份提案,请你从《政治生活》角度,帮助完成这份提案的部分内容。

题目: \_\_\_\_\_ (1分)

措施建议: \_\_\_\_\_ (5分)

**【分享喜悦】**

小明：无穷的远方，无数的人们，都与我有关。这是我第一次作为公民而自豪。每个公民的声音都会被听到，每个公民的诉求都会被尊重！这才是学生应有的样子：胸怀天下，踌躇满志。

小郭：参加模拟政协最大的收获啊，我觉得是让我更深刻地了解到政治协商这一民主形式，更清楚了它的运行机制，也更理解到一个政协委员应该担负的责任与义务。协商民主不是教科书上冰冷的字眼，是生动可感的社会实践，政治书“活”了；人们政协不是装饰花瓶，是解决民主的重要渠道。

(4)请你运用《生活与哲学》的知识，任选一个同学的分享，谈谈对这一活动的认识。

要求：理论运用得当，逻辑清晰，论述合理。(12分)

39. (10分)

“阿大葱油饼”原本座落于上海市一幢老式居民楼里，被一些媒体和网友称为具有“老上海”味道的人气美食。由于无证无照经营，卫生状况差，存在食品安全隐患，市场监管局执法人员开展调查后，要求其停止无证无照经营行为。这家让广大“吃货”趋之若鹜的小店，只能收回招牌，停止营业，引起广泛热议。

当然，原来的“阿大葱油饼”店无证无照，依法关停无可厚非。但与很多类似故事不同的是，“阿大葱油饼”店的故事写到这里并没有画上句号——公众的呼声、热心企业的介入，尤其是监管部门主动服务最终让它起死回生，重新开张。从监管到服务，对部门而言可能只是小小的一步，但对激活市场活力、拓宽企业发展空间而言，却是大大的一步。

阅读上述新闻，运用《政治生活》相关知识，自拟题目，写一篇200~300字的时事短评。(10分)要求：观点鲜明；可以全面论述，也可以就某一点深入分析；知识运用准确、贴切；论述合乎逻辑，条理清晰。

40. (20分)中国的历史文献资料丰富。

表3 历史笔记资料表

作者	书名	内容
(北朝)杨衒之	《洛阳伽蓝记》	展现了北魏都城洛阳四十年间的政治大事、中外交通、人物传记、市井景象、民间习俗、传说轶闻，书中亦有不少神异鬼怪故事。然其遗闻轶事，颇足以补史乘(史书)存文献。
(唐)姚汝能	《安禄山事迹》	记载禄山诸事，文辞灿然，叙述颇详，而不免于琐杂，然新、旧《唐书》《资治通鉴》所记禄山事，亦不能舍此而他求也。
(宋)孟元老	《东京梦华录》	自都城、坊市、风俗、典礼，靡不记载。如此之类，皆可以互相考证，订史氏(史家)之误。

——选编自姚继荣《唐宋历史笔记论丛》

(1)阅读上表，归纳历史笔记的特点，简述你对历史笔记史料价值的认识。(10分)

注：史料价值是指史料在历史研究中的作用，因史料种类、来源、形式等不同，其价值也不同。

“没有观测仪器以前，人们要知道一年中寒来暑往，就用人目来看降霜下雪、河开河冻、树木抽芽发叶、开花结果、候鸟春来秋往等等，这就叫物候。”

“清杭州人谈迁著的《北游录》，叙述……公元1653年，谈迁从杭州来北京，于阳历11月18日到达天津时，运河已冰冻；到11月20日，河冰更坚，只得乘车到北京。公元1655年，阳历3月5日，谈迁由京启程返杭时，北京运河开始解冻。……水电部水文研究所整理了1930~1949年，天津附近杨柳青站所做的记录：“……运河封冻平均日期为12月26日，开河平均日期为2月20日。”

——摘自竺可桢的《中国近五千年气候变迁的初步研究》

(2) 依据材料说出与1930~1949年相比，十七世纪中期京津地区的气温特点和判断依据。(4分)

(3) 指出影响物候现象的主要因素，并说明竺可桢利用物候研究气候变化所运用的地理学原理。(6分)

41. (26分)山城重庆在过去和现在都充满魅力。



图14

(1) 读图14，举例说出重庆市旅游资源的主要类型。(4分)

(2) 从旅游安全角度，请为暑期赴重庆的旅游者提些建议。(6分)

随着国民政府迁都，重庆由长江上游的经济中心一跃成为中国大后方的政治、军事、经济、文化中心。与此同时，重庆还是国共合作的政治舞台、抗日运动的中心。中国战区的建立，使重庆与伦敦、莫斯科、华盛顿等城市一样，成为世界反法西斯战争的重要指挥中心，也由此获得国内外的广泛关注。

——选编自何一民《抗战时期西南大后方城市发展变迁研究》

(3) 依据上述材料，概括抗战时期重庆发展的表现。并结合所学，分析其发展的国际、国内背景。(8分)

走进重庆，高高的石梯，深深的老宅院，大宅院里高高的石门坎，斑驳的黑色土漆双开大门，雕花的木栏杆，四方形的天井和长着青苔的院坝……让人流连忘返。重庆的老巷子、老街坊，沉淀着重庆的文化、重庆的文明、重庆的历史。有人说，历史文化，既是一座城市独一无二的印记，更是一座城市的灵魂。

(4) 运用《文化生活》相关知识，谈谈对“历史文化是一座城市的灵魂”的理解。(8分)

## 文科综合参考答案及评分标准

### 第一部分 (选择题, 共 110 分)

题号	1	2	3	4	5	6	7	8	9	10
答案	D	B	C	B	A	C	B	D	B	A
题号	11	12	13	14	15	16	17	18	19	20
答案	C	C	C	B	D	B	C	A	B	D
题号	21	22	23	24	25	26	27	28	29	30
答案	B	A	D	A	D	C	D	B	D	C
题号	31	32	33	34	35					
答案	B	D	A	D	B					

### 第二部分 (非选择题, 共 160 分)

36. (共 36 分)

(1) (共 6 分)

河流以雨水补给为主(2 分);降水季节和年际变化大(2 分);夏季多暴雨(2 分);  
因此河流流量不定、深浅不定。

(2) (共 8 分)

市场需求量不断扩大(2 分);农业技术不断进步(马铃薯品种改良、改进灌溉技术)(2 分);  
政策支持(2 分);荒地面积大(地价低)。(2 分)

(3) (共 12 分)

能源矿产资源储量大(2 分);能源类型多样(2 分);地理位置适中,交通便利(2 分);市场  
需求大(2 分)。

输出方式:煤炭,铁路,公路;(2 分)石油、天然气,管道;(2 分)

(4) (共 10 分)主要环境问题:水土流失、土地荒漠化。(4 分)

土地荒漠化的人为原因:过度垦殖、过度放牧、过度樵采、乱挖滥采矿产资源、不合理利用  
水资源。

水土流失的人为原因:植被破坏、不合理的耕作制度、开矿。(6 分)

37. (34 分)

(1)(8 分)相同点:对外贸易都得到政府支持(或积极开拓商路)。

不同点:前者采取支持国内贸易的政策,后者采取抑制国内贸易的政策(或抑商政策);

前者促进商业繁荣,后者抑制商业发展;

前者提高商人的社会地位,后者贬低商人的社会地位。

(2)(10 分)特点:人口主张及政策与政治、经济、社会发展密切相关;不同时期人口主张和政策不断变化调整。(1 分)

依据:孙中山:民族危机加深,抵抗列强侵略的需要。

毛泽东:新中国成立,社会主义经济建设的需要。

改革开放后:人口数量的变化对社会发展的影响成为制定人口政策的依据。(6 分)

(3)(16 分)时代背景:1929 年经济危机爆发,自由放任政策已不能适应社会化大生产;苏联计划经济模式对西方产生冲击。(1 分)

论述部分评分标准(12 分);

水平一:10~12 分

观点清晰,表述准确;(2 分)

能够运用 2~3 项以上层次和角度的史实论证观点,史实与观点联系紧密,具有较强的说服力;(4~6 分)

史论结合,表述层次清楚,逻辑无误。(2~4 分)

水平二:7~10 分

观点比较清晰,表述比较准确;(2 分)

能够运用 1~2 项及以上层次和角度的史实论证观点,史实与观点联系比较紧密,能够说明观点,史实比较充分丰富;(3~5 分)

史论结合,表述层次比较清楚,逻辑基本无误。(2~3 分)

水平三:4~7 分

能提出观点;(2 分)

只运用 1 项层次和角度的史实论证观点,史实不充分但能够说明观点;(0~3 分)

史论结合,表述层次不清楚,逻辑性较差。(2 分)

水平四:0~3 分

无明确观点;仅能列举 1 项或同一层次或角度的史实,没有论述;(2 分)

没有结合史实,仅仅进行论述,论述合理;(2 分)

无观点,表述错误。(0 分)

高三文科综合参考答案及评分标准 第 2 页(共 1 页)

38. (34 分)

(1)我国已成为世界上最大的垃圾生产国,城市生活垃圾消纳和处置的压力巨大;城市生活垃圾产生量随着 GDP 的增加而增加,但当 GDP 达到一定数值后,城市生活垃圾产生量的增长速度开始趋缓。(2 分)

技术进步提高垃圾处理的效率和水平,提高垃圾资源化利用能力,减少垃圾的产生。经济发展水平提高,加大对垃圾处理的投入,实现城市生活垃圾的无害化和资源化。政府推动经济发展方式转变,推进绿色发展、循环发展、低碳发展,形成节约资源和保护环境的空间格局、产业结构、生产方式和生活方式。企业加大科技投入,承担社会责任,提高资源的利用效率。公众树立绿色消费观,低碳生活,引导绿色生产和生活方式。(10 分)

(2)建议:绿色生产,改善产品设计,减少过度包装;绿色消费,落实垃圾分类,低碳生活。(1 分)  
(其他言之有理的情给分)

(3)题目:推动垃圾分类,破解垃圾围城。(1 分)

建议措施:(5 分)

人大:科学立法,制定垃圾分类相关法律,规范约束垃圾分类行为,使垃圾分类有法可依。

政府:修订完善垃圾分类标准法规,全国推行统一垃圾分类标准和名称。组织社会主义文化建设,加强垃圾分类宣传教育,引导市民自觉进行垃圾分类。推进公共服务体系建设,整合行政机关体系,建立垃圾分类的协作机制,提高垃圾分类的效率。制定适当的经济政策,加快建立分类投放、分类收集、分类运输、分类处理的垃圾处理系统。

公民:坚持权利和义务的统一,自觉践行垃圾分类,同时,对不分类的行为进行监督。(其他言之有理的情给分)

(4)示例:小郭同学的发言体现了实践与认识的辩证关系。实践决定认识,模拟政协活动是我国青少年思想政治教育实践形式的创新培养,参与这次活动,能够了解和体会中国特色的民主协商政治制度,提高学生的公民意识和制度自信;同时,深化对“垃圾围城”现象的认识。认识对实践具有反作用,科学的理论对社会发展起推动作用。公民意识和对“垃圾围城”现象认识的提高,有利于“垃圾围城”问题的破解,也有利于推动社会主义民主政治不断发展。(12 分)(其他言之有理的情给分)

39. (10 分)

等级水平	等级描述
水平 4 (8~10)分	观点明确,能准确运用“政治生活”的相关知识阐述观点,论述合理全面,有一定深度,逻辑清晰。
水平 3 (7~7)分	观点比较明确,能一定程度上运用“政治生活”的知识阐述观点,论述基本合理,逻辑较强,但不够全面。
水平 2 (4~5)分	观点不够明确,能简单地运用“政治生活”的知识阐述观点,语义不完整、不连贯,堆砌不相关知识。
水平 1 (0)分	应答与试题无关;或重复试题内容;或没有应答。

高三文科综合参考答案及评分标准 第 3 页(共 4 页)

10. (20 分)

(1)特点:内容丰富、形式多样、语言生动、叙述详细。

认识:历史笔记记载其它史书未记或少记的内容,可以丰富史料,弥补其它史书的缺失;历史笔记与其它史书相互考证,修正其它史书的错误;历史笔记来源多样,或轶闻趣事或传奇故事,所描述的事件未必完全真实可信。

总之,历史笔记受作者身份、资料来源等局限,信息未必完全客观可信,使用时应甄别辨识,去伪存真。(10分)

(2)十七世纪中期冬季气温较低;十七世纪中期运河封冻时间较早,解冻时间较晚。(4分)

(3)气温、降水;(或热量、水分;地理位置)

自然地理环境的整体性(6分)

11. (26 分)

(1)自然旅游资源(自然景观):仙渡溶洞;人文旅游资源(人文景观):大足石刻;

(合理即可)(4分)

(2)防中暑,防洪涝(防雷暴)、防滑坡、泥石流(旅游交通安全)。(合理即可)(6分)

(3)表现:由单一的地区性经济中心发展为中国大后方政治、军事、经济、文化中心;由中国抗日救亡运动的中心发展成为世界反法西斯战争的指挥中心之一。

国际背景:二战爆发后,中国成为世界反法西斯战争的重要战场。

国内背景:抗日战争全面爆发,国民政府迁都重庆,把重庆作为战时陪都。(8分)

(4)文化,是一座城市凝聚力和创造力的重要源泉,是经济社会发展的重要支撑,更是城市人的精神家园。历史文化是城市文化发展的根基,是彰显城市魅力和竞争力的重要支撑,在推动科学发展、促进社会和谐中的作用日益凸显,有利于培育社会主义核心价值观,振奋居民精神,树立新的道德风尚,提升居民文明素质。传承历史文化,要处理好城市改造开发和历史文化遗产保护利用的关系,切实做到在保护中发展、在发展中保护。

(8分)



扫描二维码, 关注北京高考官方微信!

查看更多北京高考相关资讯!