

2022 北京海淀高一（上）期末

政 治

2022.01

第一部分（选择题 共60分）

本部分共 30 题，每题 2 分，共 60 分。在每题列出的四个选项中，选出最符合题目要求的一项。

1. 一百年来，中国共产党团结带领全国各族人民绘就了人类发展史上的壮美画卷，创造了经济快速发展奇迹和社会长期稳定奇迹。我国经济社会发展取得的辉煌成就，离不开公有制经济。公有制经济包括

- ①国有经济
- ②港澳台投资经济、外商投资经济
- ③集体经济
- ④混合所有制经济中的国有成分和集体成分

A. ①②③ B. ①②④ C. ①③④ D. ②③④

2. 我国中央企业80%以上的国有资产集中在军工、能源、交通、重大装备制造、重要矿产资源开发等领域，承担着我国绝大部分的原油、天然气和乙烯生产，提供了全部的基础电信

服务。这表明

- ①国有经济是国民经济的主体
- ②民营经济禁止进入国家垄断行业
- ③国有经济控制国民经济命脉
- ④国有经济对经济发展起主导作用

A. ①② B. ①③ C. ②④ D. ③④

《中共中央关于党的百年奋斗重大成就和历史经验的决议》强调：“党毫不动摇巩固和发展公有制经济，毫不动摇鼓励、支持、引导非公有制经济发展，支持国有资本和国有企业做强做优做大。”回答第3、4题。

3. 党之所以要坚持“两个毫不动摇”，是因为公有制经济和非公有制经济

- ①适合我国社会主义阶段的基本国情
- ②都是社会主义市场经济的重要组成部分
- ③在我国生产资料所有制中地位相同
- ④共同构成了社会主义经济制度的基础

A. ①② B. ①③ C. ②④ D. ③④

4. 党之所以要“做强做优做大”国有资本和国有企业，是因为

- ①国有企业是保障人民共同利益的重要力量
- ②国有经济起主导作用，主要体现在控制力上
- ③国有资产要在社会总资产中占优势
- ④国有企业是我们党执政兴国的重要支柱和依靠力量

A. ①②③ B. ①②④ C. ①③④ D. ②③④

5. 孙中山先生在辛亥革命之后不久即开始思考我国实业发展之道。他的《建国方略》之《实业计划》对当前中国经济发展的启示是

- A. 公有资产要占有量的优势
- B. 国有经济必须占支配地位
- C. 要发挥不同所有制的长处
- D. 要优先发展非公有制经济

中国实业之开发应分两路进行：
(一)个人企业，(二)国家经营是也。
凡夫事务之可以委诸个人，或其较国家经营为适宜者，应任个人为之，由国家奖励，而以法律保护之；至其不能委诸个人及有独占性质者，应由国家经营。

6. 市场决定资源配置是市场经济的一般规律。在瞬息万变的经济生活中，能够反映供求状况及其变化的是

- A. 市场规则与秩序 B. 市场价格及其波动
C. 技术进步与创新 D. 科学管理与激励机制

7. 2021年11月,我国畜肉类价格下降19.7%,其中猪肉价格下降32.7%,同比(与去年同期相比)下降39.3%。猪肉价格连续下跌,可能引发的影响是

- ①猪肉价格下跌→谷物、豆粕类等涨价→养猪成本上升→挫伤农民积极性
②猪肉价格下跌→生猪养殖户利益受损→减少生猪养殖→猪肉供应量减少
③猪肉价格下跌→生猪养殖户扩充产能→猪肉供过于求→猪肉价格上涨
④猪肉价格下跌→生猪养殖户降本增效→行业竞争加剧→实现优胜劣汰

- A. ①② B. ①③ C. ②④ D. ③④

8. 物流快递系统是连接商家和消费者的桥梁。我国乡村地域广、人口密度低、道路交通差等问题成为农村快递业发展面临的“堵点”和“断点”。打通快递进村“最后一公里”畅通农村物流微循环,政府可以

- ①加强农村地区道路基础设施建设 ②出台政策扶持农村快递代收点
③实施“减税降费”,避免市场竞争 ④直接参与物流企业的经营管理

- A. ①② B. ①③ C. ②④ D. ③④

9. 我国一些中小城市和农村由于劳动力向大城市转移而导致的“空心化”现象曾引起人们广泛讨论。如今,有些中小城市、农村地区逐步出现人口流失的“收缩”现象,甚至出现“逆空心化”现象。如果请你为这些中小城市和农村地区发展绘制新“蓝图”,你的建议是

- ①政府限制劳动力的流动 ②完善中小城市公共服务供给
③发展农村特色优势产业 ④适当放宽中小城市落户条件

- A. ①②③ B. ①②④ C. ①③④ D. ②③④

10. 在脱贫攻坚中,被喻为“农民院士”的共产党员朱有勇结合云南澜沧县的自然条件,把冬季马铃薯种植作为重点产业,指导当地农民利用冬闲用地,种出个儿大且能在一年中最先上市的土豆。冬季马铃薯在当地开出了“脱贫致富花”,这主要是因为

- ①专家技术指导,科技致富 ②降低商品价格,增加销量
③满足市场需求,抢占先机 ④缩小生产规模,提高产量

- A. ①② B. ①③ C. ②④ D. ③④

11. 日前,央行推出碳减排支持工具,精准支持清洁能源、节能环保、碳减排技术三大领域。该工具是一种“先贷后借”直达机制,即商业银行向碳减排重点领域相关企业发放碳减排贷款后,可向央行申请利率较低的资金支持。

央行推出碳减排支持工具旨在



注：LPR（贷款市场报价

利率）是商业银行对其最优质客户执行的贷款利率。2021年12月，一年期LPR为3.85%。

- A. 通过财政政策引导，支持碳减排领域投资和建设
- B. 通过调整产业政策，促进产业结构不断优化升级
- C. 避免金融机构按照市场化、商业化原则吸收存款
- D. 调动商业银行等金融机构积极支持绿色低碳发展

12. 湖南湘潭养殖土猪历史悠久。近年来，湘潭县政府下大力气开展土猪种质资源保护、创新与开发，使其具有高营养价值、高生长性能、高瘦肉率等特性而成为市场“新宠”，相关产业链年产值约20亿元，成为造福一方的产业“名片”。这表明政府

- ①作为微观市场主体，增加自己的经营收入
- ②优化土猪相关市场供应链，促进农民增收
- ③推动品种培优、品牌打造，发展农村经济
- ④培育新型农业经营主体，打造现代服务业

- A. ①② B. ①④ C. ②③ D. ③④

直播带货是通过互联网平台，使用直播技术，进行线上展示、导购、销售商品的新型交易形式。回答第13-16题。

13. 近年来，我国直播带货实现“爆发式”增长。直播带货能

- ①促进消费增长 ②带动灵活就业
- ③保持物价稳定 ④激发市场活力

- A. ①②③ B. ①②④ C. ①③④ D. ②③④

14. 直播带货迅猛发展的同时，也暴露出以次充好、夸大宣传等问题。针对这些问题，国家市场监督管理总局发布《关于加强网络直播营销活动监管的指导意见》。政府这一做法是通过

- A. 降低企业税费，提高经济效益 B. 完善分配制度，提高个人收入
- C. 落实产业政策，优化公共服务 D. 加强市场监管，规范市场秩序

15. 某地培育出一批“拿得了锄头、玩得了直播”的农民“网红”，鼓励电商企业在传统电商平台销售的基础上，开展“直播带货”线上营销，积极拓宽农产品销售渠道。如果给这则新闻拟定标题，最恰当的是

- A. 创新农业科技，促进产品销售 B. 直播带货火热，破解融资难题
- C. 借助线上营销，助力乡村振兴 D. 发展网络经济，实现同等富裕

16. 近年来，多国驻华大使纷纷进入直播间为本国产品“带货”。卢旺达驻华大使推销的数千斤咖啡豆、斯里兰卡驻华大使代言的锡兰红茶一上架就“秒空”。透过驻华大使直播带货

这个小小窗口，不仅让世界感受到中国消费市场的巨大消费能力，而且

- ①激发了中国消费市场的增长潜能 ②拉近了这些国家与中国消费者的距离
- ③创建了共商共建共享共赢的原则 ④消除了贸易壁垒，为外国商品赢得商机

- A. ①② B. ①③ C. ②④ D. ③④

17. “没有树挺拔，没有花香，但菌草能变出山珍。”菌草技术诞生于上世纪80年代的福建，能够以草代木栽培食用菌，兼具经济价值和生态效益。20多年来，从福建出发的菌草技术在100多个国家落地生根，不仅可以养菇致富，还可以治理风沙，饲养牛羊，甚至用于发电造纸，被很多国家的群众称为“中国草”。对此，下列评论正确的是

甲	“中国草”的成功，说明生态环境保护和经济发展可以良性互动。
乙	“中国草”的成功，说明发展中国家走向现代化的途径是相同的。
丙	一株草，二十载，造福百余国，说明我国奉行互利共赢的开放发展。
丁	一株草，二十载，造福百余国，说明坚持共享发展能促进城乡均衡。

A. 甲乙 B. 甲丙 C. 乙丁 D. 丙丁

18. 一粒米上铣出56个汉字，一根头发丝上铣出7个字母……某公司成功研制直径0.01毫米的极小径铣刀，并实现了上机加工，将极大助力电子信息、医疗装备等先进制造领域质量升级。此项突破体现了

A. 发展人工智能，内需成为经济拉动主力 B. 培育新兴产业，发展速度决定发展质量
C. 聚焦关键技术，创新是引领发展第一动力 D. 坚持开放发展，开放是国家繁荣必由之路

2021年11月15日，北京证券交易所鸣钟开市。回答第19、20题。

19. 北京证券交易所上市门槛相对较低，服务对象“更早、更小、更新”，主要定位创业阶段的创新型中小企业。可见，设立北京证券交易所是为了

①完善多层次资本市场体系 ②消除中小企业的经营风险
③巩固非公经济的主体地位 ④打造服务创新型中小企业主阵地

A. ①② B. ①④ C. ②③ D. ③④

20. 北京证券交易所首批上市的81家企业，87%来自先进制造业、战略性新兴产业等领域，

17家为具备“专业化、精细化、特色化、新颖化”特点的“小巨人”企业。这有助于

A. 建设更高水平的开放型经济 B. 经济发展由高质量转向高增长
C. 推动实现城乡区域协调发展 D. 增强金融服务实体经济的能力

21. 经济学家通过研究100多个国家的经济增长数据发现，在控制其他变量的条件下，开放政策可以使一国经济每年增长提高2个百分点。这是一个相当可观的数字，意味着每35年翻一番。这是因为对外开放

①是市场经济发展的内在要求 ②有利于引进外国资金、技术和管理经验
③有利于企业在国际竞争合作中发展壮大 ④促进国际分工合作，任何国家都能获利

A. ①②③ B. ①②④ C. ①③④ D. ②③④

22. 2021年10月，国家发改委、商务部就《市场准入负面清单

（2021年版）》向社会公开征求意见。清单明确，义务教育阶段学科类培训机构一律不得上市融资，严禁资本化运作；上市公司不得通过股票市场融资投资学科类培训机构，不得通过发行股份或支付现金等方式购买学科类培训机构资产。这些市场准入负面清单

①能有效弥补市场调节的不足 ②能改变市场交易和竞争规则
③是形成良好市场秩序的需要 ④能防止出现市场失灵的现象

A. ①② B. ①③ C. ②④ D. ③④

23. 小峰的父母在国有企业工作，每月有工资，年终还有奖金。小峰家的家庭投资理财由妈妈负责，银行存款和国债都有收益。关于小峰家的收入，下列理解正确的是

①父母的工资和奖金都属于按劳分配 ②存款收益属于按技术要素分配
③父母的工资和奖金属于劳动性收入 ④银行存款和国债收益属于财产性收入



- A. ①②③ B. ①②④ C. ①③④ D. ②③④

24. 罕见病发病率低，其药品不但需求量小，而且费用高、替代品少，被人们称为“孤儿药”。我国在生产采购报销环节出台一系列政策，保障“孤儿药”的市场供应和医保支持，并推动建立一套包括基本医疗保险、大病救助、财政专项基金、社会援助等在内的“孤儿药”用药保障机制。这说明

- A. 社会福利满足群众生活需要，不断提高生活质量
 B. 商业保险满足我国全体社会成员的人身保险需求
 C. 财政专项基金、社会援助充分发挥初次分配作用
 D. 社会保障体系坚持兜底线、织密网、建机制原则

25. 数据显示，2020年长沙市居民人均可支配收入51477.60元，同比增长5.7%，收入水平位居中西部主要城市第一位。《长沙市城乡居民基本养老保险办法》将最低缴费档次、缴费困难群体政府代缴档次由每人每年100元提高到200元。企业退休人员基本养老金、城乡居民基础养老金实现“17连涨”。可见该市

- ①公平对待每个公民并确保其享受相应的社会保障权益
 ②实现覆盖全民的免费医疗保险制度
 ③坚持社会保障水平与经济社会发展相适应
 ④由政府负担全部社会保障资金

- A. ①② B. ①③ C. ②④ D. ③④

26.

小韩：我每个月都缴纳基本养老保险、基本医疗保险、失业保险，将来有保障，心里踏实多了！

老杨：我以前有病不敢看，现在不怕上医院啦！城乡居民医疗保障范围扩大、大病保险起付线降低，也不担心“病根”变“穷根”了。

以上两人对话谈到的社会保障形式是

- A. 社会保险 B. 社会救助 C. 社会福利 D. 社会优抚

27. 《中国共产党的历史使命与行动价值》提到，新冠肺炎疫情发生后，截至2021年6月底，全国确诊住院患者结算总医疗费用2837亿元，医保负担16.31亿元；确诊患者人均医疗费用约2万元，其中，重症患者人均治疗费用超过15万元，一些危重症患者治疗费用几十万元甚至上百万元，全部由国家财政承担。这说明

- A. 社会优抚具有补偿性、优待性的特点 B. 社会保险是社会保障体系的核心
 C. 中国共产党坚持人民至上的价值取向 D. 政府在资源配置中起决定性作用

28.



从上图我国某公益平台筹款人次及总额可以看出

- ①个人捐款是我国公益捐款的主要来源 ②我国公益资金使用坚持按劳分配原则
③近年来,我国公益事业不断向前发展 ④慈善并不是个人之事,应该全民参与

A. ①② B. ①③ C. ②④ D. ③④

29. 社会保障是精巧的“社会减震器”。在我国经济社会发展过程中,形式日益多样的社会保障发挥着越来越广泛的作用。完善社会保障体系有利于

- ①维护社会秩序稳定 ②满足群众社会保障需求
③促进社会公平正义 ④增加公民的财产性收入

A. ①②③ B. ①②④ C. ①③④ D. ②③④

30. 党的十八大以来,党中央深刻把握新发展阶段变化,把逐步实现全体人民共同富裕摆在更加重要的位置,采取有力措施保障和改善民生。下列做法中,能促进共同富裕的是

- ①坚持以人民为中心,推进基本公共服务均等化、普惠化、便捷化
②在再分配方面,健全生产要素由市场评价贡献、按贡献决定报酬的机制
③坚持经济高质量发展,夯实共同富裕的物质基础
④推动国有文化企业把社会效益放在首位,不断丰富人民精神文化生活

A. ①②③ B. ①②④ C. ①③④ D. ②③④

第二部分(非选择题 共40分)

本部分共5题,共40分。

31. (6分) 坚定不移走全体人民共同富裕道路。

1978年以来,我国在坚持农村土地集体所有制性质不变的前提下不断推进经营方式改革,促进全体人民共同富裕。

以下是某村的探索历程。

党的十一届三中全会后,某村通过推行家庭联产承包责任制,实行个人承包村办企业、成立多种形式的经营联合体等措施,调动了村民的生产积极性,推动了经济发展,使村民摆脱了贫困,解决了温饱问题。

2000年后,为了实现全村人共同富裕,针对“弃耕从商”、贫富差距拉大等问题,该村通过集体规划土地,成立专业合作社,发展农业产业化经营,壮大了集体经济。

党的十八大以来,该村成立股份合作社,在村集体控股的基础上,吸纳村民入股,吸引优质企业投资,在农业产业化经营的基础上推动一二三产业融合发展。目前,该村已建设成为物质富裕、精神富有的美丽乡村。

结合材料,概括说明该村是如何促进共同富裕的。

32. (6分) “耳朵经济”迅速崛起。

晓雨是一名音频主播,她有时通过麦克风和大家分享自己的生活见闻和感悟,有时录制付费课程和有声书,这些“声音”会通过音频平台传到数万人的耳边。这种新兴的网络音频产业,被人们形象地称为“耳朵经济”。

随着人工智能、物联网、5G 技术的推进及平台的发展，在线音频的传播更为迅速和便捷，用户收听习惯逐渐养成，应用场景不断丰富，网络音频市场规模持续增加。数据显示，2020 年中国网络音频行业市场规模达 272.4 亿元，同比增速为 54.9%。预计 2022 年超过 500 亿元。

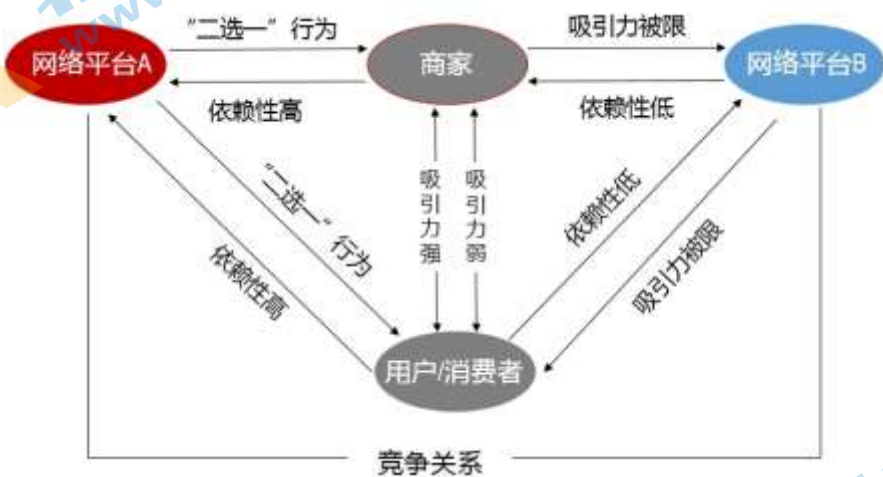
“十四五”期间，我国将进一步完善文化产业规划和政策，加强文化市场体系建设，扩大优质文化产品供给。

结合材料，运用社会主义市场经济体制的相关知识，分析“耳朵经济”的发展前景。

33. (8 分) 加强反垄断监管是为了更好发展。随着网络经济与传统经济的深度融合，平台经济迅速崛起，并且渗透经济社会各个领域。

大量网络平台企业的涌现，在促进经济发展，为人民生活带来便利的同时，也出现了大数据“杀熟”、平台“二选一”等问题。

2021 年 4 月，国家市场监管总局责令某平台停止滥用市场支配地位行为，并处 182.28 亿元罚款。半个月后，总局再次对互联网巨头出手，依法对另一网络平台实施“二选一”等涉嫌垄断行为立案调查。



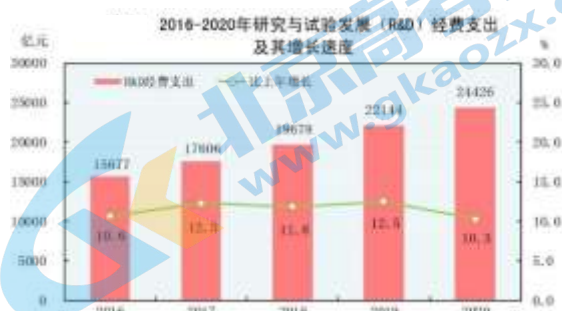
网络平台“二选一”示意图

* 网络平台“二选一”行为，是指具有优势地位的电商平台以种种明示或暗示手段，要求合作商家只能入驻自己一家电商平台，不能同时入驻竞争对手平台。

- (1) 结合图文，说明平台“二选一”行为的危害。(4 分)
- (2) 请你为促进平台经济规范健康发展，提两条合理化建议。(4 分)

34. (10 分) 新一轮科技革命与产业变革方兴未艾，对中国而言，既是机遇也是挑战。

材料一



注：科学研究与试验发展是指在科学技术领域，为增加知识总量，以及运用这些知识去创造新的应用，进行的创造性活动，包括基础研究、应用研究、试验发展等。

2016-2020年我国科技进步贡献率

年份	我国科技进步贡献率
2016	56.2%
2017	57.5%
2018	58.5%
2019	59.5%
2020	超过60%

注：据新华社报道，创新型国家科技进步的贡献率普遍高达70%以上，发达国家甚至高达80%。

(1) 解读图表反映的信息。(4分)





材料二 当今，我国科技高质量发展，面临“多”与“少”的问题。

“多”	“少”
中国国际专利申请量超越美国，晋升全球第一；高质量国际论文、高被引论文、热点论文的数量均排名世界第2位。	规模以上工业企业研发投入少。
	符合市场需要的技术专利少。
	高等院校、科研院所与企业合作少。

(2) 结合材料二，说明我国如何走好高质量科技发展之路。(6分)

35. (10分) 相约北京，共赴冬奥之约。

材料一 某班开展“共赴冬奥之约”探究活动，同学们通过查阅资料、实地考察，从多个角度讲述自己眼中的北京冬奥会。

	在“相约北京”冰球国内测试活动中，国家体育馆内的大屏幕可以实现与现场观众的实时互动；通过手机可以完成场馆室内高精度导航；场边的“移动诊疗车”可以在5分钟内完成颌面创伤的现场影像学检查和人工智能诊断，提升赛时医疗服务效率。
	北京冬奥组委采取多项措施，如低碳能源、低碳场馆、低碳交通等，尽可能降低碳排放。以场馆实现可再生能源利用为例，张家口地区采用世界上最先进的柔性直流电网新技术，将可再生能源安全高效地输送至北京，全面满足北京和张家口地区冬奥场馆用电需求。
	北京冬奥组委充分借鉴北京奥运会和其他国家办赛经验，弘扬奥林匹克精神，加强中外体育交流，推动东西文明交融，展示中国良好形象。邀请国际奥委会、国际残奥委会、国际冬季单项体育组织及有关方面的专家参与筹办工作。
	北京冬奥会和冬残奥会赛后，高山滑雪和雪车雪橇项目两个竞赛场馆将继续承办顶级国际赛事，同时成为大众体验冰雪和户外运动的胜地；延庆冬奥村赛后将转换成为山地滑雪旅游度假酒店，为冰雪运动及山地活动爱好者提供服务；周边村落将打造成为一个集民宿、文化展示和旅游服务为一体的冬奥小镇。

(1) 结合材料一，说明筹办北京冬奥会是如何贯彻新发展理念的。(6分)

材料二 北京2022年冬奥会、冬残奥会成功申办以来，北京市通过制定专门政策，积极引导社会资本参与体育产业发展。

国家速滑馆是北京2022年冬奥会的标志性建筑，也是北京冬奥会场馆建设过程中第一个成功引入社会资本的场馆。延庆赛区的冬奥村、高山滑雪和雪车雪橇赛场也积极采用项目合作方式引入社会资本，建设、运营冬奥场馆，以更好服务赛事、服务群众参与冰雪运动。

(2) 结合材料二，说明发展体育产业为什么引入社会资本。(4分)

2022 北京海淀高一（上）期末政治

参考答案

第一部分（选择题 共 60 分）

本部分共 30 小题，每小题 2 分，共 60 分。

- | | | | | |
|-------|-------|-------|-------|-------|
| 1. C | 2. D | 3. A | 4. B | 5. C |
| 6. B | 7. C | 8. A | 9. D | 10. B |
| 11. D | 12. C | 13. B | 14. D | 15. C |
| 16. A | 17. B | 18. C | 19. B | 20. D |
| 21. A | 22. B | 23. C | 24. D | 25. B |
| 26. A | 27. C | 28. D | 29. A | 30. C |

第二部分（非选择题 共 40 分）

本部分共 5 小题，共 40 分。

31. (6 分)

该村在不同时期，推行与生产力发展水平相适应的农村集体经济经营方式，（2 分）调动村民生产积极性，促进生产力发展。（2 分）坚持农村土地集体所有制，坚持共享发展，促进村民物质生活和精神生活都富裕。（2 分）

32. (6 分)

能够运用市场在资源配置中起决定性作用、更好发挥政府作用等知识分析。

水平等级	水平描述
水平 4（5-6 分）	知识运用准确，紧扣问题展开分析，条理清晰。
水平 3（3-4 分）	知识运用比较准确，能扣住问题展开分析，有条理。
水平 2（1-2 分）	知识运用不够准确，或单纯罗列知识，条理性较差。
水平 1（0 分）	答非所问，观点错误，或没有应答。

示例：

“耳朵经济”市场发展前景广阔。

科学技术的发展和基础设施的完善，对“耳朵经济”起到带动作用。用户收听习惯的养成和消费需求的增加，为“耳朵经济”带来巨大市场潜力。文化产业规划和政策不断完善，为“耳朵经济”发展提供政策支持。“耳朵经济”发展中可能出现的问题，可以通过有效的政府治理来解决。

33. (8 分)

(1) 平台“二选一”行为是不正当竞争，损害社会公平，不利于形成统一开放、竞争有序的市场秩序。（2 分）这也是一种垄断行为，损害消费者合法权益等。（2 分）

(2) 本题答案不唯一。（每点 2 分，共 4 分）

示例：

政府：履行经济职能，规范平台经济市场秩序，保障公平竞争。

企业：遵守相关法律，从企业内部激发活力，提高市场竞争力。

34. (10 分)

(1) 我国研究与试验发展经费逐年增长, 科技进步对经济和社会发展贡献率提升, (2分) 但与创新型国家、特别是发达国家仍存在差距。(2分)

(2) 坚持创新驱动发展战略, 加大科技研发投入; (2分) 发挥市场在资源配置中的决定性作用, 激励更多专利、研究成果适应发展需要; (2分) 加强科研单位与企业的对接联系, 产学研结合, 提升研究成果转化率。(2分)

35. (10分)

(1) 能从创新、绿色、开放、共享发展等角度分析。

水平等级	水平描述
水平 4 (5-6 分)	知识运用准确, 紧扣问题展开分析, 条理清晰。
水平 3 (3-4 分)	知识运用比较准确, 能扣住问题展开分析, 有条理。
水平 2 (1-2 分)	知识运用不够准确, 或单纯罗列知识, 条理性较差。
水平 1 (0 分)	答非所问, 观点错误, 或没有应答。

示例:

坚持以人民为中心的发展思想, 让人民共享冬奥会成果。在场馆建设和服务运营中, 坚持科技办奥、绿色办奥、开放办奥, 展示中国良好形象, 引得万众期待。

(2) 非公有制经济是社会主义市场经济的重要组成部分, 是改善民生的重要力量、技术创新的重要主体; (2分) 发展体育产业引入社会资本, 可以有效利用各方面资源, 激发社会资本创新活力, 扩大体育服务和产品供给。(2分)

北京高一高二高三期末试题下载

北京高考资讯整理了【2022年1月北京各区各年级期末试题&答案汇总】专题，及时更新最新试题及答案。

通过【北京高考资讯】公众号，对话框回复【期末】或者底部栏目<试题下载→期末试题>，进入汇总专题，查看并下载电子版试题及答案！

