

2022 北京丰台初三一模

历史

2022.05

考生须知	1. 本试卷共 8 页，共两部分，共 24 题，满分 70 分。考试时间 70 分钟。 2. 在试卷和答题卡上认真填写学校名称、姓名和考试号。 3. 试题答案一律填涂或书写在答题卡上，在试卷上作答无效。 4. 在答题卡上，选择题用 2B 铅笔作答，其它试题用黑色字迹签字笔作答。 5. 考试结束，将本试卷和答题卡一并交回。
------	---

第一部分

本部分共 20 题，每题 1.5 分，共 30 分。在每题列出的四个选项中，选出最符合题目要求的一项。

1. 位于河南东南部的舞阳贾湖遗址中，发现了精致的石器、陶器、炭化稻粒和家猪骨骼。这类考古发现还出现在

- A. 元谋人遗址
- B. 北京人遗址
- C. 山顶洞人遗址
- D. 河姆渡遗址

2. 夏、商、西周时期是中国王朝产生和发展的重要阶段，出现了青铜器、甲骨文和分封制。这说明

- A. 夏商周政权更替
- B. 高度发达的文明出现
- C. 青铜器工艺高超
- D. 甲骨文记载内容丰富

3. 春秋战国时期，学术思想非常活跃，各种学说蓬勃兴起。主张“仁者爱人”“为政以德”的学派是

- A. 道家
- B. 儒家
- C. 法家
- D. 墨家

4. 以下食物通过丝绸之路传入中原，最初都以“胡”字命名。与这些食物能够传入中原相关的历史事件是



胡瓜（今黄瓜）



胡豆（今蚕豆）



胡桃（今核桃）

- A. 商鞅变法
- B. 张骞通西域
- C. 鉴真东渡
- D. 郑和下西洋

5. 秦汉时期，黄河流域是全国经济重心，但到魏晋南北朝时期，原本地广人稀、生产落后的长江中下游地区显著发展。这说明魏晋南北朝时期

- A. 江南地区得到开发
- B. 北方民族大交融
- C. 经济重心南移完成
- D. 商品经济的发展

6. 某博物馆的解说词中写道：“（隋炀帝时期开凿的）①沟通南方与中原，促进不同区域的文化交流，带来经济的繁荣……泽被后世”。材料中①处应为

- A. 都江堰
- B. 灵渠
- C. 长城
- D. 大运河

7. 有学者认为,宋朝是中国历史的一个重要转折时期,传统的科学技术呈现出前所未有的巅峰状态。以下能说明这一观点的是

- ①蔡伦改进造纸术
 - ②活字印刷术的发明
 - ③指南针应用于航海
 - ④火药广泛应用于军事
- A.①②③ B.①②④ C.②③④ D.①③④

8. 某同学梳理中国古代某一地区相关史实(如下表)。表中①处对应的史实是

三国时期	隋朝	元朝	清朝
孙权派卫温到达夷洲	隋炀帝派人三赴流求	设置澎湖巡检司	①

- A.设置西域都护
- B.设立宣政院
- C.戚继光抗倭
- D.设置台湾府

9. 右图漫画选自《中国近代漫画史迹寻踪:外交风云》,该漫画反映某一条约签订后,清政府完全成为帝国主义统治中国的傀儡和工具。这一条约是

- A.《南京条约》
- B.《北京条约》
- C.《马关条约》
- D.《辛丑条约》



10. 1919年召开的巴黎和会上,美英法三国决定:“德国前在胶州及山东所有各项权利,一概放弃,交于日本”。以上材料可用于研究

- A.五四运动的背景
- B.新文化运动的原因
- C.辛亥革命的影响
- D.洋务运动的影响

11. 坚持中国道路是中国共产党百年奋斗历程的历史经验之一。20世纪20年代,从进攻大城市转向农村进军,是中国革命道路具有决定意义的新起点。这一新起点是

- A.中共一大的召开
- B.红军长征的开始
- C.南昌起义的爆发
- D.井冈山革命根据地创建

12. 抗日战争时期,中国共产党推动建立并维护抗日民族统一战线,提出并实施持久战的战略总方针和一整套人民战争的战略战术,开辟广大的敌后战场和抗日根据地。对以上材料理解正确的是

- A.中国的国际地位得到提高
- B.中国共产党是全民族抗战的中流砥柱
- C.中国与反法西斯国家结盟
- D.中国共产党领导人民彻底实现民族独立

13. 20世纪70年代,中国外交开创了新局面。下列属于这一时期外交成就是

- A.提出和平共处五项原则
- B.参加万隆会议
- C.恢复在联合国合法席位
- D.开展全方位外交

14. 以下是一位历史人物的部分经历。对此解读正确的是

1799年	1804年	1804~1815年	1815年
-------	-------	------------	-------

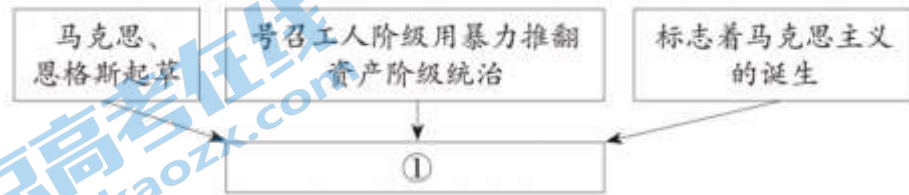
发动政变， 组成新政府	颁布《民法典》	多次打败 反法联盟	法兰西第一 帝国覆灭
----------------	---------	--------------	---------------

- A.拿破仑巩固大革命成果 B.大命摧毁欧洲君主专制
C.《民法典》维护共和政体 D.华盛顿领导民族解放战争

15.19世纪中期，为摆脱沦为殖民地的危险，日本实行一系列改革，走上了发展资本主义的道路。这一系列改革被称为

- A.彼得一世改革 B.亚历山大二世改革
C.明治维新 D.卡德纳斯改革

16. 把握历史事物的要素是学习历史的重要方法之一。以下示意图中①处应为



- A.《共产党宣言》 B.《独立宣言》
C.《人权宣言》 D.《权利法案》

17. 右侧是一位德国士兵 1914 年日记的部分内容。这反映出

- A.第二次工业革命的原因
B.第一次世界大战的进程
C.第二次世界大战的影响
D.俄国十月革命的结果

8月15日
自从萨拉热窝的那次暗杀发生以来……谁能相信这样的事情也真会发生呢？与英国开战？还有什么别的强权会如此尽力阻挡德国赢得她在“太阳中的位置”？

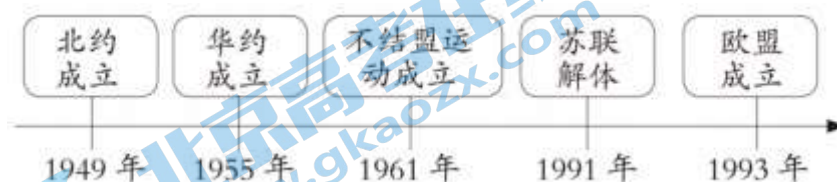
18.20世纪二三十年代，为了摆脱经济危机，德国、意大利和日本走上了侵略扩张道路。美国采取的应对措施是

- A.新经济政策 B.罗斯福新政
C.斯大林模式 D.马歇尔计划

19. 第二次世界大战后，亚非拉民族独立浪潮改变着世界的面貌，例如非洲国家通过民族独立运动，摆脱了殖民主义的枷锁。同一时期类似的历史事件还有

- A.印度民族大起义 B.印度非暴力不合作运动
C.拉丁美洲独立运动 D.巴拿马收回运河区主权

20. 以下示意图反映出国际政治格局的发展趋势是



- A.凡尔赛-华盛顿体系形成
B.两极格局的形成
C.两极格局形成到多极化趋势发展
D.经济全球化出现波折第二部分

本部分共 4 题，共 40 分。

21. (10分) 农村、农业和农民是国家发展的重中之重。

材料一 1651 年（顺治八年），政府掌握的土地（耕地）只有 200 万顷；1685 年（康熙二十四年）增至 740 多万顷；1812 年（嘉庆十七年）已达 791 万余顷。由于注意了精耕细作，农田的单位面积产量也有显著提高。……江南地区开始推广双季稻，使单位面积产量进一步提高。此外，原产美洲的高产作物如番薯引入中国后，到清代由福建等沿海地区很快推广到河南、山东、河北、陕西、贵州等省。经济作物的种植也有了进一步发展，棉花的种植几乎遍布全国各地。

——齐涛《中国通史教程》古代卷

(1) 依据材料一，概括清朝前期农业发展的表现。(4分)

材料二 18~19 世纪西欧农业生产的情景



18 世纪的耕地景象



蒸汽机犁地演示 (约 1851 年)

(2) 依据材料二，指出农业生产方式有何不同。(2分) 结合所学，分析农业生产方式变化的原因。(1分)

材料三 1978~2000 年农村居民人均收支情况 (单位：元)

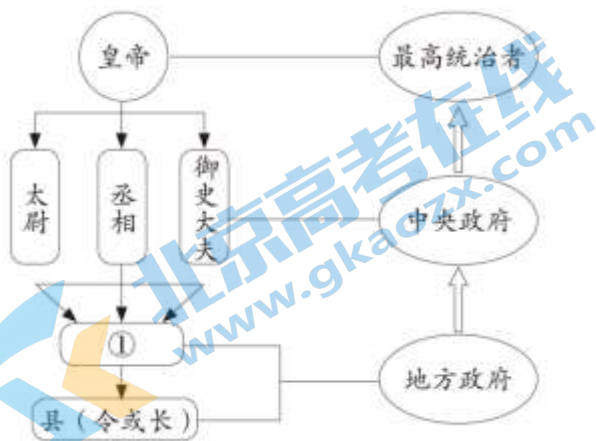
年份	农民人均纯收入	农村家庭人均消费支出
1978	133.6	116.1
1992	784.0	659.0
2000	2253.4	1670.1

——陈锡文等《中国农村改革 40 年》

(3) 依据材料三，概括数据反映的现象。(1分) 结合所学，分析上述现象出现的原因。(2分)

22. (11分) 政治制度是国家治理的组成部分。

材料一 秦朝政治建制示意图



(1) 将示意图①处补充完整，(1分) 并概括秦朝政治制度的特点。(2分)

材料二 美国 1787 年宪法规定：国会由参议院和众议院组成，参议员由各州议会选出，每州两名，任期六年，每两年改选三分之一；众议员任期二年，按各州人口比例选举产生，但黑人只能按人口的五分之三计算，未被课税之印第安人不算。总统是国家元首、政府首脑和武装部队总司令，任期四年。总统由选民间接选举产生，即先由各州议会选出选举人，然后再由选举人选举总统。最高法院大法官由总统经参议院同意后任命，除非渎职，任职终身。

(2) 依据材料二，从积极和局限的角度，谈谈对 1787 年宪法的看法。(2 分)

材料三

第二条 中华民国之主权属于国民全体。

第五条 中华民国人民一律平等，无种族、阶级、宗教之区别。

第十二条 人民有选举及被选举之权。

第十九条 参议院之职权……议决一切法律案。

第三十条 临时大总统代表临时政府，总揽政务，公布法律。

第五十一条 法官独立审判不受上级官厅之干涉。

——《中华民国临时约法》(1912 年)




(3) 依据材料三，概括《中华民国临时约法》的主要内容。(2 分) 结合时代背景，谈其历史进步性。(2 分) 材料四

名称	内容(部分)
1954 年宪法	<p>第一条 中华人民共和国是工人阶级领导的、以工农联盟为基础的人民民主国家。</p> <p>第二条 中华人民共和国的一切权力属于人民。人民行使权力的机关是全国人民代表大会和地方各级人民代表大会。</p>
1982 年宪法	<p>第一条 中华人民共和国是工人阶级领导的、以工农联盟为基础的人民民主专政的社会主义国家。</p> <p>第二条 中华人民共和国的一切权力属于人民。人民行使权力的机关是全国人民代表大会和地方各级人民代表大会。</p> <p>第十一条 在法律规定范围内的城乡劳动者个体经济，是社会主义公有制经济的补充。</p> <p>第十六条 国营企业在服从国家的统一领导和全面完成国家计划的前提下，在法律规定的范围内，有经营管理的自主权。</p>

(4) 结合材料四，从继承和发展的角度，谈谈两部宪法的关系。(2 分)

23. (11 分) 体育是社会发展与人类进步的重要标志。

材料一 以下是与中国古代体育相关的文物

		
①半坡遗址石球，表面光滑，学者推测其功能除了狩猎，也是墓主人的体育类玩具	②《塞宴四事图》(局部)，绘制了乾隆在围猎后举行摔跤等体育项目，并与蒙古各部首领相聚欣赏、增进感情	③马球仕女俑，展现了身穿胡服的唐朝女子，正在参与一种从波斯传入的马球运动

(1) 从材料一中找出能说明以下主题的文物。(3分。写序号，多选、错选不得分)

见证中国境内文明的起源：_____

见证繁荣与开放的时代：_____

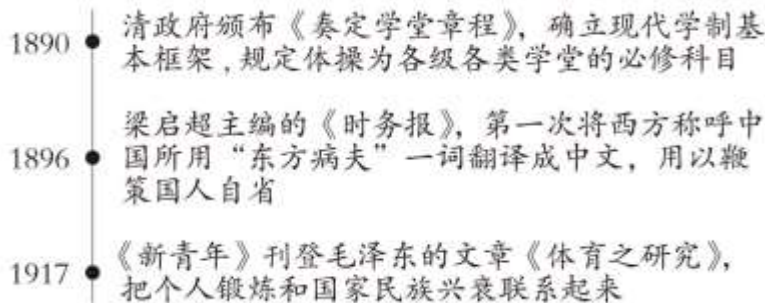
见证清朝统一多民族国家的巩固与发展：_____

材料二 15 世纪，艺术作品开始歌颂人体的均衡发展 and 健康美，如达·芬奇从解剖学角探讨人体的均衡和比例，还从力学角度研究人体的运动。人文主义者发现了古希腊体育的丰富遗产，如雅典的体操学校、泛希腊运动会、“健全的精神寓于健全的身体”的体育观念，与市民、资产阶级的生活情趣相结合，促进了现代体育思想的萌生。在新思想的影响下，(意大利)帕多瓦大学教授提出对青少年的通才教育，建议依据个人特点恰当地选择运动，培养身心全面发展的人。

——摘编自《体育史》

(2) 依据材料二，概括 15 世纪欧洲体育发展的表现。(2分) 结合所学，指出促进其发展的因素。(2分)

材料三 中国近代体育的相关文献(部分)





(3) 从材料三中，任选两项文献，说出其出现的背景。(2分)

材料四 2016 年，中共中央、国务院印发《“健康中国 2030”规划纲要》，明确指出，实现国民健康长寿，是国家富强、民族振兴的重要标志。截至 2019 年底，我国人均体育场地面积达到 2.08 平方米；截至 2020 年底，全国累计拥有社会体育指导员 260 万人。“农民体育健身工程”已基本实现行政村全覆盖，城市社区“15 分钟健身圈”建设成绩斐然。全国经常参与体育锻炼的总人数近 4 亿，城乡居民达到《国民体质测定标准》合格以上的近九成。

(4) 依据材料四，指出当代中国体育发展取得的成就。(2分)

24. (8分) 交通发展与社会进步密切相关。

材料一 宋代海路交通

	舟师（船上的技术人员）识地理，夜则观星，昼则观日，阴晦（阴天）则观指南针	
①“南海1号”宋代远洋贸易沉船，残长 22.95 米，水密隔舱设计，装载多种货物，瓷器为大宗	②北宋朱彧《萍洲可谈》记载	③泉州海上丝绸之路艺术公园雕塑，展现了宋代泉州作为世界大港口的辉煌

(1) 从材料一中选出研究宋代海路交通最可信的两则材料。(2分。写序号，多选、错选不得分) 依据最可信的材料，概述宋代海路交通发展的表现。(2分)

材料二《哥伦布航海日记》是欧洲第一部记述新大陆以及欧洲人在新大陆活动的作品，一经问世，大受欢迎。其中记录了哥伦布一行首次西航的经历，包括帆船构造，航行风向、里程，及途中见闻。例如：

十月十一日：凌晨两点，发现了陆地……登陆后看见岛上树木葱茏，水源充足……他（哥伦布），当着众人的面，以其主人国王和王后的名义占领了这个岛屿。

——摘编自《哥伦布航海日记》

(2) 依据材料二，从当时和现今两个角度分析《哥伦布航海日记》的价值。(2分)

材料三 丰台火车站建于 1895 年，是北京最早的火车站，由清政府向英国借款修建。民国时期，它是京张铁路、京汉铁路及京奉铁路的连接站。新中国成立后，丰台站成了华北地区的重要交通枢纽。1956 年建成的丰台西站分流了丰台站的部分任务，但丰台火车站的地位仍然举足轻重。2022 年，改建后的丰台火车站即将开通。新丰台站是我国首座采用高速、普速重叠的双层高架车场的大型客运站，设有充分利用自然光照明的中央光庭，车站屋顶铺设太阳能发电板，为站内照明、取暖、制冷等设备提供能源。

(3) 结合材料三，谈谈对丰台火车站发展变迁的认识。(2分)

参考答案

第一部分（每题15分，共30分）

题号	1	2	3	4	5	6	7	8	9	10
答案	D	B	B	B	A	D	C	D	D	A
题号	11	12	13	14	15	16	17	18	19	20
答案	D	B	C	A	C	A	B	B	D	C

第二部分（共40分）

21.（10分）

（1）表现：耕地面积扩大；粮食产量提高或耕作技术成熟；高产作物的推广；经济作物的种植。（4分）

（2）不同：第一张图片：依靠人力、畜力进行生产；第二张图片：以蒸汽机为动力进行生产。（2分）原因：工业革命的开展，工农业生产的动力发生变革。（1分）。

（3）现象：农民收入或生活水平快速提高。（1分）

原因：中共十一届三中全会召开，确定了改革开放的方针；实行家庭联产承包责任制；社会主义市场经济体制的确立。（2分）

22.（11分）

（1）①：郡或郡守。（1分）特点：皇权至高无上；权力高度集中；建立从中央到地方政治制度的基本模式；中央对地方的有效管理。（2分）

（2）看法：确立了美国的共和政体，总统和议员由选举产生，三权分立、分权制衡，具有一定的民主性。允许奴隶制存在，不承认黑人和印第安人具有同白人平等的权利，也有明显的局限。（2分）

（3）内容：主权在民、三权分立的资产阶级共和政体；自由、平等原则。（2分）

进步性：第一部具有资产阶级共和国宪法性质的重要文件；是辛亥革命的重要成果，推动了近代中国政治民主化的进程。（2分）

（4）1982年宪法是对1954年宪法的继承和发展，1982年宪法以1954年宪法为基础，内容更加完备，增加了适应改革开放和社会主义现代化建设的新规定。（2分）

23.（11分）

（1）①、③、②。（3分）

（2）表现：现代体育思想萌生；体育教育的提出；（2分）背景：商品经济的发展；文艺复兴运动的兴起。（2分）

（3）背景：维新变法、新文化运动等政治变革；近代教育事业的发展。（2分）

（4）成就：中华民族健康素质提升；参与体育锻炼人员广泛；体育配套资源增加。（2分）

24.（8分）

（1）最可信材料：①、②。（2分）表现：海上交通路线范围广泛；海上贸易繁盛；航海知识及技术进步。（2分）

(2) 当时价值：丰富了人们的航海及地理知识；有利于人们了解新大陆的状况。现今价值：保存了新航路开辟的历史资料，有利于研究新航路开辟，有利于研究欧洲的殖民活动。（2分）

(3) 能从材料中提炼出一点合理认识并加以解释。（2分）



2022 北京各区初三一模试题下载

北京高考资讯公众号整理【**2022 北京各区初三一模试题&答案**】，持续为大家进行分享。

想要下载练习各区各科试题答案，可以扫描下方二维码，进入试题答案汇总下载高清电子版文件。

扫描二维码进入试题答案汇总
下载电子版试题



还有更多**一模成绩、排名**等信息，考后持续分享
记得关注我们的公众号【**北京高考资讯 (ID : bjgkzx)**】！



微信搜一搜

北京高考资讯