

北京市第十三中学 2021~2022 学年第二学期 高一历史期中测试

本试卷分第 I 卷（选择题）和第 II 卷（非选择题）两部分，第 I 卷第 1 页至第 9 页；第 II 卷第 9 页至第 11 页，答题纸第 1 页至第 2 页。100 分，考试时间 90 分钟。请在答题纸第 1 页指定位置书写班级、姓名、准考证号。考试结束后，将本试卷的答题纸交回。


第 I 卷（选择题，每题 1 分，共 60 分）

- 人类从食物的采集者变成食物的生产者，人类由游牧到定居生活方式的变化，主要由于
A. 农耕和畜牧业产生
B. 早期城市出现
C. 私有制逐渐产生
D. 国家开始形成
- 古代埃及、印度、希腊、中国等文明呈现出独立发展的多元特征，这主要是因为
A. 大河与高山阻隔了文明交流
B. 自然环境和历史发展的不同
C. 各文明间战争频发限制交流
D. 政治动荡导致文明交流受阻
- 《大唐西域记》中有这样的记载，“若夫族姓殊者，有四流焉：一曰婆罗门，净行也。”“二曰刹帝利，王种也。”“三曰吠舍，商贾也。”“四曰戍陀罗，农人也。”书中记录的是
A. 西亚的君主制度
B. 埃及的法老制度
C. 印度的种姓制度
D. 雅典的民主制度
- 依据下面知识卡片中的内容，可以判断该国是

- 地中海曾经变成了它的内海
- 在其扩张过程中，奴隶制迅速发展起来
- 和汉朝通过丝绸之路，有间接的经贸和文化交流
- 4世纪末帝国分裂为东西两部分

- A. 法兰克王国 B. 奥斯曼帝国 C. 古罗马帝国 D. 俄罗斯帝国
- 人类最初的文明出现在亚非欧大陆的若干地区，犹如茫茫大海中的几座孤岛，相互之间联系甚少。促使农耕文明在古代世界不断扩张的因素有
①农耕文明区比较发达的社会分工 ②相对较高的劳动生产率
③复杂的社会组织和管理系统 ④组织能力、航海技术和武器
A. ①②③ B. ②③④ C. ①③④ D. ①②③④
 - 柏拉图说：“我们沿着大海生活，就像蚂蚁或青蛙围绕着一个池塘……”这说明古希腊人扩大文明影响的方式是
A. 移民建立殖民地
B. 输出技术和武器
C. 广泛的商品交换
D. 实行行省制度

7. 下图是某同学的部分笔记，在方框中补充正确的是



- A. 拉丁字母 B. 腓尼基字母 C. 印度字母 D. 埃及字母

8. 在世界历史上，一般被称为“中古时期”的时间段是

- A. 公元前 6—公元 5 世纪 B. 5—15 世纪
C. 公元前 6—公元 15 世纪 D. 14—17 世纪

9. 5 世纪后期，欧洲开始进入封建社会，西欧封建社会的基本特征是

- ①封君封臣制度 ②庄园与农奴制度 ③王权高于教权 ④主要封建国家形成
A. ①② B. ②③ C. ①③ D. ③④

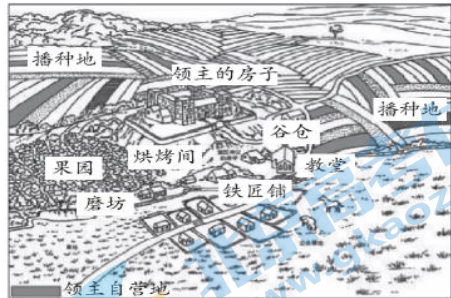
10. 右图是西欧封建等级制度示意图，对图中各阶层之间关系的表述，正确的是

- A. 大小封建主都是帝王的直接附庸
B. 各阶层之间没有严格的等级限制
C. 小封建主通过服劳役和耕种的方式向帝王效忠
D. 大小封建主之间构成领主与附庸的隶属关系



11. 右图是《西欧封建庄园示意图》，该图所反映的西欧封建庄园的特点是

- A. 等级森严
B. 市民自治
C. 中央集权
D. 自给自足



12. 10—11 世纪起，西欧各地兴起了众多城市。

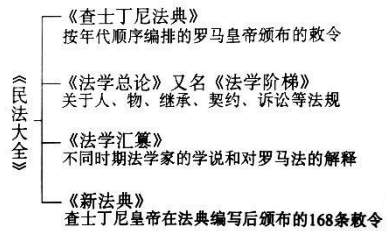
以下关于西欧城市兴起的表述，正确的是

- ①主要居民是手工业者和商人 ②城市完全独立于各地封建主
③城市兴起促使西欧大学兴起 ④城市兴起有利于国王的统一

- A. ①②③ B. ①③④ C. ②③④ D. ①②④

13. 观察右侧图示。对此法律文献的理解正确的是

- A. 它是世界上现存最早的成文法典
B. 它是雅典民主政治的重要保障
C. 它由沙皇伊凡四世所颁布
D. 它维系了东罗马帝国的统治



14. 据《阿拉伯通史》记载：“巴格达城的码头，有好几英里长，那里停泊着几百艘各式各样的船只，有战舰和游艇，有中国大船……市场上有从中国运来的瓷器、丝绸和麝

香；从印度和马来群岛运来的香料、矿物和燃料；从中亚细亚和突厥运来的红宝石、青金石、织造品和奴隶；从斯堪的纳维亚和俄罗斯运来的蜂蜜、黄蜡、毛皮和白奴；从非洲东部运来的象牙、金粉和黑奴。”对上述材料理解正确的是

- A. 巴格达是当时世界最繁华的城市 B. 阿拉伯人垄断东西方商业贸易
C. 阿拉伯商人的贸易范围非常广泛 D. 奴隶制是阿拉伯人扩张的基础
15. 下列属于封建时代日本和朝鲜的共同点是
A. 学习中国隋唐文化 B. 长期实行幕府制度
C. 形成特殊的武士阶层 D. 与中国明朝发生过战争
16. 古代美洲的印第安人创造了灿烂的文明，独立培育出很多其他大陆没有的农作物。下列农作物的原产地在美洲的是



- A. ①② B. ①③ C. ①④ D. ②③
17. 以下属于古代美洲地区文明代表的是
①大津巴布韦 ②阿克苏姆文明 ③阿兹特克文明 ④印加文明
A. ①② B. ①③ C. ②③ D. ③④
18. 16世纪初，以农业为基础的阿兹特克人发明了“浮动园地”。其作用在于
A. 促进交通运输 B. 防止洪水泛滥 C. 阻隔外族入侵 D. 扩大耕地面积
19. _____使世界各地开始建立广泛的直接联系，推动了世界各地人口的迁移和物种的大交流，在人类历史逐步从分散走向整体的进程中迈出了重要的一步。横线处应填
A. 丝绸之路的开通 B. 奥斯曼帝国的建立
C. 新航路的开辟 D. 工业革命的开展
20. 16—18世纪，美洲大陆出现了新西班牙、新法兰西、新奥尔良、新尼德兰、新英格兰的地名，这些地名的出现是因为
A. 大批美洲独立国家的纷纷建立 B. 欧洲殖民者对美洲的侵略和掠夺
C. 探险家对美洲的探索范围不断扩大 D. 新航路开辟后，世界连成一个整体
21. 《全球通史》一书认为：“那时的西欧是无可匹敌的，它拥有向外猛冲的推动力——宗教动力、思想骚动、经济活力、技术进步和有效动员人力物力的民族君主国。”材料论述的是
A. 新航路开辟的原因和条件 B. 宗教改革的历史影响
C. 工业革命开展的社会基础 D. 早期殖民扩张的意义
22. 杨志玖在《马可·波罗在中国》中说“《马可·波罗行记》对15世纪以来的欧洲航海事业的发展也起到了推动作用。著名的意大利航海家哥伦布曾熟读此书，并在其所读

拉丁文《马可·波罗行记》中加了45处的标记，他对中国和印度的文明富庶极为艳羡。”

对此材料理解正确的是

- A. 马可·波罗对东方的描述是完全真实可信的
- B. 马可·波罗的游记是地理大发现的根本原因
- C. 《马可·波罗游记》最早是用中文写作的
- D. 哥伦布受到《马可·波罗游记》的影响是有确凿证据可以证明的

23. 新航路开辟的根本原因是

- A. 寻找资源和可开垦的土地
- B. 商品经济和资本主义的发展
- C. 掠夺金银以发财致富
- D. 传播基督教的宗教热情

24. 15—16世纪是世界历史发展的重要时期，随着新航路的开辟，欧洲的航海家们开辟了众多重要的航线，下图中完成环球航行的航线是

- A. ①
- B. ②
- C. ③
- D. ④



25. 有学者统计列出了1600年运入欧洲的部分商品统计表，对此表解读正确的是

	经好望角	经地中海
胡椒	100万~200万磅	300万~400万磅
丁香、靛蓝、肉豆、药品	35万~65万磅	70万~100万磅

- A. 传统商路仍发挥重要的作用
- B. 世界贸易中心转移到了地中海
- C. 商业革命引发交易商品改变
- D. 欧洲与亚洲经贸联系更加紧密

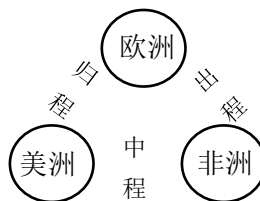
26. 新航路的开辟，使人类第一次建立起跨越大陆和海洋的全球性联系。各大洲之间的相对孤立状态被打破，世界开始连成一个整体。新航路开辟的影响还包括

- ① 资本主义制度扩展
- ② 人口迁移与物种的交换
- ③ 商品的世界性流动
- ④ 西欧国家早期殖民扩张

- A. ①②③
- B. ①②④
- C. ①③④
- D. ②③④

27. 右图是近代形成的某一贸易路线图，该贸易的进行

- A. 为西欧提供资本原始积累
- B. 使欧洲丧失了大量人口
- C. 弥补了非洲劳动力的不足
- D. 推动世界市场雏形出现



28. 16世纪末西班牙物价飞涨，一般生活用品上涨了4倍多，粮食上涨了5倍多，在欧洲其他地区物价也上涨了2倍左右。这一现象导致了

- A. 西班牙成为世界霸主
- B. 资产阶级实力上升
- C. 封建领主力量得到加强
- D. 欧洲普遍陷入贫困

29. 文艺复兴为古典文化注入了时代精神，具体表现在

- ①提升人的地位，肯定人的价值 ②追求现世幸福，探索自然奥秘
③反对禁欲主义，揭露教会堕落 ④崇尚信仰自由，提倡勤劳节俭

A. ①②③ B. ①②④ C. ②③④ D. ①③④

30. 达·芬奇的《最后的晚餐》取材于《圣经》，但画中人物，包括耶稣都没有圣光，取而代之的是自然光，所有人的形态与常人无异。这体现了

- A. 希腊罗马古典文化 B. 上帝绝对的精神权威
C. 人文主义核心思想 D. “天赋人权”的原则

31. 宗教改革中，马丁·路德认为人的灵魂获救靠自己的信仰，不靠繁琐的宗教仪式；上帝面前人人平等。这一主张带来的实际效果是

- A. 调整了人与教会的关系 B. 调整了人与上帝的关系
C. 调整了人与人的关系 D. 调整了人与社会的关系

32. 在中世纪欧洲人们习惯用拉丁语写作。但 14 世纪以来，用本民族语言写作的人越来越多，如薄伽丘用意大利语方言写作《十日谈》，马丁·路德将《圣经》翻译成德语，受到大家欢迎。这一现象

- ①强化了天主教会的控制 ②有利于近代民族国家的形成
③有利于宗教改革的推进 ④推动了资产阶级文化的传播

A. ①②③ B. ②③④ C. ①③④ D. ①②④

33. “近代自然科学的产生与发展，开辟了理性辩证地看待客观世界的方法，从而为理性主义奠定了基础，进而推动了启蒙运动的产生。”下列能证明这一观点的有

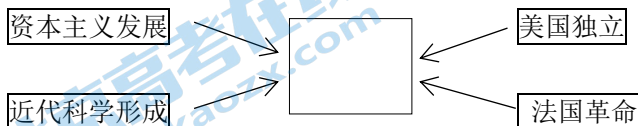
- ①哥白尼的“日心说” ②蒸汽机的发明
③牛顿的“经典力学体系” ④内燃机的出现

A. ①② B. ③④ C. ①③ D. ②④

34. 法国雕塑家罗丹（1840—1917 年）面对一些人物塑像时说：“卢梭目中含有无限精微的气息，那是 18 世纪诸人物的共同性格，他们批评自古以来天经地义的道理”。罗丹所说的“共同性格”是指

- A. 反对君主专制 B. 强调三权分立相互制衡
C. 主张主权在民 D. 倡导开明君主实施立宪

35. 以下是某学生所做的知识线索图（箭头表示因果关系），中间空相应是



A. 价格革命 B. 宗教改革 C. 启蒙运动 D. 《人权宣言》

36. 19 世纪后半期，意大利和德意志两国的相同之处包括

- ①结束分裂状态 ②建立君主立宪制 ③通过武力统一 ④成立帝国

A. ①②③ B. ①②④ C. ①③④ D. ②③④

37. 英国作为君主立宪制的典型代表，其政治制度的特征是

- ①君主权力受到法律的限制 ②内阁掌握行政权，对议会负责
③议会是国家最高立法机关 ④首相由皇帝任命，对皇帝负责

A. ①②③ B. ①②④ C. ①③④ D. ②③④

38. 英国资产阶级革命、美国独立战争、法国大革命的共同点是

- A. 处死了本国国王 B. 推翻了专制制度
C. 打败了外国的武装干涉 D. 促进了本国资本主义的发展

39. 为了维护自身利益，资产阶级建立起适合资本主义经济发展的政治制度。第一部比较完善的资产阶级成文宪法是

- A. 英国的《权利法案》 B. 美国的 1787 年宪法
C. 美国的《独立宣言》 D. 法国的《人权宣言》

40. 以下所示材料是 19 世纪 70 年代某国宪法的部分内容，据此判断该国的政体是

第十二条 联邦议会与帝国议会的召集、开会、延会、闭会之权属于皇帝……
……
第十七条 建议并公布帝国法律及监督其执行之权属于皇帝……
第十八条 皇帝委派官吏，命令他们宣誓效忠帝国，并在必要的情况下命令他们辞职……

- A. 直接民主制 B. 君主专制
C. 君主立宪制 D. 民主共和制

41. 近代某国被称为“各种政体的实验场”，以一票的微弱多数最后确立了共和政体。这个国家是

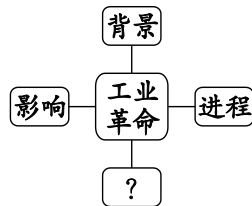
- A. 英国 B. 法国 C. 美国 D. 德国

42. 19 世纪中期，爆发了一系列影响世界发展进程的重大历史事件，如俄国 1861 年改革、美国内战、意大利和德意志实现统一以及日本的明治维新等。这些重大事件反映的历史发展趋势是

- A. 奴隶制的废除 B. 资本主义制度在世界范围内确立
C. 资产阶级民主政治的初步确立 D. 资本主义世界经济体系最终形成

43. 右图是一位同学绘制的思维导图，填入“？”处最恰当的应是

- A. 火车 B. 瓦特
C. 成果 D. 工厂



44. 工业革命首先发生在英国。下列各项中，为英国工业革命的发生提供可靠政治保障的是

- A. 圈地运动的进行 B. 海外殖民扩张和掠夺
C. 手工工场的发展 D. 资产阶级代议制的确立

45. 王觉非主编的《英国近代史》载：“从西至东，从北至南……机械装置遍及四方，世界获得了一种新的动力，一个时代的风气如新世界的大河汹涌奔腾，不可阻挡。”材料描述的现象与下列哪一历史人物的贡献密切相关

- A. 阿克莱特
B. 富尔顿
C. 哈格里夫斯
D. 瓦特

46. 史论是关于客观历史如史事、人物、历史现象等的评论，以下内容中属于史论的是

- ①工业化提高了生产效率，大众消费品极大地丰富了市场。
②1851年伦敦的水晶宫展示了工业对人类的馈赠。这是一座用铁和玻璃构建的富丽堂皇的建筑物，里面有树木、花园、喷泉以及世界各地的工业产品。
③展览吸引了大批观众，前来欣赏像英国纺织品、铁制品以及机器工具等工业产品。
④水晶宫的展览使参观者大为惊奇，对工业社会的成就赞不绝口。

- A. ①
B. ②
C. ③
D. ④

47. 某欧美剧作家在他的一部最新电影剧本中描写了19世纪中期的伦敦，你认为需要修改的一项是

- A. 英国有钱人以坐轮船游览伦敦的泰晤士河为时尚
B. 岸边工厂一间接着一间，巨大的烟囱冒着浓烟
C. 大街上电线林立，一到夜晚整个城市霓虹灯闪烁
D. 不时有一列列火车呼啸而过

48. 19世纪末20世纪初，伴随工业的大发展，生产和资本高度集中。在主要资本主义国家，形成了一批规模庞大的“巨型企业”，如美孚石油公司、美国国际电话电报公司等。这一现象表明

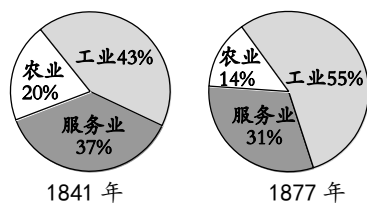
- A. 资本主义大工厂制度初步形成
B. 第二次工业革命后垄断组织产生
C. 生产集中改变了轻重工业比例
D. 激烈竞争导致企业利润大幅降低

49. 从改良蒸汽机到电话机的发明，我们可以看到一个明显的变化：前者的发明更多是经验的结晶，而后者则是科学理论的自觉运用。这折射出第二次工业革命

- A. 以机器动力革新为主要标志
B. 以运用经验积累突破为特征
C. 凸显了科学理论的指导作用
D. 注重对传统科技成果的革新

50. 右图是英国就业人口结构的变化示意图，出现这种变化的原因是

- A. 圈地运动的开展
B. 三角贸易的影响
C. 工业革命的促进
D. 殖民体系的形成



51. 据统计，1851—1871年英国女性在商业、医药和教育领域的就业人数从95,000人增加到138,400人，增长率达45.68%。1851—1911年女性职员占职员的比例从2%增加到20%。材料表明

- A. 英国实现了男女政治权利平等 B. 妇女在就业竞争中占优势
C. 工业革命促进了妇女角色转变 D. 妇女参政意识增强
52. 19 世纪末的经济发展，再加上海洋运输和铁路上的交通革命，培植出一种真正的世界经济。到 1900 年时，欧洲人从世界各地进口牛肉、羊毛、咖啡、硝酸盐等物资；欧洲资本同样投向了海外，以开采矿山、建设铁路、电厂和银行。这说明
- A. 工业革命推动世界市场开始形成 B. 全球资源通过世界市场流向欧洲
C. 欧洲在世界贸易中占据主导地位 D. 世界逐步建立起合理的经济秩序
53. 为了改善劳动条件和生活状况，维护自己的权益，工人阶级进行了从捣毁机器到争取政治权利的多种形式的斗争。19 世纪三四十年代爆发的法国里昂工人武装起义、英国宪章运动和德国西里西亚织工起义，表明
- A. 无产阶级开始作为独立的政治力量登上历史舞台
B. 工人阶级迫切需要革命理论指导
C. 斗争形式仍以自发为主
D. 马克思主义的诞生
54. 工业革命之后，各种空想社会主义理论开始活跃起来。以下关于空想社会主义的表述正确的是
- ①深刻揭露和批判了资本主义制度
②对未来理想社会提出了各种设想
③代表人物主要有法国的圣西门、傅立叶和英国的亚当·斯密
④是马克思主义的重要理论来源之一
- A. ①②③ B. ①③④ C. ②③④ D. ①②④
55. 历史不是孤立的，历史事件之间总是环环相扣，连续不断。下列有关图一与图二之间关系说法正确的是
-
- 图二
- A. 图一是图二理论的实践 B. 图一指导思想为图二提供了思想来源
C. 图一与图二无必然联系 D. 图二是图一指导思想发展的必然结果
56. 某书写道：“推翻资产阶级的统治，由无产阶级夺取政权” “共产党人不屑隐瞒自己的观点和意图。他们公开宣布：他们的目的只有用暴力推翻全部现存的社会制度才能达到。” 该书的意义是
- A. 标志着早期工人运动的开始 B. 成为空想社会主义的理论基础
C. 标志着马克思主义的诞生 D. 丰富了马克思主义的学说
57. 1867 年，马克思撰写的政治经济学巨著《资本论》第一卷出版。该书通过对资本主义制度的深刻剖析，揭露了资本主义制度和资本家剥削的秘密。这个“秘密”是指

- A. 唯物史观
B. 剩余价值学说
C. 自由竞争学说
D. 创立巴黎公社
58. 第一国际成立以后，国际工人运动进入了一个新阶段。其“新”反映在
A. 工人阶级登上历史舞台
B. 提出了建立民主共和国的口号
C. 加强了无产阶级的国际团结
D. 进行了争取政治权利的斗争
59. 下图是社会主义运动的理论及实践的示意图。空白处应为



- A. 法国大革命爆发
B. 第一国际成立
C. 巴黎公社建立
D. 十月革命胜利
60. 巴黎公社客观上实践了《共产党宣言》的基本思想，这主要表现在
A. 工人通过武装起义夺取政权
B. 成立公社委员会作为最高权力机关
C. 公社成员均由市民选举产生
D. 以国民自卫军取代资产阶级旧军队

第Ⅱ卷 (非选择题, 共 40 分)

61. (共 10 分) 文明与战争

材料一

约公元前 4500 年，苏美尔人迁移到两河流域南部。人们从事农业生产，具有灌溉知识，使用金属工具，用削成尖头的秸秆或木棒做笔，在未干的软泥版上压刻出符号。从此时到约公元前 2900 年，以城市为中心的聚落逐步扩大，城市的功能不断完善。该时期的一块石碑上雕刻有一个统治者，他戴头冠，穿长裙，孔武有力。



苏美尔楔形

同时期的一枚印章上，有一个人正主持宗教仪式，手刃敌人，表明他拥有宗教和军事权力，在同时期的雕刻中还出现了奉献产品的民众。这些情况表明苏美尔地区进入了文明时代。

(1) 依据材料一，概括西亚地区进入文明时代的表现。(6 分)

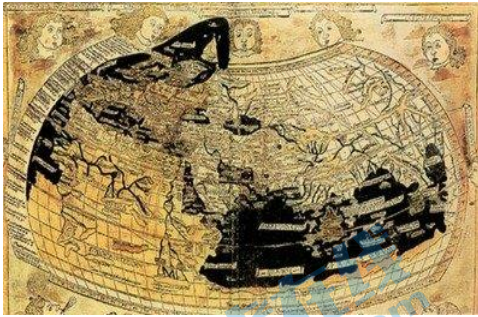
材料二 公元前 4 世纪晚期，马其顿国王亚历山大率军入侵并灭亡了波斯帝国，随后建立了地跨欧亚非三大洲的帝国。亚历山大远征期间，在野蛮部落建立了 70 多个城市，定都巴比伦城，保留波斯帝国的行政制度，鼓励东西方种族通婚，以马其顿人和希腊人作为骨干力量，保证征服者的统治地位；袭用东方的专制政体，并利用宗教进行统治，宣扬君权神授，从而使帝国的统治呈现出东方、马其顿、希腊城邦三种因素的混合现象。

——摘编自齐涛《世界通史教程》(古代卷)


(2) 依据材料二并结合所学，简要评价亚历山大远征。(4 分)

62. (共 22 分) 世界历史由分散走向整体, 联系日益密切。

材料一



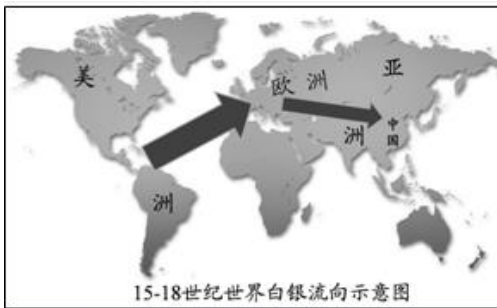
15 世纪重新修复的托勒密世界地图, 现存于那不勒斯国家图书馆。



巴蒂斯塔·阿格尼斯 (1514-1564 年) 工作坊制作的世界地图, 此图绘制出了当时人们所知的大陆以及著名航线, 现存于亨廷顿图书馆。

- (1) 以上材料属于哪种类型的史料? 右侧地图可用于研究近代哪一重大史事? 对比两幅不同时期绘制的世界地图, 谈谈你对这一史事的认识。(8 分)

材料二



1400 年到 1800 年间……中国不仅是亚洲纳贡贸易体系的中心, 而且在整个世界经济中即使不是中心, 也占据支配地位……它吸引和吞噬了大约世界生产的白银货币的一半。

——贡德·弗兰克《白银资本》

- (2) 依据上述材料并结合所学, 指出“15—18 世纪世界白银的流向”并分析其原因。(8 分)

材料三 19 世纪末以来, 衡量一个国家工业化的重要方法是对现代能源 (即煤、石油、天然气和水力、电力而不是木材) 的消耗, 因为这既表示一个国家利用各种无生命能源的技术能力, 也表示了其经济发展速度。

1890~1913年欧洲各主要国家的能源消耗（相当于百万吨煤）

年份 国家	1890年	1900年	1910年	1913年
英国	145	171	185	195
德国	71	112	158	187
法国	36	47.9	55	62.5
奥匈帝国	19.7	29	40	49.4
俄国	10.9	30	41	54
意大利	4.5	5	9.6	11

——摘编自[英]保罗·肯尼迪《大国的兴衰》

(3) 根据上述表格，概括欧洲各主要国家能源消耗的特点，并分析其原因。（6分）

63. (8分) 思想解放是社会变革的先导。

材料一 《权利法案》重申了正统的政府必须依法而治这一古老的思想，还规定议会是英国政府中最高权力的拥有者，议会制定的法律是国内最高法。与其他欧洲国家的法律制度都是在继承古罗马法基础上发展起来的情况不同，英国法律制度是从自身内部产生出来的，并一直沿着自己的道路独立地向前发展。英国没有统一的宪法典，三百多年来，一直以自己“无宪法”但有发达的宪政的迷人风采彪炳于世。一些基本的宪法性法律文件援用了几百年，一直未宣布废弃它们，英国“新的政治设施总是兴建于旧设施的基础之上”。

——摘编自夏新华《借鉴与移植外来宪法文化与中国宪制发展》

(1) 依据材料一，概括英国宪法文化的特征。（4分）

材料二 有学者认为，美国宪法把政府分为相互独立的三个部分，并伴之以制衡制度，以防止其中任何一部分明显地高于其它部分。显而易见，这种启示源出于孟德斯鸠的思想。“美国宪法的起草者，从孟德斯鸠书中采取了政府分权的理论，其作品里更穿插着孟德斯鸠书中的句子。”

——摘编自博登海默《法理学——法律哲学与法律方法》

(2) 结合所学，说明1787年美国宪法的哪些内容体现了孟德斯鸠的理论。（4分）

关于我们

北京高考在线创办于 2014 年，隶属于北京太星网络科技有限公司，是北京地区极具影响力的中学升学服务平台。主营业务涵盖：北京新高考、高中生涯规划、志愿填报、强基计划、综合评价招生和学科竞赛等。

北京高考在线旗下拥有网站门户、微信公众平台等全媒体矩阵生态平台。平台活跃用户 40W+，网站年度流量数千万量级。用户群体立足于北京，辐射全国 31 省市。

北京高考在线平台一直秉承 “精益求精、专业严谨” 的建设理念，不断探索 “K12 教育+互联网+大数据” 的运营模式，尝试基于大数据理论为广大中学和家长提供新鲜的高考资讯、专业的高考政策解读、科学的升学规划等，为广大高校、中学和教科研单位提供 “衔接和桥梁纽带” 作用。

平台自创办以来，为众多重点大学发现和推荐优秀生源，和北京近百所中学达成合作关系，累计举办线上线下升学公益讲座数百场，帮助数十万考生顺利通过考入理想大学，在家长、考生、中学和社会各界具有广泛的口碑影响力

未来，北京高考在线平台将立足于北京新高考改革，基于对北京高考政策研究及北京高校资源优势，更好的服务全国高中家长和学生。



微信搜一搜

北京高考资讯

官方微信公众号: bjgkzx

官方网站: www.gaokzx.com

咨询热线: 010-5751 5980

微信客服: gaokzx2018

关注北京高考在线官方微信: [北京高考资讯\(微信号:bjgkzx\)](https://www.gkzxx.com), 获取更多试题资料及排名分析信息。