

2021 北京西城高一（上）期末

政 治

2021.1

本试卷共 8 页，共 100 分。考试时长 90 分钟。考生务必将答案写在答题卡上，在试卷上作答无效。

第一部分（选择题 共 44 分）

本部分共 22 小题，每小题 2 分，共 44 分。在每小题列出的四个选项中，选出最符合题目要求的一项。

在改革开放走过 40 周年之际，某校学生会准备举办一次中学生微视频大赛。回答 1~3 题。

1. 小波同学准备用手机拍摄一部反映我国农村改革初期的微视频。在他构思的镜头中，合理的是
- A. 外景：村委会门口悬挂着“决胜全面建成小康社会”的红色横幅
 - B. 内景：村民挤在村委会观看“上海浦东开发开放”的新闻纪录片
 - C. 近景：村民老刘听说“乡村建设行动”即将启动，笑得合不上嘴
 - D. 特写：安徽省凤阳县小岗村 18 位农民按下“大包干”红手印的图片
2. 小泽同学计划拍摄四集微视频，多侧面展现我国改革开放取得的巨大成就。下面是四集的拍摄线索，其中设计合理的是
- ①从计划经济走向市场经济
 - ②从贫困走向全面小康
 - ③从经济体制改革走向政治体制改革
 - ④从恢复联合国合法席位到加入 WTO
- A. ①②③ B. ①②④ C. ①③④ D. ②③④

1978~2017 年我国经济发展成绩单

- 国内生产总值 1978 年为 3678.70 亿元，2017 年突破 80 万亿元，年均增长约 9.5%。
- 人均可支配收入增长 22.8 倍，减贫人口占同期全球减贫总数 70% 以上。
- 中国对外贸易额年均增长 14.5%，累计吸引外资超过 2 万亿美元。
- 连续多年我国对世界经济增长贡献率超过 30%。

3. 小西同学记录到相关数据（见上框），计划围绕我国取得重大成就的根本原因制作评论短片。下列选项中，最适合作为核心观点的是
- A. 加强统筹规划，做好顶层设计
 - B. 坚持绿水青山就是金山银山的理念
 - C. 中国共产党带领人民开辟了中国特色社会主义道路
 - D. 中国迎来了由站起来、富起来到强起来的伟大飞跃

4. 党的十九届五中全会 6000 余字的公报信息量巨大，既高度评价取得的成就，又提出未来发展的远景目标。其中，“发展”一词出现频率最高，达到了 72 次。如，推动高质量发展、城乡区域发展差距和居民生活水平差距显著缩小、促进人的全面发展等。关于“发展”，下列观点理解正确的是
- A. GDP 增长是衡量经济发展的唯一指标
B. 促进公平实现社会进步是发展的前提
C. 发展的根本目的是消除各种社会矛盾
D. 高质量发展离不开人与自然和谐共生
5. 马克思主义博大精深，归根到底就是一句话，为人类求解放。马克思主义第一次站在人民的立场，探求人类自由解放的道路，以科学的理论为最终建立一个没有剥削、没有压迫、人人平等、人人自由的理想社会指明了方向。概括这段话的主旨，最合适的是
- A. 马克思主义是科学的理论
B. 马克思主义是人民的理论
C. 马克思主义是实践的理论
D. 马克思主义是开放的理论
6. 奴隶社会，奴隶主只把奴隶当成个人财产，像牲畜一样在市场出售。但是，恩格斯却说：“没有奴隶制，就没有古希腊城邦，就没有古希腊的艺术和科学……”判断一种社会形态代替另一种社会形态是历史进步还是倒退的主要标准是
- A. 生产力是否适应生产关系的发展要求
B. 受多种因素影响，各国发展道路不唯一
C. 是否符合马克思和恩格斯理论的具体要求
D. 新的生产关系是否能够促进生产力的发展
7. 建立什么样的国家制度，是近代以来中国人民面临的一个历史性课题。某班同学以“当代中国发展进步的制度基础”为题开展综合探究，提出以下要点，其中正确的是
- A. 1921 年中国共产党诞生，标志着党的执政制度的建立
B. 1949 年人民代表大会制度建立，从根本上改变了中国社会的发展方向
C. 1956 年社会主义改造基本完成，我国社会主义基本制度初步建立
D. 1978 年实行改革开放，使中国人民强起来，奠定了中华民族伟大复兴的制度基础
8. 坚持和发展中国特色社会主义是当代中国最鲜明的实践和理论主题。中国特色社会主义理论成果包括
- ①马克思主义 ②毛泽东思想 ③邓小平理论 ④科学发展观
⑤“三个代表”重要思想 ⑥习近平新时代中国特色社会主义思想
- A. ①②③④⑤⑥
B. ②③④⑤⑥
C. ③④⑤⑥
D. ④⑤⑥
9. 辨方位而正则。下列对我国当前新的历史方位认识正确的是

- ① 中国特色社会主义进入新时代
- ② 我国社会基本矛盾已发生转变
- ③ 分三步以实现全面建成小康社会的发展目标
- ④ 新阶段必须贯彻新发展理念，推动高质量发展

A. ①② B. ①④ C. ②③ D. ③④

10. 中国特色社会主义取得的辉煌成就与公有制经济密不可分。下列选项中关于我国公有制经济理解正确的是

- A. 公有制经济就是计划经济，其财产权不可侵犯
- B. 公有资产在国民经济各行业、各领域占优势
- C. 公有资产中的经营性资产应以保值增值为唯一目标
- D. 坚持公有制经济为主体，巩固社会主义经济制度的基础

作为我国科技创新和民营经济发展的高地，深圳近年来大力实施“民营经济倍增计划”，民营企业数量占全市企业总量 96% 以上，成为深圳高质量发展的重要动力。回答 11、12 题。

11. 发展个体、私营经济

- ① 有利于扩大就业，促进改善民生
- ② 有利于稳定经济增长，增加税收
- ③ 旨在控制国民经济命脉，开拓国际市场
- ④ 对提高我国综合国力发挥着决定性作用

A. ①② B. ①③ C. ②④ D. ③④

12. 在深圳，90% 以上的创新型企业是本土企业、90% 以上的研发机构设立在企业、90% 以上的研发人员集中在企业、90% 以上的研发资金来源于企业、90% 以上的职务发明专利出自企业、90% 以上的重大科技项目发明专利来源于龙头企业。由此可见

- A. 深圳的创新水平处于世界领先地位
- B. 创新是经济高质量发展的唯一动力
- C. 企业是科技创新最重要的主体
- D. 技术进步能降低资源消耗，提高劳动生产率

13. 改革开放后，我国逐步建立了社会主义市场经济体制，使市场在资源配置中起决定性作用。这是因为市场能够

- ① 比较及时、准确、灵敏地传递供求信息
- ② 事前对资源配置做出合理的安排
- ③ 推动科学技术和经营管理的进步


④ 自发实现效率与公平的有机统一

- A. ①② B. ①③ C. ②④ D. ③④

14. 小西陪妈妈到超市采买，看到门口张贴着一封感谢信。暖心之余，心生疑惑，物美价廉的卷心菜为什么会滞销？这可能是因为

- ① 市场存在自发性，必然导致蔬菜种植供过于求
② 市场具有盲目性，菜农不能完全掌握供求信息
③ 受疫情影响，交通运输不畅，正常流通受阻
④ 市场经济规律错误地发挥作用，市场信息扭曲

- A. ①② B. ①④
C. ②③ D. ③④



15. 社会主义市场经济的健康发展，离不开有效的政府治理，需要科学的宏观调控。在市场经济条件下，政府的下列做法中适宜的是

- A. 规定蔬菜的市场价格 B. 实行地方保护，推动地区发展
C. 制定企业年度生产计划 D. 多措并举，保持经济总量平衡

16. 产自贵州遵义的小辣椒运到贵阳，传统配送方式，每吨的物流成本是 300 元；通过公路港网络配送，每吨能降低 50 到 100 元；40 万吨辣椒，每年能降低运费 2000 万~4000 万元。物流成为制约制造业转型升级的因素之一。由此可见，完善物流网络有利于

- ① 降低运输成本 ② 支持金融行业发展
③ 促进实体经济发展 ④ 推动产业结构升级

- A. ①②③ B. ①②④ C. ①③④ D. ②③④

17. 以下措施与图 1 内容相符合的是



图 1

- A. 对科技创新企业免征增值税
B. 推动长三角地区营商环境一体化
C. 按实际贷款利息的 50% 给予企业贴息支持
D. 某快递公司引入人工智能，提高工作效率

18. 新发展理念是引领社会发展和变革的思想先导，对制定纲领、规划具有统摄作用。下列举措，主要体现共享发展理念的是

- A. 积极倡导简约适度的生活方式
- B. 必须把教育事业放在优先位置
- C. 城乡居民恩格尔系数不断降低
- D. 在经济发展的同时保护古建筑

19. 促进全体人民实现共同富裕是社会主义市场经济体制的根本目标。下列选项中，有利于在初次分配中促进社会公平的是

- ① 提高最低工资标准
- ② 建立科技成果入股分红激励办法
- ③ 提高个人所得税起征点
- ④ 发展慈善等社会公益事业

- A. ①②
- B. ①④
- C. ②③
- D. ③④

20. 下文是养殖户老李的“十三五”家庭记录（部分）。

- 2016 年村干部上了门，带来两位专业养殖技术员，当年我的养殖收入达到了 4 万元，比前一年增加了不少。养殖经验越来越丰富，成为远近闻名的养殖能手。
- 2019 年 3 月加入村办养殖合作社，参与养殖基地大规模养殖，年收入近 20 万元。年底，领到了农业经济合作社股权证和 3000 元的分红。
- 2020 年参与村里开发的特色旅游民宿项目，年收益递增 10%。

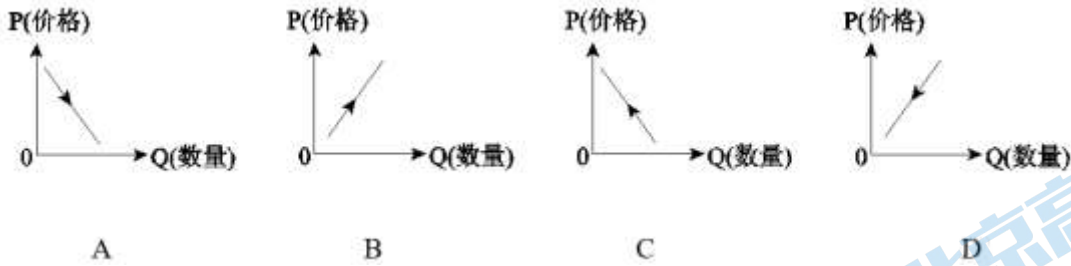
对于老李家的变化，下列分析正确的是

- A. 民宿项目收入属于转移性收入
- B. 不断增长的养殖收入属于劳动性收入
- C. 专业合作社改变了该村集体经济的性质
- D. 发展多种经营是实现共同富裕的根本保证

21. 近年来，为保障退休职工、低收入和困难群体的基本生活，国家出台了一系列救助扶持政策，由社会保障提供的支持的是

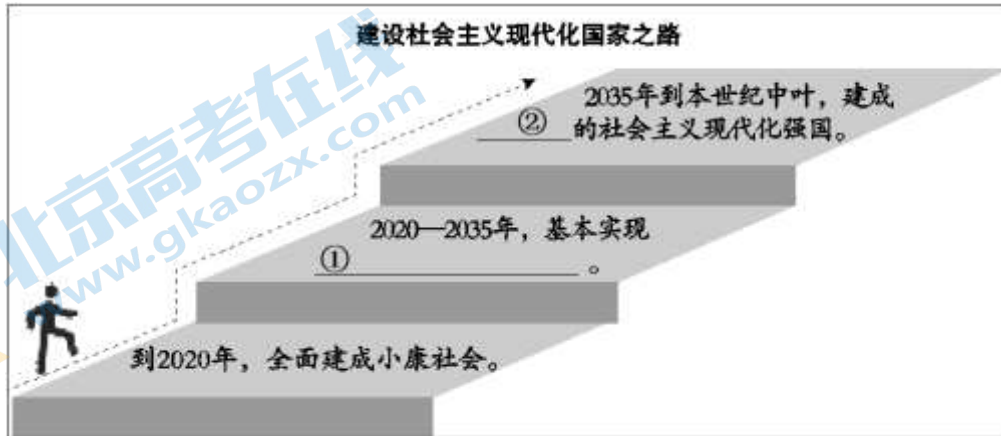
- A. 免费为 60 岁以上的低保对象购买家庭财产保险
- B. 发放临时救助，以满足居民较高层次的生活需求
- C. 对不裁员或少裁员的企业按一定比例返还失业保险金
- D. 社会组织动员社会捐助，添加养老公寓的床位

22. 某市投放 5 亿元消费券，可在餐饮、商场、超市与文体旅游消费时抵扣使用，此举必将影响居民消费意愿。不考虑其他因素，正确反映居民消费意愿变化的图形是



第二部分（非选择题 共 56 分）

23. （6 分）请将我国 2035 年和 2050 年的阶段性目标填在空白处。



24. （9 分）国有资本、集体资本、非公有资本交叉持股、相互融合的混合所有制经济，是我国基本经济制度的重要实现形式。

2013 年以来，中央国有企业累计实施混合所有制改革 4000 多项，引入各类社会资本超过 1.5 万亿元，中央企业中混改企业的户数占比已经超过 70%，混改后实现利润增长的超过 70%。

【案例】

试点企业：某国有独资企业改制为国有控股的有限责任公司

投资主体：国有资本持股 51%，非公经济持股 34%，员工持股 15%

结合案例，分析国有企业混合所有制改革对我国经济发展的影响。

25. （13 分）你爱看“直播带货”吗？作为一种线上新型商业模式，“直播带货”获得越来越多人的青睐，带货的主播也有了新职业——互联网营销师。

直播带货兴起于 2016 年，短短几年，这种通过互联网直播的方式向消费者展示、讲解、销售产品的新模式迅速发展起来。（参见图 2）

“哪款车性价比最高？”“订车有什么优惠？”……“高管直播天团”置身车间，对着镜头实时回答着网友提问；农民站在田间地头讲解着茶叶采摘到生产制作的全过程；导购员变身“云柜姐”，直播 3 小时服务的用户数，相当于之前 6 个月的总和；商家“云开市”迎接全世界的消费者……

2017-2020年中国直播电商行业市场规模及增长情况预测



图 2

目前,我国互联网营销师超过 1000 万人,并持续以每月 8.8%的速度快速增长。

(1) 结合材料,分析我国直播电商行业快速发展的经济原因。(7分)

直播带货火爆的同时,“翻车”的频率也越来越高,虚假宣传、产品质量无法保障、退换货难、用户信息泄露等问题日渐凸显。

(2) 针对上述问题,请你为“直播带货”行业规范化发展提两条建议。(6分)

26. (9分) 请从下面两个任务中任选一个作答。

任务一: 2013年,联合国教科文组织将《共产党宣言》手稿和《资本论》第一卷纳入《世界记忆名录》。有人认为,马克思思想不仅穿越时代,而且跨越政见。

结合上述著作中的一部,谈谈你对这一现象的看法。

任务二: “大凉山整体摆脱贫困”“少数民族人口最多的省级行政区告别绝对贫困”“中国贫困人口最多省贫困县‘清零’”……来自四川、广西、贵州等多个集中连片特困地区相继传来捷报,我国所有贫困县全部正式退出贫困序列。从政策扶贫到综合扶贫再到精准扶贫,中国成为最早实现联合国千年发展目标中减贫目标的发展中国家。

从“国家富强”“民族振兴”“人民幸福”三个词中选择一个作为主题,运用所学知识,撰写一段短评。要求:观点明确,运用学科术语,语言顺畅。

27. (9分)

小王毕业后到东南沿海某城市的一个企业就职。企业预与小王签订为期 5 年的劳动合同,合同明确约定,企业不为员工缴纳社会保险费用。小王觉得社会保险是老年人的依靠,而且缴费标准越来越高,影响当下生活,打算与公司签下这份合同。

你是否支持小王的决定?运用所学知识,谈谈你的看法。

28. (10分) 开放带来进步, 封闭必然落后, 开放是国家繁荣发展的必由之路。

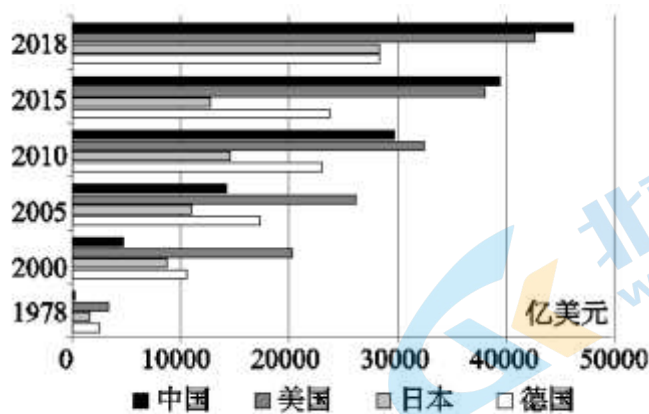


图3 出口总额的大国比较

(1) 概括图3所反映的我国对外贸易发展的特点。(4分)

新华社北京 2020-12-09 电

外交部发言人介绍, 相关机构调查显示, 约82%的受访美企表示未来3年不会将生产环节迁出中国。近七成日企依然对中国旺盛的市场需求抱有高度期待。今年前三季度, 宝马、戴姆勒、西门子、丰田、LG、埃克森美孚等一大批大项目在华增资扩产。

资料卡

- ◇ 2020年我国全面实施外商投资法, 坚持内外资一致、平等保护、公平竞争, 促进、保护外商投资。
- ◇ 2017~2020年, 我国连续四年修订全国外商投资准入负面清单, 禁止或限制外商投资的措施由93条减少到33条。在金融服务等更多领域允许外资控股或独资经营。
- ◇ 世界银行发布《全球营商环境报告2020》, 我国营商环境国际排名从2017年第78位提升至第31位。

注: 联合国贸易和发展会议《2020年世界投资报告》预测, 2020年全球外国直接投资(FDI)总额或同比下降40%, 明年将进一步减少5%至10%。

(2) 参考资料卡内容, 说明外商加大对中国投资的原因。(6分)

2021 北京西城高一（上）期末政治

参考答案

第一部分（选择题 共 44 分）

本部分共 22 小题，每小题 2 分，共 44 分。在每小题列出的四个选项中，选出最符合题目要求的一项。

1. D 2. A 3. C 4. D 5. B 6. D 7. C 8. C 9. B 10. D
11. A 12. C 13. B 14. C 15. D 16. C 17. A 18. C 19. A 20. B
21. C 22. A

第二部分（非选择题 共 56 分）

23. （6 分）每空 3 分。

- ①社会主义现代化 ②富强民主文明和谐美丽

24. （9 分）

国有资本、集体资本、非公有资本交叉持股、相互融合的混合所有制经济是我国基本经济制度的重要实现形式。通过资本融合、完善企业治理结构、分配机制激励，（2 分）有利于调动员工积极性，（1 分）增强国有资本控制力、激发活力、提高效率和效益。（3 分）有利于多种所有制资本取长补短、相互促进、共同发展，推动我国经济持续健康发展。（3 分）

25. （13 分）

（1）互联网技术进步发展，为直播电商发展提供了物质条件。（1 分）现场展示、实时互动，使供需快速精准对接，满足和引领消费需求，为提升销量、升级产品和服务、树立品牌形象带来机遇，催生新产业新业态，推动新发展。（4 分）带动自主创业、灵活就业等多种方式就业，增加收入。（2 分）

（其他合理答案亦可给分）

（2）每条建议 2 分，理由 1 分，共 6 分。

所提建议具有针对性、可行性即可给分，如经营者应守法诚信经营，保障消费者的合法权益；政府完善相关法律和政策，加强市场监管，完善市场规则，健全社会征信体系，维护良好的市场秩序。

（其他合理答案，如直播平台完善审核投诉举报机制、失信名单定期向社会公布等，亦可酌情给分）

26. （9 分）

等级水平	等级描述
水平 4 (7-9 分)	观点鲜明，能明确表达自己的见解；紧扣所选内容展开分析，合理运用学科知识，逻辑顺畅，条理清晰

水平 3 (5-6 分)	观点比较明确，能表达自己的见解；能扣住所选内容展开分析；知识运用比较合理，逻辑性较好，有条理
水平 2 (3-5 分)	观点不明确；论述不能集中指向问题，罗列知识；知识运用不正确；论述缺乏逻辑，条理性差
水平 1 (0-2 分)	应答与试题无关；或重复试题内容；或没有应答

参考细则：9 分

①对材料有所概括说明，且分析正确 2 分

②恰当运用学科观点说明我国消除贫困的提出/影响等（3 分），能深入分析/综合分析（多知识或多视角 2 分）

③综合评价 2 分（无科学错误 1 分，观点清晰、逻辑顺畅、论述充分 1 分）

27. （9 分）

社会保障通过风险分担与责任共担，充分发挥社会互助功能，推动社会持续健康发展。（3 分）享受社会保障是社会成员的一项法定权利，社会保障资金由政府、用人单位、个人合理分担责任。（3 分）企业不为员工缴纳社会保险费的做法是违法的，该合同无效，小王应拒签。（3 分）

28. （10 分）

（1）图3表明，1978~2018年我国出口总额不断增长，已从一个极小的出口经济体上升为超过美、日、德的出口大国，成为开放度较高的经济体。（一点1分，两点3分，三点4分）

（2）中国政府坚定不移扩大对外开放，出台多项法律政策，营造更加统一开放、公平竞争的市场环境，（2 分）不断放宽外资市场准入，外商获得更多市场参与的机会，外资合法权益受平等保护，营商环境持续改善。

（2 分）中国市场规模巨大，消费升级加速，更具发展潜力。（2 分）

（其他合理答案，如中国经济长期向好、综合竞争优势、经济社会稳定性高等，亦可酌情给分）

关于我们

北京高考在线创办于 2014 年，隶属于北京太星网络科技有限公司，是北京地区极具影响力的中学升学服务平台。主营业务涵盖：北京新高考、高中生涯规划、志愿填报、强基计划、综合评价招生和学科竞赛等。

北京高考在线旗下拥有网站门户、微信公众平台等全媒体矩阵生态平台。平台活跃用户 40W+，网站年度流量数千万量级。用户群体立足于北京，辐射全国 31 省市。

北京高考在线平台一直秉承“精益求精、专业严谨”的建设理念，不断探索“K12 教育+互联网+大数据”的运营模式，尝试基于大数据理论为广大中学和家长提供新鲜的高考资讯、专业的高考政策解读、科学的升学规划等，为广大高校、中学和教科研单位提供“衔接和桥梁纽带”作用。

平台自创办以来，为众多重点大学发现和推荐优秀生源，和北京近百所中学达成合作关系，累计举办线上线下升学公益讲座数百场，帮助数十万考生顺利通过考入理想大学，在家长、考生、中学和社会各界具有广泛的口碑影响力

未来，北京高考在线平台将立足于北京新高考改革，基于对北京高考政策研究及北京高校资源优势，更好的服务全国高中家长和学生。



微信搜一搜

北京高考资讯