

2023 届高三考试 文科综合试题

考生注意：

1. 本试卷分第 I 卷(选择题)和第 II 卷(非选择题)两部分,共 300 分。考试时间 150 分钟。
2. 请将各题答案填写在答题卡上。
3. 本试卷主要考试内容:高考全部内容。

第 I 卷 (选择题 共 140 分)

本卷共 35 小题,每小题 4 分,共 140 分。在每小题给出的四个选项中,只有一项是符合题意的。

传统陶瓷产品的烧制过程需耗费大量的煤炭、液化气、电能等能源,且需要经过 1300℃ 的时间烧制,能源利用率很低,碳排放量巨大,且产品都无法降解。目前陶瓷广泛应用于卫浴领域,2020 年我国仅智能型马桶的消耗量就达 2000 万台,普通型马桶也远超 2000 万台。经过青海某公司 20 年的探索研发,一条非金属新型复合可回收材料——“昆仑晶石”替代传统的全自动现代化卫浴生产线落地青海西宁。随着绿色建筑、健康住宅理念的发展,该公司生产单一的卫浴产品走向全屋精装。据此完成 1~3 题。

1. 该公司选择在西宁部署现代化卫浴生产线的主要影响因素是

- A. 地租 B. 交通 C. 市场 D. 原料

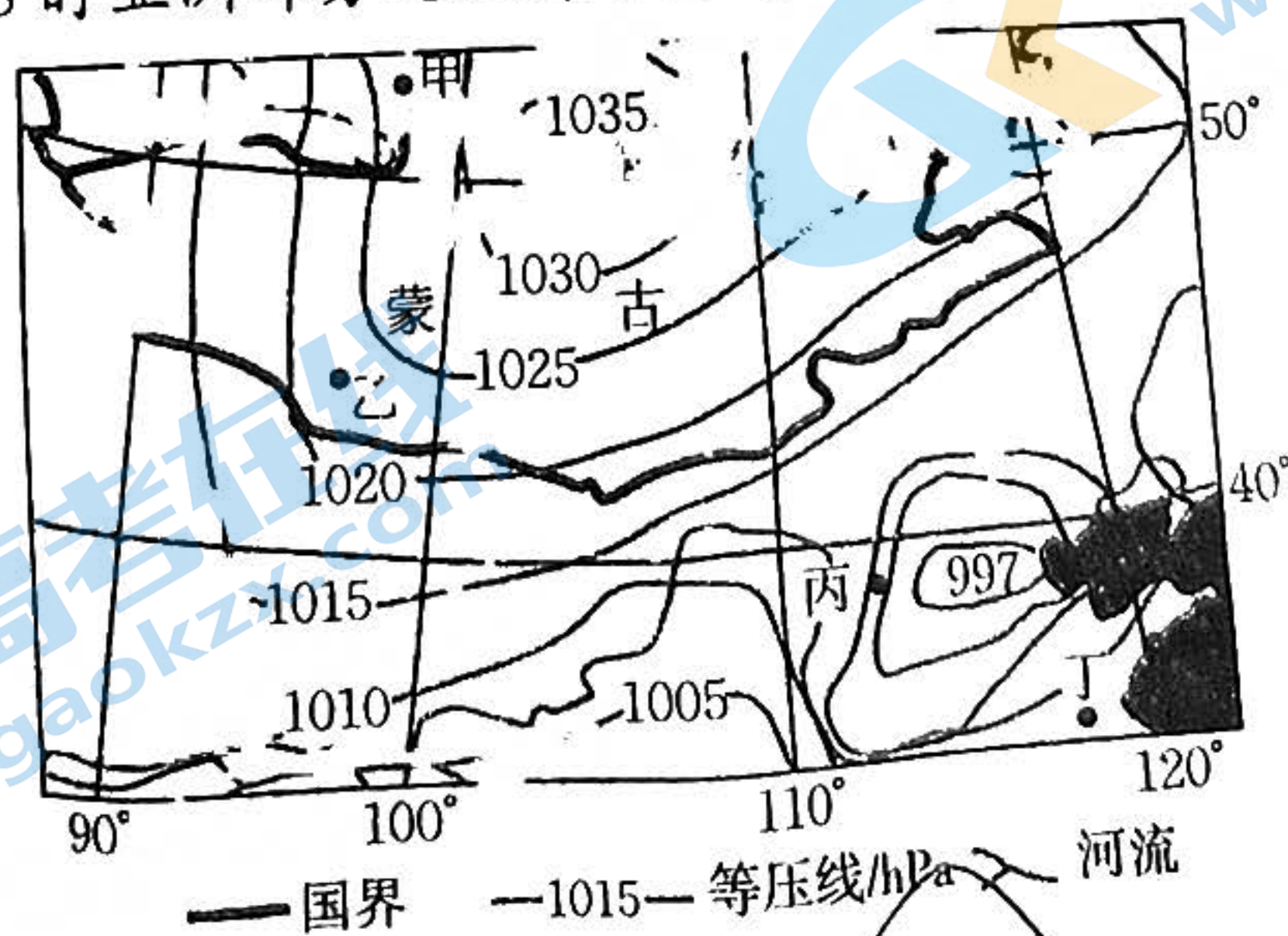
2. “昆仑晶石”替代传统陶瓷生产卫浴产品,会

- A. 导致陶瓷企业全部倒闭 B. 促使陶瓷企业全面转型
C. 降低卫浴产品的使用量 D. 减少自然资源的消耗量

3. 生产单一的卫浴产品走向全屋精装给该公司带来的影响是

- A. 加大企业的市场风险 B. 扩大企业的生产规模
C. 节省企业研发投入资金 D. 降低企业专业化程度

我国北方地区经常出现大规模沙尘暴天气,造成许多地区生态环境较为脆弱。下图为 2022 年沙尘暴期间某日 8 时亚洲部分地区海平面气压分布图。据此完成 4~6 题。



4. 正在经历沙尘暴天气的区域是

- A. 甲 B. 乙 C. 丙 D. 丁

5. 乙地区草地萎缩较为严重, 突出表现为

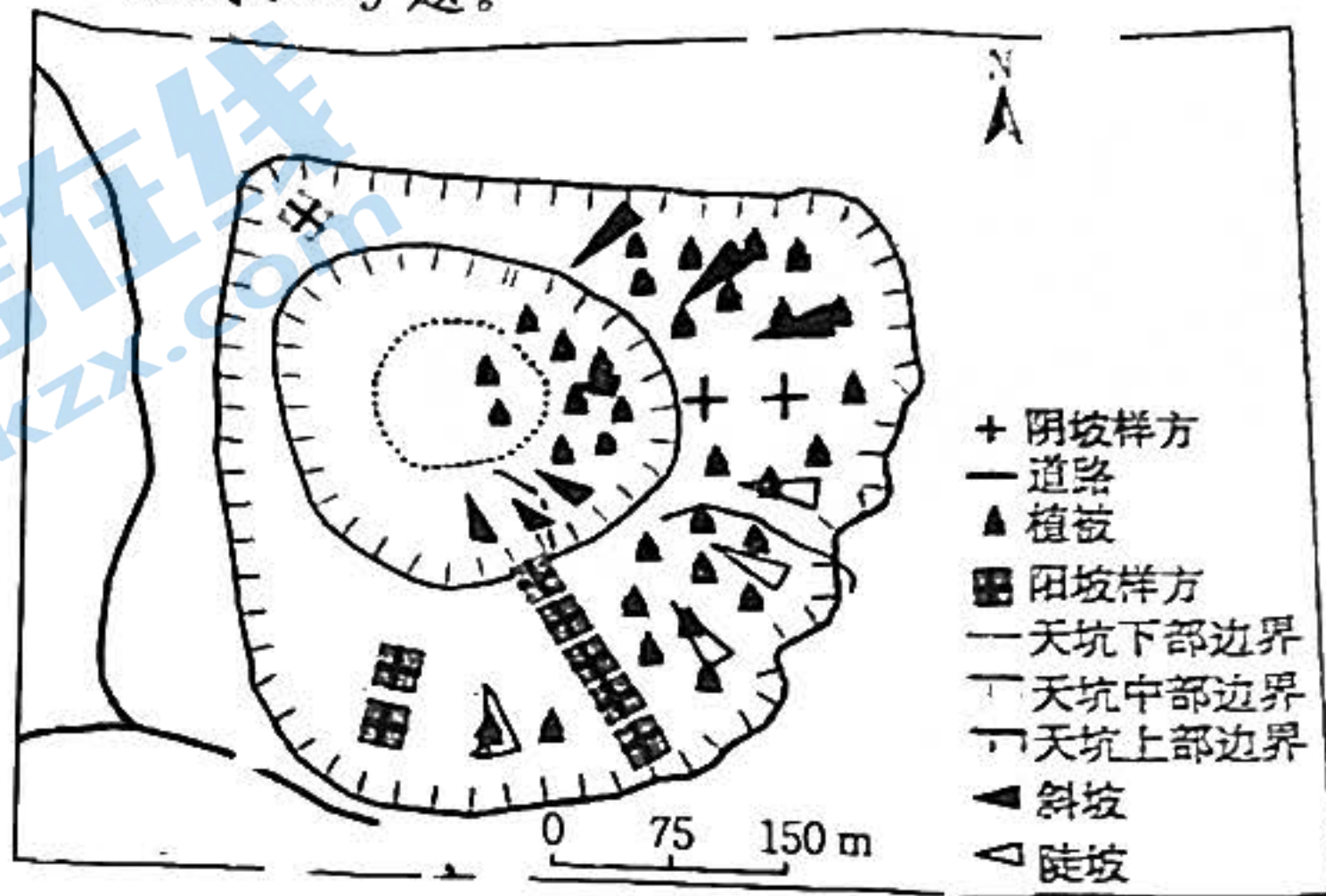
- A. 土壤有机质增加
C. 土壤盐碱度上升

- B. 地下水含量增加
D. 植被覆盖率升高

6. 丙地区设有许多草方格沙障, 主要目的是

- ①削弱风力 ②减少风沙 ③营造景观 ④减少降水量
A. ①② B. ①③ C. ②③ D. ②④

沾益天坑群位于云南省曲靖市沾益海峰自然保护区, 深陷塘天坑是沾益天坑群中规模最大的天坑, 坑深约 148.7 m, 围闭陡峭的岩壁将其与外界环境隔离, 使其类似一个典型的“陆岛”。其南侧为倒石坡, 北侧为陡石坡坑壁, 东侧为由岩石崩塌形成的较小的倒石堆, 西侧为垂直坑壁。围闭化的负地形使坑内形成了与坑外异质性较大的局部微气候, 生境差异较大。下图为深陷塘天坑样方示意图。据此完成 7~9 题。



7. 坑内倒石堆的主要成因是

- A. 坑内地势低洼, 雨季泥沙大量汇入
C. 坑内地下水丰富, 流水溶蚀作用强

- B. 坑内植物丰富, 岩石生物风化严重
D. 坑壁发生崩塌, 崩落物沿坑壁堆积

8. 深陷塘天坑西侧无乔木、灌木分布的主要原因是

- A. 为垂直坑壁, 养分条件较差
C. 垂直高差大, 热量差异较大

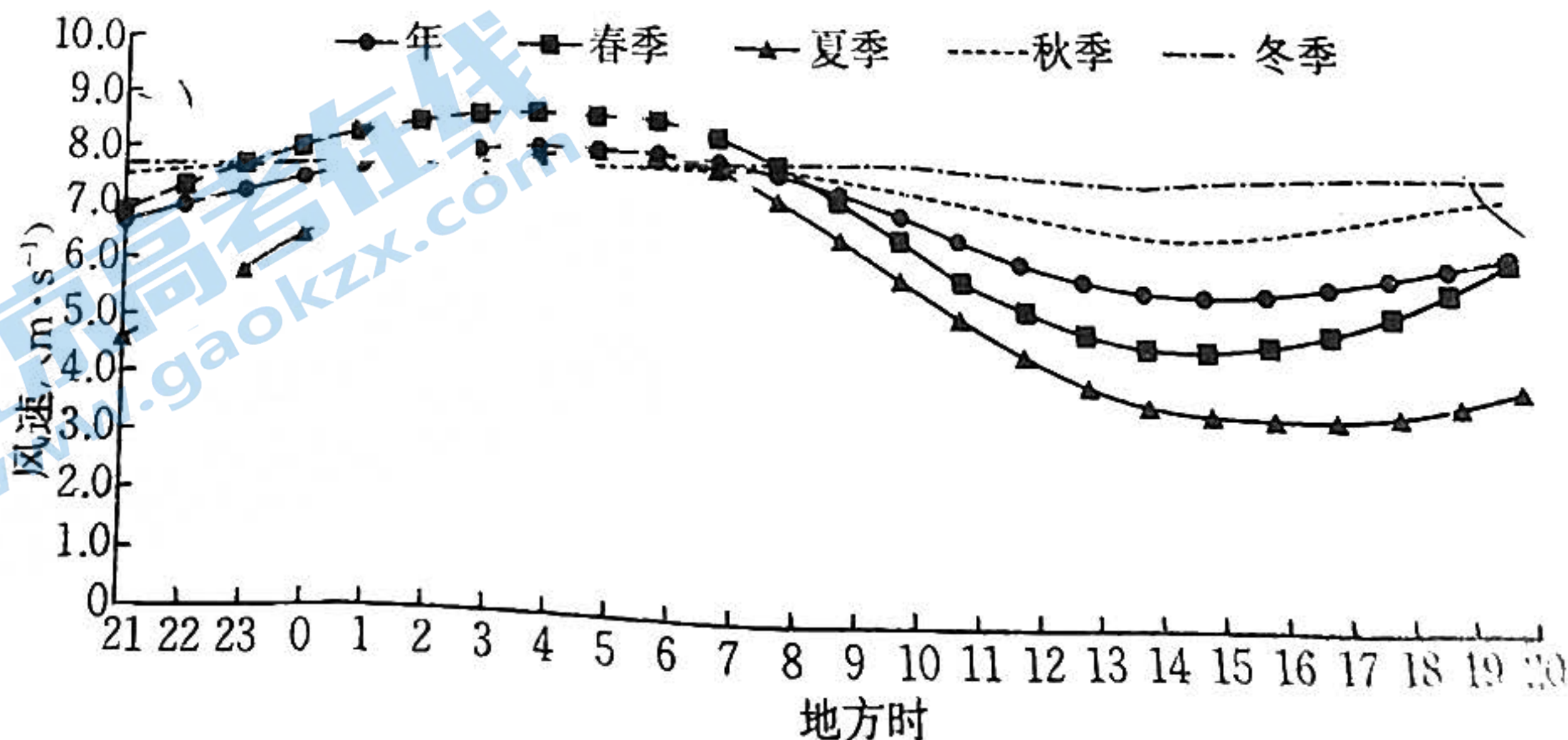
- B. 西侧光照强, 水分蒸发量大
D. 西侧面积小, 生长空间有限

9. 与天坑上部相比, 天坑下部的主要自然环境特征是

- A. 气温较低, 空气湿度较大
C. 植被复杂, 森林结构完整

- B. 土壤质层厚, 土壤有机质丰富
D. 光合作用强, 负氧离子浓度高

南极中山站位于环极地低压带南部和南极大陆地面冷高压北部之间, 常年盛行偏东。中山站具有大风多、风速大和大风时间长的特点。下图示意 1990~2020 年中山站年和时风速的日变化。据此完成 10~11 题。



10. 南极中山站定时风速日变化最显著的季节是
A. 春
11. 南极中山站冬季定时风速日变化最显著的季节是
(A) 太阳辐射量均衡,昼夜温差小
B. 气压带、风带南移,盛行西风
C. 南极高压增强,气压梯度力增大
D. 下垫面性质单一,气温日变化较小

... 秋...
... 着美,生怕果坏了卖不上价钱。近年来,该地
... 明延长了4-5个月,实行错季销售,收益

12. 某地种植寒地果,以前每年果一下树,不少家庭农场建起冷藏库存储寒地果,使水果价格大幅上涨。下列对此理解正确的是
①供求变化直接影响商品的价格
②发展农业生产应遵循价值规律
③价格波动是由价值变动引起的
④错季销售是果农增收的根本原因
A. ①②
B. ①③
C. ②④
D. ③④

13. 实施乡村振兴战略五年多来,我国农产品加工转化率达到70.6%,农产品加工产值与农业总产值的比值提高到2.5;全国休闲农庄、观光农园等休闲农业经营主体达到30多万家,年营业收入超过7000亿元;各类涉农电商超过3万家,直播带货等新业态不断涌现。这说明
①农村生产关系日益完善
②农业产业融合发展加快
③农村消费潜力不断释放
④农民增收途径日益多元化
A. ①②
B. ①③
C. ②④
D. ③④

14. 长期以来,专利要价高、合作谈不拢、企业对成果信心不足等问题是阻碍高校科技成果转化
的难点。2022年11月,北京推出科技成果“先使用后付费”改革试点,鼓励高校院所通过许
可方式转化科技成果,授权中小微企业先行使用,并引入担保机制,约定后续收益。该探索
的预期目标是
①形成合理有序分配格局,促进社会公平
②完善分配机制,增加科研人员劳动收入
③激活知识产权价值,打造创新发展新引擎
④促使更多科技成果转化为现实生产力
A. ①②
B. ①④
C. ②③
D. ③④

15. 2022年8月,国务院印发《关于取消和调整一批罚款事项的决定》,取消和调整了与企业利
群众生产生活密切的公安、交通运输、市场监管领域行政法规和部门规章设定的53个罚
事项。下列选项中正确表达了上述举措达成目的的传导过程的是
①实施科学的宏观调控→切实推进“放管服”改革→进一步优化营商环境
②优化营商环境→发挥政府配置资源的决定性作用→培养有活力的市场主体
③推进“放管服”改革→营造高质量发展的环境→发挥实体经济主导作用

- ④取消和减少审批事项，切实减轻企业和群众负担，增强人民群众获得感
D. ②④
16. 截至2023年11月，全国人大常委会修订了《中华人民共和国立法法》，修改立法法立法联系点的意义在于
A. ①②
B. ②③
C. ③④
D. ①④
17. 2022年8月以来，国务院第九次大督查依次推开，督查组深入19个省（区、市）进行实地督查，一些人民群众和市场主体反映强烈的问题引发关注。大督查透过问题线索，锚定难点堵点，督促各方面切实扛起责任，确保各项决策部署落实到位。这体现了
①我国加快推进法治政府建设
②我国人民民主是最管用的民主
③政府坚持求真务实的工作方法
④我国建立起全面的行政监督体系
A. ①②
B. ①③
C. ②④
D. ③④
18. 2022年11月，国家主席习近平出席二十国集团领导人第十七次峰会并发表演讲强调，二十国集团成员要推动更加包容、更加普惠、更有韧性的全球发展。坚决反对将粮食、能源问题政治化、工具化、武器化，撤销单边制裁措施，取消对相关科技合作的限制。这说明
①中国在国际事务中的影响力和话语权日益增强
②中国践行人类命运共同体理念，增进全人类福祉
③维护国家间的共同利益是我国外交政策的出发点
④中国推动建设相互尊重、公平正义的新型国际关系
A. ①②
B. ①③
C. ②④
D. ③④
19. 一首《早安隆回》的歌曲凭借让人“上头”的旋律和直白纯粹的歌词，通过网络平台的裂变传播从卡塔尔世界杯一路火到2023年，在突破200亿次播放量的同时，也带火了湖南隆回这座县城。隆回以此为契机挖掘当地深厚的文化底蕴，在“音乐+文旅+产业+政策”等层面上推动隆回文化旅游和产业发展。由此可见
①文化对经济社会发展有重要影响
②大众传媒具有文化传递、创造的功能
③中华文化既是民族的又是世界的
④中国人民是具有伟大团结精神的人
A. ①③
B. ①④
C. ②③
D. ②④
20. 一个地名就是一幅风情画卷，每一个地名的背后，都是一首血脉传承的歌，它能让我中国。老地名让今天的人们有了触摸历史上多彩自然、文化现象的渠道，那或长或短中蕴藏的正是“何以中国”的密码。下列对此解读正确的是
①地名文化是民族文化的集中展示
②地名文化是增进文化认同的载体
③地名文化是中华民族文化的灵魂
④地名浓缩历史，承载了一方百姓的乡土情怀
A. ①③
B. ①④
C. ②③

21. 2022年6月,由中国科学家领衔发起的“海洋负排放国际大科学计划”正式纳入“联合国海洋科学促进可持续发展十年”行动计划。该计划汇聚了来自33个国家的78家科研院所教育优秀科学家,大家通过学科交叉,协同攻关海洋碳汇这一跨学科的国际性难题。学

- ①重视各学科间的有机协调性
- ②立足整体,运用了综合思维方法

- ②旨在通过整体发展带动各学科发展
- ④实现了系统中各要素功能的最大化

22. 党的二十大报告指出,新时代的变革是“伟大变革”,是在解决党内突出矛盾中实现的,是在解决经济社会发展突出矛盾中实现的,是在应对外部风险挑战中实现的。这说明

- ①矛盾发展的不同阶段各有其特殊性
- ②解决矛盾应坚持具体问题具体分析
- ③矛盾双方既对立又统一推动事物发展
- ④矛盾是推动事物变化发展的根本动力

- C. ②③
- D. ③④

23. 中共中央总书记、国家主席、中央军委主席习近平在2023年新年贺词中指出,今天的中国,是梦想接连实现的中国。神舟十三号、十四号、十五号接力腾飞,中国空间站全面建成,我们的“太空之家”遨游苍穹。首架C919大飞机正式交付,白鹤滩水电站全面投产……这一切,凝结着无数人的辛勤付出和汗水。点点星火,汇聚成炬,这就是中国力量!这告诉我们

- ①价值判断和价值选择具有社会历史性特征
- ②人民群众是创造历史的社会主体和真正的英雄
- ③人民群众的劳动是人类社会存在和发展的基础
- ④人民群众具有无限的创造力,是创造物质财富的源泉

- A. ①③
- B. ①④
- C. ②③
- D. ②④

24. 西周、春秋时期,中原地区盛行休耕制,或种一年休一年,或种一年休两年。到战国时期,土地肥沃的地区已经采用连作制,甚至可以做到一年两熟。由此可见,战国时期

- A. 铁犁牛耕普及全国
- B. 土地所有制发生剧变
- C. 小农经济开始产生
- D. 农业耕作趋于精细化

25. 西汉时期,尚书仅是九卿少府的属官,“掌通章奏而已”,地位较低。东汉建立后,尚书演变为尚书台,三公和大将军只有经过皇帝恩准,加“录尚书事”头衔,方可参与中枢决策,否则也只能“备员而已”。这表明汉代

- A. 中枢机构发生异化
- B. 中央集权不断强化
- C. 行政体制分权成熟
- D. 宰相地位日趋下降

26. 南宋时期,朱熹编订《朱子家礼》时没有按照北宋“二程”多依古礼的思路,而是依照从众从俗的原则来修改古礼中很难用于现实的制度和器物,如将婚礼的六礼简化为三礼。这一做法

- A. 确立了理学的官方哲学地位
- B. 侧重于内心修养和反省
- C. 反映了三教合一的历史潮流
- D. 有利于扩大儒学的影响

27. 下表所示为乾隆十四年(1749年)山东半岛与南方诸省部分商船贸易统计情况。由此可知当时

商船类型	起航地	目的地	运商品
南下商船	胶州	江南	青豆、白豆、绿豆、柿饼
北上商船	胶州	胶州	豆、豆油、猪、柴草、红枣
	厦门	胶州	苏木、碗、糖
	福建同安	胶州	糖、茶、粗碗
	江南	胶州	纸货

区域经济特色较为鲜明
农产品商品化程度提高

28. 1844年12月，一英国商船对华走私大米320担。走私的外商，其货物应全部没收，取消在华贸易资格，驱逐出境。但在当时英国驻华领事的规定：涉嫌中英《五口通商附粘善后条款》规定：涉嫌
- A. 海外贸易有所发展
 - B. 英国企图通过走私扭转贸易逆差
 - C. 运河商业贸易繁荣
 - D. 列强严重破坏中国的关税自主权

29. 在20世纪二三十年代的中国文化论战中，文化学家陈序经提出全盘西化论，他认为文化是一个整体，主张“要格外努力去采纳西洋的文化，诚心诚意地全盘接受它”，并指出“在今日，西洋文化就是世界文化”。
- A. 清朝闭关政策遭到列强的抵制
 - B. 否定文化应有的民族性
 - C. 中国对外交涉呈现殖民化倾向
 - D. 以时代性改造传统文化

30. 下表为1913年、1930年中国纱线产量及消费量统计表。据此可知，这一期间我国

	1913年		1930年	
	数量(磅)	占比(%)	数量(磅)	占比(%)
本国纱线产额	200 000 000	35.84	939 766 978	97.65
进口纱线额	358 000 000	64.16	22 616 000	2.35
力织机消费量	15 000 000	2.69	206 913 532	21.54
手织机消费量	543 000 000	97.31	753 786 204	78.46

- A. 民族纺织业发展缓慢
 - B. 纺织业进口依赖度高
 - C. 纺织业机器化程度低
 - D. 纺织业纺织分离加剧
31. 改革开放后，中国的基层社会治理经历了从以计划经济为基础的“政社同构”的总体性治理体系向“政社分离”的基层群众自治制度的转变。这一转变的主要原因是
- A. 社会主义制度的基本建立
 - B. 国家治理体系不断现代化
 - C. 基层民主制度的不断发展
 - D. 社会主义经济体制的转型

32. 《十二铜表法》第六表第3条有一个规则，即对土地的取得时效和追夺担保是2年，对其他物的取得时效是1年。《优士丁尼·法学阶梯》规定“任何人不滥用自己的物乃利益之所在。”据此可知，罗马法
- A. 以关注公共利益为主
 - B. 维护统治阶级的利益
 - C. 注重道德意识的培养
 - D. 对私人权益有所限制

33. 马丁·路德认为“自然界不是此岸可诅咒的东西，而是上帝的杰作，是人应该关注的对象”。加尔文宣称“自然科学实际上不受神学规范的束缚，甚至鼓励对自然界作出科学的研究”。据此可知

- A. 自然科学冲破了神学的束缚
- C. 新教教派鼓励自然科学研究

- B. 新教呈现宽容理性的一面
- D. 自然科学与新教相互促进

34. 工业革命时期，英国出现了环境恶劣、住房奇缺、公共空间匮乏等“城市病”。19世纪30年代的霍乱疫情最终使英国政府逐渐放弃自由放任的城市治理政策，以1848年《公共卫生法》的颁布为标志，英国开始干预城市发展，进入以公共卫生为中心的城市规划阶段。这说明当时英国

- A. 疫病流行阻碍了工业化进程
- C. 以干预主义应对城市化问题

- B. “城市病”催生城市治理新模式
- D. 开始放弃自由放任的经济政策

35. 下图所示为20世纪70年代初的一幅苏联漫画《强大的侵略后坐力》，图中左侧俄文的意思分别为“通货膨胀”“衰退”“高价格”。该漫画意在讽刺美国



- A. 与苏联的争霸付出了惨重代价
- C. 侵略战争加剧了国内经济危机

- B. 霸权主义遭到强有力的挑战
- D. 主导的货币体系正走向崩溃

第 II 卷 (非选择题 共 160 分)

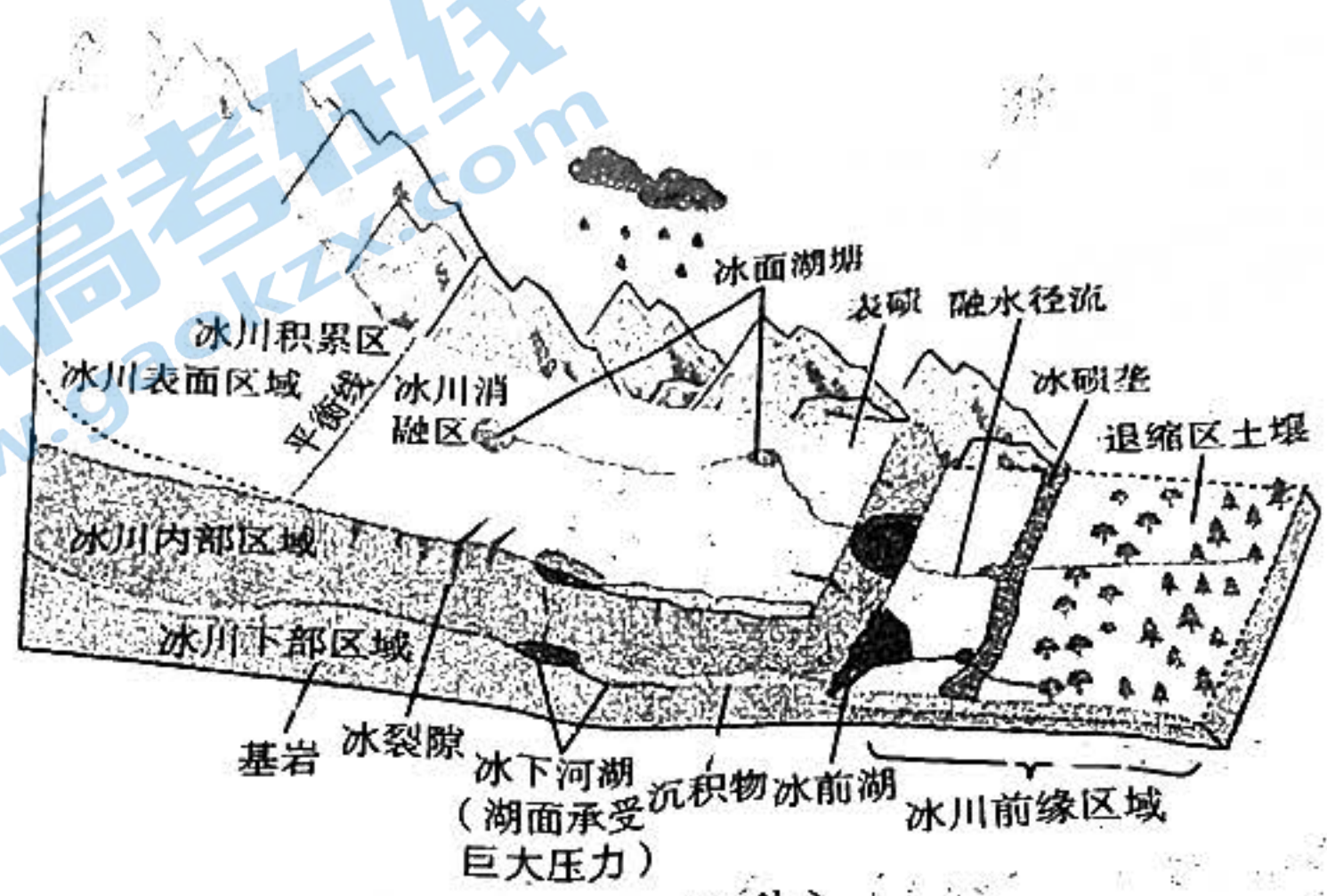
本卷包括必考题和选考题两部分。第 36 题~第 42 题为必考题，每个试题考生都必须作答。第 43 题~第 47 题为选考题，考生根据要求作答。

36. 阅读图文材料，完成下列要求。(24 分)

深圳龙岗数字创意产业走廊依托五和路、布澜路、龙岗大道等重要干道，自西南向东北绵延，全长 46 km，串联了星河 World、天安云谷、甘坑客家小镇、深港国际中心、大运软件小镇等 33 个文化科技类园区和 155 家以上的文化企业。当地以创建国家级文化产业示范园区为契机，结合各片区比较优势，加快推动数字创意产业从“要素集聚、企业集聚”的特色园区，升级为“功能整合、核心带动”的创意走廊。下图示意龙岗数字创意产业走廊。



(1) 简述龙川廊可持... (2) 说出龙川廊可持... (3) 请从... (4) 分析... 冰川按照规模和形态分为山地冰川和大陆冰盖。其覆盖地球表面约 10% 的面积。山地冰川生态系统可划分为四个生态区域：冰川表面区域、冰川内部区域、冰川下部区域和冰川前缘区域。四个生态区域在太阳辐射、水分含量、营养物质含量等方面存在较大差异，因此栖息其中的微生物群落在组成、多样性和功能方面具有一定差异。下图为山地冰川生态系统示意图。



- (1) 指出冰川表面区域包含的水循环环节。(4分)
- (2) 比较冰面湖与冰下湖的不同水温特征，并说明理由。(8分)
- (3) 分析冰碛垄的形成过程。(4分)
- (4) 说出山地冰川四个生态区域中生物群落最丰富的区域，并分析原因。(6分)

18. 阅读材料，完成下列要求。(14分)

“中国轻纺城”是全国首个被冠以“中国”的轻纺专业市场。2010年前后，当地政府下决心把印染的环保“短板”补上，推动印染集聚、设备换代，加快工艺流程再造。如今，该地印染企业在智能化技术改造方面的投入每年都在4亿元以上，工业创意设计基地内集聚与纺织时尚、创意、设计相关的机构149家；轻纺城内集聚了1.2万家市场经营户，从聚酯纤维、化纤原料，到织造、染整，再到服装、家纺和轻纺市场等应有尽有；印染企业以新材料为突破口，将原创设计和绿色环保融入产品。越来越多的企业“想客户所想，急客户所急”，与国际最顶尖的、最前沿的面料同台竞技，打造自己的品牌。“中国轻纺城”大力推进“数字轻纺城”和“数字物流港”建设，做好跨境电商和市场采购贸易方式两大试点，深化“一带一路”、RCEP贸易通道，开办“外商集市展”“代参展”等市场年成交额从1992年的16.9亿元，2021年的304.56亿元，成为亚洲最大的布匹专业市场和世界最大的纺织贸易市场。

结合材料，运用经济生活知识，分析“中国轻纺城”的发展壮大之路。

地深入乡村建设“新型社区便民服务设施”“城乡结合部”“服务圈”。截至2021年底,全省在城乡结合部、城乡结合部、城乡结合部,完善各类基础设施1131个,优化公共服务。

部实际,组织建立了“社区党组织+小区党支部+楼栋党小组”“社区党组织+区域单位党组织”体系,并坚持党领导一切,以党建引领基层治理体系,把党组织“神经”延伸到社区自治组织和社会组织治理体系,有了坚强的“主心骨”。

市、县、乡、村四级党组织,区域性综合党组织和社会组织治理体系,把党组织“神经”延伸到社区自治组织和社会组织治理体系,有了坚强的“主心骨”。

革命和建设中出现的新问题新挑战,我们党创造性地提出“枪杆子里出政权”“农村包围城市”“支部建在连上”“以俄为师”到“以苏为鉴”,打破了对其他国家现代化模式的路径依赖,走上了独立自主的社会主义现代化道路;改革开放以后,我们党坚持“走自己的道路”,成功开创了中国特色社会主义;党的十八大以来,面对世界百年未有之大变局,我们党在“四位一体”基础上统筹推进“五位一体”总体布局,协调推进“四个全面”战略布局,开创了全面建设社会主义现代化的强国之路……我们党坚持培元固本和守正创新相统一,创立了毛泽东思想、邓小平理论,形成了“三个代表”重要思想、科学发展观、习近平新时代中国特色社会主义思想,为党和人民事业发展提供了科学理论指导。

和谐、善治、立德修身、家国一体、追求中和、崇尚整体、实事求是、守正创新等中华优秀传统文化的精髓,已经成为当代中国治国理政、安邦济世的思想资源,儒家所勾勒的大同、小康等理想为共产主义远大理想提供了源头活水……党的二十大报告指出,坚持和发展马克思主义,必须同中华优秀传统文化相结合。

(1)结合材料,运用追求和发展真理的相关知识,说明党是如何以真理的精神追求真理的。

(12分)

(2)结合材料,运用文化生活知识,说明党坚持和发展马克思主义的做法对建设社会主义文化强国的启示。(10分)

(3)创新是青年与生俱来的品质。请你就新时代青年学生如何创新提两条合理化建议。(4分)

41. 阅读材料,完成下列要求。(25分)

材料一

市舶司(使)是唐、宋、元、明时期在对外贸易港口设立的办事机构。唐代采取鼓励海外贸易的政策,对蕃商优礼相待,“常加存问”,对输入的蕃货“不得重加率税”,十分注意政治影响。宋代市舶司基本沿袭唐制,但较唐代略为完善,其管理职能较近代海关更广。元代仍用唐宋旧制,但管理制度更为周密,制定并完善了包括市舶原则、征收关税、市舶刑罚以及事官营海外贸易等一系列制度。明朝初期,朝廷把发展海外贸易限制在贡舶范围内,对诸国朝贡的货物不予征税。随“贡品”带来的贸易货物实行高价收买的“给价收买”制度。

贸易、海外
料

到隆庆时期，已默许私人下海

摘编自关锐石《市舶原则与关税制度》

改设贸易管理官员，但因海关官员经常勾结外商贪污受
的混乱，海关税收制度混乱不堪。在太平天国起义的冲击
由“通商”的“外国分子和中国官员联合起来”共同管理海关。
由上海海关组织协定，由三国领事馆各出一名人员联合
管理权从此逐步落入外人之手。

摘编自蒋清宏《中国近代海关行政制度研究(1854—1869)》

材料三

新中国成立之前，中国海关长期由来自英、美等国的外国人担任高级行政长官，称为外
籍税务司制度。1949年10月25日，中央人民政府委员会成立了海关总署，统一掌管全国
一切海关事宜，结束了洋人控制海关的历史。根据当时的国际环境，中国海关实行以高关税
为特征的贸易统制政策，强调“进严出宽”，进出口总额不断攀升，1956年，中国实现了贸易
顺差。

——摘编自姜万锁《中国海关治理七十年：历程、经验及展望》

- (1) 根据材料一并结合所学知识，概括中国古代市舶制度的特点及其成因。(12分)
- (2) 根据材料二并结合所学知识，说明19世纪50年代清政府建立新海关制度的背景。(6分)
- (3) 根据上述材料并结合所学知识，谈谈你对中国海关制度演变的认识。(7分)

42. 阅读材料，完成下列要求。(12分)

材料

从“个性解放”“自由平等”“天赋人权”等民主观念与“议会制度”“君主立宪制度”“民主
共和制度”等民主制度之间关系的角度去考察各国的民主化进程，世界各国的民主化路径无
外乎以下两条：

一是由于社会内部自身的自然发展逐渐引起人们在观念上随之而自然地发生“民主性”
变化，尔后通过一定的途径把这种新形成的民主观念逐渐转化为现实的民主制度并与时俱
进地不断巩固和完善这种制度，即以民主观念为起点的民主化模式。

二是由于外来的而非本社会或政治体系本身自发生成的因素而促使政治体系首先发生
转变即架构基本的民主制度，尔后通过各种途径和方式使置身此制度下的人们的观念逐渐
“民主化”以使其最终适合并支撑改变后的民主政治体系，进而在此基础上使这种新的民主
政治体系得到进一步的巩固和完善，即以民主制度为起点的民主化模式。

——摘编自伍柳氏《民主化模式与中国政治民主化路径选择》

结合世界近现代史的相关知识，选择其中一个国家，就其民主制度的模式展开论述。
(要求：指明该国家民主化的类型，结合相关史实展开论述，史实准确，逻辑清晰。)

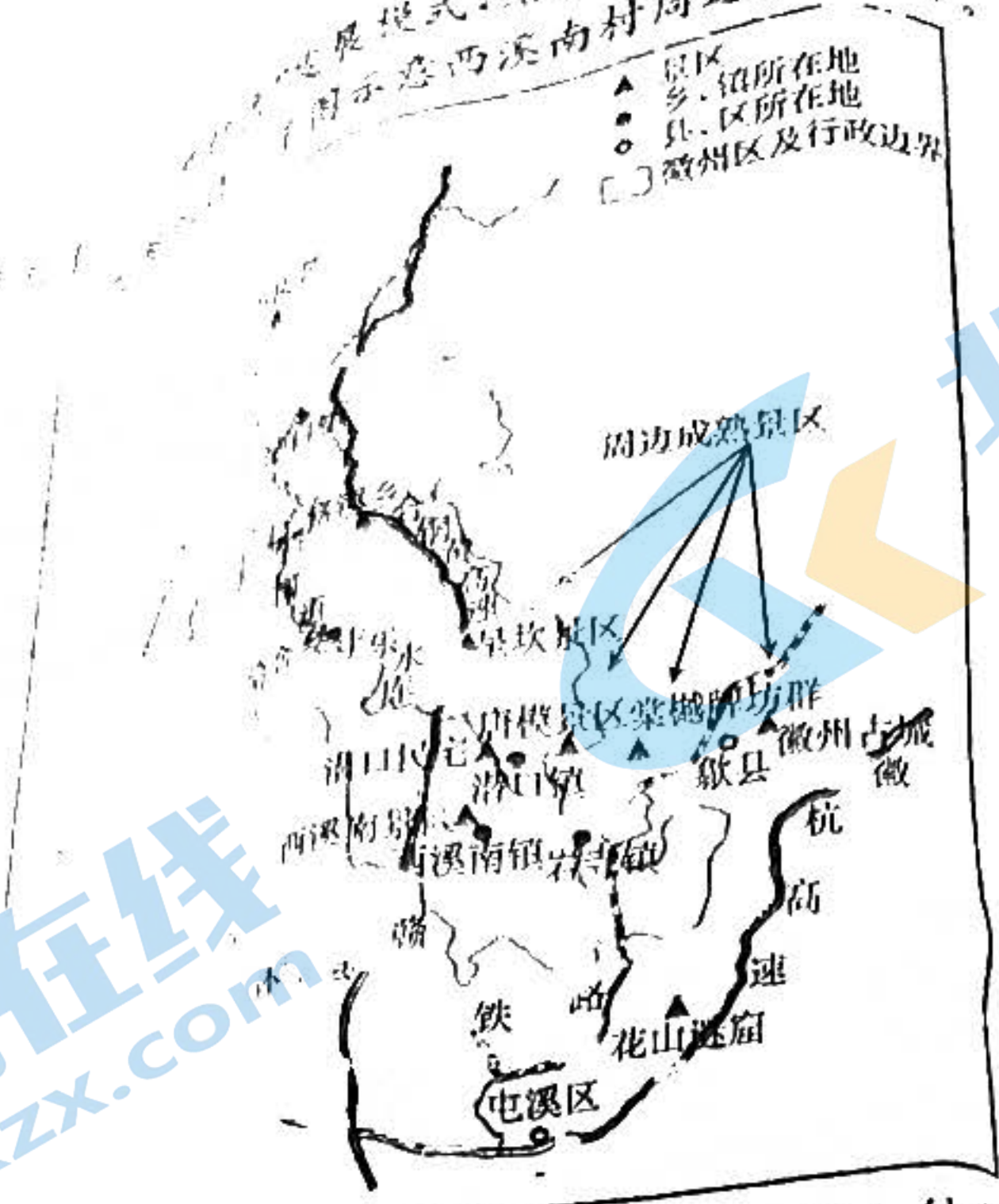
请考生从2道地理选考题、3道历史选考题中每科任选一题作答。如果多做，则每科按所

做的第一题计分。

43. [地理——选修3：旅游地理](10分)

西溪南村位于安徽省黄山市腹地、徽州区西郊，地处新安江支流丰乐河南岸，又名丰田、
溪南。该地交通便利，接近黄山北高铁站。西溪南村历史悠久，文化遗产十分丰富。

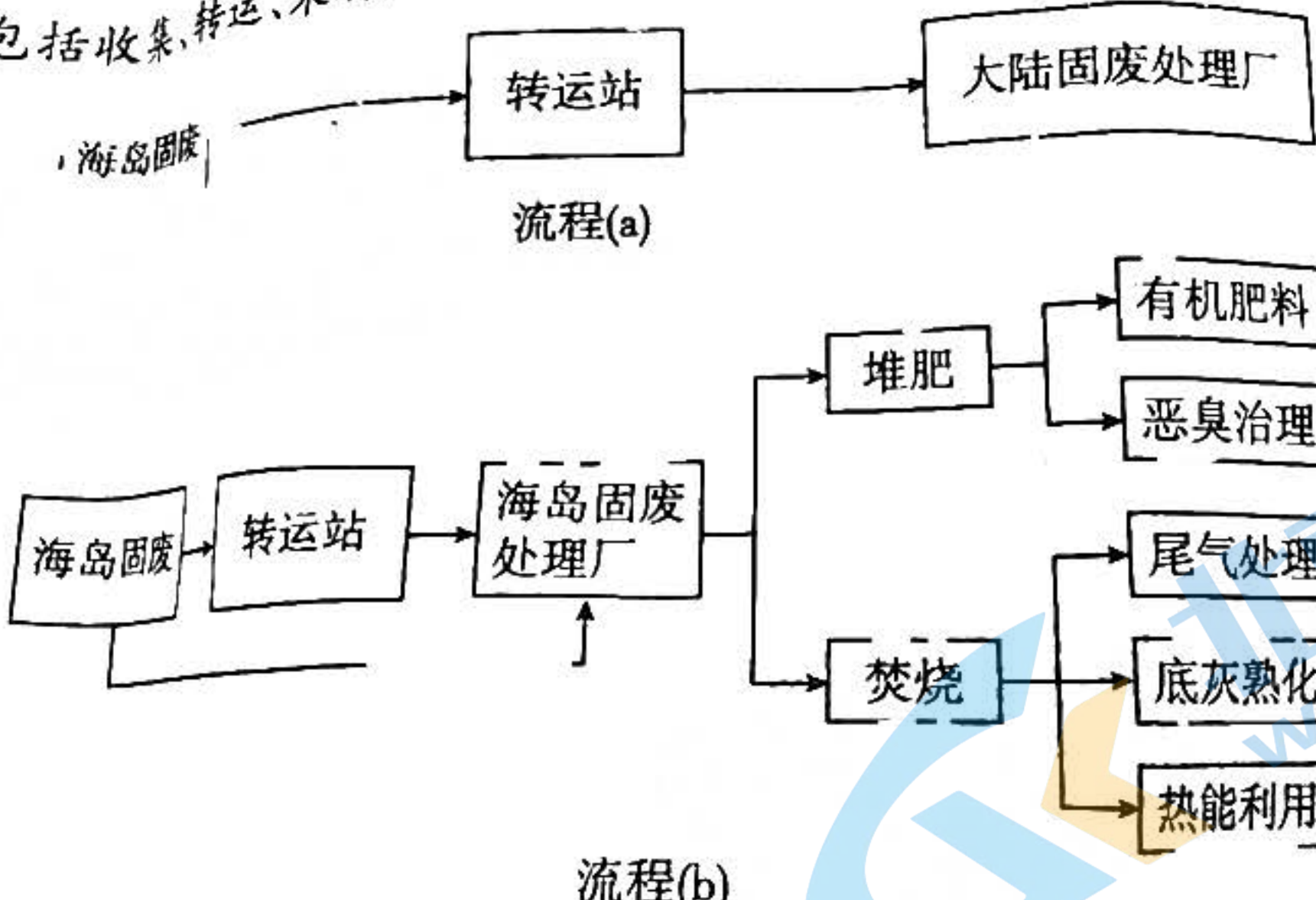
发展模式,结合独有的丰乐河原生与牧场景观,图示意西溪南村周边景区分布。



说明西溪南村摒弃原有的“门票经济”发展模式,走“文创+休闲”发展路径的原因。

44. [地理——选修6:环境保护](10分)

近年来,随着人口增长,产业经济发展、生活水平改善,海岛固体废弃物(以下简称“固废”)大幅增加。一般而言,海岛产业以种植业、养殖业和旅游业为主。下图示意海岛固废一般处理方法(包括收集、转运、末端处理等环节)。



分析目前海岛固废处理过程中面临的困难。

45. [历史——选修1:历史上重大改革回眸](15分)

材料

前秦是氏族建立的国家。前秦建国之初,氏族显贵盘踞要津,恣意妄为,“豪右纵横,劫盗充斥”。苻坚继位后,任用王猛进行改革。王猛“明法峻刑,澄察善恶,禁勒强豪”,一个月内存死氏族豪强二十余人,一时之间“百僚震肃,豪右屏气”。苻坚感叹“吾今始知天下之有法也,天子之为尊也”。对于民族关系,苻坚还提出了“黎元应抚,夷狄应和”的方针,“混六合”。

为一家，视夷狄为赤子”。符坚禁断尚清谈的玄学和讲求迷信的图谶，恢复太学和地方各级学校，强令公卿子弟入学学习儒家经学。俸禄百石以上的官吏，也要通一经一艺，否则免官为民。于是“人思劝勉，号称多士”。符坚还亲耕藉田，发豪富童仆兴修水利，减免租税。在符坚和王猛的治理下，出现了“关陇清晏，百姓丰乐”的局面。此后，前秦相继灭掉前燕、前凉等政权，统一了北方。

——摘编自王仲华《魏晋南北朝史》

(1)根据材料并结合所学知识，概括前秦符坚改革的背景和内容。(9分)

(2)根据材料并结合所学知识，简析前秦符坚改革的意义。(6分)

6. [历史——选修3:20世纪的战争与和平](15分)

材料

20世纪30年代，随着经济危机爆发，德、意两国法西斯化和国际局势的日趋紧张，英国群众厌战、追求和平的呼声更加高涨。和平主义运动的发展极大地影响了英国的对外战略，英国的许多精英人士本身就是和平主义者，自由党和工党都制定了和平主义的外交总路线。在和平主义思潮日益高涨的背景下，执政党的任何增强国家军事力量的措施都会因受到反对党和和平主义者的批评而流产。1935年英国大选，在国际局势发生巨变的背景下，工党仍然以反战为口号。和平主义者的惯性战略思维使得英国用重整军备的手段来制止战争变得不可能，直到二战爆发，和平主义者的言论失去了市场。

——摘编自丁英胜《20世纪20年代的英国军事战略与对欧政策研究》

(1)根据材料并结合所学知识，概括20世纪30年代英国和平主义运动高涨的原因。(8分)

(2)根据材料并结合所学知识，分析20世纪30年代英国和平主义运动的影响。(7分)

47. [历史——选修4:中外历史人物评说](15分)

材料

郭沫若(1892—1978)，中国杰出的作家、历史学家、考古学家。郭沫若早年留学日本，从事历史学、考古学研究和文学创作。新中国成立后，郭沫若任中国史学会主席，提出史学发展六个方面的转向，突出马克思主义对史学研究的指导作用，强调对各民族历史、近代史和亚洲历史的研究。1954年，郭沫若主持创办《历史研究》，提倡历史研究要将史料与理论并重。郭沫若根据辩证唯物主义历史观，提出了“人民本位”的历史学说，主张评价历史人物时要以其历史作用为准。同时，郭沫若还重启中国古史分期问题的讨论，引发了研究一系列重要历史理论问题的热潮，新中国史学逐步发展起来。

摘编自张越《新中国史学的初建——郭沫若与中国马克思主义史学主导地位的确立》

(1)根据材料并结合所学知识，概括郭沫若对新中国史学发展的贡献。(8分)

(2)根据材料并结合所学知识，简析郭沫若取得史学发展成就的原因。(7分)

2023 届高三考试

文科综合试题参考答案

1. D 【解析】本题考查工业区位条件,同时考查学生获取和解读地理信息的能力。由材料可知,该公司采用“昆仑晶石”替代传统陶瓷生产卫浴产品,“昆仑晶石”原料独特,为方便企业就地取材,所以该公司选择在西宁部署卫浴生产线。故 D 选项正确。
2. D 【解析】本题考查工业生产对地理环境的影响,同时考查学生描述和阐释地理原理与规律的能力。“昆仑晶石”应用于卫浴生产领域对采用传统陶瓷生产卫浴产品的企业冲击大,但不会导致陶瓷企业全部倒闭;传统陶瓷应用领域广,“昆仑晶石”不可能完全替代传统陶瓷,有些传统手工陶瓷的工艺需要传承保护;“昆仑晶石”应用于卫浴生产领域,可减少资源消耗,产品性能更好,品质更好,生产过程更环保,有利于产品的推广使用。故 D 选项正确。
3. B 【解析】本题考查工业生产对企业的影响,同时考查学生论证和探讨地理问题的能力。该公司由生产单一的卫浴产品,走向全屋精装,会增加企业生产的产品种类,扩大企业的生产规模,全屋精装涉及多种产品,需要投入更多的研发资金开发产品,同时也会提高企业生产的专业化程度;由于企业产品生产种类增加,可提高企业的竞争能力,降低企业的市场风险。故 B 选项正确。
4. C 【解析】本题考查对等压线的判读,同时考查学生获取和解读地理信息的能力。丙地区等压线密集,风力较大,且盛行偏西风,受冷锋过境影响,风力强劲。故 C 选项正确。
5. C 【解析】本题考查区域生态环境问题,同时考查学生获取和解读地理信息的能力。原来的绿洲地区土壤盐碱度上升,说明土地退化,草地出现萎缩。故 C 选项正确。
6. A 【解析】本题考查区域生态环境治理,同时考查学生论证和探讨地理问题的能力。丙地区风沙较为严重,设置草方格沙障可以增加地面摩擦力,从而减弱风力,减少风沙。故 A 选项正确。
7. D 【解析】本题考查外力作用对地表形态的影响,同时考查学生获取和解读地理信息的能力。天坑岩壁由石灰岩构成,抗侵蚀能力弱,在外力侵蚀作用下,岩层易发生崩塌,岩屑沿岩壁堆积形成倒石堆。故 D 选项正确。
8. A 【解析】本题考查自然地理环境的差异性,同时考查学生描述和阐释地理事物的能力。由材料可知,深陷塘天坑西侧为垂直坑壁,难以发育土壤,且水分和养分流失快,植被难以在垂直坑壁上生存。故 A 选项正确。
9. A 【解析】本题考查地理环境的差异性,同时考查学生论证和探讨地理问题的能力。与天坑上部相比,天坑下部获得的太阳光照少,气温低,地下水丰富,空气湿度大;植被简单,多苔藓,森林结构完整性较差;天坑下部地下水丰富,流水淋溶作用强,腐殖质层薄,土壤发育较差。故 A 选项正确。
10. B 【解析】本题考查热力环流,同时考查学生获取和解读地理信息的能力。夏季,南极中山站出现极昼现象,气温升高,且普利兹湾海面海冰融化,下垫面变得复杂,使海陆温差加大,导致风向不稳定,定时风速日变化最显著。故 B 选项正确。
11. D 【解析】本题考查下垫面变化对热力环流的影响,同时考查学生描述和阐释地理问题的能力。冬季南极大陆气候寒冷,形成冰雪大陆,气温日变化较小,下垫面性质单一,且受极地气团控制,使得南极中山站冬季定时风速日变化小。故 D 选项正确。
12. A 13. C 14. D 15. B 16. C 17. A 18. C 19. A 20. D 21. B 22. D 23. C
24. D 【解析】本题考查先秦农业耕作,考查学生获取和解读材料信息、运用所学知识分析历史现象的能力。根据材料信息可知,与西周、春秋时期相比,战国时期在耕作方式、农作物熟制方面得到发展,这在一定程度上反映了农业耕作的精细化,故选 D 项;结合所学知识,战国时期,铁犁牛耕得到推广,但未普及,故排除 A 项;材料没有涉及土地所有制的变化,故排除 B 项;材料体现不出小农经济的特征,故排除 C 项。

25. A 【解析】本题考查汉代中枢机构的变化,考查学生获取和解读材料信息、运用所学知识分析历史现象的能力。根据材料信息可知,汉代,尚书的地位逐渐提高,职能扩大,三公和大将军只有“录尚书事”头衔才能参与中枢决策,这反映了中枢机构发生变化,故选 A 项;中央集权与地方分权相对,材料没有涉及地方权力,故排除 B 项;唐代三省六部制的确立标志着行政分权体制成熟,故排除 C 项;汉代,宰相地位没有下降,故排除 D 项。
26. D 【解析】本题考查南宋儒学的影响,考查学生获取和解读材料信息、运用所学知识分析历史现象的能力。根据材料信息可知,朱熹编订《朱子家礼》时依照从众从俗的原则来修改古礼,以适应社会的需要,这有利于促进儒学的世俗化,扩大儒学的影响,故选 D 项;程朱理学确立了理学的官方哲学地位,A 项说法不准确,故排除 A 项;材料没有体现《朱子家礼》侧重内心修养和反省,故排除 B 项;材料只涉及儒学,无法体现三教合一,故排除 C 项。
27. B 【解析】本题考查清代前期的区域经济,考查学生获取和解读材料信息、运用所学知识分析历史现象的能力。根据材料信息可知,乾隆时期,南下商船和北上商船载运商品的种类不同,这体现了鲜明的区域经济特色,故选 B 项;材料涉及的是国内贸易,不是海外贸易,故排除 A 项;材料没有说明这些商船走的是运河,也有可能走的是海运,故排除 C 项;仅凭材料信息,无法得出“农产品商品化程度提高”的结论,故排除 D 项。
28. C 【解析】本题考查晚清中国对外交往,考查学生获取和解读材料信息、运用所学知识分析历史现象的能力。根据材料信息可知,中英《五口通商附粘善后条款》规定,对于走私应“全部没收,取消在华贸易资格,驱除出境”,但最终清政府仅要求缴纳罚金 200 元,结合 1844 年的时代背景可知,当时中国开始沦为半殖民地半封建社会,这一时期我国在对外交涉中呈现出殖民化倾向,故选 C 项;当时中国的闭关政策已取消,故排除 A 项;英国走私大米、茶叶与贸易逆差无关,故排除 B 项;材料中对英国走私活动的处罚涉及的是中国的司法主权,不是关税自主权,故排除 D 项。
29. A 【解析】本题考查近代中国思想,考查学生获取和解读材料信息、运用所学知识分析历史现象的能力。根据材料信息可知,陈序经的全盘西化论是主张将西方文化作为整体去接受,并强调“西洋文化就是世界文化”,他实际上是主张用世界文化取代中国传统文化,尽管失于片面、偏激,但出发点是学习西方以救亡图存,故选 A 项;强调西洋文化是世界文化并不意味着否定文化的民族性,故排除 B 项;陈序经全盘西化论有对传统文化全盘否定的意思,但不是其根本宗旨,故排除 C 项;陈序经主张全盘接受西方文化,但没有强调改造传统文化,故排除 D 项。
30. C 【解析】本题考查近代中国纺织业,考查学生获取和解读材料信息、运用所学知识分析历史现象的能力。根据材料信息可知,手织机消费量占比较大,说明中国纺织业机器化程度仍然较低,故选 C 项;本国纱线产额增幅明显,进口纱线额下降幅度大,说明这一时期民族纺织业发展速度较快,故排除 A 项;本国纱线产额占比较大,说明中国纺织业自给率较高,对进口依赖较弱,故排除 B 项;从材料中看不出纺织分离加剧,故排除 D 项。
31. D 【解析】本题考查新时期中国的政治制度,考查学生获取和解读材料信息、运用所学知识分析历史现象的能力。结合所学知识可知,计划经济体制下农村基层管理形成了人民公社体制,公社下是生产队,人民公社既是行政管理单位,又是生产单位,政企不分,管理权高度集中,形成了国家行政权力对社会基层强有力支配的管理体制;改革开放后,逐步废除了人民公社体制,国家不断发展和完善基层民主,发展和完善基层群众自治制度,形成了基层治理新模式。因此,改革开放后,国家基层治理模式转变的主要原因是国家经济体制的转型,故选 D 项;A、B、C 三项均不是主要原因,故排除。
32. D 【解析】本题考查罗马法,考查学生获取和解读材料信息、运用所学知识分析历史现象的能力。根据材料信息可知,《十二铜表法》对土地和其他物的取得时效作了时间规定,《优士丁尼·法学阶梯》规定自己的物不能损害公共利益,这说明罗马法对私人权益有所限制,故选 D 项;A 项是对材料的过度解读,故排除 A 项;材料体现不出罗马法维护奴隶主贵族的利益,故排除 B 项;《十二铜表法》的这一规定体现不出公民的道德意识,故排除 C 项。
33. B 【解析】本题考查宗教改革,考查学生获取和解读材料信息、运用所学知识分析历史现象的能力。根据材

料信息可知,马丁·路德认为自然界是人应该关注的对象,加尔文鼓励对自然界进行科学研究,都体现了理性主义,故选B项;当时自然科学仍受到神学的束缚,故排除A项;马丁·路德的观点体现不出新教鼓励自然科学研究,故排除C项;材料没有阐述自然科学与新教相互促进的关系,故排除D项。

31. B **【解析】**本题考查工业革命时期的城市治理,考查学生获取和解读材料信息、运用所学知识分析历史现象的能力。根据材料信息可知,英国干预城市发展、对城市发展进行规划是源于城市化过程中一系列问题即“城市病”的出现,故选B项;结合所学知识,工业化导致了疫病流行,疫病流行无法遏制工业化,故排除A项;干预城市发展并不等于全面干预经济,也不等于放弃自由放任的经济政策,故排除C、D两项。

35. C **【解析】**本题考查美国对外战争与经济危机,考查学生获取和解读材料信息、运用所学知识分析历史现象的能力。根据材料信息并结合所学知识可知,20世纪70年代初,美国对外发动的战争,如越南战争,加剧了国内以“通货膨胀”“衰退”“高价格”为表现的经济危机,故选C项;“侵略”不是指美苏对抗,故排除A项;漫画没有体现其他国家对美国霸权主义的反击,故排除B项;漫画讽刺的是美国侵略战争对国内经济的影响,美国主导的货币体系(布雷顿森林体系)的崩溃与漫画主旨不符,故排除D项。

36. (1)产业基础较好,形成了较为完整的产业链;园区分布密集;政策扶持;文化氛围浓厚。(答出三点,6分)

(2)文化+科技;文化+金融;文化+贸易;文化+旅游。(答出两点,4分)

(3)①强化区域协同:围绕数字创意产业价值链上下游推动与周边城区的合作;充分发挥走廊在产业空间、土地租金等方面的优势,通过重大平台的搭建,吸引周边城市的数字创意资源向走廊集聚;举办品牌性数字创意活动,提高城市(区域)声誉和知名度。(6分)

[或②优化产业结构:完善产业链,补充关键缺失环节;发挥硬件生产优势,突出科技引领;重视数字内容,引进龙头企业,挖掘文化资源,激发文化创意,适应互联网传播;推动与相关产业融合。(答出三点,6分)]

(4)共用基础设施;快速感知创新需求;具有迅速采取行动的灵活性和能力;吸引技术与人才集聚;促进企业间的知识交流和扩散;推动更多企业入驻。(答出四点,8分)

【解析】本题考查区域产业发展的条件、具体的发展路径和产业发展对区域地理环境的影响,同时考查学生获取和解读地理信息、描述和阐释地理原理与规律的综合思维能力。第(1)问,考查龙岗建设数字创意产业走廊所具备的条件,从地理区位的角度看,深圳产业基础较好,政策环境优越;从图中可以看出园区分布密集、文化氛围浓厚。第(2)问,可从龙岗数字创意产业走廊布局的产业特点,分析其发展的模式。第(3)问,是开放性设问,任选一个角度分析即可。选择区域协同需要侧重合作、租金、空间等方面进行分析;选择产业结构需要从产业链、龙头企业的角度切入分析。第(4)问,考查龙岗数字创意产业走廊建成后带来的影响,可以从基础设施、知识交流、企业入驻等角度分析。

37. (1)蒸发;降水;地表径流。(答出两点,4分)

(2)冰下湖比冰面湖水温高,湖水温度变化较小。(4分)

理由:来自地球深处的热力使冰下湖的温度升高,进而使湖水维持液态;厚重冰层形成巨大压力,使水的凝固点下降;厚实的冰层使湖水与地表空气隔离,阻挡了湖水与大气之间的热量交换,湖水温度变化小。(答出两点,4分)

(3)夏季气温升高,山地冰川融化或崩塌,冰川侵蚀和刨蚀作用增强;冰川融水和冰川崩塌挟带的碎屑物质在地势较平坦处堆积,冰碛物经长期堆积,不断增宽增厚,形成垄状。(4分)

(4)冰川前缘区域。(2分) 原因:冰川前缘区域与冰上、冰下河湖连通,冰川中储存的有机物可以通过水循环在此区域汇集,土壤肥沃;海拔较低,热量条件较好;水分条件好,植被丰富。(答出两点,4分)

【解析】本题考查冰川表面区域包含的水循环环节、冰下湖与冰面湖的水温差异、冰碛垄的成因,以及冰川前缘区域的自然环境特征,同时考查学生获取和解读地理信息、描述和阐释地理原理与规律、论证和探讨地理问题的综合思维能力。第(1)问,冰川表面区域的水循环环节,可从冰川的蒸发、固态降水对冰川的补充以及冰川在夏季融化产生的地表径流等方面思考。第(2)问,冰面湖与冰下湖的水温不同之处主要从冰下湖受地球深处热力的影响、湖面承受的的巨大压力对湖水凝固点的影响,以及表面覆盖冰川对地表空气的隔离作用等方面思考。第(3)问,可从冰川融化和冰川崩塌挟带的冰碛物,以及平坦的地形有利于冰碛物的堆积

等方面思考。第(4)问,可从冰川前缘区域的热量、土壤有机质、水分条件等方面思考。

38. 转变经济发展方式,推动传统产业转型升级;(2分)加大创新投入力度,提高自主创新能力;(3分)实现产业集群和技术升级,完善产业链供应链(或“促使产业迈向高端,提升产品附加值”“向产业链高端进军”);提高市场供给能力(或“提升产业链水平”);(3分)加强新产品和绿色产品开发,提高产品品质,增强产品竞争力;(2分)打造品牌和提升营销能力,树立良好的企业形象;(2分)运用数字技术赋能,拓展国际市场,拓宽销售渠道。(2分)

39. 党的领导是中国特色社会主义制度的最大优势。四川省坚持和加强党的全面领导,提升了基层治理的引领力;(3分)发挥党员的先锋模范作用和基层党组织的战斗堡垒作用,提升了基层社会治理效能;(3分)践行全心全意为人民服务的根本宗旨,把党的群众路线贯彻到基层社会治理之中,把人民对美好生活的向往作为奋斗目标,依靠人民治理,增强了治理的实效;(3分)坚持共建共治共享,形成基层社会治理合力,提升了基层社会治理水平。(3分)

40. (1)真理是客观的、具体的和有条件的,认识具有反复性、无限性和上升性,追求真理是一个永无止境的过程。(4分)党始终坚持“马克思主义的精髓和活的灵魂”,把马克思主义作为思想和行动的指南;(2分)结合中国实际,创造性地走出了一条适合中国国情的革命和建设道路,实现了马克思主义中国化;(3分)根据国内外形势的新变化,在实践中大胆探索、在理论上不断突破,坚持在实践中认识和发现真理,在实践中检验和发展真理,不断开辟马克思主义中国化时代化新境界。(3分)(考生如从其他角度作答,言之有理可酌情给分)

(2)①立足于中国特色社会主义伟大实践,批判吸收人类优秀文化成果,与时俱进,不断创新。(2分)②植根于本民族的文化土壤,推动中华优秀传统文化创造性转化和创新性发展。(2分)③坚持马克思主义的指导,坚守中华文化立场,坚持中国先进文化的前进方向。(3分)④坚持走中国特色社会主义文化发展道路,树立高度的文化自信。(3分)(考生如从其他角度作答,言之有理可酌情给分)

(3)答案示例:努力学习,在学习中增长知识、锤炼品格;积极实践,在实践中不断磨炼自己;敢于突破旧的思维定势、旧的常规戒律。(每条2分,答出2条即可。本问具有开放性,考生只要围绕主题作答,言之有理可酌情给分)

41. (1)特点:注重政治影响;在延续中不断完善;管理职能广泛;经济功能日益突出;主要维持朝贡贸易。(6分,答出三点即可)

成因:受朝贡体制影响,统治者追求万国来朝;小农经济占主导,海外贸易的规模相对有限;在重农抑商观念下,统治者轻视海外贸易的财政效益;统治者根据形势变化,不断调整市舶制度。(6分,答出三点即可,其他答案言之有理亦可)

(2)背景:清政府原有海关管理制度的落后;太平天国运动对上海海关管理的冲击;中外贸易交往日益密切;西方列强寻求扩大在中国的权益。(6分,答出三点即可)

(3)认识:中国古代市舶制度是专制体制和小农经济下的产物,统治者重视其政治影响而轻视其经济效益,不利于对外贸易的发展;近代由于半殖民地的性质,中国海关长期被外国人所控制,使中国利权尽失;新中国成立后,中国实现完全的独立,关税控制权从外人手中收回,海关总署的成立促进了新中国对外贸易的发展,为新中国国民经济的恢复和工业化建设创造了有利的环境。(6分)中国现代海关治理应从历史中吸取经验教训,充分发挥现代海关服务于经济建设的功能,推动海关制度不断趋时更新,探索中国特色海关治理新模式。(1分,其他答案言之有理亦可)

【解析】本题考查中国的对外贸易与海关制度,考查学生获取材料信息、运用所学知识、阐释历史事物的能力。第(1)问,第一小问,根据材料“十分注重政治影响”“宋代市舶司基本沿袭唐制,但较唐代略为完善,其管理职能较近代海关更广”“管理制度更为周密”“朝廷把发展海外贸易限制在贡舶范围内”,可以得出注重政治影响、在延续中不断完善、管理职能广泛、经济功能日益突出、维持朝贡贸易。第二小问,结合所学知识,可以从朝贡体制的影响、小农经济的主导地位、重农抑商观念的影响等方面分析。第(2)问,根据材料“海关税收制度混乱不堪”“在太平天国起义的冲击下”“英、美、法三国领事‘越俎代庖’自征自税”并结合所

学知识,可以从清政府原有海关管理制度的落后性、太平天国的冲击、中外贸易的发展、西方列强对中国关税权的侵犯等方面进行说明。第(3)问,结合所学知识,主要从中国古代、近代、新中国海关制度的性质、作用、局限性、经验教训等方面谈认识,言之有理即可。

42. 示例一

国家及类型:英国的民主化是以民主观念为起点的民主化模式。(2分)

论述:中世纪后期,随着西欧资本主义萌芽的发展,一场倡导人性自由的文艺复兴运动首先在意大利兴起,然后扩展到欧洲其他国家,使新兴资产阶级要求冲破中世纪思想枷锁、追求现世幸福的观念深入人心。16世纪,一场追求宗教信仰自由的宗教改革运动从德国兴起,其后波及英国,英国国教改革和清教徒运动兴起,将对自由的向往引入信仰领域。随着资本主义经济的进一步发展和资产阶级力量的壮大,经过文艺复兴、宗教改革洗礼的新兴资产阶级试图进一步冲破中世纪的最后一把枷锁——专制王权,在1640年英国查理一世为控制征税权召开新议会之际,英国议会提出了限制王权的要求,由此引发了英国的资产阶级革命,英国最终在一番动荡后于1689年颁布《权利法案》,建立了君主立宪制。(8分)

由此可见,英国民主化是先萌生自由平等、反对专制王权的民主观念,然后在民主观念的引领下通过革命建立民主制度,是以民主观念为起点的民主化模式。(2分)

示例二

国家及类型:日本的民主化是以民主制度为起点的民主化模式。(2分)

论述:1853年,“黑船事件”叩开了日本大门,日本主动向西方学习,最终引发日本倒幕运动和明治维新运动。明治政府派出大型使节团出访欧美考察资本主义国家制度,在“富国强兵、殖产兴业、文明开化”的口号下,经济上发展资本主义,文化教育上学习西方思想文化,政治上建立内阁,颁布《大日本帝国宪法》,确立了以天皇制为核心的君主立宪政体。二战后,又由美国主导参照西方议会制政体对日本进行民主化改造,废除了天皇专制特权,使日本变成一个以天皇为象征的资产阶级议会制国家。(8分)

由此可见,日本是在学习西方、引进西方近代民主政体的基础上开始民主化进程的,是以民主制度为出发点的民主化模式。(2分)

(“示例”仅供参考,不作为评卷唯一标准)

【解析】本题考查资本主义国家的民主制度,考查学生获取材料信息、运用所学知识、阐释历史事物、探讨历史问题的能力。本题为开放性试题,首先,仔细阅读材料,材料给出了资本主义国家的两种民主化模式,即由社会内部自身的发展引发的民主化模式(以民主观念为起点的民主化模式)、在西方文明的冲击下开始的民主化模式(以民主制度为起点的民主化模式),前一种模式以西方先发国家英、美、法等国为主,后一种模式以后发国家为主;然后,根据材料中的民主化模式,选择一个国家,如英国的民主化是以民主观念为起点的民主化模式,按照该模式的发展路径即从民主观念到民主制度,展开论述,从英国民主观念的萌生、发展,民主观念对民主制度的影响,民主制度的发展与完善等方面论述;最后,对论述部分进行总结,言之有理即可。

43. 西溪南村周边成熟景点多,对西溪南村旅游市场产生遮蔽效应,“门票经济”发展受限;走“文创·休闲”路径可以延伸旅游业产业链,增强地方经济实力;可实现乡村生产、生活、生态功能的整体提升;可盘活乡村闲置资源,激发乡村多功能发展活力;降低了单一化旅游发展路径的系统性风险,促进经济、文化功能的提升。(10分)

【解析】本题考查旅游资源开发条件的评价,同时考查学生描述和阐释地理原理与规律的能力。西溪南村旅游业摒弃“门票经济”发展模式,而走“文创+休闲”发展路径,应从周边高星级景点对其发展的制约和“文创+休闲”路径给当地旅游业发展带来的有利影响等方面思考。

44. 人口密度较小,分布分散,固废收集困难,人力成本高;废弃物回收处理基础设施不完善,回收设施资金投入大;海岛四面环海,转运过程中易造成二次污染;处理技术不成熟,造成大气污染、土壤污染和海洋污染。(答出三点,10分)

【解析】本题考查环境与环境问题,同时考查学生获取和解读地理信息、描述和阐释地理原理与规律的能力。

分析固废处理过程中面临的困难可以结合材料,从人口密度、基础设施、转运成本、处理技术等角度分析作答。海岛陆地面积狭小,所以人口密度小,分布分散,海岛固废收集困难,人力资源投入多,成本高。同时海岛废弃物回收处理基础设施建设难度大、不完善,回收设施资金投入大。海岛四面环海,设备难以运输,且转运成本高,固废的转运过程不当时易造成二次污染。总体来说,固废的末端处理技术不成熟,可能会造成环境污染。

45. (1)背景:北方分裂战乱,民族矛盾尖锐;前秦旧贵族势力强大。(4分)

内容:强化法治,打击旧贵族;实行较为平等的民族政策;兴办学校,提倡儒学;重视农业,发展生产。(5分,答出两点给4分,答出三点给5分)

(2)意义:强化了前秦的中央集权和主权;为其统一北方奠定了基础;促进了民族交融;有利于北方经济文化的发展。(6分,答出三点即可)

【解析】本题考查前秦苻坚改革,考查学生获取材料信息、运用所学知识、阐释历史事物的能力。第(1)问,第一小问,根据材料“前秦建国之初,氏族显贵盘踞要津,恣意妄为”并结合所学知识,可以得出民族矛盾尖锐、前秦旧贵族势力强大。第二问,根据材料“明法峻刑”“处死氏族豪强二十余人”“混六合为一家,视夷狄为赤子”“恢复太学和地方各级学校,强令公卿子弟入学学习儒家经学”“亲耕藉田,发豪富童仆兴修水利”等,可以得出强化法治,打击旧贵族;实行较平等的民族政策;兴办学校,提倡儒学;重视农业,发展生产。第(2)问,根据材料“出现了‘关陇清晏,百姓丰乐’的局面”“前秦相继灭掉前燕、前凉等政权,统一了北方”并结合所学知识,可以从经济发展、民族交融、北方统一、政权巩固等方面分析。

46. (1)原因:传统孤立政策的影响;一战造成的心理创伤使人们普遍反对战争、向往和平;一战后英国经济的衰退和20世纪30年代经济萧条助长了民众厌战、恐战的情绪;政治精英及政党政治的助推作用。(8分,其他答案言之有理亦可)

(2)影响:使英国政府对世界战争爆发的可能性缺乏估计,对外战略逐渐僵化;延误了英国整军备战的进程;使英国在二战初期处于被动状态;最终演变为绥靖政策,助长了法西斯的侵略。(7分,其他答案言之有理亦可)

【解析】本题考查20世纪30年代英国和平主义运动,考查学生获取材料信息、运用所学知识、阐释历史事物的能力。第(1)问,根据材料“经济危机爆发”“群众厌战、追求和平的呼声更加高涨”“许多精英人士本身就是和平主义者”“工党仍然以反战为口号”并结合所学知识,可以从传统孤立政策的影响、一战造成的心理创伤、英国经济的衰退、政治精英及政党政治的推动等方面概括。第(2)问,根据材料“英国用重整军备的手段来制止战争变得不可能,直到二战爆发”并结合所学知识,可以从英国对外战略僵化、延误英国二战备战的进程、二战初期英国的被动状态、助长法西斯侵略气焰等方面分析。

47. (1)贡献:确立了马克思主义史学的主导地位;推动了史学的转向与发展;丰富了史学研究的内容;提出了科学的史学研究理论;构建了科学与民主的历史观。(8分,答出四点即可)

(2)原因:马克思主义理论的指导;个人的钻研努力;科学研究的精神;新中国的成立;社会主义改造运动的开展。(7分,答出三点给6分,答出四点给7分)

【解析】本题考查郭沫若的史学贡献,考查学生获取材料信息、运用所学知识、阐释历史事物的能力。第(1)问,根据材料“提出史学发展六个方面的转向”“突出马克思主义对史学研究的指导作用”“强调对各民族历史、近代史和亚洲历史的研究”“提倡历史研究要将史料与理论并重”“根据辩证唯物主义历史观”“主张评价历史人物时要以其历史作用为准”“引发了研究一系列重要历史理论问题的热潮”,可以得出确立马克思主义史学的主导地位、推动史学的转向与发展、丰富史学研究的内容、提出科学的史学研究理论、构建科学与民主的历史观等。第(2)问,根据郭沫若的个人经历与时代背景,可以从马克思主义理论的指导、个人的钻研努力、科学研究的精神、新中国的成立、社会主义改造运动的开展等方面分析。

关于我们

北京高考在线创办于 2014 年，隶属于北京太星网络科技有限公司，是北京地区极具影响力的中学升学服务平台。主营业务涵盖：北京新高考、高中生涯规划、志愿填报、强基计划、综合评价招生和学科竞赛等。

北京高考在线旗下拥有网站门户、微信公众平台等全媒体矩阵生态平台。平台活跃用户 40W+，网站年度流量数千万量级。用户群体立足于北京，辐射全国 31 省市。

北京高考在线平台一直秉承 “精益求精、专业严谨” 的建设理念，不断探索 “K12 教育+互联网+大数据” 的运营模式，尝试基于大数据理论为广大中学和家长提供新鲜的高考资讯、专业的高考政策解读、科学的升学规划等，为广大高校、中学和教科研单位提供 “衔接和桥梁纽带” 作用。

平台自创办以来，为众多重点大学发现和推荐优秀生源，和北京近百所中学达成合作关系，累计举办线上线下升学公益讲座数百场，帮助数十万考生顺利通过考入理想大学，在家长、考生、中学和社会各界具有广泛的口碑影响力

未来，北京高考在线平台将立足于北京新高考改革，基于对北京高考政策研究及北京高校资源优势，更好的服务全国高中家长和学生。



微信搜一搜

北京高考资讯