

## 顺义区 2019 届高三第二次统练

### 文科综合能力测试

#### 第一部分（选择题，共 140 分）

本部分共 35 小题，每小题 4 分，共 140 分。在每小题列出的四个选项中，选出最符合题目要求的一项。

图 1 为第 17-24 届冬奥会举办城市分布图。读图，回答第 1、2 题。

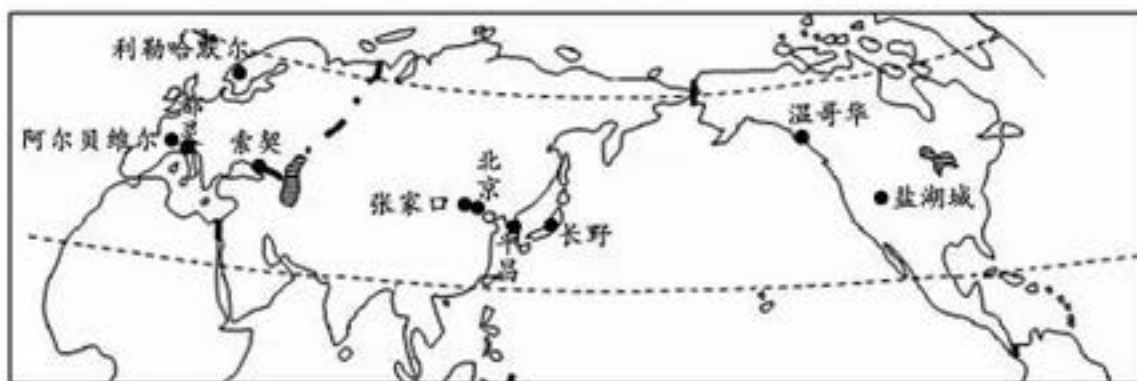


图 1

- 图中城市
  - 1 月平均气温均最低
  - 多山地，降雪比降雨多
  - 多靠近世界两大火山地震带
  - 高纬多，低纬少；西半球多，东半球少
- 第 24 届冬季奥运会将于 2022 年 2 月 2 日-2 月 17 日在北京和张家口举行。在此期间
  - 温哥华天气寒冷干燥
  - 日出时间都灵比利勒哈默尔早
  - 北京呈现冬小麦返青景象
  - 盐湖城比温哥华立春早

图 2 为北半球部分农作物最适宜生长的纬度示意图。读图，结合相应知识，回答第 3 题。

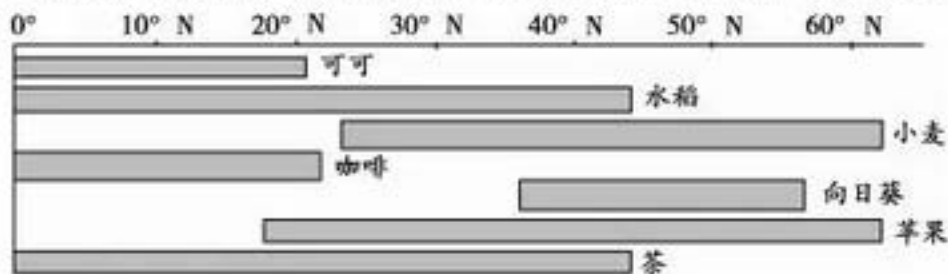


图 2

- 农作物
  - 水稻主要分布在季风区和雨林气候区
  - 可可、咖啡、向日葵的热量适应范围较大
  - 小麦种植在亚马孙平原比黄淮平原更适宜
  - 苹果和茶树的共同分布区是我国的中温带地区

南非是非洲经济最发达的国家，也是我国在非洲的最大贸易国。图 3 为“非洲南部部分区域图”。读图，完成 4-5 题。

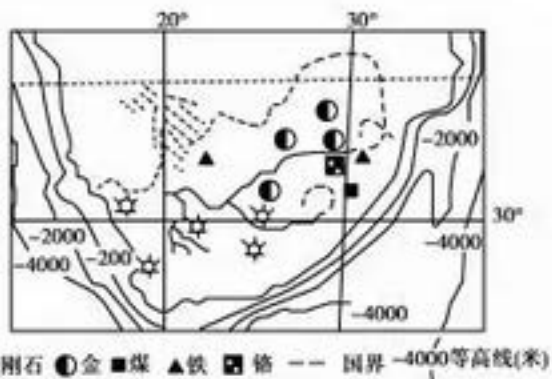


图 3

4. 南非

- A. 东临印度洋，西、南濒太平洋
- B. 彩矿区的环境问题是酸雨
- C. 好望角航线 1 月份风浪相对较小
- D. 渔业资源东部沿海比西部沿海丰富

5. 南非吸引我国企业投资的主要优势条件是

- A. 市场和待开发土地广阔
- B. 矿产资源丰富，政策支持
- C. 经济发达，科技水平高
- D. 工业基础好，劳动力丰富

巴拉那河是南美洲第二大河，干流及其支流两岸覆盖着黏土，它与乌拉圭河汇合后称拉普拉塔河，最后注入大西洋，它是巴西、阿根廷和巴拉圭三国的重要水上通道。图 4 为巴拉那河流域图。读图完成第 6 题。

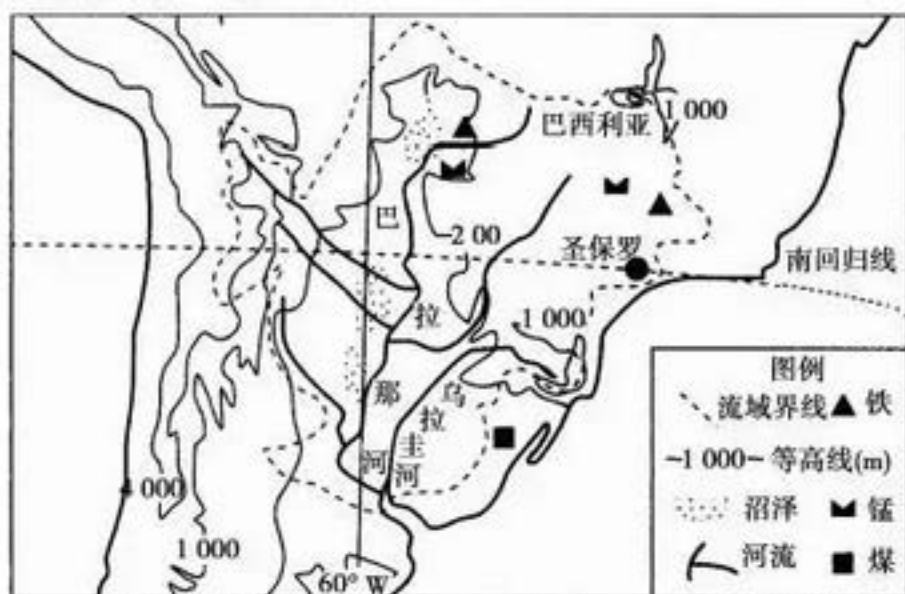


图 4

6. 关于巴拉那河流域的综合开发利用的叙述，正确的是

- A. 圣保罗附近利用资源发展钢铁工业
- B. 沼泽地广布，可发展水稻种植业
- C. 黏土广布，建材业发达
- D. 河流落差大，可全流域开发水电

图 5 表示某种农业地域类型生产示意图。读图 5，回答第 7 题。

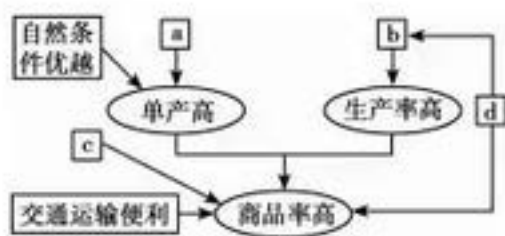


图 5

7. 下列字母与表述对应正确的是

- A. a 表示市场广阔 B. b 表示机械化水平高 C. c 表示人均耕地面积大 D. d 表示农业技术先进

图 6 为全国部分省份 GDP 增幅与矿产资源丰富程度相关性示意图。读图，回答第 8 题。

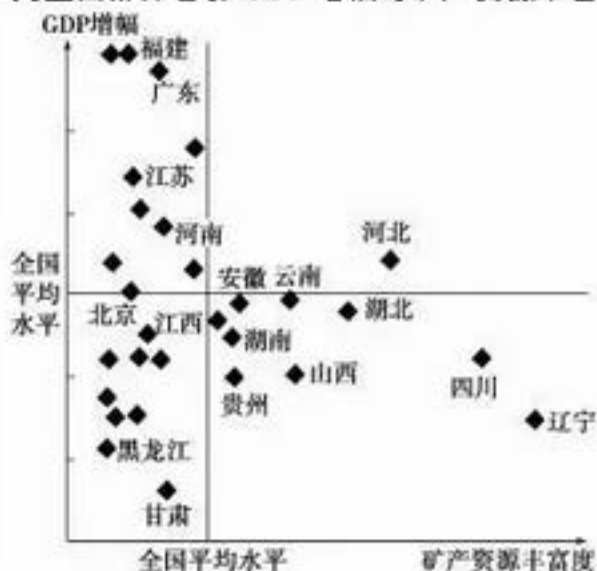


图 6

8. 下列关于矿产资源与经济发展关系表述正确的是

- A. 闽、苏 GDP 增幅大，原因是矿产资源丰富  
B. 湘、黔、川 GDP 增幅小，原因是矿产资源不丰富  
C. 甘、黑、赣 GDP 增幅小，矿产资源丰富  
D. 辽、川应提高矿产资源利用率，促进经济发展

图 7 为京津冀地区某汽车制造企业空间集聚与扩散示意图。读图，回答第 9、10 题。

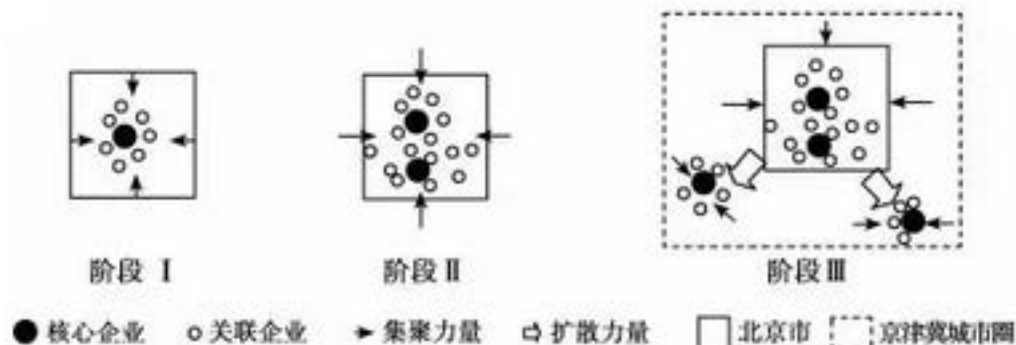


图 7

9. 图中核心企业与关联企业的结构特点反应该企业

- A. 需要系统的配套生产 B. 集聚与扩散布局的效益相同  
C. 劳动力成本变化不大 D. 市场因素是布局变化的主因

10. 该汽车制造企业布局的变化

- A. 将吸引大量劳动力向北京市郊区迁移  
B. 会拉大区域内城市化水平的差距



- C. 得益于京津冀城市圈交通条件改善
- D. 有利于天津港整车海运到南方市场

城市化过程可以分为景观城市化（即人们所观察到的城市景观，如道路、建筑物、绿地等）与人文城市化（即人的变化，如人口素质提高、生活方式改变等）。图 5 表示某城市局部区域剖面的景观与人文发展指数分布（指数越大表示发展水平越高）。读图 8，回答第 11 题。

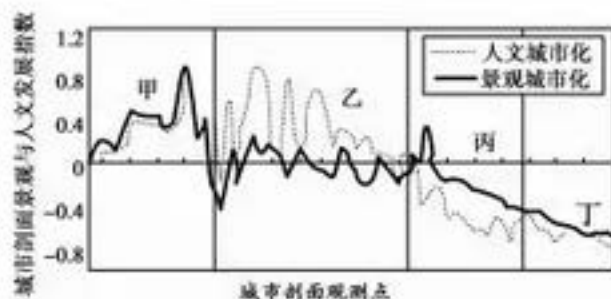


图 8

11. 下列有关该市甲、乙、丙、丁四个区域的说法，正确的是

- A. 甲区域——进行合理规划，加强人文城市化的建设
- B. 乙区域——目前景观发育程度较高，城市规划合理
- C. 丙区域——需加强道路等城市公共基础设施的建设
- D. 丁区域——只需在人口素质提高方面开展工作

12. 2018 年 12 月，在中国政府的努力下，流火海外一百多年的文物——西周青铜器“虎鬲(yǐng)（见图 9）”正式入藏国家博物馆。2019 年 1 月，国博推出了“虎鬲：新时代·新命运”展览，下列相关表述正确的有



图 9

- ① “虎鬲”的精美造型体现西周青铜铸造技艺的成熟
  - ② “虎鬲”的雕工精湛是由独具匠心的私营工匠制作
  - ③ “虎鬲”流离海外是清政府被列强欺凌的真实写照
  - ④ “虎鬲”回归祖国是中华民族伟大复兴的历史见证
- A. ①②③    B. ①②④    C. ①③④    D. ②③④

13. 《宋史》记载：宋太宗时东京等城市时时有临街开设商店的“侵街”现象发生。宋仁宗景祐年间，对屡禁不止的“侵街”现象让步，允许沿街开设商店，直接收税。由此推测

- A. 宋太宗重视城市商业发展    B. 宋仁宗时城市商业的管理出现混乱
- C. 城市商业突破了地点限制    D. 商税成为政府财政收入的主要来源

14. 与图 10 所示朝代处于同一时期的中外史实有

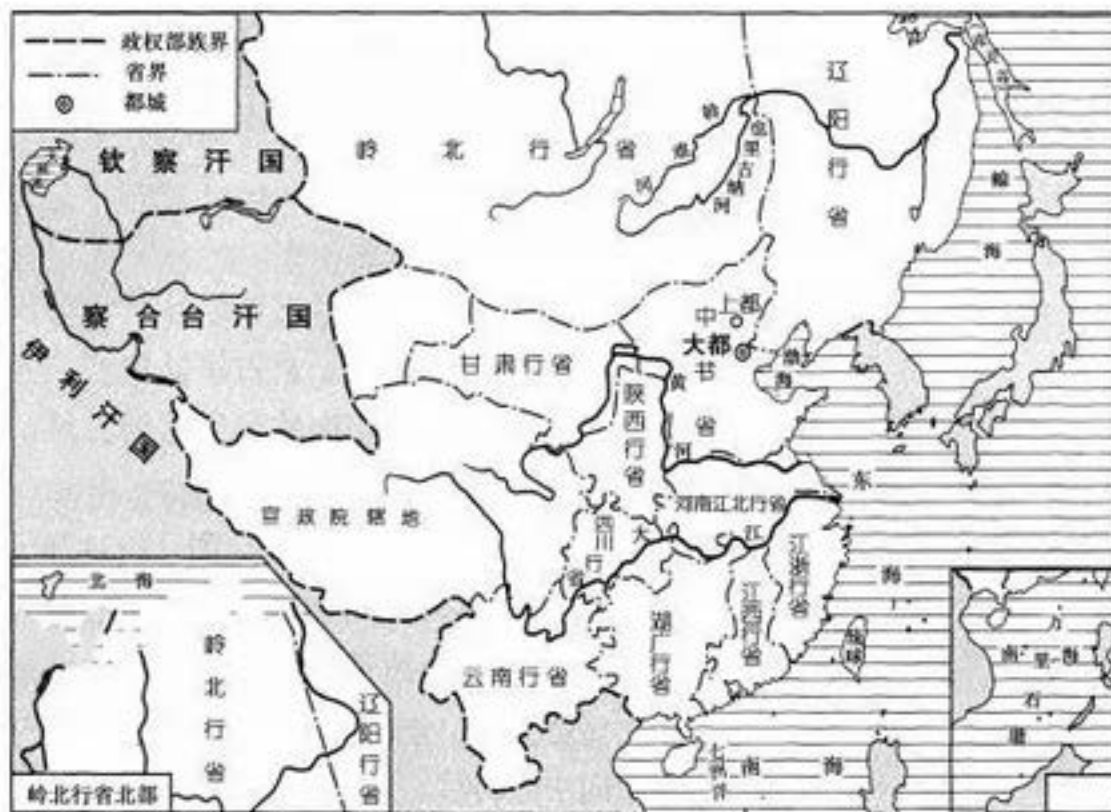


图 10

- A. 王桢编成《农书》      薄伽丘的《十日谈》问世
  - B. 火药广泛用于战争      瓦特改良蒸汽机
  - C. 祖冲之计算出圆周率      达尔文提出进化论
  - D. 蒲松龄著成《聊斋志异》      巴尔扎克创作《人间喜剧》
15. 斯塔夫里阿诺斯在《全球通史》中写道：三次灾难性的战争使中国受到了巨大的刺激。第一次是 1840-1842 年同英国的战争；第二次是 1856-1860 年同英法的战争；第三次是 1894-1895 年同日本的战争。这三次战争的共同之处是
- A. 列强侵略中国以割地和资本输出为目的
  - B. 中国完全沦为半殖民地半封建社会
  - C. 中国被迫开放的通商口岸都在沿海地区
  - D. 中国逐渐被卷入资本主义世界市场
16. 《郑孝胥日记》记载：清帝颁布退位诏之夕“闻爆竹声甚繁，于是乎大清二百六十八年至此夕而毕，此日堪称中国历史上至关紧要的一天。”该事件的意义是
- A. 促成《中华民国临时约法》颁布
  - B. 标志着清王朝统治土崩瓦解
  - C. 结束了两千多年的君主专制制度
  - D. 推翻了封建思想的统治地位
17. 有学者认为，14 年抗战史的主要依据在于：日本对中国的侵略连续 14 年没有间断过，中国人民的抵抗从 1931 年开始就没停止过。东北的抗战不仅是东北人民对日本侵略者的抵抗，更是中华民族持续不断、不屈不挠的抗争，应该记入抗战的史册。据此可以认定历史研究
- ①要恢复历史本来面目      ②要贯通整体看待历史
  - ③要尊重历史客观真实      ④历史结论不能被修正
- A. ①②③      B. ①②④      C. ②③④      D. ①③④
18. 下列选项中史实与结论之间逻辑关系正确的是



	史 实	结 论
A	提出和平共处五项原则的外交政策	是中国奉行独立自主和平外交政策的体现
B	颁布《中国人民政治协商会议共同纲领》	标志依法治国正式确立
C	1979 年中美正式建立外交关系	表明中美之间矛盾完全消除
D	中央政府设立香港、澳门特别行政区	祖国统一大业最终完成

19. 图 11 是 1980 -1988 年中国进出口贸易基本状况。下列选项中与此有关联的是

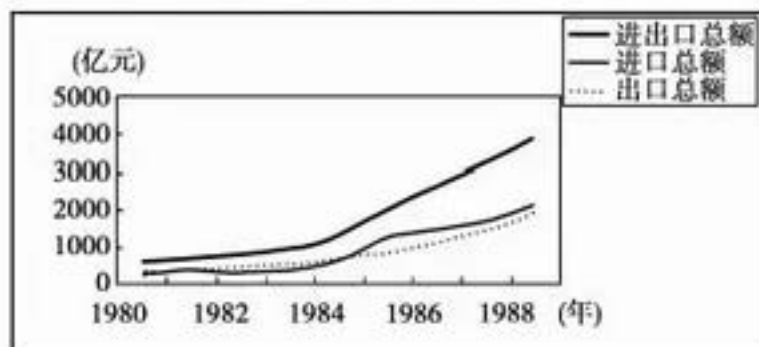


图 11

- ①大力发展进出口的贸易 ②中国加入世界贸易组织  
③城市经济体制改革展开 ④开放大量沿海港口城市  
A. ①②③ B. ①③④ C. ②③④ D. ①②④

20. 下表呈现的是法国启蒙运动时期的文化成就及传播情况, 其特点是

方 面	主要表现
科学方面	出版《百科全书》, 宣传启蒙思想与科学知识
报刊方面	宣传新思想的报刊、杂志层出不穷
文学方面	伏尔泰的《老实人》和卢梭的《爱弥儿》, 深受民众欢迎
史学方面	孟德斯鸠的《罗马盛衰原因论》等史学著作阐释启蒙思想
生活方面	咖啡馆 + 酒馆 + 沙龙 + 街头巷尾谈论交流新思想

- ①涉及形式多样 ②传播地域广泛 ③受众群体多样 ④影响非常深远  
A. ①③ B. ③④ C. ②③ D. ①④

21. 某班进行历史研究性学习, 以俄国农奴制改革、日本明治维新、中国戊戌变法为论据, 他们可以拟定的论题是

- A. 近代工业与文明开化 B. 工业文明的冲击与应对  
C. 中央集权与封建割据 D. 民族独立与近代化发展

22. 1933 年罗斯福宣誓就职后, 敦促国会出台了一系列紧急立法, 就社会经济中的紧急情况制定对策。在美国经济形势危急的情况下, 任何原则、规矩都不得向美国政府的紧急应对危机权力让步, 联邦最高法院也不例外。这表明

- A. 政府实行专制 B. 三权分立失效  
C. 总统权力扩大 D. 国民经济崩溃

23. 图 12 是题为《第一世界的真相》的漫画, 其中握在一起的手上分别写着“缓…‘和’”; 刀身上面写着“价透”两字。该漫画意在反映



图 12

A. 苏联妄想称霸世界 B. 美国企图控制两欧 C. 国际环境动荡不安 D. 美苏实行冷战政策

24. 某公司员工李梅，月工资 13200 元，她有一个很特殊的习惯，记录每一次个税起征点和应纳税额的变化。

项目 \ 年份	2018 年 3 月	2018 年 10 月	2019 年 1 月
个税起征点(元)	3500	5000	起征点不变,新增六大扣除项
应纳税额(元)	1029	432	117

注：六大扣除项包括子女教育、首套房贷、继续教育、住房租金、大病医疗、赡养老人。

新个税改革有助于

- ①消除个人收入分配上的差距
- ②让人们有更强的获得感和幸福感
- ③从根本上推动居民收入增长
- ④增强消费对经济发展的基础性作用

A. ①② B. ①③ C. ②④ D. ③④

25. 缺乏夜间消费传统的北京，正试图激发夜间消费潜力，“点亮”夜间经济被提上 2019 年北京市政府的工作日程，以满足人民多层次、多样化的消费需求。夜间经济，一般指从当日下午 6 点到次日凌晨 6 点所发生的服务业方面的商务活动。夜间生活的丰富程度，一定程度上体现着一座城市的现代化水平与消费繁荣指数。发展夜间经济是

- A. 破解城市发展难题的战略基点
- B. 解决城市就业问题的根本途径
- C. 以政府调控为基础来推动消费升级的经济活动
- D. 贯彻落实以人民为中心的发展思想的重大举措

26. 根据图 13 能够得出的正确结论是



图 13

- A. 经济增长须依靠赤字财政政策
- B. 财政收支增加与 GDP 增长速度同步
- C. 经济发展与财政收入呈正相关
- D. 我国经济总量出现明显波动和下滑

27. 动漫 IP 即具有一定影响力和品牌形象的动漫知识产权。通过动漫 IP 授权或出售，实现文化品牌价值的传递，可以获得巨大的市场盈利。例如，一只长着吹风机头的粉红小猪就从一部宣传传统家庭亲情观念的动画片中走出来，在游戏、玩具、电影、图书等产业中成为全球市场宠儿。动漫 IP 文化品牌价值成功传递

- ①在于其丰富文化内涵能引起人们情感共鸣
- ②重在强化文化的共通性努力消除文化差异



③需要根据市场需求设计产品以延长产业链 ④说明品牌形象的营销方式创新起决定性作用

- A. ①③ B. ①④ C. ②③ D. ②④

28. 美国著名心理学家麦克利兰提出“冰山模型”，将人的个体素质的不同表现划分为表 面的“冰山以上部分”和深藏的“冰山以下部分”(如图 14)。其中，前者是外在表现， 是容易了解与测量的部分，更易培养和改变，后者是人内在的、难以测量的部分，不 太容易通过外界的影响而得到改变。以下 分析正确的是



图 14 素质体系的冰山模型

- A. “冰山以上的部分”是区分人的文化素养高低的核心和标志  
B. “冰山以下的部分”往往与生俱来不能通过后天的培养形成  
C. 个人的技能知识水平等外在表现决定其人生价值的实现程度  
D. 人才培养和选拔要更加重视价值观等内在的难以测量的部分

29. 苦苦等待不见踪影，它却打破常规突然来临。2019 年春节，北京在经历长时间无雪之后连降 三场瑞雪，撒哈拉沙漠 2018 年 1 月 7 日早上迎来了近 30 年来的第三场雪。这些“异常”降雪的原因引起人们思考。有人认为人类活动破坏了大自然的规律让降雪变得很“任性”，有人认为太阳活动让全球变暖是主因……目前科学界尚存在争议，无明确定论。这表明

- A. 人们对自然现象和规律的认识需要一个过程  
B. 人们对同一确定的对象可能有多个真理性认识  
C. 深藏于事物内部的自然规律是人类无法掌握的  
D. 自然界的物质性让它的变化越来越具有偶然性

30. 观察右边漫画（图 15），可以得出的正确结论是



图 15

- ①思维与存在一般不具有同一性 ②要用联系的观点分析把握事物  
③价格优势是企业的重要竞争力 ④商品的成本是价格形成的基础  
A. ①② B. ①③ C. ②④ D. ③④

31. 北京市新版城市总体规划确定的“一核一主一副，两轴多点一区”的空间布局涉及 14 个区的分区规划均



已进入网络公示阶段。分区规划将重点从保障和服务首都功能优化提升、提高各新城的综合承载能力、加强生态屏障和水源保护，促进绿色发展等方面落实总规要求。14个区的分区规划

A. 在各区发展中发挥着直接现实性指导作用 B. 在落实总体规划中抓住了矛盾的主要方面

C. 进行网络公示有利于保障每个公民的利益诉求 D. 进行网络公示有利于保障规划的科学化民主化

32. “反向春运”是指年轻人选择将老家的父母和孩子接来自己工作的城市过春节，也被称为“反向团圆”。近两年，这成为不少80后、90后年轻人与父母共度春节的新方式。“反向春运”流行的背后，是因为返乡火车票一票难求或回乡机票太贵，而反向春运航线的机票价格堪称“白菜价”（图16）。这说明

2019年1月30日部分春运最低机票价对比	
上海 → 南宁 1390元	南宁 → 上海 300元
北京 → 重庆 1590元	重庆 → 北京 490元

图 16

①反向春运折射新社会发展背景下春节团圆观念的变化②客观存在的实际让反向团圆成为春节团聚的主流形式③春节团圆方式的变化体现了人们的自觉选择性④春节团圆方式的创新是新事物代替旧事物的必然结果

A. ①② B. ①③ C. ②④ D. ③④

33. 一部手机，一个APP，就可以成为一个议政平台。全国政协开通移动履职平台以来，身处天南海北的政协委员展开网络议政、远程协商，一共进行了16次组群的讨论，1400余名委员参加，发言4000多次，汇集整理出了10个方面的106条建议。上述做法

①打破了时间和空间限制，让议政更加灵活

②坚持协商民主，拓宽了基层民主管理渠道

③开拓了政协委员的思路，让履职更具实效

④创新了政协职能，与人民群众对话更直接

A. ①② B. ①③ C. ②④ D. ③④

34. 十三届全国人大二次会议表决通过了《中华人民共和国外商投资法》，取代中国关于外商投资的《中外合资经营企业法》、《外资企业法》和《中外合作经营企业法》3部法律（简称“三合一”），对外商投资的准入、促进、保护、管理等作出了统一规定。对此，以下说法正确的是

①“三合一”的调整有利于更好地发挥政治对经济的反作用

②“三合一”作为生产关系的调整适应了生产力发展的要求

③我国立法工作与时俱进，为提高对外开放水平提供日益完善的法律依据

④全国人大行使决定权，为外商提供良好的投资环境

A. ①② B. ①③ C. ②④ D. ③④

35. 2019年美国特朗普和国会之间继政府关门停摆之后，继续上演着拉锯战。

2月15日	特朗普签署公告,宣布美国南部边境出现国家紧急状态,意在绕过国会筹集更多经费用于在美墨边境兴建边境墙。
2月26日	由民主党控制的众议院以245票赞成、182票反对,通过了一项认定特朗普上述声明无效的决议案。理由是特朗普的做法非法扩大总统权限。
3月14日	由共和党主宰的参议院,以59票对41票通过了与众议院相同的决议。
3月15日	美国总统特朗普(共和党)行使否决权,否决了国会通过的上述决议案。
未来	参众两院如果能获得三分之二的票数可推翻特朗普的否决令,议案将产生法律效力,总统不得就相同议案再次行使否决权。

注:除了国会的行动之外,特朗普宣布国家紧急状态的做法也遇到司法挑战。美国20个州和一些组织已就此在联邦法院提起诉讼。

根据以上信息,下列说法正确的是

- ①美国的政治运行贯彻“三权分立”原则
  - ②两党在具体议题上主张的差别是两党制运行的基础
  - ③以总统为核心的联邦政府由国会产生并对国会负责
  - ④代表美国民众利益的两党在根本利益上是对立的
- A. ①②    B. ①④    C. ②③    D. ③④

第二部分(非选择题,共160分)

36.(36分)读图17和文字资料,回答下列问题。

2018年11月27日至29日,习近平主席对西班牙进行国事访问,推动中国和西班牙关系步入新的发展阶段。

材料一 西班牙与相邻的法国在欧洲水果、花卉等“时鲜业”的农产品市场竞争激烈。

材料二

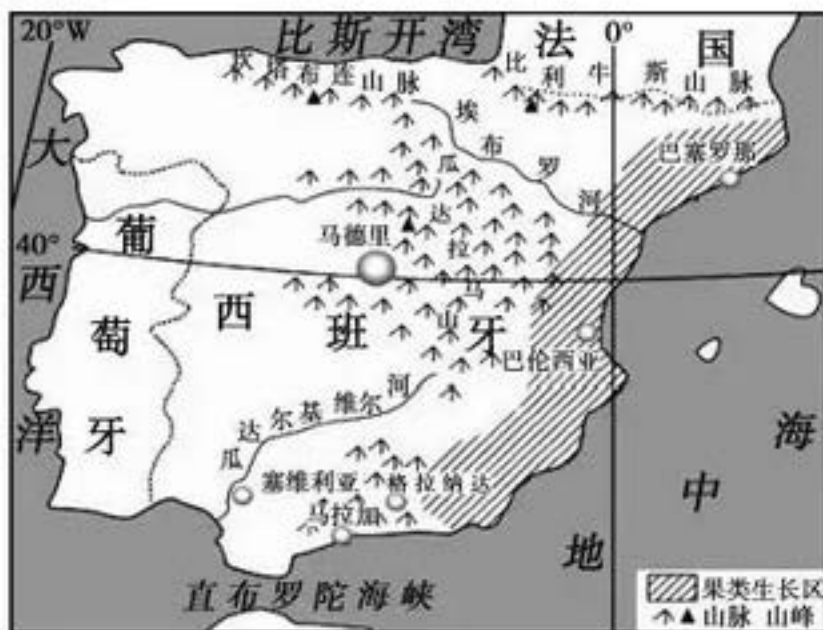


图17

(1)与法国巴黎盆地相比,说明西班牙沿海平原发展“时鲜业”的自然地理条件。(10分)

材料三 西班牙素有“旅游王国”之称,其旅游业的王牌项目是“3S”,即太阳(Sun)、海滩(Shore)、海洋(Sea)。

(2)说明英国、法国居民喜欢来西班牙旅游的原因。(6分)

材料四 西班牙人口变化趋势表。



年份	2007	2010	2015	2020	2025	2030	2035	2040
0至14岁(%)	14.5	15	15.7	15.5	14.5	13.4	12.7	13.2
15至64岁(%)	68.8	68.3	67	66.3	65.7	64.5	59.6	54.7
≥65岁(%)	16.7	16.7	17.3	18.2	19.8	22.1	27.7	32.1

(3)说出材料四所反映的人口变化特点，并分析应对人口老龄化问题的合理措施。(10分)

材料五在“一带一路”倡议的背景下，2014年“义新欧”全线开行，横贯整个欧亚大陆。图18为“义新欧铁路通道示意图”。

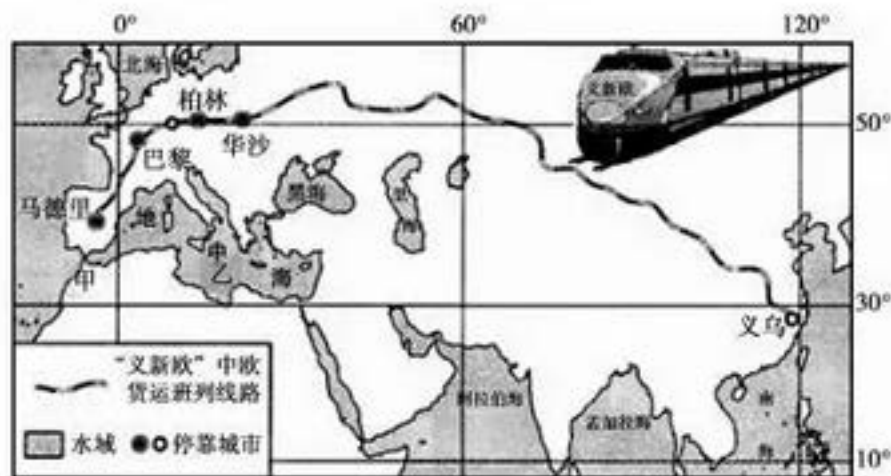


图18

(4)与海运相比，说明选择“义新欧”铁路的优势，以及停靠城市集中在欧洲的原因。(10分)

37. (36分) 社会转型的内涵就是社会经济结构、文化形态、价值观念等发生深刻变化。

材料一 中国从西周至秦统一，希腊从荷马时代到城邦独立自由的终结，我们视为两者的“古典时代”。在这一时代，中国封建王权向专制王权发展，到秦统一中国专制王权更转化为大一统专制皇权。大体上同一年代的希腊，带有军事民主主义色彩的王权向贵族共和过渡，更进一步向民主政体过渡。在历史上大体处于同一年代的文明古国，在政治制度的演变上却显示出如此鲜明的反差，其由安在？由于历史背景的不同，王权的强弱在起点上就存在着很大的差别；不同的对外扩张方式导致不同的结果；不同社会历史条件下形成的政治思想也起着很大的作用……。

——胡钟达《古典时代政治制度演变的比较研究》

(1)依据材料一概括“古典时代”中国和希腊政治制度发展的走向，结合所学分析造成希腊与中国政治制度走向差异的原因。(10分)

材料二

晚清上海租界出现的新生活

服装类型	西装、长袍马褂等
交通工具	电车、汽车、马车等
住宅风格	洋楼、里弄等
通讯方式	电话、电报、邮传等
娱乐方式	酒吧、声色犬马

到民国时期……，一些闭塞地区的经济因铁路而活跃，一些古老的城镇因铁路而面貌一新……铁路在畅通经济、带动繁荣的同时还意味着信息的流通、知识的传播，意味着建立“铁路交通日常急需的各种生产过程”。所有这一切，无疑都有助于打破中国传统社会“自给自足的惰性”，推动现代化的进程。

(2)依据材料二和所学从“社会生活与时代变迁”的角度对材料蕴含的信息进行解读。

(12分) 要求：提取信息充分；总结归纳准确、完整；逻辑清晰。

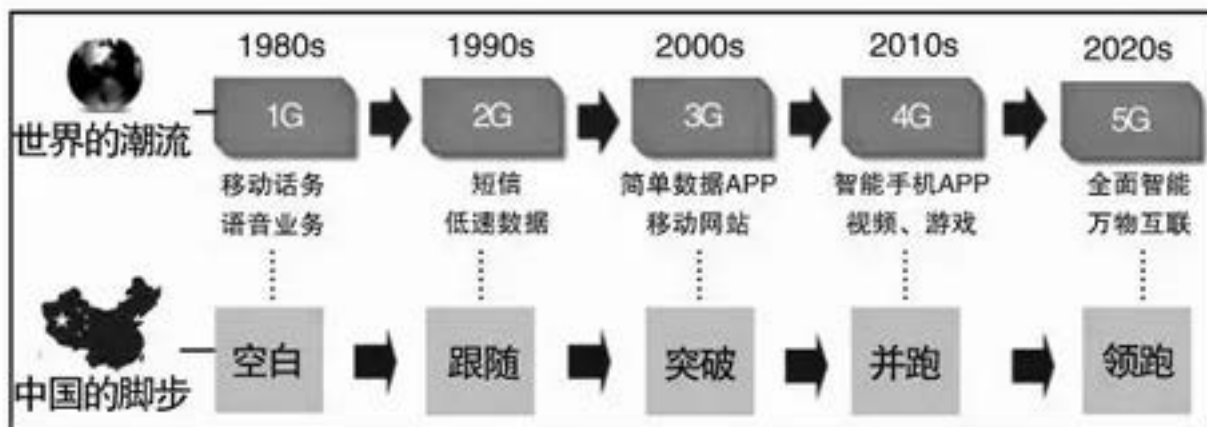
材料三 英国的霸权与近代化是联系在一起，没有传统社会向近代化的转型也就没有它的世界霸权。……在近代世界，英国就是通过制度创新引领时代潮流，并迅速崛起成为欧洲强国、乃至世界强国的。一个时代潮流，往往表现为一种新制度的出现，谁能够做到制度创新，谁就走到潮流的最前面。制度创新包含两层涵义：一是创造前所未有的新制度，为未来指引方向；二是使原有制度不断更新，不断保持活力，能够与时俱进，这二者在英国都得到了体现。

——钱乘旦《从历史学视角透视世界现代化进程》

(3)依据材料三和所学，举例说明 17 - 19 世纪英国制度创新的表现。并谈谈你对英国“没有传统社会向近代化的转型也就没有它的世界霸权”这句话的理解。(14 分)

38. (30 分) 改革开放四十年来，中国通信产业走过了不平凡的历程。

材料一



注：5G 网络，是指第五代移动通信网络，5G 技术是全球新一轮科技和产业革命的关键技术，具备高速率、低延时和大容量等特征。在即将到来的 5G 时代，中国通信设备制造企业不负众望，在标准制定、前沿技术研发和网络建设实践等领域全面崛起，站在了全球技术创新的最前列。

材料二 中国政府和企业布局 5G 已久。2013 年 2 月，工信部、发改委、科技部就联合成立 5G 推进组，全面启动 5G 技术研发；2017 年 8 月国务院《关于进一步扩大和升级信息消费持续释放内需潜力的指导意见》，加快 5G 标准研究、技术试验和产业推进，力争 2020 年启动商用；2017 - 2019 年连续三年写入政府工作报告，5G 技术上升到了国策层面。

作为 5G 先行者的我国 H 公司，从 2009 年到 2013 年，投资 5G 技术研究超 6 亿美金；2017 年 - 2018 年，投资 5G 产品开发近 14 亿美金。H 公司全球 5G 商用合作伙伴最多，已获得 30 个 5G 商用合同，25000 多个 5G 基站已发往世界各地。公司包揽行业关键奖项，5G 演进杰出贡献奖、最佳基础设施奖、5G 研发杰出贡献奖、世界互联网领先科技成果奖、最佳行业解决方案奖。作为行业唯一能够提供 5G 端到端产品与解决方案的厂商，技术成熟度比同行至少领先 12 个月到 18 个月。

(1)结合上述材料，运用《经济生活》的相关知识，分析我国通信设备制造企业如何实现从“跟跑者”向“领跑者”转变，站在了全球技术创新的最前列。(10 分)

材料三在今年的全国两会上，新闻中心首次实现了 5G 信号全覆盖，两会成为中国移动、电信、联通三大运营商展示 5G 商用的演练场，也将借此宣告一个全新的 5G 元年正式到来。5G 正式商用将给社会带来深刻的变化。



<p>在未来只需要1秒即可下载一部高清电影；家居设备会自动根据手机定位识别你的位置，当你下班到家门口，门自动打开，洗澡水刚刚好；病人在家就能接受来自世界各地的名医通过5G网络和手术台进行的手术。</p>	<p>未来工厂内部与外部的机器之间会相互“交流”，只要系统发出指令，原材料就会从几千公里外的供应商“自动”配送、上架、组装；同一条生产线，可以随时切换生产80多个不同型号产品；手机拍照上传，2小时衬衣送上门。</p>	<p>5G助力下，人工智能(AI)、虚拟现实(VR)与增强现实(AR)、物联网等插上腾飞的翅膀，开启一个万物互联的新世界，其中的每一个细分领域，都将是万亿级的市场。</p>
---	--	--

(2)结合上述材料，运用《经济生活》的相关知识，分析5G网络可能带来哪些方面的积极影响。(8分)

材料四《2019年政府工作报告》发出今年年底实现“携号转网”的通信大礼包。携号转网，也称作号码可携带、移机不改号。比如持有中国移动号码的手机用户，可不用换手机号，转入中国电信网或中国联通，享受中国电信或中国联通提供的电信运营服务。

携号转网最早可追溯至2010年11月，历经9年，曾在天津、海南两省，江西、湖北、云南三省开展两批试点。携号转网的全面实现，是一个复杂的系统工程——不仅是一个单纯的技术难题，且需要三大运营商配合，还需要与银行、支付平台等第三方机构紧密合作。

携号转网，不仅考验着企业的经营管理智慧，也考验着国家有关部门的履职智慧。



图19

(3)结合上述材料，运用哲学观点分析在全面推行携号转网之前开展试点的必要性。(12分)

39. (14分)“小角落里的大革命”。厕所问题关系到国民素质提升、社会文明进步。

某班以“厕所革命”为主题，展开研究性学习。在探究过程中，了解到如下一些信息：

同学甲：咱们习大大在国内考察调研过程中，走进农户家里，经常会问起村民使用的是水厕还是旱厕，在视察村容村貌时也会详细了解相关情况。他多次强调，要来个“厕所革命”，让农村群众用上卫生的厕所。

同学乙：2015年某建筑设计网站对全球各地超过1000个公厕的评比中，那些高颜值的公厕多是坐于公园之中，依着自然美景，用好的设计、独特的构造，打破人们惯常对公厕建筑的刻板印象。我们家附近就有一个“第5空间”卫生间，里面有自动存取款机、汽车充电桩、无线网络等各类便民服务设施，卫生间简直就成了生活休息空间，太震撼了。

同学丙：一些地方的厕所的确建了不少，但是由于后期管理维护缺失，不少公厕在交付使用后不久，基础设施损坏严重，有的甚至被迫停止使用，多可惜！还有一些地方“厕改”成了炫富、炫面子、炫政绩的攀比平台。

同学丁：中国现阶段“厕所革命”推进过程中，国家倡导力度很大，但是社会、市场反应还不够，推进不扎实，这说明公众对厕所问题还缺乏共识。我国需要学者、学校和社会机构来不断倡导厕所文明，共同推进“厕所革命”。

(1)结合材料,运用《政治生活》相关知识,谈谈怎样将“厕所革命”进行到底,提升群众生活品质。(10分)

要求:观点鲜明,可以就某一点深入分析,也可以全面论述;知识运用准确、贴切;论述合乎逻辑,条理清晰。

(2)运用《文化生活》中的相关知识,就如何倡导厕所文明提出你的建议并说明理由。(4分)

40.(18分)习近平主席说:“大国关系”应该登高望远,加强合作。

(1)法国是全球清洁能源使用的典范,列举其使用的清洁能源种类并说明其中一种能源的地理分布特点。(10分)



随着一系列历史遗留问题的磋商解决,1963年1月12日德国总统阿登纳与重新掌权的法国总统戴高乐在巴黎签订了《爱丽舍条约》,旨在进一步清除德法两国的历史宿怨,促进两国的实质合作。从此政治上法国牵头,经济上德国支持的“法德合作”模式开始运行,并“作为欧洲联合的发动机”,推动着整个欧洲的进步发展。

图20 戴高乐与阿登纳的历史性握手

(2)依据图文材料并结合所学分析法德和解的原因和影响。(8分)

41.(26分)2019年是新中国成立70周年,在中国共产党的领导下,新中国取得了伟大的成就。

材料-2018年10月23日上午,港珠澳大桥正式开通。它是连接香港、珠海和澳门的特大型桥梁隧道结合工程。粤港澳大湾区(图21)和港珠澳大桥示意图(图22)。

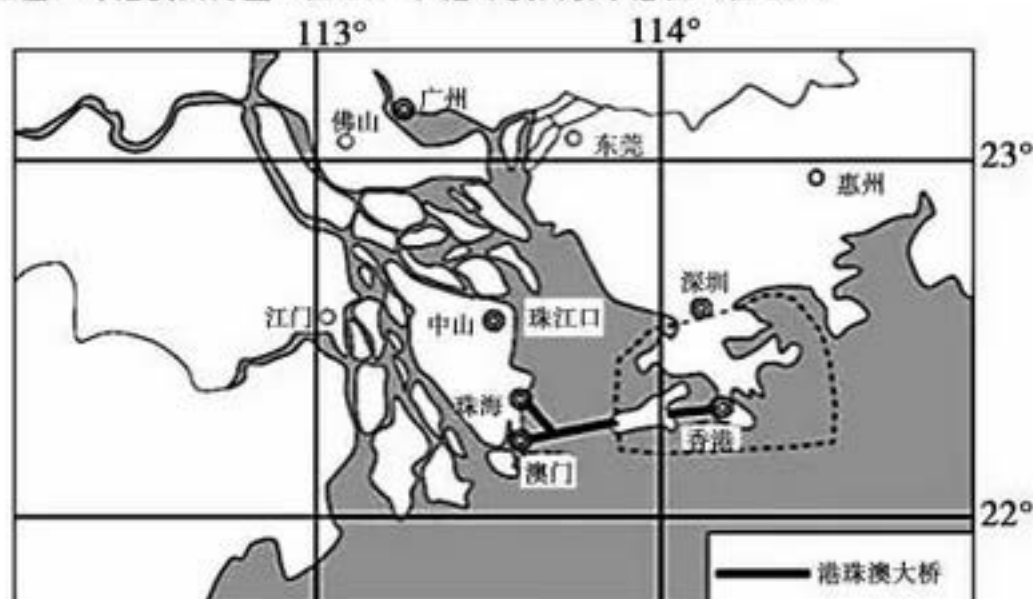


图21

(1)读图21,简析港珠澳大桥建设对珠江三角洲区域发展的潜在影响。(6分)



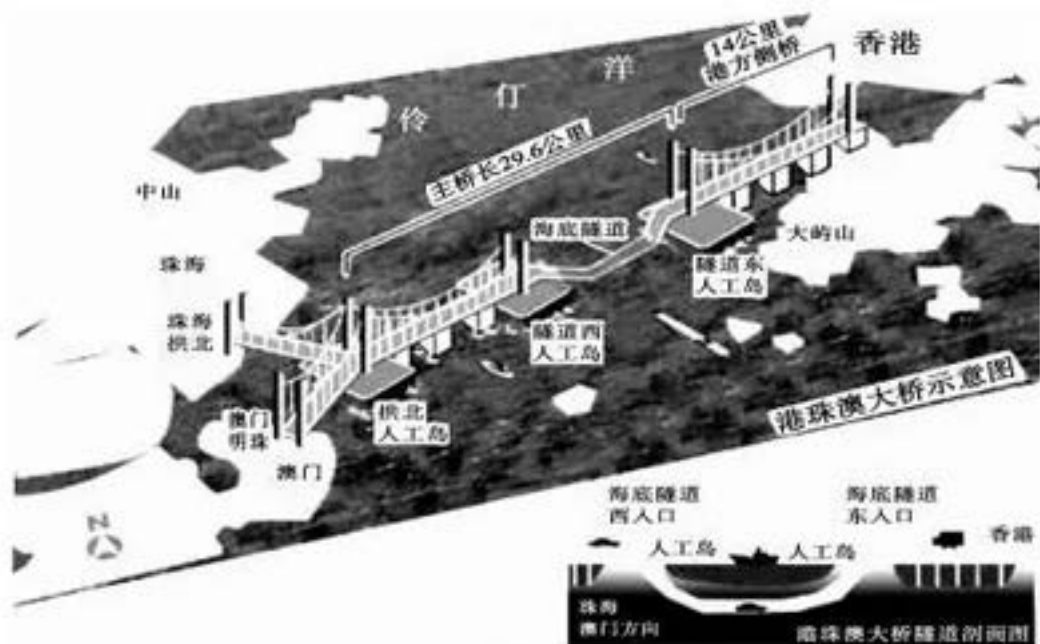


图 22

港珠澳大桥跨越伶仃洋海域，此桥经过珠江主航道，海上运输繁忙，珠江口周边有 14 个大中城市，7 个机场。同时，该水域内有国家 I 级保护动物中华白海豚自然保护区。

(2)读图 22，分析港珠澳大桥的中间段采用海底沉管隧道方案的原因。(4 分)

材料二毛主席说：“中国人民将要在伟大的解放战争中获得最后胜利，这一点，现在甚至我们的敌人也不怀疑了。”……毛泽东号召全国人民，各民主党派，各人民团体真诚合作，采取一致的步骤，粉碎美帝国主义和国民党反动派的政治阴谋，将革命进行到底。1949 年中国人民解放军将向长江以南进军，将要获得比 1948 年更加伟大的胜利。1949 年我们在经济战线上将要获得比 1948 年更加伟大的成就。我们的农业生产和工业生产将要比过去提高一步，铁路公路交通将要全面恢复。1949 年将要召集没有反动分子参加的以完成人民革命任务为目标的政治协商会议，宣布中华人民共和国的成立，并组建共和国的中央政府。

——摘编自毛泽东《将革命进行到底》的新年献词

(3)依据材料二概括指出毛主席提出的 1949 年中国革命的主要任务。(8 分)

材料三 70 年风雨兼程，70 年波澜壮阔，电影镌刻着国家与民族的记忆，从《小蝌蚪找妈妈》到《流浪地球》，为中国电影争得了世界性的声誉。

中国电影担负着向全世界讲好中国故事、传播好中国文化的使命。以往国际社会对中国文化的理解更多地停留在功夫、太极、京剧、旗袍等猎奇式的刻板印象上，甚至完全领悟不到中华文化的精髓。

<p>60年代的《小蝌蚪找妈妈》是世界上第一部以水墨作为表现形式的动画片。取材于画家齐白石创作的鱼虾等形象，“水墨动画”当时在国际影坛上独树一帜，是传播中国文化最有影响力的载体。</p> 	<p>《流浪地球》采用当下先进的影片拍摄和制作技术，描述了中式家庭关系——祖孙三代齐上阵、亲人团聚与别离，以及过年、麻将、舞狮等中式生活化场景。在面对太阳老化时携带地球去流浪的惊艳设定唯美而浪漫，其内核也是地道的中国式表达：故土难离。</p> 
---	---

中华大地几百万平方公里的土地，十几亿人民，源远流长的中华文化，精彩的故事原型并不少见，但缺乏将它们拍出来、并拍得好看的创作者。据不完全统计，我国电影每年只有 10% 的影片在海外市场发行。

在走向世界的历程中，中国电影任重道远。

(4)结合材料，运用《文化生活》相关知识，谈谈新时代下的中国电影如何讲好中国故事、传播好中国文化。(8分)

顺义区 2019 届高三第二统练文科综合能力测试

政治参考答案 2019.03

第一部分 选择题 (每小题 4 分, 12 个小题共 48 分)

24	25	26	27	28	29	30	31	32	33	34	35
C	D	C	A	D	A	C	D	B	B	B	A

第二部分 非选择题 (共 52 分)

38. (30 分)

(1) (10 分) ①国家贯彻新发展理念，建设现代化经济体系。实施创新驱动发展战略，国家给出的一系列政策，都是把创新摆在国家发展全局的核心位置，让创新贯穿党和国家一切工作。国家在积极参与国际竞争，把独立自主与经济全球化结合起来。实施供给侧结构性改革，激发内需潜力，推动经济社会的高质量发展的新时代背景下，高度重视 5G 这一全球新一轮科技和产业革命的关键技术的研发，出台了相关指导意见，给予通信设备制造企业以方向引领、政策支持，为企业实现从“跟跑者”向“领跑者”转变，站在全球技术创新的最前列提供了良好的政策环境。

②具有前瞻的视野和战略眼光的 H 公司，未雨绸缪进行战略布局，重视 5G 技术的自主开发与应用，抢占了 5G 的发展先机；通过加大 5G 研发投入力度，攻克关键技术和核心技术，开发相关新产品，赢得市场认可，提升国际竞争力，在 5G 的相关国际标准的制定上拥有了更多的话语权；通过开展国际化运营，瞄准国际市场，拓展了发展空间，有利于实现了研发、生产、销售的良性循环，提高了企业技术持续创新的能力。

(其他答案言之有理，可酌情给分)

(2) (8 分) 5G 技术的高速率、低延时和大容量等特征将加快生产、生活向数字化、网络化、智能化的方向演进升级，使以往的“人”之互联延伸到万物互联。

对个人而言，一方面会促进个人生活方式的转变和消费质量的提升，另一方面，5G 技术与人工智能等融合带动多个行业和技术领域的发展，会产生巨大的市场容量，提供了大量的就业创业创新机会。对企业而言，5G 技术在生产领域的应用会推动生产方式、经营模式的智能化，提高生产效率和质量，推动精细化、定制化生产，实现产品的需求、设计、生产、消费、售后服务的无缝对接。

对国家而言，5G 技术与企业和产业的深度融合，会提供发展新动能，促进产业互联网的发展/产业创新发展/建设现代化经济体系，带动经济结构的深度调整，创造全新的商业模式和社会生态，以提质增效/推动经济高质量发展。

(其他答案言之有理，可酌情给分)

(3) (12 分) ①矛盾的普遍性与特殊性辩证关系原理要求我们坚持一般与个别相结合的认识秩序和工作方法，善于从特殊性总结普遍性，在普遍性指导下具体分析特殊性。携号转网前先试点，可以为全面推行的顺利实施提供可借鉴的经验、教训。

②实践具有社会历史性，人的认识会受到实践水平的制约，而且事物本质的暴露需要一个过程，因而人的认识具有反复性/人们对一个事物的正确认识往往要从实践到认识，再从认识到实践的多次反复才能获得。携号转网作为新事物，其全面实施是一个复杂的系统工程，人们对它的认识需要一个过程，需要在小范围的试点实践中逐渐暴露问题/发现问题，把握其发展规律，找到解决问题的办法，防止各方面条件还不成熟时就推广而造成不可估量的损失。

③事物的发展是前进性和曲折性的统一。新事物的成长需要一个过程，人们对它的认识、理解、接受



与需要一个过程。小范围先试点有利于促进携号转网这一新事物的健康成长，也有利于逐渐培育人们对这一新事物的认知度、理解度、接受度、支持度，使全面推行少走弯路，得以顺利实施。

携号转网是一个涉及多个主体、多方利益的系统工程，通过试点有利于构建、磨合具有整体性、有序性、内部结构优化的趋向的携号转网运行系统，以推动全面推行的顺利实施。

(其他答案言之有理，可酌情给分)

39. (14分)

(1) 知识角度：可从国体、中国共产党、政府、公民任意角度。

评分标准：

等级 等级描述

水平4 观点鲜明，能明确表达自己的见解；紧扣问题，全面展开论述，或就某点深入分析；知识运用准确、贴切；逻辑严密，条理清晰  
(9-10分)

水平3 观点比较明确，能表达自己的见解；能扣住问题展开论述，或能就某点分析；知识运用比较准确、贴切；逻辑性较强，有条理  
(6-8分)

水平2 观点不明确；论述不能集中指向问题，罗列知识；知识运用不正确；论述缺乏逻辑，条理性差  
(3-5分)

水平1 应答与试题无关；或重复试题内容；或没有应答  
(0-2分)

(2) 作答示例：

建议：学校正确引导厕所文明礼仪，注重创造良好的厕所文化教育环境，引导学生养成文明如厕习惯，抵制粗鄙如厕行为。例如“便后不冲水、乱丢厕纸、破坏厕所设施、厕所涂鸦”

等等都是不文明行为。

理由：文化对人的影响具有潜移默化的特点。

建议：国家完善服务设施。在符合国家有关标准的基础上对各类公共厕所设施实施改造提升，注重人文关怀，例如，完善排气除臭功能，安装臭味监测设施，设置统一醒目标志；具备条件的公共厕所尽可能向市民提供厕纸、洗手液、烘手机、置物架、挂衣钩等便民服

务设施，冬季提供温水洗手；可以增设第三卫生间，全面提升公共厕所硬件水平和市民如厕之便。

理由：政府有加强社会建设的职能。

(其他建议，合理给分)

41. (4) (8分) 评分标准：

1.《小蝌蚪找妈妈》传递了中国智慧、中国思维的魅力，正确认识了自己。《流浪地球》宣扬了中国的集体主义精神，各国共同协作一起拯救了人类自己，这符合世界人民的共同愿望，共同情感、共同价值追求，引起广泛共鸣。启示我们文化越是民族是，就越是世界的，要基于中华民族特有的文化内核打造电影精品，讲好中国故事，更好构筑中国精神、中国价值、中国力量，传播好中国文化。

2.《小蝌蚪找妈妈》的艺术呈现方式让中国独有的水墨画动起来，《流浪地球》采用当下最先进的影片拍摄和制作技术，时代感科技感带来令人震撼的视觉冲击。中国电影不论是内容还是形式、传播手段都要敢于创新，融入时代元素，推动中华优秀传统文化创造性转化、创新性发展，使中华民族最基本的文化基因与当代文化相适应、与现代社会相协调，以人们喜闻乐见的方式推广开来。

3.《小蝌蚪找妈妈》取材于画家齐白石创作的鱼虾等形象，《流浪地球》描述了亲人团聚与别离，以及过年、麻将、舞狮等中式生活化场景，说明中华文化源远流长、博大精深，中华优秀传统文化底蕴丰厚，精彩的故事原型并不少见，优秀传统文化是根，渗透在我们的血脉中，要充分挖掘优秀传统文化内涵，取其精华，从中汲取养分、感受魅力，要坚定文化自信心。

4.电影创作是一种虚构的现实，科幻电影与现实相互照应才能取得成功。《小蝌蚪找妈妈》契合了人们摆脱自身认识事物方式局限性的需求，《流浪地球》反映了人类的生存危机，启示通过电影讲好中国故事，要



立足人类实践的社会实践，反映实践中的问题，才能引起深度共鸣。

5.两部经典的成功离不开创作团队人员的共同努力，广大观众朋友的认可。这启示我们人民群众是主体，中国电影的创作要发挥人民群众的主体作用，集体的智慧；着眼于中国人民及至世界人民的精神文化需求。

(分答出任意3点得满分，其他答案言之有理，可酌情给)

历史参考答案及评分参考标准

第一部分 选择题(每小题4分，35个小题共140分)

12	13	14	15	16	17	18	19	20	21	22	23
C	C	A	D	C	A	A	B	A	B	C	D

37. (36分)

(1) (10分)

走向：中国：由宗法、分封制到专制主义中央集权确立；希腊：由君主制和贵族制转向民主制。

(4分)

原因：地理环境不同：中国地域广阔、需要中央集权进行有效统治。希腊三多一少，容易形成小国寡民的民主政治。

经济基础不同：中国以小农经济为主体需要中央集权保护。希腊是工商业经济和海外贸易为主，容易产生民主制。

政治基础不同：中国从西周的分封制到秦演变出了一套相对完整的官僚体制，能够进行有效统治。希腊主要是贵族城邦制，有自治传统。

思想基础不同：中国“家天下”思想占主导，相对封闭。希腊海外活动频繁，思想多元、开放(任意三点6分)

(2) (12分)

解读准确：分阶段说明社会生活与时代变迁的关系，分析出现这些新变化的原因和影响。论述逻辑清晰、合理。(10-12分)

解读准确：分阶段说社会生活与时代变迁的关系，分析出现新变化的原因和影响。论述逻辑清晰、合理。论述有一定的逻辑性。(6-10分)

解读基本准确：能够分阶段说明社会生活与时代变迁的关系，没有分析新变化的原因只说了一些影响。论述有一定的逻辑性。(4-6分)

解读不准确：只说明一些变化过程的一些史实，论述无逻辑。(0-4分)

示例：

晚清以来，沿海通商口岸租界地区人们服装、住宅、生活方式、交通工具出现中西风格并存、传统与近代并存现象。新的通讯工具也在上海出现。原因是在鸦片战争后，中国受到西方的侵略，被迫开放通商口岸，使西方文明传入；租界是西方文明传入的窗口。一定程度上促进了中国的社会进步，但改变不了西方侵略的事实。(5分)

到民国时期，内陆地区出现铁路。原因是清政府和有识之士认识到铁路的重要性，大力发展铁路建设。在铁路带动下生活面貌出现大的改观。推动了中国社会的现代化进程。(4分)

近代以来沿海与内地变化的原因，从国外说是工业革命改变人类推动经济发展，改变着人们的生活，把人类带入电气时代。从国内看，国门打开，国外近代的交通工具、通讯工具、建筑、服装、思想观念传入，客观上推动中国的社会进步。国内的政治革命与改革也对社会生活变迁起到重要的推动作用。(3分)

(3) (14分)

表现：创立君主立宪制、议会制、责任内阁制、政党政治。(任意3点6分)

理解：英国有君主和议会传统，在英国革命中，并没有废除君主而是确立了君主立宪制；政治上发展了议会制和责任内阁制，使英国长期稳定发展；经济上英国第一个完成了工业革命，并在殖民扩张中先后打败



了西班牙、荷兰、法国确立了世界霸权。思想上霍布斯和洛克宣传启蒙思想，促进了英国思想的近代化；牛顿创立经典力学，近代科学在英国发展；英国在保留君主制的前提下，顺利完成了向近代民主社会的转变。所以说英国相对和平的近代化转型是它世界霸权确立的基础。（任意 4 个方面 8 分）

40. (2) (8 分)

原因：法国和德国历史遗留问题的解决；法德合作能够最大限度的避免战争；法德和解符合两国人民的根本利益；法德两国领导人的远见卓识。（任意 2 点 4 分）

影响：欧洲一体化的进程加速推进；1967 年欧洲共同体正式诞生；1993 年欧洲联盟正式诞生；欧洲一体化进程提高了欧洲的国际地位，并促进了欧洲各国的发展。（任意 2 点 4 分）

41. (2) 任务：打败国民党反动派和美帝国主义的政治阴谋；争取解放战争的彻底胜利；进行以农业、工业、交通为主的经济恢复；召开政治协商会议；建立新中国，组建中央政府。（任意 4 点 8 分）

2019 年高三第二次统练文科综合能力测试（地理卷）

选择题每题（4 分）

1	2	3	4	5	6	7	8	9	10	11
C	B	A	C	B	A	B	D	A	C	C

36. (36 分)

1. (10 分) 每点 2 分最多 10 分

位置：西班牙位于法国以南，纬度较低，热量更充足，气温较高，农产品上市时间早（2 分）地形：沿海平原面积相对小（多山地，耕地较少）（2 分）

气候：东部沿海为地中海气候，夏季气温较高（2 分），光照充足，昼夜温差大（2 分）

降水相对少需要灌溉，雨热不同期（2 分）有利于糖分积累，作物品质更高

土壤：土壤肥沃（2 分）

水源：有河流流经，灌溉水源充足（2 分）

2. (6 分) 每点 2 分最多 6 分

位置：临近（2）西班牙距离英国、法国较近。

气候：西班牙纬度较低，地中海气候，夏季降水少（2 分），晴天多，光照充足；（2 分）

英国、法国为温带海洋性气候，气候终年温暖湿润，阳光不充足。多阴雨天（2 分）。海水温度低。人们向往温暖阳光假日。（2 分）

旅游资源评价：西班牙旅游资源丰富，旅游业发达，基础设施完备，接待能力强。（2 分）

3. (10 分) 每点 2 分最多 10 分

人口变化特点：≥65 岁老年人口比例不断上升；人口老龄化趋势加剧（2 分）

0-14 岁青少年儿童所占比例，在 2020 年之前上升，此后波动下降；未成年人口比例相对稳定（2 分）

15-64 岁青壮年（劳动人口）比例不断下降；（2 分）

措施：鼓励生育（2 分）；延迟退休（2 分）；接纳外籍劳工；完善社会保障制度和社区服务制度（2 分）

4. (10 分)。每点 2 分最多 10 分

铁路运输优势：受自然因素影响较小（2 分），连续性较好（2 分）；速度较快（2 分），运输的路线短，运输时间较短，运输效率高。（2 分）

货源、市场、贸易：中国与欧洲贸易量大、商品结构互补性大（2 分）途径的欧洲国家经济发达，能提供更多的货源和更广阔的市场

40. (1) (10 分) 每点 2 分最多 10 分

类型：风能、核能、水能、潮汐能、太阳能、地热能（6 分）

以下答对一个就给（4 分）

风能：主要在西风带上，风力大；核能：经济发达地区，技术先进

水能：河流多源于山地，落差大；气候较湿润，河流流量大；潮汐能：沿海、有潮汐能

太阳能：主要在南部地中海气候区；夏季光照充足

41. (1) (6分) 每点2分最多6分

①有利于缩短三地(港珠澳地区之间)行程，提高运输效率，降低运输成本(2分)；

②促进优势互补，带动经济发展(2分)；带动“珠三角”地区旅游业发展

③缩小区域差异(2分)。促进港珠澳经济共同发展。

加强区域间的联系，(2分)促进商品交换，提高城市化水平(2分)，提供就业机会，完善基础设施，(2分)

(2) (4分) 每点2分最多4分

保障大型轮船航线通畅(2分)

减少对中华白海豚生存区域的干扰(2分)

不妨碍飞机起降(2分)