

2022—2023 学年高三考前定位考试
理科数学

考生注意:

1. 答题前,考生务必将自己的姓名、准考证号填写在试卷和答题卡上,并将准考证号条形码粘贴在答题卡上的指定位置。
2. 回答选择题时,选出每小题答案后,用铅笔把答题卡对应题目的答案标号涂黑。如需改动,用橡皮擦干净后,再选涂其他答案标号。回答非选择题时,将答案写在答题卡上。写在本试卷上无效。
3. 考试结束后,将本试卷和答题卡一并交回。

一、选择题:本题共 12 小题,每小题 5 分,共 60 分。在每小题给出的四个选项中,只有一项是符合题目要求的。

1. 已知集合 $A = \{x | \sqrt{x} \geq 1\}$, $B = \{x | |x| \leq 2\}$, 则 $A \cup B =$
A. $[1, +\infty)$ B. $[1, 2]$ C. $[2, +\infty)$ D. $[-2, +\infty)$
2. 若复数 $z = \frac{m+2i}{1-i}$ 在复平面内对应的点位于第二象限,则实数 m 的取值范围是
A. $(-2, 2)$ B. $(-2, 1)$
C. $(-1, 1)$ D. $(-\infty, -2) \cup (2, +\infty)$
3. 已知函数 $f(x) = \begin{cases} \log_2 x, & 0 < x < 1, \\ 4^{x-2}, & x \geq 1, \end{cases}$ 则 $f(f(1)) =$
A. -4 B. -2 C. 2 D. 4
4. 将函数 $f(x)$ 的图象上所有点向右平移 $\frac{\pi}{6}$ 个单位长度,然后横坐标伸长为原来的 2 倍,纵坐标不变,得到函数 $y = \sin x$ 的图象,则 $f(x)$ 在区间 $[0, \frac{\pi}{4}]$ 上的值域为
A. $[-\frac{\sqrt{3}}{2}, 1]$ B. $[-\frac{1}{2}, 1]$ C. $[\frac{1}{2}, 1]$ D. $[\frac{\sqrt{3}}{2}, 1]$
5. 已知 $(ax - \frac{1}{\sqrt{x}})^9$ 的展开式中的常数项是 672, 则 $a =$
A. 3^9 B. 2^9 C. 2 D. 1
6. 已知等腰梯形 $ABCD$ 中, $AB \parallel DC$, $AB = 2DC = 2AD = 2$, BC 的中点为 E , 则 $\vec{AE} =$
A. $\frac{1}{3}\vec{DB} + \frac{5}{3}\vec{AC}$ B. $\frac{1}{3}\vec{DB} + \frac{5}{6}\vec{AC}$ C. $\frac{1}{3}\vec{DB} + \frac{1}{2}\vec{AC}$ D. $\frac{2}{3}\vec{DB} + \frac{5}{6}\vec{AC}$

7. 已知三棱锥 $P-ABC$ 中, $PA \perp$ 平面 ABC , $AB = 4$, $AC = 4$, $BC = 4\sqrt{2}$, $PA = 6$, D 为 PB 的中点, 则异面直线 AD 与 PC 所成角的余弦值为

- A. $\frac{2\sqrt{15}}{15}$ B. $\frac{5\sqrt{3}}{12}$ C. $\frac{5}{14}$ D. $\frac{9}{13}$

8. 已知函数 $f(x) = \begin{cases} ae^x, & x < a, \\ -(x-2)^2, & x \geq a \end{cases}$ 的最大值为 0, 则实数 a 的取值范围为

- A. $[0, 2]$ B. $[0, 1]$ C. $(-\infty, 2]$ D. $[0, 2)$

9. 在 $\triangle ABC$ 中, 角 A, B, C 的对边分别为 a, b, c , 若 $\sin A = \sin B \cos C$ 且 $c = 2\sqrt{3}$, $A = \frac{\pi}{6}$, 则

$$\frac{c+a}{\sin C + \sin A} =$$

- A. $8\sqrt{3}$ B. $4\sqrt{3}$ C. 8 D. 4

10. 2022 年卡塔尔世界杯上, 32 支球队分成 8 个小组, 每个小组的前两名才能出线, 晋级到 1/8 决赛. 某参赛队在开赛前预测: 本队获得小组第一的概率为 0.6, 获得小组第二的概率为 0.3; 若获得小组第一, 则 1/8 决赛获胜的概率为 0.9, 若获得小组第二, 则 1/8 决赛获胜的概率为 0.3. 那么在已知该队小组出线的条件下, 其 1/8 决赛获胜的概率为

- A. 0.54 B. 0.63 C. 0.7 D. 0.9

11. 已知抛物线 $C: y^2 = 4x$ 的焦点为 F , 点 P 是 C 上异于原点 O 的任意一点, 线段 PF 的中点为 M , 则以 F 为圆心且与直线 OM 相切的圆的面积最大值为

- A. π B. $\frac{\pi}{2}$ C. $\frac{\pi}{3}$ D. $\frac{\pi}{4}$

12. 已知函数 $f(x) = x^3 - x + a$ 的图象关于原点对称, 则与曲线 $y = f(x)$ 和 $y = x^2 + \frac{1}{4}$ 均相切的直线 l 有

- A. 1 条 B. 2 条 C. 3 条 D. 4 条

二、填空题: 本题共 4 小题, 每小题 5 分, 共 20 分。

13. 十九世纪初, 我国数学家董祐诚在研究椭圆求周长时说: “椭圆求周旧无其术, 秀水朱先生鸿为言圆柱斜剖成椭圆, 是可以勾股形求之。”也就是说可以通过斜截圆柱法得到椭圆. 若用一个与圆柱底面成 60° 的平面截该圆柱, 则截得的椭圆的离心率为_____.

14. 若 $(\sin \frac{\alpha}{2} + \cos \frac{\alpha}{2})^2 + \sqrt{3} \cos \alpha = \frac{5}{2}$, 则 $\cos(2\alpha + \frac{2\pi}{3}) =$ _____.

15. 已知函数 $f(x) = \frac{2^x - 2^{-x}}{\ln(e^{2x} + 1) - ax}$ 是 \mathbf{R} 上的奇函数, 则实数 $a =$ _____.

16. 在正四棱柱 $ABCD - A_1B_1C_1D_1$ 中, $AB = 1$, $AA_1 = 3$, 点 P 为侧棱 DD_1 上一点, 过 A, C 两点作垂直于 BP 的截面, 以此截面为底面, 以 B 为顶点作棱锥, 则该棱锥的外接球的表面积取值范围是_____.

三、解答题:共70分.解答应写出文字说明,证明过程或演算步骤.第17~21题为必考题,每个试题考生都必须作答.第22,23题为选考题,考生根据要求作答.

(一)必考题:共60分.

17. (12分)

在等比数列 $\{a_n\}$ 中, $a_7=8a_4$,且 $\frac{1}{2}a_2, a_3-4, a_4-12$ 成等差数列.

(I)求 $\{a_n\}$ 的通项公式;

(II)设 $b_n=(-1)^n \log_2 a_n$,数列 $\{b_n\}$ 的前 n 项和为 T_n ,求满足 $|T_k|=20$ 的 k 的值.

18. (12分)

小王去自动取款机取款,发现自己忘记了6位密码的最后一位数字,他决定从0~9中不重复地随机选择1个进行尝试,直到输对密码,或者输错三次银行卡被锁定为止.

(I)求小王的该银行卡被锁定的概率;

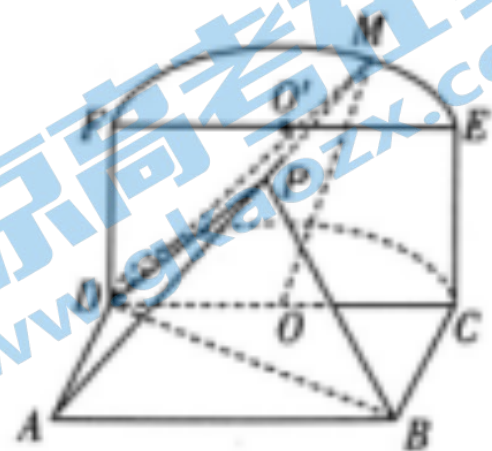
(II)设小王尝试输入该银行卡密码的次数为 X ,求 X 的分布列、数学期望及方差.

19. (12分)

如图,矩形 $ABCD$ 与半圆柱 $O'O$ 相接,半圆柱的轴截面 $DCEF \perp$ 平面 $ABCD$,线段 DC 的中点为 O , M 是 \widehat{EF} 上一点, $AD=1, AB=2, OM$ 与底面 $ABCD$ 所成的角为 $\frac{\pi}{4}$.

(I)在线段 AM 上有一点 P 满足 $AP=2PM$,证明: $MO \parallel$ 平面 PBD ;

(II)若 $\widehat{FM}=2\widehat{ME}$,求平面 AMD 与平面 $ABCD$ 的夹角的余弦值.



20. (12分)

已知函数 $f(x)=(x-1)e^x-ax^2$.

(I)当 $a=\frac{e^2}{2}$ 时,求 $f(x)$ 的极值;

(II)若关于 x 的不等式 $f(x)+(2-x)e^x \geq (2-a)x+a$ 在 $[0, +\infty)$ 上恒成立,求实数 a 的取值范围.

21. (12分)

设双曲线 $E: \frac{x^2}{a^2} - \frac{y^2}{b^2} = 1 (a>0, b>0)$ 的左、右焦点分别为 $F_1, F_2, |F_1F_2|=2\sqrt{5}$,且 E 的渐近线方程为 $y = \pm \frac{x}{2}$.

(I)求 E 的方程;

(II)过 F_2 作两条相互垂直的直线 l_1 和 l_2 ,与 E 的右支分别交于 A, C 两点和 B, D 两点,求四边形 $ABCD$ 面积的最小值.

(二)选考题:共10分.请考生在第22,23题中任选一题作答,如果多做,则按所做的第一题计分.

22. [选修4-4:坐标系与参数方程](10分)

在平面直角坐标系 xOy 中,曲线 C 的参数方程为 $\begin{cases} x = \sqrt{3} \cos \theta \\ y = \sin \theta \end{cases}$ (θ 为参数),直线 l 过点

$M(1,0)$,且倾斜角为 α .

(I)若 l 经过 C 上纵坐标最大的点,求 l 的参数方程;

(II)若 l 与 C 交于 A, B 两点,且 $||MA| - |MB|| = \frac{2}{5}$,求 $\cos \alpha$ 的值.

23. [选修4-5:不等式选讲](10分)

已知函数 $f(x) = |x-1| + |x-2|$.

(I)求不等式 $f(x) < x$ 的解集;

(II)已知 a, b 为正实数,证明:关于 x 的不等式 $f(x) \geq \frac{2\sqrt{a} + 2\sqrt{b} - 2}{a+b}$ 的解集为 \mathbf{R} .

一、选择题:本题共 12 小题,每小题 5 分,共 60 分.

1. 答案 D

命题意图 本题考查集合的表示与运算.

解析 由 $A = \{x | x \geq 1\}$, $B = \{x | |x| \leq 2\} = \{x | -2 \leq x \leq 2\}$, 则 $A \cup B = [-2, +\infty)$.

2. 答案 A

命题意图 本题考查复数的基本运算及几何意义.

解析 由题得 $z = \frac{m+2i}{1-i} = \frac{(m+2i)(1+i)}{2} = \frac{m-2}{2} + \frac{m+2}{2}i$, 因为 z 对应的点位于第二象限, 所以 $\begin{cases} m-2 < 0, \\ m+2 > 0, \end{cases}$ 所以 $-2 < m < 2$.

3. 答案 B

命题意图 本题考查分段函数求值.

解析 $f(1) = 4^{1-2} = \frac{1}{4}$, $\therefore f(f(1)) = f\left(\frac{1}{4}\right) = \log_2 \frac{1}{4} = -2$.

4. 答案 C

命题意图 本题考查三角函数的图象与性质.

解析 将 $y = \sin x$ 的图象上所有点的横坐标缩短为原来的 $\frac{1}{2}$, 纵坐标不变得到 $y = \sin 2x$ 的图象, 再将 $y = \sin 2x$

图象上所有点向左平移 $\frac{\pi}{6}$ 个单位长度得到 $f(x) = \sin\left(2x + \frac{\pi}{3}\right)$ 的图象. 当 $x \in \left[0, \frac{\pi}{4}\right]$ 时, $2x + \frac{\pi}{3} \in \left[\frac{\pi}{3}, \frac{5\pi}{6}\right]$,

$\sin\left(2x + \frac{\pi}{3}\right) \in \left[\frac{1}{2}, 1\right]$.

5. 答案 C

命题意图 本题考查二项式定理的应用.

解析 展开式的通项为 $T_{r+1} = C_9^r (ax)^{9-r} \cdot \left(-\frac{1}{\sqrt{x}}\right)^r = C_9^r \cdot a^{9-r} (-1)^r \cdot x^{9-\frac{3r}{2}}$, 令 $9 - \frac{3r}{2} = 0$, 得 $r = 6$, \therefore 常数项是 $T_{6+1} = a^3 \cdot C_9^6 = 672$, 故 $a = 2$.

6. 答案 B

命题意图 本题考查平面向量的线性运算.

解析 $\because \vec{AB} = \vec{DB} - \vec{DA} = \vec{DB} - (\vec{DC} + \vec{CA}) = \vec{DB} - \vec{DC} - \vec{CA} = \vec{DB} - \frac{1}{2}\vec{AB} - \vec{CA}$, $\therefore \frac{3}{2}\vec{AB} = \vec{DB} - \vec{CA}$, $\therefore \vec{AB} = \frac{2}{3}\vec{DB} +$

$\frac{2}{3}\vec{AC}$, $\therefore \vec{AE} = \frac{1}{2}(\vec{AB} + \vec{AC}) = \frac{1}{2}\left(\frac{2}{3}\vec{DB} + \frac{2}{3}\vec{AC}\right) + \frac{1}{2}\vec{AC} = \frac{1}{3}\vec{DB} + \frac{5}{6}\vec{AC}$.

7. 答案 D

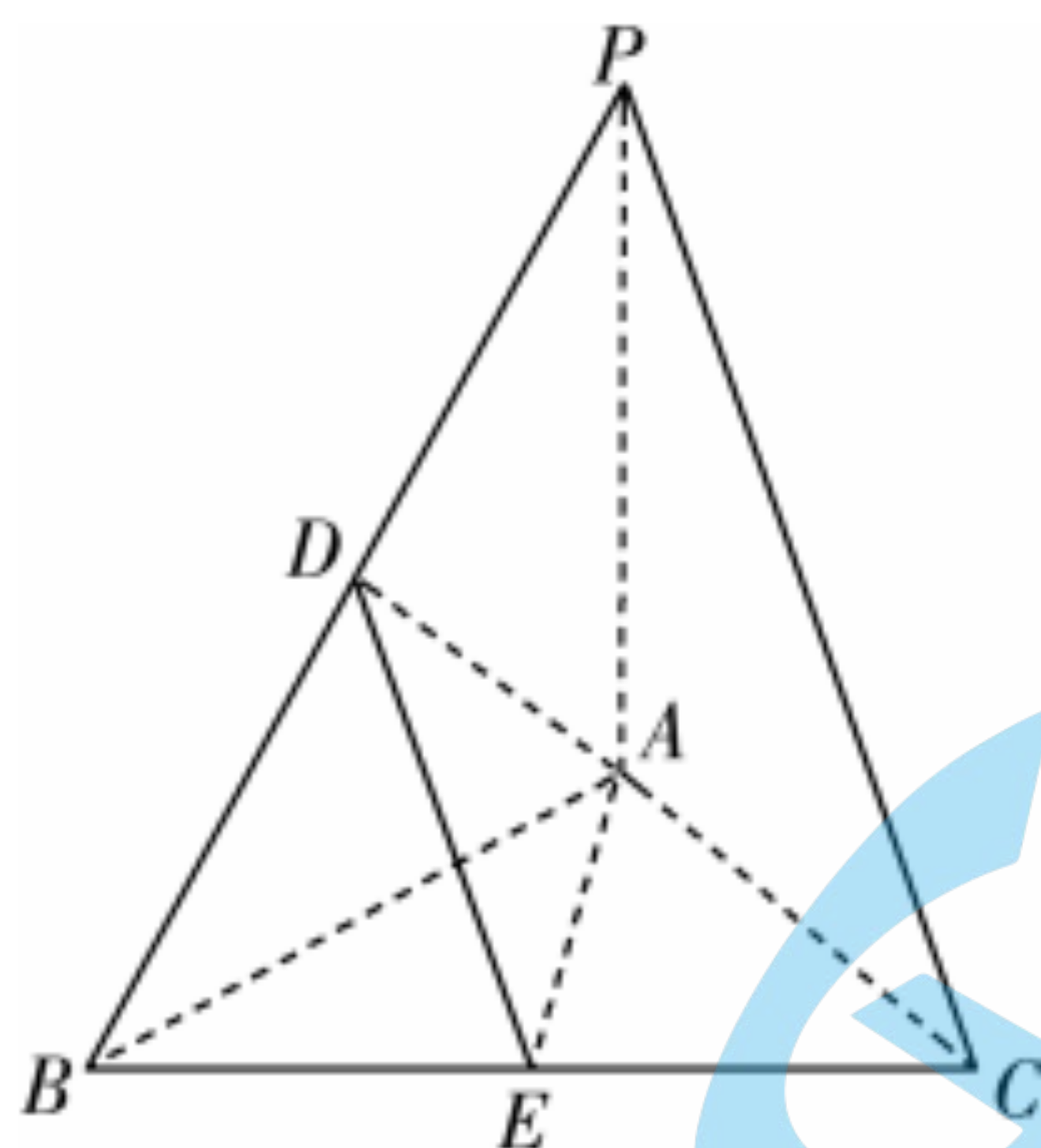
命题意图 本题考查异面直线所成的角的计算.

解析 如图所示, 取 BC 的中点 E , 连接 AE, DE , 则 $DE \parallel PC$, $\angle ADE$ 或其补角即为异面直线 AD 与 PC 所成的角.

容易计算得 $AE = 2\sqrt{2}$, $DE = \sqrt{13}$, $DA = \sqrt{13}$, 在 $\triangle ADE$ 中, 根据余弦定理可得 $\cos \angle ADE = \frac{AD^2 + DE^2 - AE^2}{2AD \cdot DE} =$

进入北京高考在线网站: <http://www.gaokzx.com/> 获取更多高考资讯及各类测试试题答案

$$\frac{13+13-8}{2 \times 13} = \frac{9}{13}$$



8. 答案 A

命题意图 本题考查分段函数的单调性.

解析 若 $a=0$, $f(x) = \begin{cases} 0, & x < 0, \\ -(x-2)^2, & x \geq 0, \end{cases}$ $\therefore f(x)$ 的最大值为 0. 若 $a < 0$, 当 $x < a$ 时, $f(x) > 0$, 不符合条件. 若 $a > 0$, 当 $x < a$ 时, $f(x) = -ae^x$ 单调递减, $f(x) < 0$, 当 $x \geq a$ 时, 根据二次函数的性质, 要使 $f(x)$ 的最大值为 0, 需 $a \leq 2$. 综上可得 $0 \leq a \leq 2$.

9. 答案 D

命题意图 本题考查正弦定理的应用及三角恒等变换.

解析 在 $\triangle ABC$ 中, 由 $\sin A = \sin B \cos C$ 可得 $\sin(B+C) = \sin B \cos C$, 所以 $\cos B \sin C = 0$, 因为 $B, C \in (0, \pi)$,

所以 $\sin C \neq 0$, 且 $\cos B = 0$, 所以 $B = \frac{\pi}{2}$, 又 $A = \frac{\pi}{6}$, 可得 $C = \frac{\pi}{3}$, 所以 $\frac{c+a}{\sin C + \sin A} = \frac{c}{\sin C} = \frac{2\sqrt{3}}{\frac{\sqrt{3}}{2}} = 4$.

10. 答案 C

命题意图 本题考查条件概率的计算.

解析 设该队小组出线为事件 A, 该队 1/8 决赛获胜为事件 B, 则 $P(A) = 0.3 + 0.6 = 0.9$, $P(AB) = 0.6 \times 0.9 + 0.3 \times 0.3 = 0.63$, 所以 $P(B|A) = \frac{P(AB)}{P(A)} = \frac{0.63}{0.9} = 0.7$.

11. 答案 B

命题意图 本题考查抛物线与直线的位置关系.

解析 设 $P(t^2, 2t)$ (不妨令 $t > 0$), 由已知可得 $F(1, 0)$, 则 $M(\frac{t^2+1}{2}, t)$, 所以直线 OM 的方程为 $y = \frac{2t}{t^2+1}x$, 设 $k = \frac{2t}{t^2+1}$, 则 $k = \frac{2}{t + \frac{1}{t}} \leq 1$ (当且仅当 $t=1$ 时取“=”), 所以点 F 到直线 OM 的距离为 $\frac{|k|}{\sqrt{k^2+1}} = \frac{1}{\sqrt{1+\frac{1}{k^2}}} \leq$

$\frac{\sqrt{2}}{2}$, 即圆 F 的半径最大值为 $\frac{\sqrt{2}}{2}$, 面积最大值为 $\frac{\pi}{2}$.

12. 答案 C

命题意图 本题考查导数的几何意义.

解析 根据题意, $f(-x) = -f(x)$, 所以 $a=0$, 所以 $f(x) = x^3 - x$, 因为 $f'(x) = 3x^2 - 1$, 所以 $y = f(x)$ 在点 $(x_1, f(x_1))$ 处的切线方程为 $y - (x_1^3 - x_1) = (3x_1^2 - 1)(x - x_1)$, 整理得 $y = (3x_1^2 - 1)x - 2x_1^3$. 设 $g(x) = x^2 + \frac{1}{4}$, 直线

l 与 $g(x)$ 的图象相切于点 $(x_2, g(x_2))$, 因为 $g'(x) = 2x$, 所以切线方程为 $y - (x_2^2 + \frac{1}{4}) = 2x_2(x - x_2)$, 整理得

进入北京高考在线网站: <http://www.gaokzx.com/>

获取更多高考资讯及各类测试试题答案!

$$y = 2x_2x - x_2^2 + \frac{1}{4}, \text{ 则 } \begin{cases} 3x_1^2 - 1 = 2x_2, \\ -2x_1^3 = -x_2^2 + \frac{1}{4}, \end{cases} (*) \text{ 整理得 } \left(\frac{3x_1^2}{2} - \frac{1}{2}\right)^2 - 2x_1^3 - \frac{1}{4} = \frac{9}{4}x_1^4 - 2x_1^3 - \frac{3}{2}x_1^2 = 0. \text{ 令}$$

$$h(x) = \frac{9}{4}x^4 - 2x^3 - \frac{3}{2}x^2, \text{ 则 } h'(x) = 9x^3 - 6x^2 - 3x = 3x(3x+1)(x-1).$$

当 x 变化时, $h'(x), h(x)$ 的变化情况如下表:

x	$(-\infty, -\frac{1}{3})$	$-\frac{1}{3}$	$(-\frac{1}{3}, 0)$	0	$(0, 1)$	1	$(1, +\infty)$
$h'(x)$	-	0	+	0	-	0	+
$h(x)$	↘	$-\frac{7}{108}$	↗	0	↘	$-\frac{5}{4}$	↗

又 $h(-1) > 0, h(2) > 0$, 故 $h(x)$ 共有 3 个零点, 一个为 0, 另外两个分别位于区间 $(-1, -\frac{1}{3})$ 和 $(1, 2)$ 内, 所以方程组 (*) 有 3 组解, 故满足题中条件的直线 l 有 3 条.

二、填空题: 本题共 4 小题, 每小题 5 分, 共 20 分.

13. 答案 $\frac{\sqrt{3}}{2}$

命题意图 本题考查椭圆的基本性质.

解析 设圆柱的底面半径为 r , 则椭圆短轴长为 $2b = 2r$, 长轴长为 $2a = 4r$, 则 $\frac{b}{a} = \frac{1}{2}$, 离心率为 $\frac{c}{a} = \frac{\sqrt{3}}{2}$.

14. 答案 $-\frac{1}{8}$

命题意图 本题考查三角恒等变换的应用.

解析 由 $(\sin \frac{\alpha}{2} + \cos \frac{\alpha}{2})^2 + \sqrt{3} \cos \alpha = \frac{5}{2}$, 得 $\sin \alpha + \sqrt{3} \cos \alpha = 2 \sin(\alpha + \frac{\pi}{3}) = \frac{3}{2}$, 所以 $\sin(\alpha + \frac{\pi}{3}) = \frac{3}{4}$, 故

$$\cos(2\alpha + \frac{2\pi}{3}) = 1 - 2\sin^2(\alpha + \frac{\pi}{3}) = -\frac{1}{8}.$$

15. 答案 1

命题意图 本题考查奇函数的性质.

解析 设 $g(x) = 2^x - 2^{-x}, h(x) = \ln(e^{2x} + 1) - ax$. 因为 $g(-x) + g(x) = 2^{-x} - 2^x + 2^x - 2^{-x} = 0$, 所以 $g(x)$ 为奇函数, 则 $h(x)$ 为偶函数, 则 $h(-x) = \ln(e^{-2x} + 1) + ax = \ln\left(\frac{e^{2x} + 1}{e^{2x}}\right) + ax = \ln(e^{2x} + 1) - (2-a)x = h(x) = \ln(e^{2x} + 1) - ax$, 所以 $2-a = a, a = 1$.

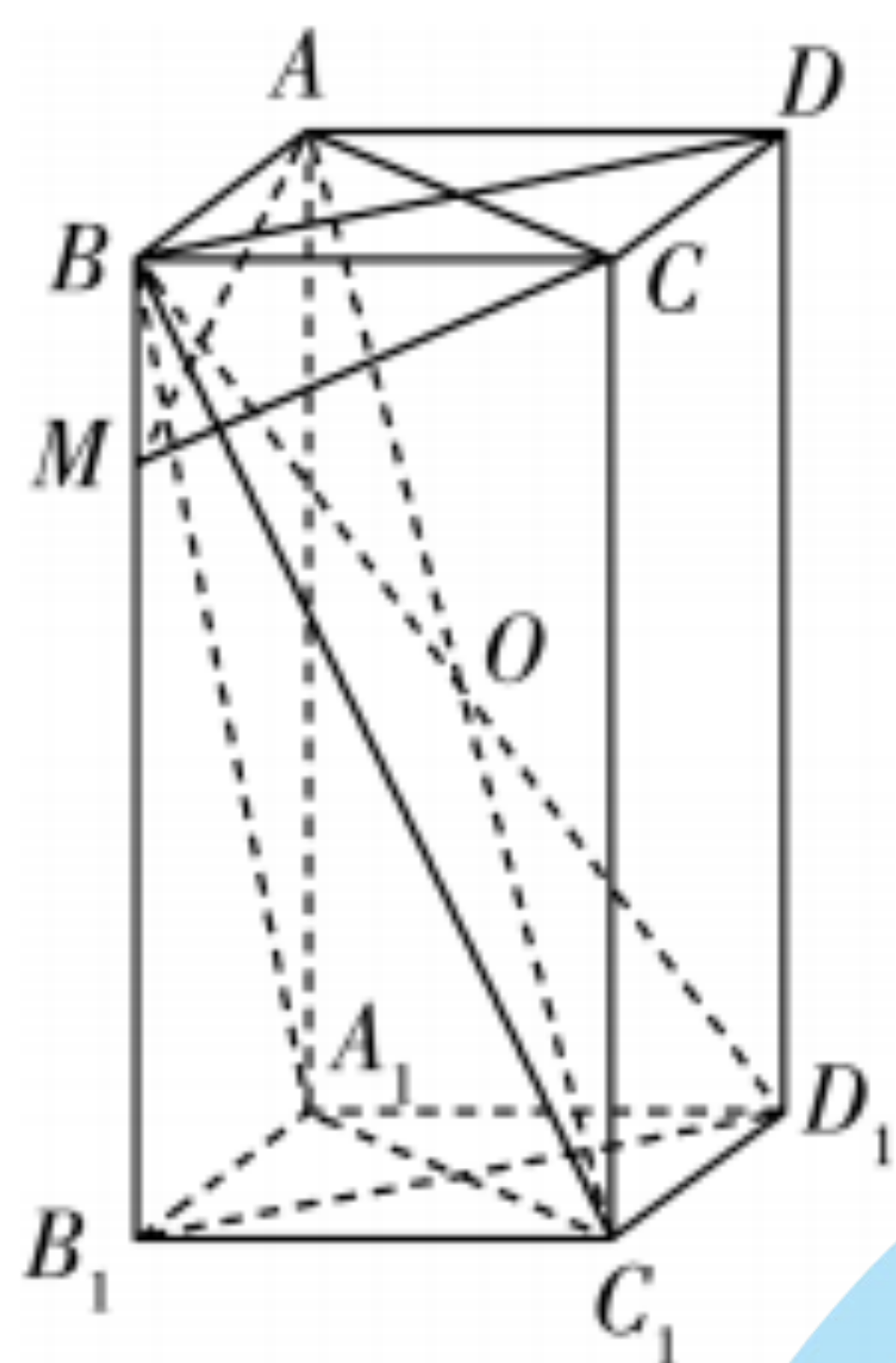
16. 答案 $[\frac{19}{9}\pi, 11\pi]$

命题意图 本题考查简单几何体的结构特征.

解析 如图所示, 当 P 与点 D 重合时, 过 A, C 与 BP 垂直的截面为平面 ACC_1A_1 , 四棱锥 $B-ACC_1A_1$ 的外接球的球心为对角面 ACC_1A_1 的中心 O , 直径为 $AC_1 = \sqrt{2+9} = \sqrt{11}$, 此时外接球的表面积最大, 最大为 11π . 当 P 与点 D_1 重合时, 过 A, C 与 BP 垂直的截面为平面 ACM , 在平面 BDD_1B_1 内利用三角形相似可以求得 $BM = \frac{\sqrt{2}}{2} \times \frac{\sqrt{2}}{3} =$

$\frac{1}{3}$, 三棱锥 $B-ACM$ 的外接球直径为 $\sqrt{\frac{1}{3^2} + 1^2 + 1^2} = \sqrt{\frac{19}{9}}$, 此时外接球的表面积最小, 最小为 $\frac{19}{9}\pi$.

进入北京高考在线网站: <http://www.gaokzx.com/> 获取更多高考资讯及各类测试试题答案!



三、解答题：共 70 分。解答应写出文字说明，证明过程或演算步骤。

17. 命题意图 本题考查等差数列与等比数列的基本性质。

解析 (I) 设 $\{a_n\}$ 的公比为 q (1 分)

$\because a_7 = 8a_4, \therefore a_4 q^3 = 8a_4, \therefore q = 2$ (2 分)

$\because \frac{1}{2}a_2, a_3 - 4, a_4 - 12$ 成等差数列,

$\therefore 2(a_3 - 4) = \frac{1}{2}a_2 + a_4 - 12, \therefore 2(4a_1 - 4) = a_1 + 8a_1 - 12, \therefore a_1 = 4$ (4 分)

$\therefore a_n = 4 \times 2^{n-1} = 2^{n+1}$ (6 分)

(II) $b_n = (-1)^n \log_2 a_n = (-1)^n (n+1)$ (7 分)

当 k 为偶数时, $T_k = -2 + 3 - 4 + 5 - \dots - k + (k+1) = \frac{k}{2}$,

令 $|T_k| = \frac{k}{2} = 20$, 得 $k = 40$; (9 分)

当 k 为奇数时, $T_k = T_{k+1} - (k+2) = \frac{k+1}{2} - (k+2) = -\frac{k+3}{2}$,

令 $|T_k| = \frac{k+3}{2} = 20$, 得 $k = 37$ (11 分)

$\therefore k = 40$ 或 37 (12 分)

18. 命题意图 本题考查相互独立事件的概率计算以及随机变量的分布列与期望。

解析 (I) 设“小王的该银行卡被锁定”为事件 A ,

则 $P(A) = \frac{9}{10} \times \frac{8}{9} \times \frac{7}{8} = \frac{7}{10}$ (3 分)

(II) 由题意, X 的所有可能取值为 1, 2, 3, (4 分)

则 $P(X=1) = \frac{1}{10}, P(X=2) = \frac{9}{10} \times \frac{1}{9} = \frac{1}{10}, P(X=3) = \frac{9}{10} \times \frac{8}{9} \times 1 = \frac{4}{5}$, (7 分)

所以 X 的分布列为

X	1	2	3
P	$\frac{1}{10}$	$\frac{1}{10}$	$\frac{4}{5}$

..... (8 分)

所以数学期望 $E(X) = 1 \times \frac{1}{10} + 2 \times \frac{1}{10} + 3 \times \frac{4}{5} = \frac{27}{5}$, (10 分)

方差 $D(X) = \left(1 - \frac{27}{5}\right)^2 \times \frac{1}{10} + \left(2 - \frac{27}{5}\right)^2 \times \frac{1}{10} + \left(3 - \frac{27}{5}\right)^2 \times \frac{4}{5} = \frac{41}{5}$ (12 分)

19. 命题意图 本题考查线面平行的证明以及空间向量的应用.

解析 (I) 如图, 连接 AO , 交 BD 于 Q , 连接 PQ .

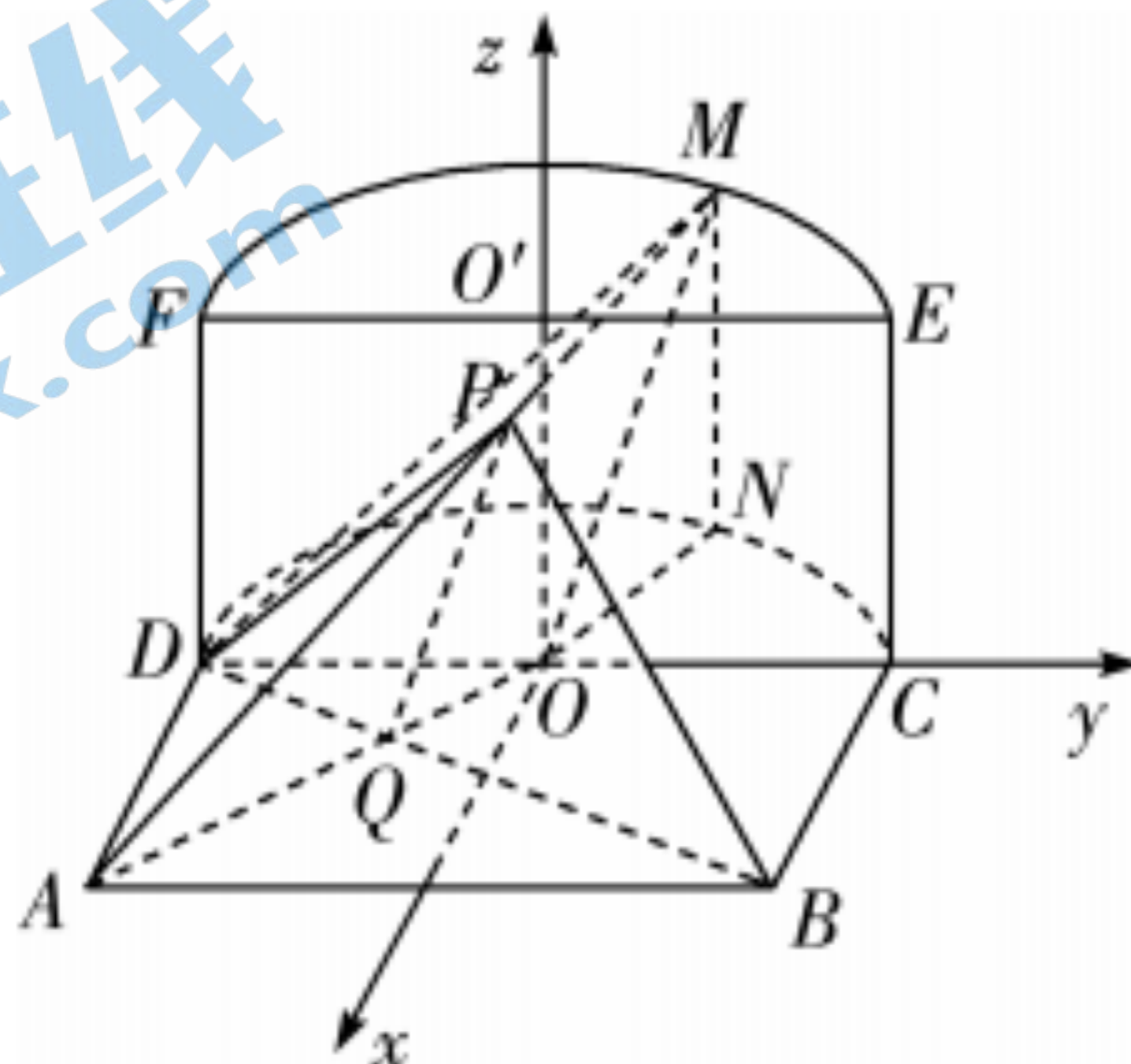
因为 $OD \parallel AB$, 由条件可知 $\triangle AQB \sim \triangle OQD$, 所以 $\frac{AQ}{QO} = \frac{AB}{DO} = 2$ (2分)

因为 $AP = 2PM$, 所以 $MO \parallel PQ$ (3分)

又 $MO \not\subset$ 平面 PBD , $PQ \subset$ 平面 PBD , 所以 $MO \parallel$ 平面 PBD (4分)

(II) 作 $MN \perp$ 平面 $ABCD$ 于 N , 则 N 在 \widehat{DC} 上, 连接 ON , 则 ON 为 OM 在平面 $ABCD$ 内的射影, 所以 $\angle MON$ 为 OM 与底面 $ABCD$ 所成的角, 所以 $\angle MON = \frac{\pi}{4}$, 所以 $ON = MN = 1$ (5分)

以 O 为坐标原点, 过 O 且与 DA 平行的直线为 x 轴, 直线 OC 为 y 轴, 直线 OO' 为 z 轴, 建立空间直角坐标系, 如图.



..... (6分)

因为 $\widehat{FM} = 2\widehat{ME}$, 所以 $\angle CON = \frac{\pi}{3}$, 则 $D(0, -1, 0)$, $A(1, -1, 0)$, $M(-\frac{\sqrt{3}}{2}, \frac{1}{2}, 1)$,

所以 $\vec{DA} = (1, 0, 0)$, $\vec{DM} = (-\frac{\sqrt{3}}{2}, \frac{3}{2}, 1)$ (7分)

设平面 AMD 的法向量为 $\mathbf{n} = (x, y, z)$, 则

$$\begin{cases} \vec{DA} \cdot \mathbf{n} = 0, \\ \vec{DM} \cdot \mathbf{n} = 0, \end{cases} \text{ 所以 } \begin{cases} x = 0, \\ -\frac{\sqrt{3}}{2}x + \frac{3}{2}y + z = 0, \end{cases} \text{ 令 } y = 2, \text{ 则 } \mathbf{n} = (0, 2, -3). \text{ (9分)}$$

易知平面 $ABCD$ 的一个法向量为 $\mathbf{m} = (0, 0, 1)$, (10分)

设平面 AMD 与平面 $ABCD$ 的夹角为 α , 则

$$\cos \alpha = \frac{|\mathbf{n} \cdot \mathbf{m}|}{|\mathbf{n}| \cdot |\mathbf{m}|} = \frac{3}{\sqrt{13}} = \frac{3\sqrt{13}}{13}, \text{ 所以平面 } AMD \text{ 与平面 } ABCD \text{ 的夹角的余弦值为 } \frac{3\sqrt{13}}{13}. \text{ (12分)}$$

20. 命题意图 本题考查利用导数研究函数的性质.

解析 (I) 当 $a = \frac{e^2}{2}$ 时, $f(x) = (x-1)e^x - \frac{e^2}{2}x^2$,

则 $f'(x) = e^x + (x-1)e^x - e^2x = x(e^x - e^2)$ (2分)

令 $f'(x) > 0$, 得 $x < 0$ 或 $x > 2$, 令 $f'(x) < 0$, 得 $0 < x < 2$,

所以 $f(x)$ 在 $(-\infty, 0)$ 上单调递增, 在 $(0, 2)$ 上单调递减, 在 $(2, +\infty)$ 上单调递增, (4分)

所以 $f(x)_{\text{极大值}} = f(0) = -1$, $f(x)_{\text{极小值}} = f(2) = -e^2$ (5分)

(II) 由 $f(x) + (2-x)e^x \geq (2-a)x + a$, 得 $e^x - ax^2 \geq (2-a)x + a$,

即 $e^x - 2x \geq a(x^2 - x + 1)$, 因为 $x^2 - x + 1 > 0$, 所以 $a \leq \frac{e^x - 2x}{x^2 - x + 1}$ (6分)

进入北京高考在线网站: <http://www.gaokzx.com/> - 获取更多高考资讯及各类测试试题答案!

令 $h(x) = \frac{e^x - 2x}{x^2 - x + 1} (x \geq 0)$,

则 $h'(x) = \frac{(x^2 - x + 1)(e^x - 2) - (2x - 1)(e^x - 2x)}{(x^2 - x + 1)^2} = \frac{(x - 1)[(x - 2)e^x + 2(x + 1)]}{(x^2 - x + 1)^2}$ (8分)

令 $\varphi(x) = (x - 2)e^x + 2(x + 1) (x \geq 0)$, 则 $\varphi'(x) = (x - 1)e^x + 2$.

令 $q(x) = (x - 1)e^x + 2$, 则 $q'(x) = xe^x$,

因为当 $x \geq 0$ 时, $q'(x) = xe^x \geq 0$,

所以 $\varphi'(x)$ 在 $[0, +\infty)$ 上单调递增, $\varphi'(x) \geq \varphi'(0) = 1$,

所以 $\varphi(x)$ 在 $[0, +\infty)$ 上单调递增, $\varphi(x) \geq \varphi(0) = 0$ (10分)

所以当 $0 < x < 1$ 时, $h'(x) < 0$, $h(x)$ 单调递减, 当 $x > 1$ 时, $h'(x) > 0$, $h(x)$ 单调递增,

所以当 $x \geq 0$ 时, $h(x)_{\min} = h(1) = e - 2$,

所以实数 a 的取值范围是 $(-\infty, e - 2]$ (12分)

21. 命题意图 本题考查双曲线的基本性质, 以及双曲线与直线的位置关系.

解析 (I) 由题意得 E 的渐近线方程为 $y = \pm \frac{b}{a}x$, 所以 $\frac{b}{a} = \frac{1}{2}, a = 2b$, (2分)

又因为 $|F_1F_2| = 2\sqrt{a^2 + b^2} = 2\sqrt{5b^2} = 2\sqrt{5}$, 所以 $b = 1, a = 2$, (3分)

故 E 的方程为 $\frac{x^2}{4} - y^2 = 1$ (4分)

(II) 显然 l_1, l_2 的斜率都存在且不为 0, 设直线 $l_1: y = k(x - \sqrt{5}) (k \neq 0), l_2: y = -\frac{1}{k}(x - \sqrt{5})$,

因为 l_1, l_2 均与 E 的右支有两个交点, 所以 $|k| > \frac{1}{2}, \left| -\frac{1}{k} \right| > \frac{1}{2}$, 所以 $\frac{1}{4} < k^2 < 4$ (5分)

将 l_1 的方程与 $\frac{x^2}{4} - y^2 = 1$ 联立, 可得 $(1 - 4k^2)x^2 + 8\sqrt{5}k^2x - 20k^2 - 4 = 0$,

设 $A(x_1, y_1), C(x_2, y_2)$, 则 $x_1 + x_2 = \frac{-8\sqrt{5}k^2}{1 - 4k^2}, x_1x_2 = \frac{-20k^2 - 4}{1 - 4k^2}$, (6分)

所以 $|AC| = \sqrt{(x_1 - x_2)^2 + (y_1 - y_2)^2} = \sqrt{1 + k^2} |x_1 - x_2| = \sqrt{1 + k^2} \sqrt{(x_1 + x_2)^2 - 4x_1x_2}$
 $= \sqrt{1 + k^2} \sqrt{\left(\frac{-8\sqrt{5}k^2}{1 - 4k^2}\right)^2 - 4 \times \frac{-20k^2 - 4}{1 - 4k^2}}$
 $= \sqrt{1 + k^2} \cdot \frac{4\sqrt{1 + k^2}}{|1 - 4k^2|}$
 $= \frac{4(1 + k^2)}{4k^2 - 1}$, (7分)

用 $-\frac{1}{k}$ 替换 k 可得 $|BD| = \frac{4(k^2 + 1)}{4 - k^2}$, (8分)

所以 $S_{ABCD} = \frac{1}{2}|AC| \cdot |BD| = \frac{1}{2} \cdot \frac{4(1 + k^2)}{4k^2 - 1} \cdot \frac{4(k^2 + 1)}{4 - k^2} = 8 \cdot \frac{(k^2 + 1)^2}{(4k^2 - 1)(4 - k^2)}$ (9分)

令 $t = k^2 + 1$, 所以 $k^2 = t - 1, t \in \left(\frac{5}{4}, 5\right)$,

则 $S_{ABCD} = 8 \cdot \frac{t^2}{-4t^2 + 25t - 25} = 8 \cdot \frac{1}{-4 + \frac{25}{t} - \frac{25}{t^2}} = \frac{8}{-25\left(\frac{1}{t} - \frac{1}{2}\right)^2 + \frac{9}{4}} \geq \frac{32}{9}$, (11分)

当 $\frac{1}{t} = \frac{1}{2}$, 即 $k = \pm 1$ 时, 等号成立,

进入北京高考在线网站: <http://www.gaokzx.com/> 获取更多高考资讯及各类测试试题答案!

故四边形 $ABCD$ 面积的最小值为 $\frac{32}{9}$. (12分)

22. 命题意图 本题考查参数方程与普通方程的互化以及直线与椭圆的位置关系.

解析 (I) 将 C 的参数方程化为普通方程: $\frac{x^2}{3} + y^2 = 1$,

即 C 是一个椭圆, C 上纵坐标最大的点为其上顶点 $(0, 1)$, (2分)

因为 l 经过点 $(0, 1)$ 和 $M(1, 0)$, 所以 l 的斜率为 -1 , 即 $\alpha = \frac{3\pi}{4}$, (3分)

故其参数方程可写为 $\begin{cases} x = 1 + t \cos \frac{3\pi}{4}, \\ y = t \sin \frac{3\pi}{4} \end{cases}$ (t 为参数), 即 $\begin{cases} x = 1 - \frac{\sqrt{2}}{2}t, \\ y = \frac{\sqrt{2}}{2}t \end{cases}$ (t 为参数). (4分)

注: 答案不唯一, 其他合理答案例如 $\begin{cases} x = -\frac{\sqrt{2}}{2}t, \\ y = 1 + \frac{\sqrt{2}}{2}t \end{cases}$ (t 为参数) 或 $\begin{cases} x = 1 - t, \\ y = t \end{cases}$ (t 为参数).

(II) 直线 l 的参数方程为 $\begin{cases} x = 1 + t \cos \alpha, \\ y = t \sin \alpha \end{cases}$ (t 为参数),

将其代入 $\frac{x^2}{3} + y^2 = 1$ 中整理可得 $(3 - 2\cos^2 \alpha)t^2 + 2t \cos \alpha - 2 = 0$, (6分)

设 A, B 在 l 上对应的参数分别为 t_1, t_2 , 则 $t_1 + t_2 = \frac{2\cos \alpha}{2\cos^2 \alpha - 3}$, 且 t_1, t_2 符号相反, (7分)

故 $||MA| - |MB|| = |t_1 + t_2| = \left| \frac{2\cos \alpha}{2\cos^2 \alpha - 3} \right| = \frac{2}{5}$, (8分)

解得 $\cos \alpha = \pm \frac{1}{2}$. (10分)

23. 命题意图 本题考查绝对值不等式的解法以及基本不等式.

解析 (I) 由 $f(x) < x$ 得 $|x - 1| + |x - 2| < x$,

即 $\begin{cases} x < 1, \\ 3 - 2x < x, \end{cases}$ 或 $\begin{cases} 1 \leq x \leq 2, \\ 1 < x, \end{cases}$ 或 $\begin{cases} x > 2, \\ 2x - 3 < x, \end{cases}$

分别解得 $x \in \emptyset$ 或 $1 < x \leq 2$ 或 $2 < x < 3$, (3分)

综上可得 不等式 $f(x) < x$ 的解集为 $(1, 3)$. (5分)

(II) 由题意知 $f(x) = \begin{cases} 3 - 2x, & x < 1, \\ 1, & 1 \leq x \leq 2, \\ 2x - 3, & x > 2, \end{cases}$ 所以 $f(x)$ 的值域为 $[1, +\infty)$. (6分)

因为 a, b 是正实数, 所以 $a + 1 \geq 2\sqrt{a}, b + 1 \geq 2\sqrt{b}$,

所以 $a + b + 2 \geq 2\sqrt{a} + 2\sqrt{b}$. (8分)

所以 $a + b \geq 2\sqrt{a} + 2\sqrt{b} - 2$, 即 $\frac{2\sqrt{a} + 2\sqrt{b} - 2}{a + b} \leq 1$, (9分)

因此对任意 $x \in \mathbf{R}, f(x) \geq \frac{2\sqrt{a} + 2\sqrt{b} - 2}{a + b}$ 恒成立, 即该不等式解集为 \mathbf{R} . (10分)